

4.SINIF

İLKOKULEVİM

KAZANIM DEĞERLENDİRME SINAVI



TÜRKÇE TESTİ


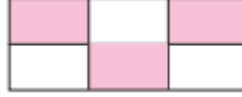
Bir gün subaşının eşeği kaybolur. Herkes eşeği aramaya çıkar. Subaşının olduğu için Hoca içinden gelmese de zoraki olarak eşeği arayanların arasına katılır. Ararken de durmadan türküler söylemektedir. Çevredeki insanlar, "A Hoca," derler, "Eşek türküyle mi aranır?" Hoca dobra dobra söyler her şeyi: "Canım bunda şaşılacak ne var? El, elin eşeğini türkü söyleyerek arar.


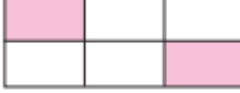
1- Nasrettin Hoca'nın bu fıkrada anlatmak istediği aşağıdakilerden hangisidir?

- A. Başka birinin derdine çare bulacak olan kişi, eğlencesinden geri kalmayarak bu işi yapar.
- B. İnsan; ancak yakınlarıyla önemli işlerin üstesinden gelir.
- C. Küçük ve önemsiz şeyler birikerek büyük şeyleri meydana getirir.
- D. Korumamız altına bırakılan şeylere el uzatmamalı ve kötülük etmemeliyiz.

kahve	kalın	sert
gülmek	kırmızı	çay

2- Yukarıdaki kutucuklardan varlıkların özelliklerini bildirenleri pembe renge boyayacak olursak kutucukların son biçimi nasıl olur?

- A. 
- C. 

- B. 
- D. 



Oyun oynarken kurallara uymalıyız.



Beşiktaş şampiyon olunca herkes sevindi.



Babam da en az annem kadar güzel yemek yapar.



Çocuklar resim yapma çalışmalarını severler.

3- Yukarıdaki öğrencilerden hangisinin konuşmasında önem belirten ifade yer almaktadır?



I. Benim kedimin boyu tam dört metredir.

II. Bizim sınıftaki Kaan doğduğunda yürüyebiliyormuş.

III. Kim bu topu duvarın öbür tarafına atabilir.

4- Yukarıdaki ifadelerden hangisi ya da hangilerinde abartılı ifade yer almaktadır?

A. Yalnız I

B. Yalnız II

C. I ve II

D. I, II ve III



Doğruluğu herkesçe kabul edilen, ayrıca bilimsel olarak da kanıtlanabilir yargılara, nesnel yargı denir.

5- Hangi öğrencinin ifadesi öğretmenin söylediği tanıma örnek olur?



A. En sevdiği tatlı dondurmadır.



B. Bu ligin en iyi futbol oynayan takımı Beşiktaş.



C. Alfabemizde yirmi dokuz harf vardır.



D. Okuduğum kitap bir harikaydı.

6- Aşağıdaki cümlelerin hangisinde cansız bir varlık betimlenmiştir?

A. Yeşil ve yumuşak çimenlerin üzerinde oturmuş, gözlerinden birbiri ardı sıra yuvarlanan gözyaşları arasında bana bakıyor.

B. Geniş pençeleri, yırtıcı gagasıyla çevresindekilere korku salıyordu.

C. Hiç gülmeyen asık suratı ve sert bakışı ile tüm çocukları korkutuyor.

D. İnce turkuaz taşlarla yapılmış, gümüş bağlarla bağlanmış kolye çok güzel duruyordu.

★ Sonuç olarak

■ Özet olarak

▲ Farklı olarak

● Bunun sonucunda

7- Yukarıdakilerden hangisi özet ve sonuç bildiren ifadelerden biri değildir?

A. ★

B. ■

C. ▲

D. ●

Elimden gelen her şeyi yaptım; ama başarılı olamadım.

8- Aşağıdaki cümlelerden hangisi anlamca bu cümle ile özdeştir?

A. Elimden gelen her şeyi yapsaydım başarılı olurdu.

B. Yapabileceğim her şeyi yaptım; fakat başaramadım.

C. Yapabileceğim her şeyi yaptığım için başardım.

D. Elinizden gelen her şeyi yapın ya da başarısız olun.

9- Aşağıdaki cümlelerin hangisinde hayal ürünü ifade vardır?

A. Dünya, Güneş etrafında dolanma hareketi yapar.

B. Dünya, Güneş'e seslendi.

C. Güneş, Dünyamızı aydınlatır.

D. Ünlü iş adamı dünya turuna çıkacak



Soğuk havadan dolayı üşüttüm.



Arkadaşlarımla karda çok güzel oyunlar oynadık.



Kar yağdığı için yollar kapandı.



Aşırı kar yağışından arabalar yolda kaldı.

10- Yukarıdakilerden hangi öğrencinin söylediği bir sebep - sonuç cümlesi değildir?



A.



B.

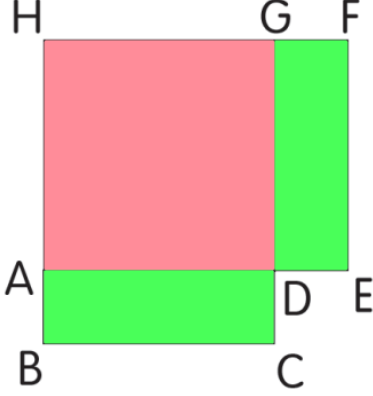


C.



D.

MATEMATİK TESTİ



Aşağıdaki şekil ADGH karesi ile kenar uzunlukları birbirine eşit ABCD ve DEFG dikdörtgenlerinden oluşmuştur.

1- Karenin bir kenar uzunluğu 8 cm ve dikdörtgenin kısa kenar uzunluğu 3 cm ise tüm şeklin çevresi kaç santimetredir?

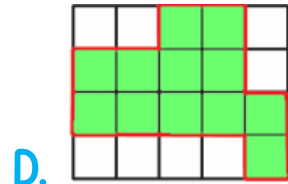
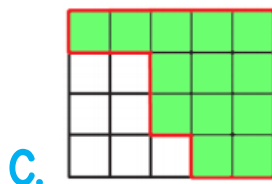
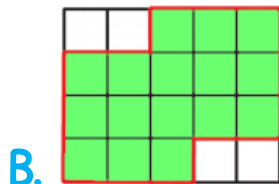
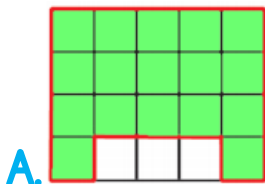
- A. 48 B. 46 C. 44 D. 38

Bir dikdörtgenin uzun kenarı 72 cm, kısa kenarı, uzun kenarının $\frac{2}{3}$ 'üne eşittir.

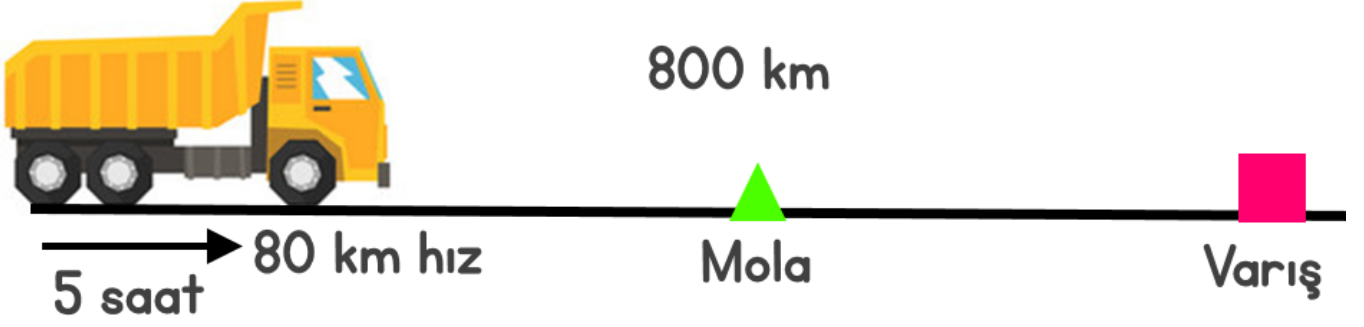
2- Dikdörtgenin çevresi, eşkenar üçgenin çevresinin uzunluğuna eşit olduğuna göre eşkenar üçgenin bir kenarının uzunluğu kaç santimetredir?

- A. 70 B. 74 C. 78 D. 80

3- Birbirine eş kareler üzerinde oluşturulan düzlemsel şekillerden hangisinin çevre uzunluğu diğerlerinden farklıdır?

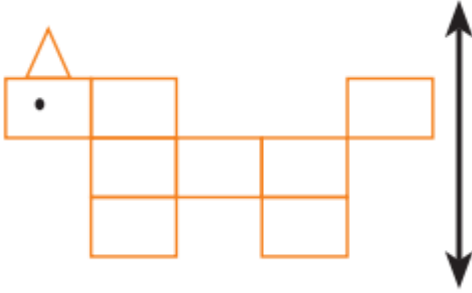


Aşağıdaki tır, 800 kilometrelik yolda saatte 80 km hızla 5 saat yol gittikten sonra mola veriyor.

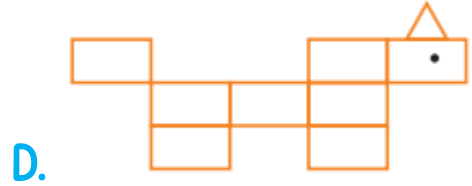
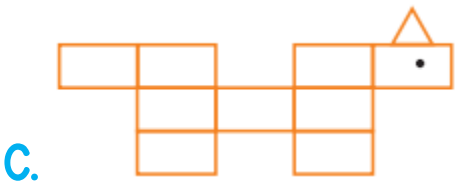
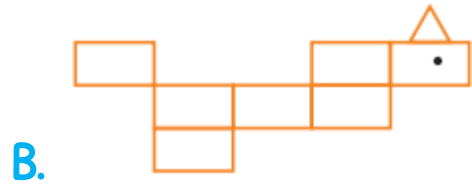
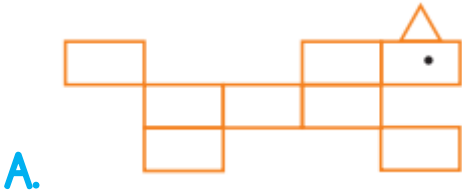


4- Tır, yolun kalan kısmını 4 saatte gitmek isterse saatteki hızını kaç kilometre artırmalıdır?

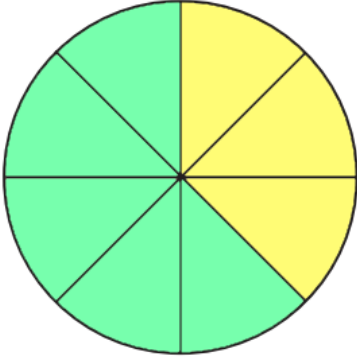
- A. 10 B. 20 C. 30 D. 40



5- Yandaki şeklin doğruya göre simetrisi hangi seçenekte doğru verilmiştir?



Birbirine eş dilimlerden oluşmuş standart olmayan açıölçerin dilimleri aşağıdaki gibi boyanıyor.



6- Yeşil dilimlerin oluşturduğu açı, sarı dilimlerin oluşturduğu açıdan kaç derece fazladır?

A. 70

B. 80

C. 90

D. 100

7- Aşağıdaki yapıların hangisinin eş küp sayısı diğerlerinden daha fazladır?



A.



B.

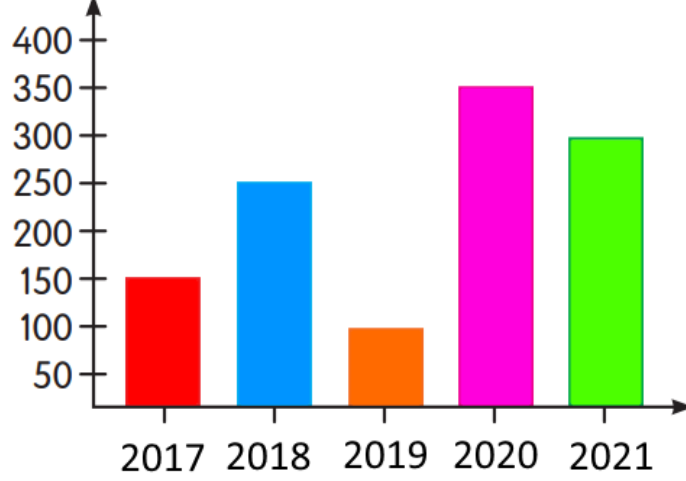


C.



D.

Aşağıdaki grafikte bir otomobil galerisinin yıllara göre sattığı otomobil sayısı verilmiştir.



8 ve 9. soruları grafiğe göre yanıtlayalım.

8- Grafiğe göre aşağıdaki ifadelerden hangisi doğrudur?

- A. En fazla satış 2021 yılında olmuştur.
- B. 2017 ve 2018 yıllarında eşit sayıda satış yapılmıştır.
- C. 2020 yılında 2021 yılından 50 adet fazla satış yapılmıştır.
- D. 2020 ve 2021 yıllarında toplam 550 adet satış yapılmıştır.

9- En fazla ve en az satış yapılan yıllar arasında kaç adet fark vardır?

- A. 350
- B. 250
- C. 150
- D. 100



Bidonun eş bölümlerinden boyalı kısmı kadarı su ile doludur. 18 litre su daha eklenince bidonun $\frac{6}{7}$ 'si doluyor.

10- Buna göre bidon kaç litre su almaktadır?

- A. 70
- B. 63
- C. 56
- D. 49

FEN BİLİMLERİ TESTİ



1- Yanda verilen atık maddeler hangi kutuya atılmalıdır?

- A. **Cam** 
- B. **Plastik** 
- C. **Metal** 
- D. **Kağıt** 



Bu ay elektrik faturamız az gelmiş.

2- Mertlere elektrik faturasının az gelme sebebi aşağıdakilerden hangisi olamaz?

- A. Tasarruflu ampul kullanmaya başlamaları
- B. Elektikli aletleri kullanmadıklarında fişini çekmeleri
- C. A enerji beyaz eşya almaları
- D. Buzdolabının kapağını uzun süre açık bırakmaları

Kaynaklar sınırlıdır. Bu kaynakları kullanırken

3- Yukarıdaki cümlede noktalı yere hangisi gelmelidir?

- A. tasarruflu davranmalıyız.
- B. istediğimiz gibi kullanmalıyız.
- C. boşa kullanmalıyız.
- D. sınırsız kullanmalıyız.



....., sesleri kaydetmek ve tekrar dinlemek için kullanılan en eski araçtır.



Uzun süre yüksek sese maruz kalmak sağlığını olumsuz etkiler.



Araçların, kornalarını gereksiz yere kullanmaları neden olur.

4- Yukarıdaki cümlelerde boş bırakılan yerlere gelmesi gereken kavramlar sırasıyla hangi seçenekte doğru olarak verilmiştir?

- A. Gramofon - göz - ışık kirliliğine
- B. Fonograf - kulak - ses kirliliğine
- C. Kaset - kulak - ses kirliliğine
- D. Fonograf - göz - ışık kirliliğine

5- Aşağıdaki örneklerden hangisi ışığın günlük yaşamdaki kullanım alanlarıyla ilgili değildir?

- A. Sürücüler, geceleri yolu görmek için araçlarının farlarını yakarlar.
- B. Sokak lambaları, binaların dış cephelerini aydınlatmak için kullanılır.
- C. Madende çalışan işçiler, baretlerindeki lambalarla önlerini görebilirler.
- D. Hastanelerde, geceleri de ameliyat veya tedavi yapılabilir.



Taşıtların bakımlarını zamanında yaptırmak



Fabrikaları şehir dışında kurmak



Sinema, düğün salonu gibi yerlere ses yalıtımı yaptırmak



Konuştuğumuz cümlelere dikkat etmek

6- Yukarıdaki öğrencilerin söylediklerinden hangisi ses kirliliğine karşı alınacak önlemlerle ilgili değildir?



7- Aşağıdakilerden hangisi ses teknolojisinin yarattığı olumlu sonuçlardan biri değildir?

- A. Polis arabasındaki sirenin, diğer taşıt sürücülerini uyarması
- B. Ambulansın yolda daha rahat ilerlemesini sağlaması
- C. Büyük salonlarda, konuşmacının sesini duyurabilmesi
- D. Radyo ve televizyonun sesini, komşuların da duymalarını sağlanması

8- Aşağıdaki yorumlardan hangisi, uygun aydınlatma için yanlış bir ifadeyi içerir?

- A. Işık, doğrudan gözümüze gelmeli.
- B. Işık ne çok parlak ne de çok zayıf olmalı.
- C. Enerji tasarrufu sağlayacak ampuller kullanılmalı.
- D. Işık doğru yönden gelmeli.



Naylon poşet suyu geçirmez.



Sünger, suyu çeker.



Tahta parçası denizde batar.



Çivi, mıktanıs tarafından çekilir.

9- Yukarıdaki ifadelerden hangi öğrencininki yanlıştır?



10- 35° C'lik suyun içersine aşağıdakilerden hangisini atarsak suyun sıcaklığı azalır?

A. 70 °C'lik demir çubuk

B. Buz

C. 40 °C'lik süt





D. 35 °C'lik su

SOSYAL BİLGİLER

1- 23 Nisan 1920'de TBMM'nin açılması ile aşağıdakilerden hangisi gerçekleşmemiştir?

- A. Egemenlik halka geçmiştir.
- B. Yeni Türk Devleti'nin temelleri atılmıştır.
- C. Bağımsızlığın hedeflendiği gösterilmiştir.
- D. Cumhuriyet ilan edilmiştir.

2- Aşağıdaki çocuklardan hangisi arkadaşlarına karşı sorumluluğunu anlatmıştır?

- A.  Odamı dağınık bırakmam.
- B.  Sınıfta söz almadan konuşmam.
- C.  Ödevlerimi zamanında yaparım.
- D.  Oyun oynarken eğlenmeye çalışırım.

3- Demokratik bir aile ortamında aşağıda verilenlerden hangisi yoktur?

- A. Aile bireyleri arasında saygı, sevgi
- B. Sınırsız özgürlük
- C. İş bölümü
- D. Dayanışma

Mondros Ateşkes Antlaşması ile topraklarımız işgal edilmiş, ülkenin yönetimi İtilaf Devletlerine geçmişti. Bu ortamda Türk halkı, Mustafa Kemal'in önderliğinde harekete geçerek işgallere karşı gelmiştir.

4- Buna göre Türk halkının işgallere karşı gelmekle aşağıdakilerden hangisini benimsediği söylenebilir?

- A. Özgürlük ve bağımsızlığı
- B. Savaşa karşı olmayı
- C. Başka bir devletin egemenliğine girmeyi
- D. İnsan haklarını

Doğal kaynaklar sınırlı miktardadır. Bunun için;

- I. çevremizi kirletmemeliyiz.
- II. israf etmemeliyiz.
- III. ormanları korumalıyız.
- IV. su içmemeliyiz.

5- Doğal kaynakların korunması ile ilgili yukarıda verilen ifadelerden hangisi yanlıştır?

- A. I
- B. II
- C. III
- D. IV

6- Aldığımız malın hatalı ve kusurlu olduğunu satıcı firma kabul etmezse aşağıdakilerden hangisini yapmalıyız?

- A. Tüketici Hakları Koruma Derneğine başvurmalıyız.
- B. Hatalı malı mağazaya bırakıp gitmeliyiz.
- C. Malı satın aldığımız kişiye kızmalıyız.
- D. Gazeteye ilan vermeliyiz.



Yaşadığım ilçede geniş çayır ve otlaklar var. Bu nedenle yaygın olarak yapılır.

7- Demet'in cümlesindeki noktalı yere aşağıdakilerden hangisi yazılabilir?

- A. ormancılık
- C. madencilik

- B. hayvancılık
- D. taşımacılık

8- Aşağıda verilen bilgilerden hangisi yanlıştır?

- A. Günlük hayatta hemen hemen her alanda teknoloji kullanılmaktadır.
- B. Bilgisayar başında çok zaman geçirmek çocukların gelişimine olumlu katkıda bulunur.
- C. Herkes sağlıklı ve düzenli bir çevrede yaşama hakkına sahiptir.
- D. Teknolojik ürünler, insanların zeka, bilgi ve tecrübeleriyle üretilmektedir.

9- Aşağıdakilerden hangisi mucitler için söylenemez?

- A. Sabırlı insanlardır.
- B. Hayal güçleri gelişmiştir.
- C. Kendi çıkarları için çalışırlar.
- D. Buluşlarıyla yaşamı kolaylaştırırlar.

Mondros Ateşkes Anlaşması'ndan sonra Anadolu'ya geçen Mustafa Kemal'in yayımladığı Amasya Genelgesi'nde "Vatanın bütünlüğü ve milletin bağımsızlığı tehlikededir." ifadesi yer almıştır.

10- Bu madde ile aşağıdakilerden hangisi vurgulanmak istenmiştir?

- A. TBMM'nin açılması gerektiği
- B. Kongrelerin nasıl yapılacağı
- C. İstanbul Hükümeti'nin tutumu
- D. Ülkenin içinde bulunduğu durum

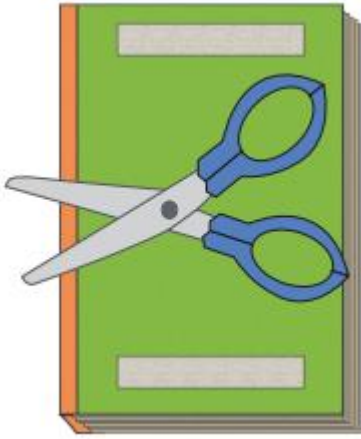
İNGİLİZCE TESTİ



"It is ----- and -----today."

1- Görsele göre cümlede boş bırakılan yerlere uygun kelimeler hangi seçenekte verilmiştir?

- A. windy / sunny
- B. warm / rainy
- C. windy / rainy
- D. sunny / snowy



2- Görsele göre hangi cümle doğrudur?

- A. The scissors are on the book.
- B. The scissors are under the book.
- C. The scissors are behind the book.
- D. The scissors are near the book

Ali : - - - - do you go to school?

Sinem : I go to school at eight o'clock.

3- Yukarıdaki boşluğa aşağıdakilerden hangisi gelmelidir?

A. What time

B. Whose

C. How

D. Where

I love playing chess, - - - - I don't like playing with marbles.

4- Boşluğa aşağıdakilerden hangisi gelmelidir?

A. yes

B. but

C. no

D. Like



We like - - - - .

5- Boşluğa aşağıdakilerden hangisi gelmelidir?

A. reading a book

B. playing volleyball

C. playing with marbles

D. Swimming