

4.SINIF

ilkokul evim



SCAN ME



4.SINIF

HAZIRBULUNUŞLUK  
SINAVI SORULARI

[www.ilkokulevim.com](http://www.ilkokulevim.com)

ÜCRETSİZ  
ETKİNLİK  
SİTESİ

Adı: \_\_\_\_\_

Soyadı: \_\_\_\_\_



## TÜRKÇE TESTİ

A K P L

.....

Ü K Ö T

.....

K İ A Z

.....

1 Yukarıda karışık olarak verilen harfler kullanılarak oluşturulacak sözcüklerden hangisinin eş anlamlısı seçeneklerde **verilmemiştir**?

- A) Yürek B) Uyarı C) İyi

Şemsi Efendi İlkokulunda okuduğu yıllarda Mustafa, beden eğitimi dersini çok severmiş. Bir gün okul bahçesinde koşu yarışması düzenlenmiş. Yarışma iki tur üzerinden yapılacaktı. İlk turu Mustafa önde tamamlamış. İkinci tur başlamış. O sırada yolun kenarında bir kuş yavrusu görmüş. Kuşa zarar gelmemesi için kuşu eline alarak yavaşça ilerlemeye başlamış. Bu sırada arkadan gelen öğrenci Mustafa'yı geçerek birinci olmuş. Birinci olan öğrenci Mustafa'nın neden birinci olamadığını öğretmenine anlatmış. Bunu duyan öğretmeni Mustafa'ya birinciliği vermiş.

2 Bu metinle ilgili aşağıdaki yorumlardan hangisi **yanlıştır**?

- A) Metnin başlığı "Mustafa'nın Merhameti" olabilir.  
B) Metnin ana duygusu "hayvan sevgisi" dir.  
C) Metindeki olayın geçtiği yer "okul spor salonu" dur.



Kitap isimleri, film adları, başlıklar büyük harfle başlar.



Birden fazla basamağı olan sayıların okunuşları ayrı yazılır.



Ölçü birimlerinin kısaltmalarında nokta kullanılmaz.

3 Aşağıdaki cümlelerin hangisinde öğrencilerin verdiği bilgilerle **uyuşmayan** bir durum söz konusudur?

- A) Marketten 3 kg portakal, 2 kg elma aldık.  
B) Dedemin seksenyedi yaşında olduğunu söylüyorlar.  
C) Kral Şakir hikâyesini okurken çok eğleniyorum.

**Okan:** Her gün düzenli olarak antrenman yaptığım için maç yaparken hiç zorluk çekmiyorum.

**Atilla:** Bu yaz köye gideceğiz, orada yaşadıklarımı günlüğüme yazacağım.

**Buse:** Arkadaşım Yusuf'a ödevlerini yaparken yardım ettim ama bana teşekkür bile etmedi.

4 Bu öğrencilerin yazdığı cümlelerle ilgili aşağıdakilerden hangisi yanlıştır?

- A) Okan'ın yazdığı cümle sebep-sonuç cümlesidir.  
B) Atilla'nın yazdığı cümlede eş sesli kelime kullanılmıştır.  
C) Buse'nin yazdığı cümlede yazım yanlışı yoktur.



1. ....



2. ....



3. ....

İsimleri; tekil isim, çoğul isim ve topluluk isimleri olarak da sınıflandırabiliriz.

5 Buna göre yukarıdaki görselleri incelediğimizde numaralı yerlere hangi seçenekte verilenlerin yazılması doğru olur?

	1	2	3
A)	topluluk ismi	tekil isim	çoğul isim
B)	çoğul isim	tekil isim	topluluk ismi
C)	tekil isim	çoğul isim	topluluk ismi

İsimle  
Bunc

Konu: Anne  
Ana duygu: Sevgi

Konu: Vatan  
Ana duygu: Kahramanlık

Konu: Teknoloji  
Ana duygu: Bağımlılık

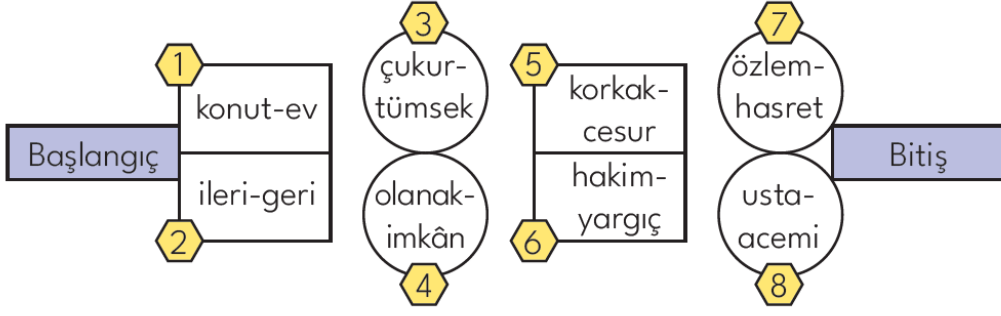
Dijital  
Hastalık

En  
Kutsal Bağ

Yurdun  
Cesur Kalpleri

6 Özellikleri verilen şiirler ile uygun başlıklar eşleştirildiğinde doğru eşleştirme aşağıdakilerden hangisi olur?

- A)    
   
 
- B)    
   
 
- C)    
   
 



Görseldeki seksek oyununu oynayan Güneş, eş anlamlı sözcüklerin yer aldığı bölümleri geçerek oyunu doğru bir şekilde tamamlayacaktır.

7

**Buna göre Güneş'in bitişe ulaştığında geçmiş olduğu bölümlerdeki numaraların toplamı kaçtır?**

A) 17

B) 18

C) 19

Mustafa, Kaan ve Berk aynı mahalleden arkadaşlardır. Bu çocuklar futbol, basketbol ve voleybol kurslarına yazılmışlardır.

Çocukların isimlerindeki harflere göre;

- İsmi ince ünlü harf bulunan basketbol kursuna,
- İsmi en çok kalın ünlü harf bulunan futbol kursuna yazılmıştır.

8

**Bu bilgilere göre aşağıdakilerden hangisi yanlıştır?**

- A) Berk, basketbol kursuna yazılmıştır.
- B) Mustafa, futbol kursuna yazılmıştır.
- C) Kaan, basketbol kursuna yazılmıştır.



Amcam kazadan sonra operasyon geçirdi.



İstanbul'daki akrabalarımıza gideceğiz.




23 Nisan şenliğinde aktivitelere doyduk.

9

**Yukarıdaki öğrencilerden hangileri cümlesinde dilimize yabancı dillerden geçen sözcük kullanmışlardır?**

A)

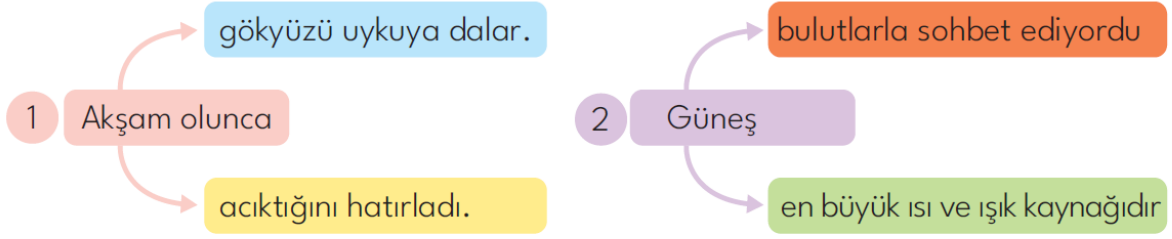


B)



C)





Yukarıdaki numaralandırılmış sözcükler kutularda yazan ifadeler ile tamamladığında hayal ürünü içeren cümle oluşturulacaktır.

10

Buna göre numaralı ifadeler hangi renkteki kutularda yazan söz grubuyla tamamlanırsa hayal ürünü içeren cümle oluşturulur?

- |    | 1                        | 2                        |
|----|--------------------------|--------------------------|
| A) | <input type="checkbox"/> | <input type="checkbox"/> |
| B) | <input type="checkbox"/> | <input type="checkbox"/> |
| C) | <input type="checkbox"/> | <input type="checkbox"/> |

## MATEMATİK TESTİ

Tınaz İlkokulundaki öğrencilerin tuttıkları futbol takımları ile ilgili bilgiler aşağıdaki tabloda verilmiştir.

Takımlar	Galatasaray	Beşiktaş	Trabzonspor	Fenerbahçe
Taraftar sayısı	158	?	114	146

Takımlar, taraftar sayısı bakımından büyükten küçüğe doğru sıralandığında, Beşiktaş futbol takımı baştan üçüncü sırada yer almaktadır.

1 Buna göre Beşiktaş futbol takımının taraftar sayısı aşağıdakilerden hangisi **olamaz**?

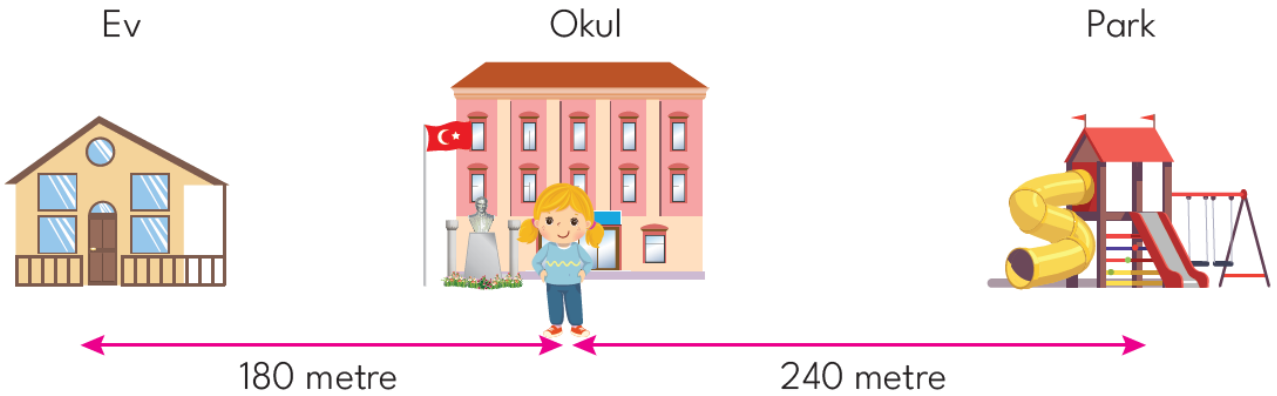
- A) 126 B) 138 C) 152

Yanda verilen kartların ön yüzlerindeki sayıların basamaklarındaki rakamlar toplanarak arka yüzlerine yazılacaktır.

2 Buna göre kartların arka yüzlerindeki rakamlar ile aşağıdaki üç basamaklı sayılardan hangisi **oluşturamaz**?

26	→	<input type="text"/>
34	→	<input type="text"/>
50	→	<input type="text"/>
81	→	<input type="text"/>
Ön yüz		Arka yüz

- A) 576 B) 758 C) 975



Funda okuldan çıktıktan sonra yürüyerek eve gidiyor. Okul eşyalarını eve bıraktıktan sonra arkadaşlarıyla oynamak için parka gidiyor.

3 Buna göre Funda, okuldan çıktıktan sonra parka gidene kadar kaç metre yol yürümüştür?

- A) 420 B) 600 C) 660



1

$3 \times 1$

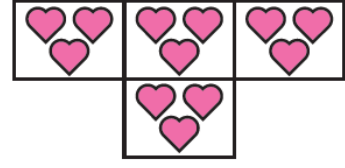
a



2

$4 \times 3$

b



3

$6 \times 2$

c

4

Yukarıdaki numaralı görsellerdeki nesne sayıları, harflerle belirtilen çarpma işlemleri ile eşleştirildiğinde hangi seçenek doğru olur?

A)  $1c - 2b - 3a$

B)  $1c - 2a - 3b$

C)  $1b - 2a - 3c$

Yandaki terzi, tezgâhındaki kumaşı dört kesim yaparak eş parçalara ayırıyor.

5

Bu terzi her bir parça kumaşın uzunluğunu 80 cm olarak ölçtüğüne göre, başlangıçtaki kumaşın uzunluğu kaç santimetredir?

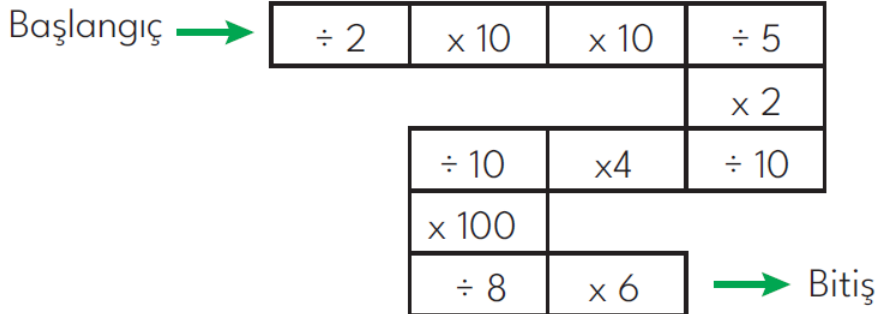
A) 320

B) 400

C) 480



Aşağıdaki şemada bazı matematiksel işlemlerin adımları verilmiştir.



Begüm, şemada “10” doğal sayısı ile başlangıç bölümünden işlemlere başlayacaktır.

6

Buna göre Begüm, bitişe ulaştığında hangi sayı bulur?

A) 600

B) 60

C) 700

7

Yandaki tabloda verilen örüntüde boş bırakılan renkli kutulara yazılması gereken sayılarla ilgili aşağıdaki ifadelerden hangisi doğrudur?

- A) Mavi kutu içine yazılacak sayının  $\frac{1}{4}$ 'ü 8'dir.  
 B) Yeşil kutunun içine yazılacak sayının  $\frac{1}{8}$ 'i tek bir sayıdır.  
 C) Mavi kutu ile yeşil kutu içine yazılacak sayıların toplamının çeyreği 28'dir.

4	8	12	...
20	24	28	32
36	...	44	48
52	56	60	64



1

altıgen

A



2

üçgen

B



3

beşgen

C



4

dörtgen

D



5

sekizgen

E


8

Yukarıda numaralandırılmış nesnelere harflerle belirtilen geometrik şekiller ile eşleştirdiğimizde doğru eşleştirme nasıl olur?

- A) 2A-4B-1C-3D-5E      B) 3A-4B-2C-1D-5E      C) 3A-4B-5C-1D-2E




Mert ve Kemal birbirlerinden farklı saatlerde Ankara'dan Balıkesir'e doğru yola çıkmışlardır.



Mert

Ankara'dan otobüse saat 22.00'de binip Balıkesir'e saat 06.30'da vardım.



Kemal

Yolculuğum Mert'ten bir buçuk saat daha kısa sürdü. Balıkesir'e vardığımda saat 20.30'du.

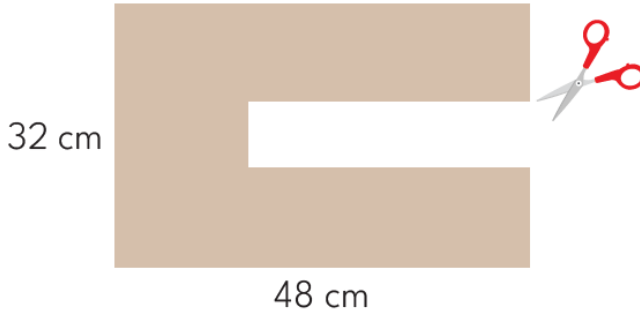
9

**Buna göre Kemal, Ankara'dan saat kaçta yola çıkmıştır?**

A) 13.00

B) 13.15

C) 13.30



Şekil - 1



Şekil - 2

Şekil-1'deki dikdörtgen şeklindeki kartondan görseldeki gibi makas kullanarak şekil-2'deki dikdörtgen parça kesilerek çıkarılmıştır.

10

**Buna göre birinci şeklin çevre uzunluğu kaç santimetredir?**

A) 184

B) 204

C) 224

## FEN BİLİMLERİ TESTİ



Dünya'mız katmanlardan oluşur. İnsanlar kara katmanında yaşarlar.

Okyanuslar, denizler ve buzullar su katmanında bulunur.

Kara katmanının kalınlığı her yerde aynıdır.

**1** Yukarıdaki ifadelerden doğru olanların yanındaki kutuya "D", yanlış olanların yanındaki kutuya "Y" yazıldığında kutuların görünümü hangi seçenekteki gibi olur?

- A)  D  D  D  
 D  Y  D  
 D  D  Y

**2** Aşağıdaki bilgilerden hangisi yanlıştır?

- A) Canlı varlıklar, dışarıdan bir etki olmadan hareket edebilirler.  
B) Havada uçan yaprakları hareket ettiren etki rüzgârdır.  
C) Tüm varlıklar bir kuvvet uygulanmadan hareket edebilir.

**3** Melek aşağıdakilerden hangisini yaparsa Ersin oyuncak el arabasını odasına daha kolay götürür?

- A) Kendi oyuncaklarını da oyuncak el arabasına yerleştirirse  
B) Oyuncak el arabasına Ersin'in uyguladığı kuvvetin zıt yönünde kuvvet uygularsa  
C) Oyuncak el arabasına Ersin ile aynı yönde kuvvet uygularsa

Mermer

Pürüzsüz

Yastık

Esnek

Yay

Yumuşak

**4** Yukarıdaki maddeler ile özellikleri doğru eşleştirildiğinde görünüm nasıl olur?

- A)        
B)        
C)

- I. Belirli bir şekli yoktur.
- II. Buldukları kabın şeklini alır.
- III. Akışkandır.
- IV. Sıkıştırılmaz.

5 Yukarıda verilen özellikler maddenin hangi hâline aittir?

- A) Gaz      B) Sıvı      C) Katı



- ☀ I ve II yapay ışık kaynaklarıdır.
- ♥ Doğal ışık kaynağı olan görsel vardır.
- ★ I numaralı görsel en büyük doğal ışık kaynağıdır.

6 Numaralandırılmış görseller incelendiğinde semboller ile verilen ifadelerden hangileri doğrudur?

- A) ★ ☀      B) ★ ♥      C) ☀ ♥

Gök gürültüsü	Araba kornası
Telefon sesi	Rüzgâr sesi
Kuş sesi	Siren sesi

Tablodaki ses kaynaklarından doğal ses kaynaklarının yazılı olduğu bölümler çıkarılacaktır.

7 Buna göre tablonun son görünümü nasıl olur?

- A)      B)      C)

Canlı varlıklar yaşamlarını sürdürülebilmek için solunum yapar.


Bütün canlılar hareket edebilir.

Cansız varlıklar, büyüyüp gelişebilir.

Yukarıdaki ifadelerden doğru olanlara "D", yanlış olanlara "Y" yazılacaktır.

8 Buna göre aşağıdaki sıralamalardan hangisi doğrudur?

- A) (D) (Y) (Y)      B) (Y) (D) (Y)      C) (D) (D) (Y)



9 Numaralandırılmış görsellerden hangisi yapay çevredir?

- A) I      B) II      C) III



10 Aşağıdaki ifadelerden hangisi yukarıdaki görsele göre yanlıştır?

- A) Atık pillerin içindeki zehirli maddeler çevre ve insan sağlığı için tehlikelidir.
- B) Toprağa ve suya atılan piller hastalıklara ve ölümlere sebep olur.
- C) Kullanılmış pilleri çöp kutularına atmalıyız.

## HAYAT BİLGİSİ TESTİ



Yukarıda 3-A sınıfının krokisi verilmiştir.

**1** Krokiye göre aşağıdakilerden hangisi yanlıştır?

- A) Burhan, pencere kenarında en arka sırada oturmuştur.
- B) Güneş, kapı tarafında ikinci sırada oturmuştur.
- C) Selçuk, öğretmen masasının hemen önünde oturmuştur.

Eymen sıra arkadaşı Emre ile sorun yaşamaktadır. Bu durum Eymen'i rahatsız etmektedir.

**2** Buna göre Eymen bu durumda aşağıdakilerden hangisini yapmalıdır?

- A) Arkadaşına rahatsız olduğu konuları kibar bir dille anlatmalıdır.
- B) Eymen de Emre'yi rahatsız etmelidir.
- C) Emre'yle yaşadığı sorunu öğretmeni-ne anlatmalıdır.

**Ödev :** "Aile büyüklerimizin çocukluk dönemleri ile ilgili üç tane soru yazalım." Soruları dede ve ninelerimize soralım.

**3** Buna göre;

- I. Çocukluk döneminde en çok hangi oyunu oynardınız?
- II. Çocukluğunuzda ne tür kıyafetler giyerdiniz?
- III. Çocukken nasıl bir evde yaşırdınız?

İfadelerinden kaç tanesi öğrencilerin sormuş olduğu sorulardandır?

- A) 1
- B) 2
- C) 3

1. Yatağını toplamak

2. Faturaları ödemek

3. Çamaşırları makineye atmak

4. Ödev yapmak

**4** Kaç numaralı bulutlardaki ifadeler çocukların sorumluluklarıdır?

- A) 1 - 4
- B) 2 - 4
- C) 1 - 3



Param yetmediği için neler alacağıma karar veremiyorum.

Sinem

**5 Sinem'in açıklamasına göre aşağıdakilerden hangisini yapması doğru olur?**

- A) Arkadaşımda gördüğüm kırmızı renkli tokayı almalıyım.
- B) Bitmek üzere olan matematik defterinin yenisini almalıyım.
- C) Bugün dondurma yemediğim için dondurma almalıyım.

Melike Öğretmen öğrencilerine ortak kullanım alanlarından bahsetmiştir. Bunlardan bazıları şunlardır: parklar, apartmanlar, okullar...

**6 Buna göre ortak kullanım alanlarından parklar ile ilgili aşağıdaki ifadelerden hangisi yanlıştır?**

- A) Parkta bulunan oyuncaklara zarar vermemeliyiz.
- B) Yiyecek ve içeceklerimizin çöpünü çöp kutusuna atmamız.
- C) Parkta bulunan oyuncağın üstüne isimlerimizi yazabiliriz.

1

Kaza ya da yaralanma olayı yaşadığımızda panik yapmamalıyız.

2

Okul bahçesinde biri düştüğünde öncelikle müdürden yardım istemeliyiz.

3

İlk yardım uygulaması herkes tarafından yapılabilir.

**7**

**Yukarıdaki numaralı ifadelerden hangileri doğrudur?**

- A) Yalnız 1
- B) 1 ve 2
- C) 2 ve 3



Bisiklet sürerken kask, dizlik ve dirseklilik takmalıyız.



Oyun oynarken sadece kendi güvenliğimizi düşünmeliyiz.



Okulda top oynarken top dışarı çıktığında koşarak almaya giderim.

**8**

**Yukarıdaki öğrencilerden hangisinin ifadesi doğrudur?**

A)



B)



C)



“Vatanını en çok seven görevini en iyi yapandır.”

**Mustafa Kemal Atatürk**

9

**Aşağıdaki ifadelerden hangisi Mustafa Kemal Atatürk’ün sözüne uygun bir davranıştır?**

- A) Arkadaşlarımızla eşyalarımızı paylaşmak
- B) İşlerimizi en iyi şekilde yapmak
- C) Büyüklerimizle konuşurken nezaket ifadelerini kullanmak



10

**Numaralandırılmış görsellerden hangisi insanların çevreye olumsuz etkisini anlatmaktadır?**

- A) 1
- B) 2
- C) 3

## İNGİLİZCE TESTİ

1 Aşağıdaki eşleştirmelerden hangisi yanlıştır?

- A) How are you? Great
- B) Spell your name. C-A-N
- C) Have a nice day. Mine

My uncle's child is my - - - - - .

2 Cümledeki boşluğa hangisi gelmelidir?

- A) cousin
- B) aunt
- C) grandpa

Can a bird fly?

3 Aşağıdakilerden hangisi yukarıdaki sorunun cevabıdır?

- A) That's a bird.
- B) Yes, it can.
- C) No, it isn't.

good

bad

happy

sad

tired

-----


4 Yukarıdaki eşleştirmelerde boş bırakılan yere gelebilecek en uygun kelime hangisidir?

- A) energetic
- B) angry
- C) hungry

5 Aşağıdaki kelimeler anlam bakımından gruplandırıldığında hangisi dışarıda kalır?

- A) cook
- B) happy
- C) swim

How many red circles are there?



6 Verilen görsele göre yukarıdaki sorunun cevabı hangi seçenektir?

- A) two
- B) five
- C) three



7

Görsele göre doğru olan seçenek hangisidir?

- A) There is one circle.
- B) There are two triangles.
- C) There are three rectangles.

8

Aşağıdaki eşleştirmelerden hangisi yanlıştır?

- A) fire station
- B) super market
- C) car center

9

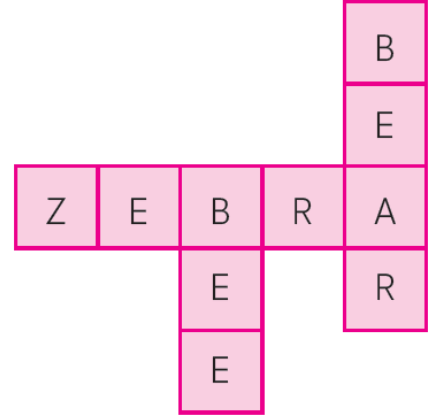
Görsele göre konuşmadaki boşluğa aşağıdakilerden hangisi gelebilir?

How can I go to school?

You can go by - - - .





- A) scooter
- B) yatch
- C) bus



10

Yukarıdaki bulmacada ismi yazılı olmayan hayvan hangisidir?

- A) 
- B) 
- C) 