

ABC



İLKOKULEVİM DENEME SINAVI

ABC

4. SINIF 1. DENEME

Ekim 2022



123

Adı Soyadı:

Numarası:

Sınıf/:Şube:





Yatmadan önce içilen ılık sütün uyumaya yardımcı olduğu bilinir. Ancak İngiltereli uzmanlar, vişne suyunu tüketenlerin kanında melatonin düzeyinde artış olduğunu gözlemledi. Melatoninin uyku düzenleyici bir hormon olduğuna işaret eden araştırmacılar, vişne suyunun ayrıca uyku kalitesini arttırdığını ifade etti.

(1. ve 2. soruyu, yukarıdaki metne göre cevaplayınız.)





1. Yukarıdaki metni okuyan annem, hepimize uyumadan önce vişne suyu içirmek istedi. Annemin bize vişne suyu içirmek istemesinin sebebi ne olabilir?

- A) Bahçelerinde vişne ağacının olması
- B) Meyve suyunun besleyici değerinin ortaya çıktığını duyması
- C) Ülkemizde vişne üretiminin çok olması
- D) Vişne suyunun uyku düzenini düzenleyen hormonu arttırdığını okuması

2. Bu metne başlık bulmak istersek seçeneklerden hangisini seçmeliyiz?

- A) Vişne suyunun faydası
- B) Vişne suyunun yetiştirilmesi
- C) Vişne suyunun üretimi
- D) Vişne suyunun fiyatı

3. "ince" sözcüğü, hangi cümlede mecaz anlamda kullanılmıştır?

- A)  Aldığım kitaplar çok inceymiş.
- B)  Annemin saçları ince tellidir.
- C)  Seyhan ince,uzun boyludur.
- D)  Meliha çok ince düşünceli biridir.

- I. Akıllı düşman, akılsız dosttan hayırlıdır.
- II. Tok, acın halinden anlamaz.
- III. İyi evlat, babayı vezir; kötü evlat, rezil eder.
- IV. İşleyen demir, pas tutmaz.

4. Yukarıdaki atasözlerinin hangisinde, zıt anlamlı sözcükler birlikte kullanılmamıştır?

- A) I
- B) II
- C) III
- D) IV



Ormanlık bir bölgede bulunan bir su birikintisinde yaşamakta olan kurbağacık, hiç arkadaşı olmadığından yakınıyordu. Bu kurbağacık su birikintisinde yüzerek eğlenmeye çalışıyordu. Sudan çıkıp, çimenlerin üstünde zıplayarak geziniyordu. Ama yalnız olduğu için yaptığı hiçbir şeyden zevk almıyordu.

5. Bu parçada, aşağıdakilerden hangisi yoktur?

- A) Yer B) Olay C) Zaman D) Şahıs

6. "Oyuna gelmek" söz grubu aşağıdaki cümlelerin hangisinde, "aldatılmak" anlamında kullanılmıştır?

- A) Ahmet de bahçede oynadığımız oyuna geldi.
B) Yine Neşe'nin oyununa geldim.
C) Öğretmenim, akşam tiyatrodaki oyunumuza geldi.
D) Bütün akrabalarım, yıl sonu sergilediğimiz oyuna geldiler.

Bazen istemeden de olsa birini üzecek ya da kıracak bir şeyler söyleriz. Söylediğimizde karşımızdakini kıracağımızı düşünmeyiz. Daha sonra sağlıklı olarak düşündüğümüzde hatamızı anlarız. Hatamızı anladığımız zaman geç de olsa o kişiden özür dilemeli ve o kişinin gönlünü almalıyız. Kırıcı bir söz kendimize söylendiği zaman tepkimiz nasıl olur? Bunu düşünmeliyiz. Kendimize yapılmasını istemediğimiz bir davranışı, biz de başkasına yapmamalıyız.

7. Seçeneklerden hangisinden metinde söz edilmemiştir?

- A) Söz ve davranışlarımıza dikkat etmeliyiz.
B) Başkalarının yaptıkları bizi ilgilendirmez.
C) Özür dilemeyi gerektiğinde uygulayabilmeliyiz.
D) Kendimize yapılmasını istemediğimiz bir davranışı biz de başkasına yapmamalıyız.



Ayaz

Bugün sınıfça Bilim Merkezi'ne geziye gideceğiz.



İkra

Annem akşam yemeği için börek yapmış.



Emir

Son yıllarda izlediğim en güzel filmi.



Eflin

Masa tenisi maçları okulun spor salonunda yapılacak.

8. Yukarıdaki hangi öğrencinin cümlesinde kişiden kişiye değişen bir yargı vardır?

A) Eflin

B) Emir

C) İkra

D) Ayaz

9. Aşağıdaki cümlelerin hangisinde, sebep-sonuç ilişkisi yoktur?

A) Bugün ya dışarı çikalım ya da televizyon izleyelim.

B) Çok yorgundum bu nedenle filmi izleyemedim.

C) Okuması çok yavaş; çünkü hiç kitap okumuyor.

D) Banyo yapmadığı için çok pis kokuyor.

10. Aşağıdaki cümlelerin hangisinde, karşılaştırma yapılmamıştır?

A) Aylin, Nihal kadar başarılı değil.

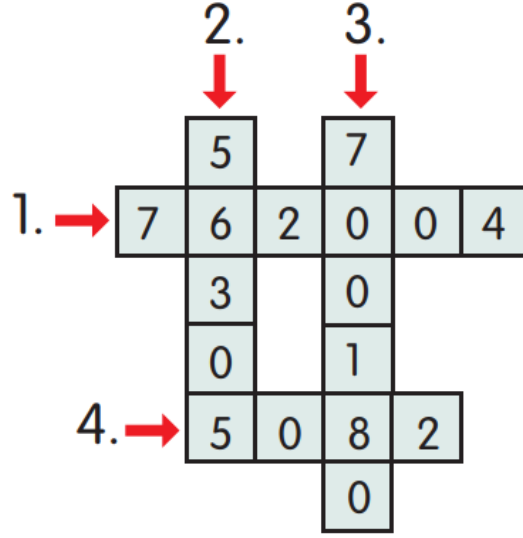
B) Eski bayramlar daha güzeldi.

C) Bu adamı ilk defa görüyorum.

D) Günümüzde basketbola göre futbol, daha çok ilgi görüyor.



BULMACA



- 1) Yedi yüz altmış iki bin dört
- 2) Elli altı binüç yüz beş
- 3) Yedi yüz bir bin seksen
- 4) Beşbin seksen iki

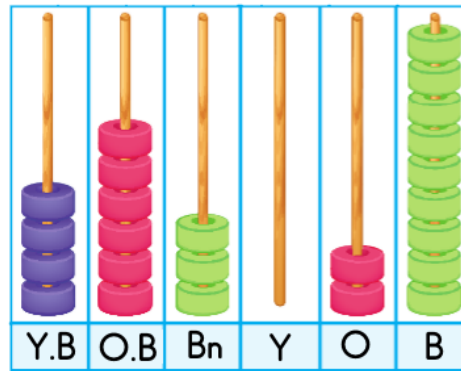
1. Üstteki bulmacayı şekildeki gibi çözen bir öğrenci, hangi satır veya sütunda yanlışlık yapmıştır?

A) 1

B) 2

C) 3

D) 4



2. Yukarıdaki abaküste gösterilen sayı için hangisi söylenemez?

A) Okunuşu, dört yüz altmış üç bin yirmi dokuzdur.

B) Sayıyı oluşturan rakamların çarpımı 0'dır.

C) Onlar basamağının sayı değeri ve on binler basamağının sayı değerinden 5 eksiktir.

D) Basamak değeri en büyük olan rakam 4'tür.



Okul numarasının birler bölümündeki rakamların sayı değeri toplamı 8 olanlar ayağa kalsın.

3. Buna göre, **yanlışlıkla** ayağa kalkan öğrenci hangisidir?



$$4A \ 835 < 46 \ 835$$

4. Yukarıdaki karşılaştırmada **A** yerine yazılabilecek rakamların toplamı kaçtır?

A) 13

B) 14

C) 15

D) 16

Yandaki otomobilin fiyatı ile ilgili olarak aşağıdaki bilgiler verilmiştir:

- Tek bir doğal sayıdır.
- Beş basamaklı ve rakamları farklı bir doğal sayıdır.
- Binler bölümünü oluşturan rakamların sayı değerleri toplamı birler bölümünü oluşturan rakamların sayı değeri toplamından büyüktür.




5. Verilenlere göre, bu otomobilin fiyatı aşağıdakilerden hangisi olabilir?

A) 71 207

B) 72 305

C) 72 325

D) 73 075



6. Buna göre, kaç numaralı öğrenci bu sayıyı en yakın yüzlüğe doğru yuvarlamıştır?

A) 1

B) 2

C) 3

D) 4



Yukarıdaki arabayı alan Emin Bey, peşinat olarak 45 475 TL vermiş, geri kalan 14 225 TL borucunu da taksit yaptırmıştır.

7. Buna göre, Emin Bey'in aldığı araba kaç TL'dir?

A) 58 400

B) 59 700

C) 58 900

D) 60 000

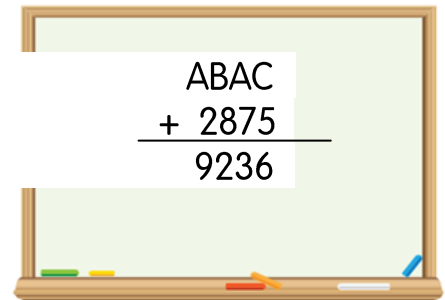
8. Yandaki işlemde ABAC sayı kaçtır?

A) 6 361

B) 6 381

C) 6 390

D) 6 394





Dila, 12 yaşındadır. Annesinin yaşı, İla'nın yaşından 22 fazladır. Babası, annesinden 5 yaş büyüktür. İla'nın dedesi, babasından 21 yaş daha büyüktür.

9. Bu ailedeki kişilerin yaşları toplamı kaçtır?

A) 145

B) 135

C) 130

D) 125

AY	YERLİ TURİST SAYISI	YABANCI TURİST SAYISI
TEMMUZ	9200	8240
AĞUSTOS	8925	8975
EYLÜL	7102	6806

Yukarıdaki tabloda Denizli ilimizde bulunan Pamukkale Travertenlerini 2022 yılının temmuz, ağustos ve eylül aylarında ziyaret eden yerli ve yabancı turist sayısı verilmiştir.

10. Tablodaki verilere göre, aşağıdakilerden hangisi yanlıştır?

A) Üç ayda Pamukkale travertenlerini toplam 25 227 yerli turist ziyaret etmiştir.

B) Üç ayda Pamukkale travertenlerini toplam 24 021 yabancı turist ziyaret etmiştir.

C) Ağustos ayında Pamukkale travertenlerini ziyaret eden yerli turist sayısı, yabancı turist sayısından azdır.

D) Üç ayda Pamukkale travertenlerini ziyaret eden toplam turist sayısı 49 208'dir.



1. Madenlerle ilgili olarak;

- I. Madenler teknolojinin gelişiminde rol oynar.
- II. Ekonomik değeri olan kayalara maden denir.
- III. Demir, Bakır ve cıva madenlere örnektir.

verilen ifadelerinden hangisi ya da hangileri doğrudur?

- A) Yalnız I B) I ve II C) II ve III D) I, II ve III



Merhaba arkadaşlar, benim adım Erva. İşim fosillerin yapısını incelemek.

2. Yukarıda kendini tanıtan Erva'nın mesleği aşağıdakilerden hangisidir?

- A) Jeolog B) Paleontolog C) Fizikolog D) Fosilog

- () Dünya uzayda hareketsiz olarak durur.
- () Dünya, Güneş etrafında dolanımını 365 günde tamamlar.
- () Gece ve gündüz sürekli olarak birbirini takip eder.
- () Bir yılda dört mevsimin olma nedeni Dünya'nın kendi etrafında dönmesinden dolayıdır.

3. Yukarıda verilen ifadelerin doğru "D" yada yanlış "Y" olduğuna karar vererek ifadenin basındaki parantez içine "D" ve "Y" harfleri yazarak dolduran bir öğrenci kaç tane "D" harfi kullanmıştır?

- A) 1 B) 2 C) 3 D) 4

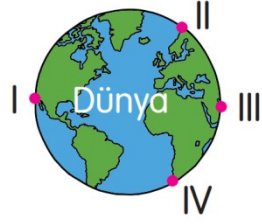
Dünya'dan Güneş'i takip eden bir gözlemci, gün boyunca Güneş'i hareket ediyormuş gibi görüyor.

4. Bu durumun nedeni aşağıdakilerden hangisidir?

- A) Dünya'nın Ay etrafında dönmesidir.
- B) Dünyanın şeklinin küreye benzemesidir.
- C) Dünya'nın kendi etrafında dönmesidir.
- D) Dünya'nın Güneş etrafında dönmesidir.

5. Dünya Güneş etrafında daha hızlı dönseydi aşağıdakilerden hangisi oluşurdu?

- A) Bir yıl denilen süre kısalırdı.
- B) Günler uzardı.
- C) Sıcaklık artardı.
- D) Mevsimler çoğalırdı



Yukarıda verilen Güneş, Dünya'nın bir bölümünü aydınlatmaktadır.

6. Buna göre, hangi bölgede gece yaşanır?

A) I

B) II

C) III

D) IV

7. Dünya'nın kendi eksenini etrafında bir tam dönüşü aşağıdakilerden hangisi ile belirtilmez?

A) Gece ve gündüz

B) Bir gün

C) 24 saat

D) Bir hafta



8. Yer kabuğunun kara tabakasını aşağıdakilerden hangisi oluşturur?

A) Magma

B) Kayaç

C) Su

D) Kömür

9. Aşağıdakilerden hangisi fosilleşme sonucu oluşan bir yakıt değildir?

A) Kömür

B) Petrol

C) Doğalgaz

D) Mangal Kömürü

I. Yer kabuğu kayaç, kaya ve topraktan oluşur.

II. Kayaç, ateş küredeki magmanın yer yüzüne çıkıp soğumasıyla oluşur.

III. Bütün kayaçlar maden olarak adlandırılır.

IV. Kayaçlar topraktan daha yumuşaktır.

10. Yukarıda verilen bilgilerden kaç tanesi doğrudur?

A) 1

B) 2

C) 3

D) 4



"Öğretmenimiz sınıfta herkese söz hakkı veriyor. Panoya asılacak resimlere bizim karar vermemizi istiyor."



1. Öğretmenimizin bu davranışı aşağıdakilerden hangisine örnektir?

- A) Kız öğrencilere öncelik vermeye.
- B) Öğrenciler arasında ayrımcılık yapmamaya.
- C) Yetenekli öğrencileri ödüllendirmeye.
- D) Öğrencileri planlı olmaya özendirmeye.

- I. Olaylar karşısında empati kurar.
- II. Kırıcı olmamaya özen gösterir.
- III. Farklı düşüncelere saygılı olur.
- IV. Sinirlendiğinde sert tepki verir.

2. Hoşgörülü bir insan yukarıdakilerden hangisini yapmaz?

- A) I
- B) II
- C) III
- D) IV

Serhat sokakta yürürken arkasından kendisine bir kişi çarpar. Sinirli bir şekilde arkasına döndüğünde kendisine çarpan kişinin görme özürü bir vatandaş olduğunu fark eder.

3. Serhat belirtilen durumlarda sırasıyla hangi duyguları yaşamıştır?

- A) öfke - utanma
- B) üzüntü - acıma
- C) acıma - öfke
- D) endişe - suçluluk

4. Eski kimliklerimizin üzerinde yazılı olan ancak yeni kimliklerin üzerinde yazılı olmayan bilgileri hangi seçenekte doğru olarak verilmiştir?

- A) Anne adı
- B) Doğum tarihi
- C) Doğum yeri
- D) T.C. Vatandaşlık Numarası



5. Çok istediği hâlde okulun masa tenisi takımına seçilemeyen hangi öğrencinin düşüncesi doğrudur?

- A) Çağdaş bir daha seçmelere katılmamayı düşünüyor.
- B) Erva seçilen arkadaşlarıyla konuşmamayı düşünüyor
- C) Eslem çok çalışıp bir sonraki yıl yeniden katılmayı düşünüyor.
- D) Sude spor yapmaktan vazgeçmeyi düşünüyor.

Belirli nesne, olay veya bireylerin insanın iç dünyasında uyandırdığı izlenime duygu denir.

6. Buna göre, aşağıdakilerden hangisi bir duygu ifadesi olamaz?

- A) Amcamların gelmesine çok sevindim.
- B) Arkadaşlarımdan ayrılmak beni çok üzdü.
- C) Trafik kazalarının temel nedeni insan hatalarıdır.
- D) Sınav sonuçları okunurken çok heyecanlanıyorum.



Seda ve İlke aile tarihini öğrenmek için dedesine sorular sorar.

7. Seda ve İlke'nin dedesiyle yapacağı görüşmede, aşağıdaki sorulardan hangisini **sormaz**?

- A) Gençliğinizde ne iş yapardınız?
- B) Çocukluğunuzda oynadığınız oyunlar nelerdir?
- C) En çok sevdiğiniz akrabanız kimdir?
- D) Soyadımızın anlamı nedir?

Bireysel farklılıklar insanların birbirinden ayrılmasını sağlayan, kişiye özel olan ve davranışsal anlamda da farklılık gösterebilen özelliklerdir.

8. Buna göre, aşağıdaki bireysel farklılıklarımızdan hangisi diğerlerinden farklı bir özellik taşımaktadır?

- A) Bireyin bedensel özellikleri
- B) Bireyin yeteneği
- C) Bireyin duygu ve düşüncesi
- D) Bireyin ilgi alanları



Ayaz

Olayları empatik düşünebilmeliyiz.



İkra

Bizden farklı düşünenlere saygı duymalıyız.



Emir

Kendimizi başkalarının yerine koymalıyız.



Eflin

Ülkemize sığınan insanları dışlamalıyız.

9. Yukarıdaki öğrencilerden hangisinin düşüncesi yanlıştır?

A) Eflin

B) Emir

C) İkra

D) Ayaz

10. Nüfus cüzdanlarımızı veren Nüfus ve Vatandaşlık Hizmetleri Genel Müdürlüğü hangi bakanlığa bağlıdır?

A) Dışişleri Bakanlığına

B) İçişleri Bakanlığına

C) Adalet Bakanlığına

D) Milli Eğitim Bakanlığına



It is a

1. Yukarıdaki boşluğa hangi kelime gelmelidir?

*A) eraser

B) book

C) desk

D) pencil



Open the



2. Yandaki boşluğa hangi kelime gelmelidir?

A) door

B) desk

C) window

D) board

$$\begin{array}{c} \text{★} \\ 23 \end{array} + \begin{array}{c} \text{★} \\ 18 \end{array} = ?$$

3. Yukarıdaki boşluğa işlemin sonucu kaçtır?

A) thirtyfive

B) fortytwo

C) fortyone

D) thirty



He is from.....

4. Yukarıdaki boşluğa hangi kelime gelmelidir?

A) Italy

B) Spain

C) Germany

D) Japan


5. Yandaki görseli en iyi ifade eden şık hangisidir?

A) Close the door.

B) Turn off the lights.

C) Count numbers.

D) Clean the window.



4. SINIF CEVAP KÂĞIDI

Adı Soyadı:

PUAN

Sınıfı:

Numarası:

TÜRKÇE

- 1- (A) (B) (C)
- 2- (A) (B) (C)
- 3- (A) (B) (C)
- 4- (A) (B) (C)
- 5- (A) (B) (C)
- 6- (A) (B) (C)
- 7- (A) (B) (C)
- 8- (A) (B) (C)
- 9- (A) (B) (C)
- 10- (A) (B) (C)

DOĞRU :

YANLIŞ :

MATEMATİK

- 1- (A) (B) (C)
- 2- (A) (B) (C)
- 3- (A) (B) (C)
- 4- (A) (B) (C)
- 5- (A) (B) (C)
- 6- (A) (B) (C)
- 7- (A) (B) (C)
- 8- (A) (B) (C)
- 9- (A) (B) (C)
- 10- (A) (B) (C)

DOĞRU :

YANLIŞ :

FEN BİLİMLERİ

- 1- (A) (B) (C)
- 2- (A) (B) (C)
- 3- (A) (B) (C)
- 4- (A) (B) (C)
- 5- (A) (B) (C)
- 6- (A) (B) (C)
- 7- (A) (B) (C)
- 8- (A) (B) (C)
- 9- (A) (B) (C)
- 10- (A) (B) (C)

DOĞRU :

YANLIŞ :

SOSYAL BİL.

- 1- (A) (B) (C)
- 2- (A) (B) (C)
- 3- (A) (B) (C)
- 4- (A) (B) (C)
- 5- (A) (B) (C)
- 6- (A) (B) (C)
- 7- (A) (B) (C)
- 8- (A) (B) (C)
- 9- (A) (B) (C)
- 10- (A) (B) (C)

DOĞRU :

YANLIŞ :

İNGİLİZCE

- 1- (A) (B) (C)
- 2- (A) (B) (C)
- 3- (A) (B) (C)
- 4- (A) (B) (C)
- 5- (A) (B) (C)

DOĞRU :

YANLIŞ :