

1. Aşağıdaki cümlelerin hangisinde sebep-sonuç ilişkisi **yoktur**?

- A) Babam işinde üstün başarı gösterdiği için görevinde yükselme aldı.
- B) İstanbul'un nüfusu Ankara'dan daha fazladır.
- C) Emre'nin parası yetmedi; bu nedenle istediği ayakkabıyı alamadı.
- D) Tarladaki ekinler hep yere yattı, çünkü gece fırtına vardı.

2. "yanmak" sözcüğü hangi cümlede gerçek anlamının dışında kullanılmıştır?

- A) Yakar top oyununda top kime değerse o kişi yanar.
- B) Soğuk olan odayı ısıtmak için hemen sobayı yaktık.
- C) Piknik sonrası ateşi tam söndürmeyen piknikçiler ormanı yaktı.
- D) Bu yılki olimpiyat ateşini geçen yıl en başarılı seçilen sporcu kişi yaktı.

3. Aşağıdaki cümlelerin hangisinde altı çizili sözcük gerçek anlamında kullanılmıştır?

- A) Ensar, arkadaşının kalbini kırdı.
- B) Bu sınav beni çok terletti.
- C) Akşam çayın yanına bir de tatlı aldım.
- D) Emre'nin çok temiz bir kalbi var.

4. Aşağıdaki cümlelerin hangisinde benzetme **yapılmamıştır**?

- A) Arif, tavşan gibi hızlı koşuyor.
- B) Mustafa Kemal Atatürk'ün altın sarısı saçları vardı.
- C) Emel'in altın gibi kalbi var.
- D) Ödevlerini yapmadan okula gelen öğrenciyi öğretmen çok kızdı.

5. – Orhan, dişlerini fırçalamadığı için dişleri çürüdü.
– Annem karıncalar gibi durmadan çalışıyor.
– Ali, Salih kadar uzun boylu değil.

Yukarıdaki cümlelerde aşağıdaki seçeneklerde verilenlerden hangisine örnek **verilmemiştir**?

- A) Mecaz anlamlı cümle
- B) Benzetme cümlesi
- C) Karşılaştırma cümlesi
- D) Sebep-sonuç cümlesi

6. Öğretmen Aslı'ya çok kızdı; çünkü...

Yukarıdaki cümleyi aşağıdaki seçeneklerin hangisi ile **tamamlayamayız**?

- A) ödevini yapmamıştı.
- B) tahtayı karalamıştı.
- C) arkadaşının saçını çekmişti.
- D) sınavda birinci olmuştu.

1. 5786 TL maaş alan Ahmet Bey, maaşının 2875 TL'sini harcadı.

Yaklaşık kaç TL'si kalmıştır? (En yakın onluğa göre)

- A) 2910 B) 2900
C) 2890 D) 2880

2.

$$9784 - 4375$$

Yukarıdaki çıkarma işleminin tahmini sonucu kaçtır? (En yakın yüzlüğe göre)

- A) 5200 B) 5300
C) 5400 D) 5500

3.

$$987 - 675$$

Yukarıdaki işlemin gerçek sonucu, tahmini sonucundan kaç fazladır? (En yakın onluğa göre)

- A) 1 B) 2 C) 3 D) 4

4. Babam 1984 yılında doğmuştur.

2025 yılında kaç yaşında olur?

- A) 41 B) 42 C) 43 D) 44

5. 957 km'lik yolun 654 km'sini giden otobüsün yaklaşık kaç km yolu kalmıştır? (En yakın onluğa göre)

- A) 330 B) 325
C) 320 D) 310

6. Aşağıdaki işlemlerin sonuçları eksilen ve çıkan en yakın yüzlüğe yuvarlatılarak bulunmuştur.





Buna göre hangi işlemin sonucu yanlıştır?

- A) $6472 - 275 = 6200$
B) $5876 - 348 = 5400$
C) $8764 - 645 = 8200$
D) $7653 - 224 = 7500$

1. Aşağıdaki öğrencilerden hangisi alkolün verdiği zararlardan bahsetmemiştir?

- A)  Trafik kazalarına sebep olur.
- B)  Aile bütçesine zarar verir.
- C)  Akciğer kanserine sebep olur.
- D)  Karaciğere ve böbreklere zarar verir.

2. Aşağıdaki çocuklardan hangisinin ifadesi doğrudur?

- A)  Her gün süt içerim.
- B)  Her sabah kola içerim.
- C)  Yemekten sonra cips yerim.
- D)  Akşamları hamburger yerim.

3. I. Düzenli egzersiz yapmak
II. Katkılı besinler tüketmek
III. Yiyecek ayırt etmemek
IV. Alkol ve sigara kullanmak

Sağlıklı olmak isteyen verilenlerden hangilerini yapmamalıdır?

- A) I - II
B) II - IV
C) I - III
D) I - IV

4.



Sağlıklı ve dengeli beslendiğini söyleyen biri yukarıdakilerden hangilerini tüketir?

- A) süt, yumurta, kola
B) hamburger, cips, salam
C) süt, cips, bal
D) süt, yumurta, bal

5. I. En az yağların tüketilmesi gerekir.
II. Sadece et ve süt ürünleri ile beslenebiliriz.
III. En az tahılları tüketmeliyiz.
IV. Sadece tahıllarla beslenebiliriz.



Ezgi, besin piramidine bakarak hangilerini doğru söylemiştir?

- A) Yalnız I
B) II - III
C) III - IV
D) I - IV

1. Çorum	Gaziantep
İzmir	Urfa

Kurtuluş Savaşı sırasında yukarıdaki illerden hangisi işgal edilmemiştir?

- A) İzmir
- B) Çorum
- C) Gaziantep
- D) Urfa

2. “..... geçilmez.”
sözü hangi il için söylenmiştir?

- A) Bursa
- B) Samsun
- C) Çanakkale
- D) Urfa

3. Aşağıdaki tarihi olaylardan hangisiyle yeni bir devletin temelleri atılmıştır?

- A) Mustafa Kemal'in Samsun'a çıkması
- B) Erzurum Kongresi
- C) Sivas Kongresi
- D) TBMM'nin açılması

4. Aşağıdakilerden hangisi Cumhuriyet'in kuruluş tarihidir?

- A) 29 Ekim 1923
- B) 30 Ekim 1923
- C) 23 Nisan 1920
- D) 19 Mayıs 1919

5.



Yukarıdaki haritada Mustafa Kemal'in ziyaret ettiği iller verilmiştir.

Atatürk'ün bu illeri ziyaret sırası hangi seçenekte doğru verilmiştir?

- A) II - I - III - IV
- B) II - III - I - IV
- C) IV - III - II - I
- D) IV - I - III - II

6. Aşağıdakilerden hangisi Güney Cephesi'nde Fransızlara karşı mücadele eden komutanlarımızdan biri **değildir**?

- A) Ali Sait Bey
- B) Şahin Bey
- C) İsmet Paşa
- D) Sütçü İmam

10. HAFTA

TÜRKÇE / TEST-2	1.B	2.A	3.C	4.D	5.A	6.D
MATEMATİK / TEST-2	1.A	2.C	3.B	4.A	5.D	6.B
FEN BİLİMLERİ / TEST-2	1.C	2.A	3.B	4.D	5.A	
SOSYAL BİLGİLER / TEST-2	1.B	2.C	3.D	4.A	5.A	6.C