

4. SINIF



ADI & SOYADI:	
SINIFI & NO:	
OKULU:	

DERS ADI	SORU SAYISI	TOPLAM SORU SAYISI	SINAV SÜRESİ (DAKİKA)
TÜRKÇE	15	57	100 Dakika
MATEMATİK	15		
FEN BİLİMLERİ	10		
SOSYAL BİLG.	10		
İNGİLİZCE	7		

4.SINIF KONU TEKRAR SORULARINA ULAŞMAK İÇİN
SAĞ ÜSTTEKİ KAREKODU OKUTABİLİRSİNİZ



1, 2 ve 3. soruları aşağıdaki paragrafa göre cevaplayınız.

Oyun, bir çocuğun yaşamında, onun gelişiminde çok önemli bir yer tutar. Oyun oynamak ciddi bir iştir. Çünkü yeteneklerimizi ortaya çıkarır. Oyunların en önemli araçları ise oyuncaklardır. Oyuncaklarımız, renk ve biçim gibi kavramları öğrenmemize yardımcı olur. Oyun ve oyuncaklar; paylaşmayı, beklemeyi ve iş birliğini öğretir.



1. Yukarıdaki paragrafın konusu nedir?

- A) Oyun ve oyuncakların çocuk gelişimindeki yeri
- B) Oyuncakların özenli kullanılması
- C) Bireysel farklılıklarımız
- D) Sorumluluklarımızı yerine getirme

2. Paragrafa göre, aşağıdakilerden hangisi söylenemez?

- A) Oyun oynamanın ciddi bir iş olduğu
- B) Oyunun yeteneklerimizi ortaya çıkardığı
- C) Oyun ve oyuncaklar olmadan başarılı olamayacağımız
- D) Oyuncakların renk ve biçim gibi kavramları öğrenmemize yardımcı olduğu

3. Paragrafın ana fikrini aşağıdaki cümlelerden hangisiyle ifade edebiliriz?

- A) Oyuncaklar olmadan da oyun oynanabilir.
- B) Oyunların en önemli araçları oyuncaklardır.
- C) Oyun ve oyuncaklar olmadan da çocukların yetenekleri ortaya çıkabilir.
- D) Oyun ve oyuncakların, çocukların yaşamında ve gelişmelerinde önemli yeri vardır.

TÜRKÇE TESTİ

Orhun kitabeleri, Göktürk Devleti'nin ünlü hükümdarı Bilge Kağan dönemine ait altı adet yazılı ve dikili anıttır. Bu önemli eserlerden üç tanesi Kül Tigin, Bilge Kağan ve Tonyukuk adına yazılmıştır. Türk adı ilk kez bu eserlerde yer almıştır.



4. Yukarıdaki metnin türü, aşağıdakilerden hangisidir?

- A) Şiir
- B) Hikaye edici metin
- C) Bilgilendirici metin
- D) Fıkra

- 5.
- Prof. Dr. Ahmet Aslan beni muayene etti.
 - Elif, 10 . 05 . 1985'te İzmir'de doğmuş.
 - Türkiye - Rusya maçı 21.45'te başlayacakmış.

Yukarıdaki cümlelerde noktanın kullanıldığı yerlerden hangisine örnek yoktur?





- A) Kısaltmalardan sonra
- B) Sayılardan sonra sıra bildirmek için
- C) Tarihlerin yazılışında gün, ay ve yılı ayırmak için
- D) Saat ve dakikayı gösteren sayıları ayırmak için

6. Aşağıdaki cümlelerin hangisinde hayal ürünü ifade söz konusudur?

- A) Nüfusu en kalabalık şehrimiz İstanbul'dur.
- B) Hastalıkları bulaştırmamak için maske kullanalım.
- C) Güneş en büyük ısı ve ışık kaynağıdır.
- D) Rüzgârla, bulut sohbet ediyormuş.

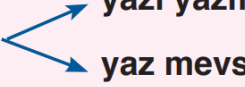
TÜRKÇE TESTİ

7. Aşağıdaki öğrencilerden hangisinin cümlesindeki virgül (,) kaldırılırsa cümlenin anlamı değişir?

- A)  Küçük, ağaca yaşlanmış ağlıyordu.
- B)  Bir çocuk, eğer isterse onu kalbiyle duyabilirdi.
- C)  Limon ile biber, bahçede oyun oynuyordular.
- D)  Kaan, matematik dersinde çok başarılıymış.

Bilgi: Yazılışları ve okunuşları aynı anlamları farklı olan sözcüklere **eş sesli** sözcükler diyoruz.

Örnek:

yaz 

8. Yukarıdaki bilgiye göre, aşağıdaki sözcüklerden hangisi eş sesli değildir?

- A) yat B) düş C) okul D) kır

9. Atatürk () metodlu ve disiplinli çalışırdı () Bir işe karar verince önce konuyu arkadaşlarıyla tartışır () fikirlerini alırdı ()


Yukarıdaki paragrafta parantezle gösterilen yerlere sırasıyla hangi noktalama işaretleri konulmalıdır?

- A) (,) (.) (,) (.) B) (,) (?) (.) (.)
- C) (,) (.) (!) (?) D) (,) (!) (,) (.)

TÜRKÇE TESTİ

Şu anda çok güzel bir yerde bulunuyorum. Buraya daha önce hiç gelmedim. Gördüğüm manzaraya hayran kaldım. Buraya daha önce gelmediğime pişman oldum. Önümde çam ağaçları ve çam ağaçlarının ilerisinde üstü karla kaplanmış bir dağ bana bakıyor. Böyle bir yeri başka bir yerde bulamazsınız.

10. Yukarıdaki anlatıma göre, bu kişi aşağıdaki yerlerden hangisinde olabilir?



11. ve 12. soruları aşağıdaki paragrafa göre cevaplayınız.

Halk türkülerinde beni çeken şey türkülerin arkasında bir olayın, bir maceranın yani insanın olmasıdır. En güzel halk türkeleri çok sevilen kişilerin başına gelen büyük sıkıntılar sonucu söylenmiştir. Halk türkülerinde söz edilen ayrılık, gerçek ayrılık; aşk, hakiki bir aşktır.

11. Bu paragrafa göre, halk türkülerinin çok sevilmesinin sebebi nedir?

- A) Halk türkülerinde doğa olaylarının anlatılması
- B) Halk türkülerinin sazla çalınıp söylenmesi
- C) Halk türkülerinin anlaşılır bir dille yazılması
- D) Halk türkülerinin çok sevilen kişilerin başına gelen büyük sıkıntılar sonucu söylenmiş olması

12. Yukarıdaki paragrafta altı çizili olan sözcüklerin yerine hangi seçenekte verilen sözcükler yazılırsa anlam değişikliği olmaz?

- A) ödül - hediye
- B) hadise - serüven
- C) vaka - cesaret
- D) ilgi - kuvvet

TÜRKÇE TESTİ

Bir koşu yarışmasında Elif, Elizan, Beren , Taha ve Kerem yarışmaktadır. Yarışmayla ilgili bilinenler şunlardır:

- Yarışmanın birincisi Kerem olmuştur.
- Elizan ve Elif'ten önce yarışmayı bitiren Beren'dir.
- Yarışmanın ikincisi erkektir.

13. Buna göre, aşağıdakilerden hangisi yanlıştır?

- A) Beren yarışmayı üçüncü olarak bitirmiştir.
- B) Yarışmanın ikincisi Taha'dır.
- C) Elizan yarışmada 4. olmuştur.
- D) Elif ve Elizan'ın kaçınıcı oldukları bilinemez.

Sözcük		Eş Anlamlısı
hikaye	→1.....
Cümle	→2.....
Cevap	→3.....
özen	→4.....

14. Tablodaki numaralı yerlere hangi seçenekte verilen sözcükler yazılmalıdır?

- | | | | |
|------------|--------|-------|----------|
| 1 | 2 | 3 | 4 |
| A) armağan | tümce | soru | dikkatli |
| B) hediye | kelime | yanıt | sorumlu |
| C) öykü | kelime | sual | dağınık |
| D) öykü | tümce | yanıt | itina |

TÜRKÇE TESTİ

1

Bunun üzerine genç Salih eve dönmeye karar vermiş. Yaşadıklarını anne ve babasına anlatarak onlara hizmet etmeye devam etmiş.

2

Uzak bir ülkenin küçük bir kasabasında Salih adında bir genç yaşamış. Genç Salih yaşadığı kasabanın gururuymuş.

3

Genç Salih'in kayıp şehre ulaşip oradaki hazineyi ele geçirmek gibi bir hayali varmış. Ailesinden izin alıp kayıp şehre ulaşmış. Karşılaştığı bir bilgeden hazinenin yerini sormuş. Bilge, ona sen hazinenin yanından geliyorsun, en büyük hazine anne babaya hizmet etmektir, demiş.

Yukarıda bir metnin bölümleri karışık olarak verilmiştir.

15. Buna göre numaralı yerlere hangi seçenekte verilenler yazılmalıdır?

1	2	3
A) Gelişme	Sonuç	Giriş
B) Sonuç	Giriş	Gelişme
C) Giriş	Gelişme	Sonuç
D) Gelişme	Giriş	Sonuç

TÜRKÇE TESTİ BİTTİ!
MATEMATİK TESTİNE GEÇİNİZ.

MATEMATİK TESTİ

Kaan, yandaki hesap makinesinin ekranına tuşlarda yazılan rakamları birer kez kullanarak yazılabilecek en büyük 6 basamaklı doğal sayıyı yazarken 8 yerine 3 tuşuna basmıştır.



1. Buna göre, ekranda yazan sayı aşağıdakilerden hangisidir?

A) 987 654

B) 937 654

C) 938 765

D) 983 654

2. Yandaki abaküste gösterilen sayı ile ilgili olarak hangi seçenekte verilen bilgi yanlıştır?

A) Okunuşu "otuz iki bin kırk beş"tir.

B) Rakamlarla yazılı 32 045'tir.

C) Yüzler basamağındaki rakamın basamak değeri 200'dür.

D) Basamak değeri en büyük olan rakam 3'tür.



3. Yukarıdaki örüntü üç adım daha genişletiliyor. Buna göre "?" ile belirtilen adımda aşağıdaki sayılardan hangisi yer alır?

A) 24

B) 25

C) 26

D) 27

4. Elif, 5, 7, 3, 9 rakamlarını birer kez ve "0" rakamını da yeterince kullanarak altı basamaklı en küçük sayıyı yazıyor. Buna göre, Elif'in yazdığı altı basamaklı sayı aşağıdakilerden hangisidir?

A) 300 579

B) 305 079

C) 305 790

D) 975 300

MATEMATİK TESTİ

Bilgi: Doğal sayılar çözümlenirken rakamlarının basamak değerleri toplanarak yapılır.

5. Yukarıdaki bilgiye göre,

$$600\ 000 + 700 + 80$$

şeklindeki çözümlenen sayı aşağıdakilerden hangisidir?

A) 670 080

B) 607 080

C) 678 000

D) 600 780

6. Yanda okunuşları verilen sayılardan hangisi rakamlarla yanlış yazılmıştır?

A) 4

B) 3

C) 2

D) 1

İki bin on yedi

1

2 017

Beş bin sekiz yüz beş

2

5 805

Yetmiş bin altı yüz on üç

3

70 613

Yüz elli üç bin yirmi yedi

4

153 270

7. Yandaki sayı ile ilgili olarak;

I. Birler bölümü 672, binler bölümü 405'tir.

II. On binler basamağında "0" rakamı vardır.

III. Binler basamağındaki rakamın basamak değeri 600'dür.

IV. Birler basamağındaki rakamın basamak değeri 2'dir.

verilen bilgilerden hangisi yanlıştır?

A) I

B) II

C) III

D) IV

405 672

MATEMATİK TESTİ

Melih'in kumbarasında başlangıçta 245 TL'si vardı. Melih her ay kumbarasına 100 TL atmaktadır.

8. Buna göre, Melih'in kumbarasında 5. ayın sonunda kaç TL birikmiş olur?

- A) 645 B) 745 C) 845 D) 945

9. $2\ 756 < 2\ 75a$ karşılaştırmasında "a" yerine yazılabilecek rakamların toplamı kaç olur?

- A) 24 B) 23 C) 22 D) 21

10. Yandaki sayılar en yakın olduğu yüzlüklerle eşleştirilirse hangi sayı dışta kalır?

- A) 485
B) 1742
C) 1645
D) 1938

485

1742

1645

1938

1900

1700

500

Bir dağcı Ağrı Dağı'na tırmanırken önce 1 257 m, sonra, 1 848 m ve daha sonra da 2 032 m tırmanarak dağın zirvesine ulaşmıştır.

11. Buna göre, Ağrı Dağı'nın yüksekliği kaç metredir?

- A) 5 037
B) 5 137
C) 5 217
D) 5 247



MATEMATİK TESTİ

	Sayı	En Yakın Onluk	En Yakın Yüzlük
I.	375	380	400
II.	1744	1740	1700
III.	827	830	800
IV.	485	480	400

Yukarıdaki tablo sayılar en yakın onluğa ve en yakın yüzlüğe yuvarlatılarak oluşturulmuştur.

12. Buna göre, kaçinci satırda hata yapılmıştır?

A) I

B) II

C) III

D) IV



Yukarıdaki örüntüde bir sayı örüntüsünün kuralını bozmaktadır.

13. Buna göre, kuralı bozan sayının yerine aşağıdaki sayılardan hangisi yazılırsa örüntü doğru olur?

A) 30

B) 31

C) 32

D) 34

4 278

4 056

4 292

4 176

14. Yukarıdaki sayıların, büyükten küçüğe doğru sıralanışı hangi seçenekte doğru verilmiştir?

A) $4\ 056 > 4\ 176 > 4\ 278 > 4\ 292$

B) $4\ 278 > 4\ 292 > 4\ 056 > 4\ 176$

C) $4\ 292 > 4\ 278 > 4\ 056 > 4\ 176$

D) $4\ 292 > 4\ 278 > 4\ 176 > 4\ 056$

MATEMATİK TESTİ

15. Yanda verilen toplama işleminde toplam aşağıdakilerden hangisidir?

- A) 2 656 B) 2 557 C) 2 544 D) 2 532

$$\begin{array}{r} 2176 \\ 387 \\ + \quad 93 \\ \hline \end{array}$$

MATEMATİK TESTİ BİTTİ!
FEN BİLİMLERİ TESTİNE GEÇİNİZ.



FEN BİLİMLERİ TESTİ

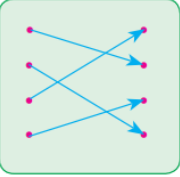
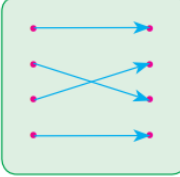
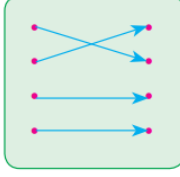
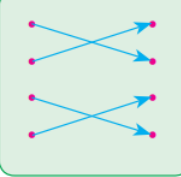
- Canlılar genel olarak Dünya'nın dış katmanı olan yer kabuğunda yaşarlar.
- Yer kabuğu ve yeryüzü şekilleri kayalardan oluşmuştur.
- Yer kabuğu karaların olduğu yerlerde ince, okyanus tabanlarında daha kalındır.
- Manto katmanında bulunan magmanın yeryüzüne ulaşarak soğuyup katılaşmasıyla kayalar oluşur.

1. Yukarıdaki ifadelerden doğru olanların başına (D), yanlış olanların başına (Y) yapılırsa "Doğru - Yanlış" sıralaması nasıl olur?

- A) D - Y - D - Y B) Y - D - Y - D C) D - D - Y - Y D) D - D - Y - D

<u>Maden</u>	<u>Kullanıldığı Yerler</u>
Altın	• Turistik eşya yapımında
Demir	• Madalya yapımında
Bakır	• Akü yapımında
Kurşun	• İnşaatlarda

2. Yukarıda verilen maden ve kullanım alanları arasında bir eşleştirme yapılırsa hangi seçenekteki eşleştirme doğru olur?

- A) 
- B) 
- C) 
- D) 

"Yer kabuğunun farklı derinliklerinden çıkarılan ve ekonomik değeri olan kayalara maden denir."

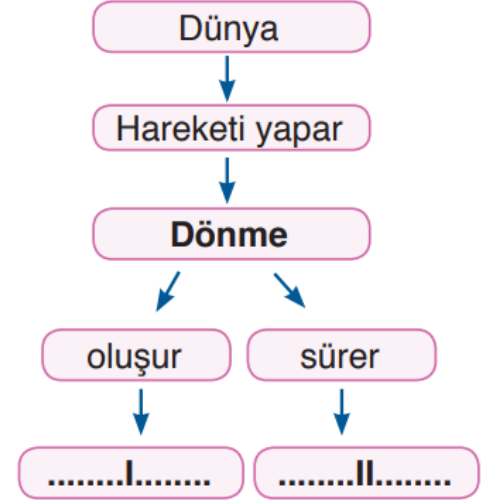
3. Yukarıdaki ifadeye göre, aşağıdakilerden hangisini madenlere örnek olarak veremeyiz?

- A) Altın B) Bakır C) Toprak D) Gümüş

FEN BİLİMLERİ TESTİ

4. Yandaki şemada numaralı yerlere hangi seçenekte verilenler yazılmalıdır?

	I	II
A) Mevsimler		365 gün 6 saat
B) Mevsimler		24 saat
C) Gece - gündüz		24 saat
D) Gece - gündüz		365 gün 6 saat



5. • Bitki ve hayvanların kayaç içerisinde taşlaşmış olan kalıntılaraI..... denir.
- Yer kabuğunun farklı derinliklerinden çıkarılan ve ekonomik değeri olan kayalaraII..... denir.
- Kayaçların farklı olmasını sağlayan yapısındakiIII..... dir.

Yukarıdaki ifadelerde numaralı yerlere hangi seçenekte verilenler yazılırsa ifadeler doğru tamamlanmış olur?

	I	II	III
A) fosil		maden	mineraller
B) maden		mineraller	fosil
C) mineraller		fosil	maden
D) fosil		mineraller	maden

6. Aşağıdaki ifadelerden hangisi yanlıştır?

- A) Fosiller, Dünya'nın geçmişi hakkında bilgi verir.
- B) Mevsimler, Dünya'nın Güneş etrafında dolanması sonucunda oluşur.
- C) Ülkemizde çıkarılan madenlerden biri de bor madenidir.
- D) Dünya'nın Güneş etrafında dolanma süresi 24 saattir.

FEN BİLİMLERİ TESTİ

I. Fosil, kayalarda, buzullarda ve bitki reçinesinde oluşabilir.

II. Ölen her canlı fosilleşir.

III. Kayaç tabakasının en alt tabakasındaki fosil, üst tabakasındaki fosile göre daha eskidir.

IV. Fosiller yer kabuğunun hareketleri sonucu ortaya çıkar.



7. Yukarıda fosillerle ilgili verilen bilgilerden hangisi yanlıştır?

A) I

B) II

C) III

D) IV



Eda

Mevsimler oluşur.



Meltem

Gece ve gündüz oluşur.



Ayşe

Bir gün 24 saat sürer.



Yeşim

Bir yıl 365 gün 6 saat sürer.

8. Yukarıdaki öğrencilerden hangisi ya da hangilerinin ifadeleri Dünya'nın Güneş etrafında dolanmasının sonuçlarındandır?

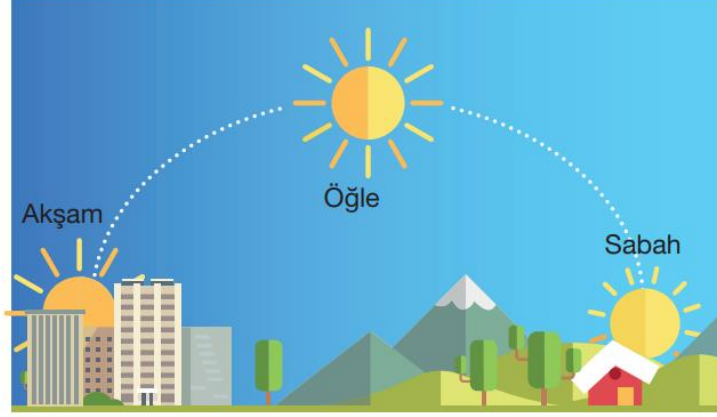
A) Meltem - Ayşe

B) Eda - Ayşe

C) Meltem - Yeşim

D) Eda - Yeşim

FEN BİLİMLERİ TESTİ



9. Güneş'i yukarıdaki gibi gün içerisinde farklı konumlarda görebiliyoruz. Bunun sebebi aşağıdakilerden hangisidir?

- A) Güneş'in sürekli hareket etmesi
- B) Dünya'nın Güneş etrafında dolanması
- C) Dünya'nın kendi etrafında batıdan doğuya doğru dönmesi
- D) Güneş'in kendi etrafında dönmesi



10. Yukarıda verilen görsele göre aşağıdakilerden hangisi söylenemez?

- A) L noktasından gündüz yaşanır.
- B) K noktasında gece, M noktasında gündüz yaşanır.
- C) N ve M noktalarında gece yaşanır.
- D) L noktasında gündüz, N noktasında gece yaşanır.

FEN BİLİMLERİ TESTİ BİTTİ!

SOSYAL BİLGİLER TESTİNE GEÇİNİZ.

SOSYAL BİLGİLER TESTİ

1. Sosyal bilgiler dersi ile ilgili;

- I. İnsanların canlı ve cansız çevre ile etkileşimini açıklar.
 - II. Hak, ödev ve sorumluluklarımızın neler olduğunu belirtir.
 - III. Sosyal yönümüzü geliştirerek bizi hayata hazırlar.
- verilenlerden hangisi ya da hangileri doğrudur?

- A) Yalnız I B) I ve II C) II ve III D) I, II ve III

2. (...) On beş yaşını tamamlamamış çocukların fotoğraflarının kimlik kartında yer alması zorunlu değildir.

(...) Yeni kimlik kartımızın rengi bayanlarda pembe, erkeklerde ise mavidir.

(...) T.C. kimlik numaramız bize aittir, başkasına verilemez.





(...) Yeni kimlik kartımızda akıllı kart özelliği olan çip (yonga) adı verilen bölüm bulunur.

Yukarıdaki bilgilerden doğru olanlara (D), yanlış olanlara (Y) yazılırsa "doğru-yanlış" sıralaması nasıl olur?

- A) D - Y - D - D B) D - D - Y - Y C) D - Y - Y - D D) Y - Y - D - D

"Resmi kimlik belgemizin ön ve arka yüzünü incelediğimizde hangi bilgilere ulaşırız?"

3. Yukarıdaki soruya, aşağıdaki öğrencilerden hangisi yanlış cevap vermiştir

- A)  T.C. kimlik numaramız bulunur.
- B)  Anne ve baba adı yer alır.
- C)  Okuduğumuz okulun adı bulunur.
- D)  Kaç yıl süreyle geçerli olduğu bilgisi yer alır.

SOSYAL BİLGİLER TESTİ

4. "Her insanın kendine has en temel fiziksel özelliği denilince akla ilk olarak gelir." ifadesindeki boşluğa aşağıdakilerden hangisi yazılmalıdır?

- A) Saç rengi B) Parmak izi C) Boy uzunluğu D) Kilosu

5. Yandaki olaylar, aşağıdaki seçeneklerden hangisinde kronolojik olarak doğru sıralanmıştır?

- A) 1 - 2 - 5 - 4 - 3
B) 1 - 4 - 2 - 3 - 5
C) 1 - 3 - 5 - 2 - 4
D) 1 - 5 - 4 - 3 - 2

1 2008 yılında Erzurum'da doğdum.


2 Beş yaşındayken anaokuluna başladım.


3 Annemin dediğine göre çok erken konuşmaya başlamışım.


4 Dördüncü sınıftayken İstanbul'a taşınmışız.


5 Ben üç yaşındayken bir kız kardeşim dünyaya gelmiş.

6. Aşağıdaki çocuklardan hangisi farklı bir özelliğinden söz etmiştir?

A)  Saçlarım siyah, gözlerim eladır.

B)  Boyum uzun ancak biraz kilolu-yum.

C)  Kısa boyluyum ama çok zayıfım.

D)  Çok güzel resim yapıyorum.

SOSYAL BİLGİLER TESTİ



7. Yukarıdaki görsellere göre, aşağıdakilerden hangisi söylenebilir?

- A) Bütün insanlar aynı yeteneklere sahiptir.
- B) İnsanlar farklı yeteneklere sahip olabilir.
- C) Farklılıklara saygı gösterilmez.
- D) Farklı yeteneklere sahip olanları kıskanmalıyız.

8. Aşağıdaki cümlelerden hangisi bir ilgiyi anlatır?

- A) Posta pulu koleksiyonu yapıyorum.
- B) İlk kez dinlediğim bir şarkıyı gitarımla çalabiliyorum.
- C) Bana verilen bir şiiri hızlıca ezberleyebiliyorum.
- D) Gördüğüm bir yerin resmini çok güzel yapabiliyorum.

9. "Kendimizi başkalarının yerine koyarak içinde bulunduğu durumu, ruh halini ve duygusal değişikliklerini anlamaya çalışmaktır."

Yukarıdaki açıklama, aşağıdaki kavramlardan hangisiyle ilgilidir?

- A) Kronoloji
- B) Empati
- C) Kıskançlık
- D) Bencillik

10. Aile tarihini oluştururken yazılı ve görsel kaynaklardan ve çeşitli nesnelere faydalanırsınız.


I. Fotoğraflar II. Mektuplar, diplomalar III. Koleksiyonlar IV. Kıyafetler
Buna göre, yukarıda verilenlerden hangisi ya da hangilerinden aile tarihini oluştururken faydalanırsınız?

- A) Yalnız I
- B) I, II ve III
- C) II, III ve IV
- D) I, II, III ve IV

SOSYAL BİLGİLER TESTİ BİTTİ! İNGİLİZCE TESTİNE GEÇİNİZ

İNGİLİZCE TESTİ

1. Resme göre, diyalogda boş bırakılan yere hangi seçenek gelmelidir?



Of course.



A) Give me the book

B) Give me the ruler

C) Give me the pencil

D) Give me the eraser

2. Diyalogda boş bırakılan yere hangi seçenek gelebilir?



Yes, you may.



A) Here you are

B) Please come in

C) May I go out?

D) Be quiet, please

3. Resme göre, diyalogda boş bırakılan yere hangi seçenek gelmelidir?

A) May I come in

B) Can I close the door

C) May I clean the board

D) Can I open the window



Sorry, not right now.



İNGİLİZCE TESTİ

4. Aşağıdaki sayıların yazılışı hangi seçenekte doğru verilmiştir?

43

15

- A) thirty - three fifteen
C) forty-three thirteen

- B) forty-three fifteen
D) forty-four fifteen

5. Aşağıda Türkçesi verilen cümlenin İngilizcesi hangi seçenekte verilmiştir?

“Yerine geç, lütfen.”

- A) Give me the book, please.
C) Open the window, please.

- B) Look at the board, please.
D) Go back to your place, please.

6. Aşağıdaki boşluklara sırayla hangi seçenek gelmelidir?

- A) Germany / Japanese
B) Chinese / Sweden
C) British / Italian
D) Japanese / Germany

Countries

1.

Japan

Nationalities

German

2.

7. Aşağıdaki diyalogda boş bırakılan yere hangi seçenek gelmelidir?

- A) not right now
B) Here you are
C) Say that again, please
D) Yes, you can



Give me the notebook, please.



The notebook, please.



TEST BİTTİ.

CEVAPLARINIZI KONTROL EDİNİZ