




“Atatürk, yurt gezilerinde önce kütüphaneleri ve okulları gezerdi. Her gittiği yerde öğretmenlerle görüşürdü. Kitaplarını yetersiz bulduğu kütüphanelere kitap yardımı yapardı. Her zaman kitap kadar, kitabın yazarına da değer verirdi.”



1-Yukarıdaki paragrafta anlatılmak istenen aşağıdakilerden hangisidir?

- A) Atatürk'ün okumaya verdiği önem
- B) Atatürk'ün çocuk sevgisi
- C) Atatürk'ün millet sevgisi
- D) Atatürk'ün vatan sevgisi

Nehir, Miraç, Duygu, Melis, Kaan ve Batuhan iki gruba ayrılıp proje ödevi hazırlayacaklardır.

2-Projeye ait bilgiler şöyledir:

- Graplarda eşit sayıda öğrenci olacaktır.
- Nehir ile Batuhan aynı grupta olacaktır.
- Melis ve Kaan farklı gruplarda bulunacaktır.

verilenlere göre, aşağıdakilerden hangisi kesinlikle yanlıştır?

- A) Miraç ile Melis aynı grupta olabilir.
- B) Duygu ile Batuhan aynı grupta yer alır.
- C) Nehir ile Kaan aynı grupta yer alabilir.
- D) Miraç ile Duygu aynı grupta yer alır.

Hasan Bey küçük bir kulübede yalnız yaşardı. Çok dostu, arkadaşı yoktu. Bazen sokaklara çıkar, fakirlere yardım eder, çiçeklere bakar, birkaç kitap alırdı. Çocuklarla oynar, bunu gurur meselesi yapmazdı.

3-Paragrafta altı çizili bölüm, hikâyenin hangi unsurudur?

- A) Ana karakter
- B) Yer
- C) Zaman
- D) Olay



- Suyumuzu borcundan dolayı kesmişler.
- Ağaçların kuruyan dallarını kesmişler.
- Polisler arama yapmak için yolları kesmişler
- Toplantıyı burada kesiyoruz.

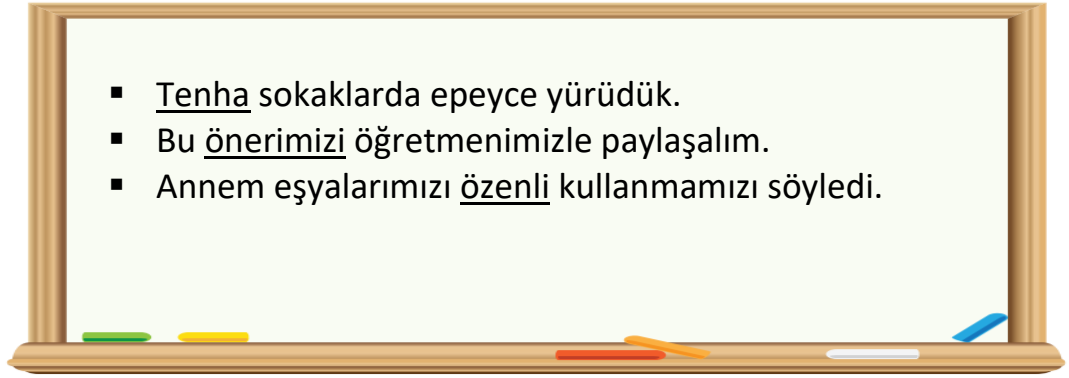
4- “Kesmek” sözcüğü yukarıdaki cümlelerde kaç farklı anlamda kullanılmıştır?

A) 1

B) 2

C) 3

D) 4



5-Aşağıdaki öğrencilerden hangisi, altı çizili kelimelerin eş anlamlısını bulamamıştır?

A)  kalabalık

B)  İSSİZ

C)  itinalı

D)  teklif

6-Aşağıdaki atasözlerinin hangisinde altı çizili kelimenin sesteki yoktur?

- A) Canı yanan eşek, atı geçer.
B) Bir elin nesi var, iki elin sesi var.
C) Ağaç yaş iken eğilir.
D) Sağ elin verdiği sol el görmesin.



I. yaşayamaz

II. yerde

III. insan

IV. çiçeklerin

V. olmadığı

7-Yukarıdaki numaralanmış sözlerden kurallı ve anlamlı bir cümle oluşturmak için sıralama nasıl olmalıdır?




A) II – I – III – V – IV

B) III – V – II – IV – I

C) IV – V – II – III – I

D) V – IV – II – I – III

Aşağıdaki rakamlar harflerin alfabedeki sırasını belirtmektedir.

	22	19	29	3	26	14
	5	6	7	24	6	21
	10	6	5	12	28	6

8- Buna göre "armağan" kelimesinin eş anlamlısı hangi renkte belirtilmiştir?

A) 

B) 

C) 

I. Bu çarşamba günü sinemaya gideceğiz.

II. Sınavdaki bazı soruları yanlış yaptım.

III. Annem bana bir sürpriz hazırlamış.

IV. 23 nisan 1920'de TBMM açılmıştır.

9-Yukarıdaki cümlelerin hangisinde yazım yanlışı vardır?

A) I

B) II

C) III

D) IV

- Hey, buraya bakın ()
- Keki nasıl yapacağımı bilmiyordum ()
- Sonra, alabildiğine uzanan yeşil bir ova ()

10- Yukarıdaki cümlelerde parantez içlerine gerekli noktalama işaretleri konulursa hangi seçenekte verilen noktalama işareti dışta kalır?

A) (!)

B) (.)

C) (...)

D) (?)



1-Yukarıdaki sayı doğrusunda A ve B noktalarına karşılık gelen kesirlerin toplamı kaçtır?

- A) $\frac{5}{13}$ B) $\frac{5}{12}$ C) $\frac{11}{5}$ D) 2

2- $\frac{a+8}{25} < \frac{19}{25}$ ise en büyük "a" sayısı kaçtır?

- A) 8 B) 9 C) 10 D) 11

$$1\ 736 < a \text{ ve } 2\ 785 > b$$

Yukarıdaki karşılaştırmalara göre, a yerine gelebilecek en küçük doğal sayı en yakın onluğa, b yerine gelebilecek en büyük doğal sayı en yakın yüzlüğe yuvarlatılarak toplanıyor.

3-Buna göre, elde edilen toplam kaçtır?

- A) 4 120 B) 4 320 C) 4 540 D) 4 450

Aşağıdaki çıkarma işleminde ■ ve △ birer rakamı göstermektedir.

$$\begin{array}{r} 534 \blacksquare \\ - 2\triangle 67 \\ \hline 2573 \end{array}$$

4-Buna göre, ■ x △ işleminin sonucu kaçtır?

- A) 0 B) 6 C) 7 D) 9

Bir beyaz eşya üreten fabrikada; ilk ay 275 adet buzdolabı, ikinci ay, ilk aydan 25 eksik buzdolabı, üçüncü ay ise ikinci aydan 75 adet daha fazla buzdolabı üretiliyor.

5-Verilenler göre, bu fabrika üç ay süreyle kaç adet buzdolabı üretmiştir?

- A) 375 B) 625 C) 850 D) 900



Nevşehir’de bulunan peri bacalarını gezmek için Atatürk İlkokulu'nun düzenlediği gezi ile ilgili bilgiler aşağıda verilmiştir.

- Öğrenciler 12 otobüsle geziye gidecektir.
- Her bir otobüse 36 öğrenci oturacak başlarında 1 öğretmen olacak ve öğretmenlerden ücret alınmayacaktır.
- Otobüslere ödenecek ücret için her öğrenciden 60 TL alınacaktır.



6-Buna göre, aşağıdakilerden hangisi söylenemez?

- A) Bu geziye toplam 432 kişi katılmıştır.
- B) Otobüslere ödenecek toplam para 25 920 TL’dir.
- C) Bu geziye 12 öğretmen katılmıştır.
- D) Bir otobüse ödenecek para 2 160 TL’dir.

Seda’nın yaşı, yandaki çarpma işleminde verilmeyen "▲, ■, ★" rakamlarının toplamına eşittir.

7-Buna göre, Seda’nın yaşı kaçtır?

- A) 15
- B) 13
- C) 11
- D) 9

$$\begin{array}{r}
 \quad \quad \quad \blacktriangle 6 \\
 \quad \quad \quad \blacksquare \star \\
 \times \quad \quad \quad \hline
 \quad \quad \quad 132 \\
 + \quad 4\blacktriangle 2 \\
 \hline
 \quad \quad 4\blacksquare 52
 \end{array}$$

8-Bir çıkarma işleminde eksileni 125 arttırıp çıkan sayıyı da 35 azaltırsak fark nasıl değişir?

- A) Fark 90 artar.
- B) Fark 160 azalır.
- C) Fark, 160 artar.
- D) Fark değişmez.



10 000 metre mesafeli bir bisiklet yarışmasında, en öndeki iki sporcunun arasındaki mesafe 178 metredir.

9-Öndeki sporcunun yarışı bitirmesine 339 metresi kaldığına göre, arkasındaki yarışmacı kaç metre bisiklet kullanmıştır?

- A)** 9 661 **B)** 9 503 **C)** 9 483 **D)** 9 303

I. $640 : \blacktriangle = 40$

II. $714 : 7 = \blacksquare$

III. $32\ 000 : \bullet = 32$

IV. $625 : 25 = \blacklozenge$

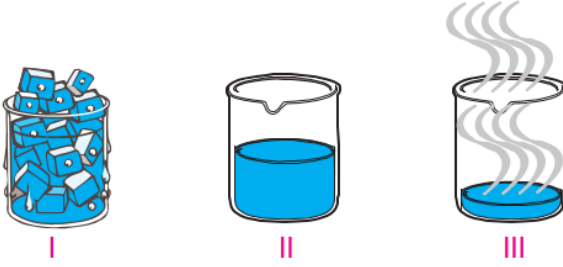
10-Yukarıdaki bölme işlemi hesap makinesiyle yapan Elif, “ \blacktriangle , \blacksquare , \bullet ve \blacklozenge ” ile belirtilen yerlere yazılması gereken sayıları hangi seçenekte doğru vermiştir?

	\blacktriangle	\blacksquare	\bullet	\blacklozenge
A)	14	12	100	25
B)	16	102	1 000 25	
C)	14	12	100	75
D)	16	102	1 0	50



1-Gazlarla ilgili aşağıdaki verilenlerden hangisi **yanlıştır**?

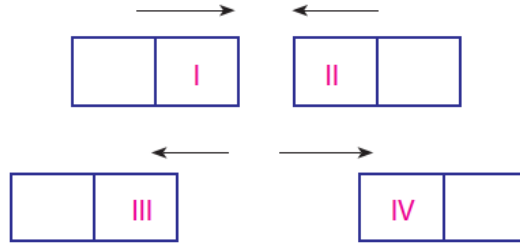
- A) Gazların belli bir şekli vardır.
- B) Gazlar sıkıştırılabilir.
- C) İçinde buldukları kabın tamamını doldururlar.
- D) Gazlar, sıvılar gibi akışkandır.



Maddenin halleri yukarıda verilmiştir.

2- Buna göre, aşağıda verilen bilgilerden hangisi **yanlıştır**?

- A) Madde, III numaralı halde sıkıştırılabilir.
- B) I numaralı halde maddenin belirli bir biçim ve şekli vardır.
- C) Madde, I numaralı halden, II numaralı hale dönüşürken ısı alır.
- D) Madde, II numaralı halden, I numaralı hale dönüşürken ısı alır.



Yukarıdaki mıknatıs çiftleri serbest bırakıldıklarında mıknatısların hareket yönleri oklarla gösterildiği gibidir.



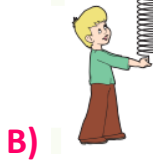

3-Buna göre, I, II, III ve IV ile belirtilen yerlere hangi seçenekte verilenler yazılmalıdır?

	I	II	III	IV
A)	N	S	N	N
B)	N	N	S	S
C)	S	S	N	N
D)	S	N	N	S



Cisimlerin şeklini değiştirmek için kuvvet uygularız. Kuvvet ortadan kalktığında bazı cisimler eski şekline döner.

4-Buna göre, aşağıdaki öğrencilerden hangisinin cisme uyguladığı kuvvet ortadan kalktığında cisim eski şekline dönmez?



5-Duran cisimleri hareket ettiren, hareket halindeki cismi durduran, cismin şeklini, yönünü, hızını değiştiren etkiye ne ad verilir?

- A) Hız
- B) Yol
- C) Kuvvet
- D) Hareket

Aşırı kilo vücudumuzda yağ miktarının fazla miktarlarda artması sonucunda oluşan hastalığa obezite denir.

6-Melih bir öğünde aşağıdaki besinlerden hangilerini tüketirse obezite hastalığına yakalanabilir?

- A) Kıymalı börek, salata, meyve suyu
- B) Kıymalı makarna, patates kızartması, kaymaklı kadayıf
- C) Patates salatası, yoğurt, karpuz
- D) Makarna, yoğurt, elma



7-Bir günlük beslenmesi sırasında yukarıdaki besinleri tüketen Zeynep'in kanına;

- I. Karbonhidrat
- II. Protein
- III. Yağ
- IV. Su

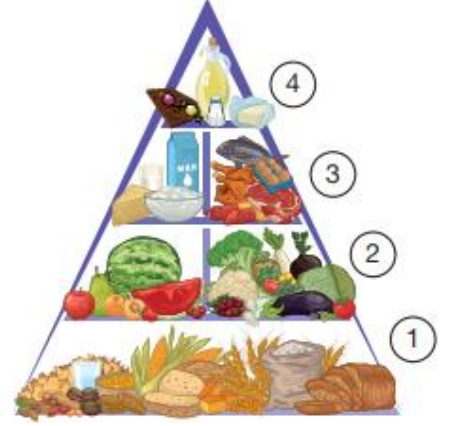
gibi besin içeriklerinden hangileri geçer?

- A) I ve II
- B) II ve III
- C) I, II ve III
- D) I, II, III ve IV



8-Yandaki besin piramidi ile ilgili olarak, aşağıdaki seçeneklerin hangisinde yanlış bir bilgi verilmiştir?


- A) En fazla 1. basamaktaki verilen ürünler tüketilmelidir.
B) 2. basamaklarda meyve ve sebzeler bulunmaktadır.
C) 1. basamaktaki ürünlerden sonra en fazla 4. basamaktaki ürünler tüketilmelidir.
D) Meyve ve sebzelerden sonra 3. basamaktaki protein içerikli besinler tüketilmelidir.



- I. Gece ve gündüz oluşumu
II. Mevsimlerin oluşumu
III. Bir günün 24 saat sürmesi
IV. Bir yılın 365 gün 6 saat sürmesi

9-Yukarıdakilerden hangisi ya da hangileri Dünya'nın Güneş'in etrafında dolanma hareketiyle ilgilidir?

- A) Yalnız I B) I ve II C) II ve IV D) III ve IV



10-Yukarıdaki görselle ilgili olarak;

- I. K noktasında gündüz yaşanmaktadır.
II. L noktasında gece yaşanmaktadır.
III. Gün içinde farklı vakitlerin yaşanmasının sebebi, Güneş'in kendi etrafında dönmesidir.
IV. Görselde aydınlık ve karanlık yerlerin bulunmasının sebebi, Dünya'nın kendi etrafında dönmesinden kaynaklanır.

verilenlerden hangisi ya da hangileri yanlıştır?

- A) I ve II B) Yalnız III C) III ve IV D) I ve III



Otobüs ⇒I.....

Stetoskop ⇒II.....

Akıllı tahta ⇒III.....

Telefon ⇒IV.....


1-Yukarıdaki teknolojik ürünlerin kullanım alanları hangi seçenekte doğru verilmiştir?

I	II	III	IV
A) Ulaşım	Sağlık	İletişim	Ulaşım
B) Sağlık	Ulaşım	Eğitim	İletişim
C) Ulaşım	Sağlık	Eğitim	İletişim
D) İletişim	Eğitim	Sağlık	Ulaşım

Eskiden insanların bir yerden bir yere gitmesi hem zor hem de çok zaman alıyordu. Çünkü şimdi kullandığımız ulaşım araçlarının birçoğu ortaya çıkmamıştı. Günümüzde ise uçak, tren ve otobüslerle yapılan yolculuklar hem daha rahat hem de çok hızlı yapılabilmektedir.

2-Yukarıdaki bilgi aşağıdakilerden hangisini daha çok vurgulamaktadır?

- A) Teknolojinin insanlar arasındaki iletişimi artırdığını
- B) Teknolojinin gelişmesiyle insan yaşamının kolaylaştığını
- C) Teknolojinin bilimsel çalışmalar ile ortaya çıktığını
- D) Teknolojinin gelişmesine birçok toplumun katkıda bulunduğunu



3-Hava olaylarını ifade ederken çeşitli semboller kullanırız. Buna göre, yukarıdaki numaralı sembollerin anlamları hangi seçenekte doğru verilmiştir?

1	2	3
A) Karla karışık yağmurlu	Sisli	Parçalı bulutlu
B) Kar yağışlı	Soğuk	Az bulutlu
C) Az bulutlu	Sağanak yağışlı	Sisli
D) Yağmurlu	Parçalı bulutlu	Rüzgarlı



4-Aşağıdakilerden hangisinin insanların çevreyle etkileşimi sonucunda ortaya çıkan unsurlardan biri olduğu söylenemez?



Göl



Baraj



Köprü



Tünel

Sosyal bilgiler öğretmeni Osman Bey sınıfta yönler konusunu anlattıktan sonra Türkiye haritasının önüne şekildeki gibi geçerek öğrencilerine “başı ile sağ kolu arasında kalan yönü” sormuştur.

5-Görsel ve paragraf incelendiğinde aşağıda verilen cevaplardan hangisinin doğru olduğu söylenebilir?

- A) Güney
- B) Doğu
- C) Kuzeydoğu
- D) Kuzeybatı



6-Aşağıdaki savaşlardan hangisi Milli Mücadele Dönemi'nde Batı Cephesi'nde yapılan savaşlar arasında yer almaz?

- A) I. İnönü Savaşı
- B) Sakarya Meydan Savaşı
- C) II. Dünya Savaşı
- D) Başkomutanlık Meydan Muharebesi



- Türkiye'nin (ülkemizin) sınırları belirlenmiştir.
- Bağımsızlığımızı tüm dünya kabul etmiştir.

7-Yukarıda verilenler aşağıdakilerden hangisiyle kazanılmıştır?

- A) Mondros Ateşkes Antlaşması
- B) Mudanya Ateşkes Antlaşması
- C) Lozan Barış Antlaşması
- D) Gümrü Anlaşması

Evimizde eskimiş ama hala saklanan bir sandık var. Annem ona çok önem veriyor. Çeyiz sandığı olduğunu ve kendisi için değerli olduğunu söylüyor.

8-Annemin o sandığı saklamasının sebebi ne olabilir?

- A) Sandıkları çok sevmesi
- B) Yeni sandık alamaması
- C) Eski sandıkların daha çok beğenilmesi
- D) Kültürüne sahip çıkması

9-Bir sözlü tarih çalışmasının aşamaları dikkate alındığında aşağıdakilerden hangisi en sonda yer alır?

- A) Görüşme sırasında kullanılacak araç gereçlerinin belirlenmesi
- B) Sözlü tarih çalışması yapılacak kişiyle görüşülmesi
- C) Görüşme kayıtlarının düzenlenip yazılı hale getirilmesi
- D) Sözlü tarih çalışması yapılacak kişiye sorulacak soruların hazırlanması



Çocuklar, bütün insanlar farklı özelliklere sahiptirler. Herkesin yaşadıkları ve çevresi farklı olduğu için bu durum gayet normaldir. Zaten farklılıklar bizim için zenginliktir. Bizlere düşen görev bütün farklılıkları.....

10-Mustafa Bey'in açıklamaları aşağıdaki söz gruplarından hangisiyle devam ettirilmelidir?

- A) hoşgörülle karşılamamaktır.
- B) kabullenerek farklılıklara saygılı olmaktır.
- C) kabul etmeyip farklılıklarla alay etmektir.
- D) görmezden gelmektir.



1-Aşağıdaki cümlede hangi seçenekte resmedilmiştir?

I get dressed every morning.



I can ride a bike I can't ride a horse.

2-Yukarıdaki cümlede boş bırakılan yere gelmesi gereken seçenek hangisidir?

A) and B) but C) because D) that

3-Aşağıda karışık halde verilmiş kelimeleri uygun şekilde sıralayınız.

my friends / I / and / my teacher / like

- A) I like my friends and my teacher.
B) My teacher like my friends and I.
C) My friends like and I my teacher.
D) And my teacher I like my friends

4-Aşağıdakilerden hangisi boş zaman aktivitesi değildir?

- A) reading a book B) playing a guitar
C) doing puzzles D) doing homework

5-Yandaki görsele göre doğru seçenek hangisidir?

- A) Drive a car. B) Ride a bike.
C) Catch a ball. D) Take a picture.

