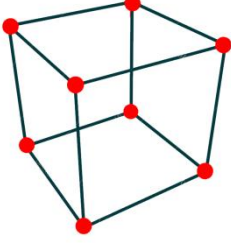
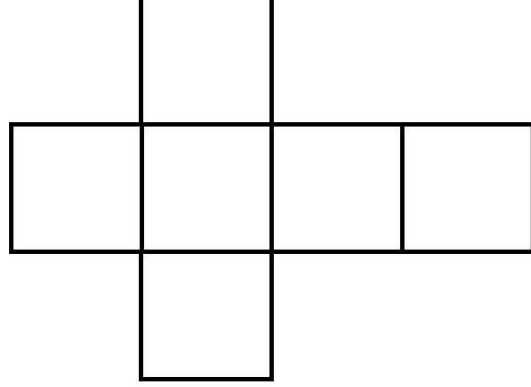


KÜP

Kapalı Şekil

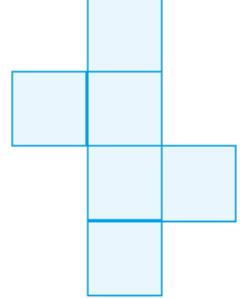
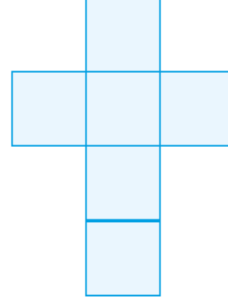
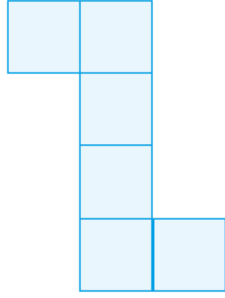
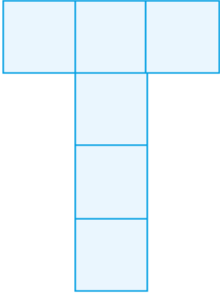


Açık Şekil




- ✓ 8 köşesi, 12 ayrıtı vardır.
- ✓ Ayrıtı uzunlukları birbirine eşittir.
- ✓ 6 yüzü vardır.

👉 Küpün farklı açınımları aşağıdaki gibidir. Verilen şekiller kapatıldığında küp oluşturur.

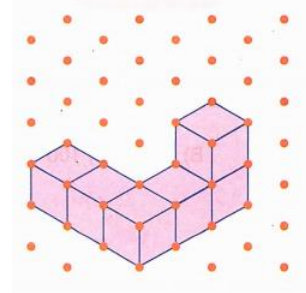


İZOMETRİK KAĞITTAKİ ÇİZİMLERİ EŞ KÜPLERLE OLUŞTURALIM

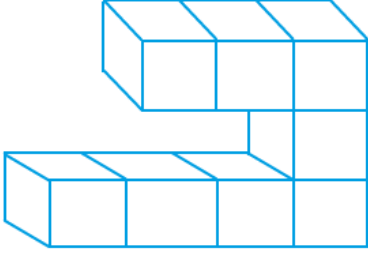


İzometrik Kağıt

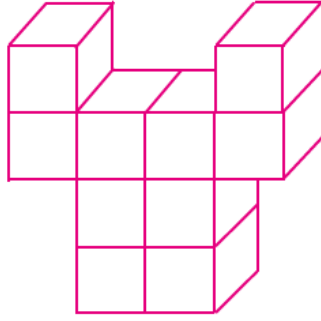
İzometrik kağıt üzerine
şekildeki gibi eş küpler
çizebiliriz. Yandaki şekil 6
eş küpten oluşmuştur.



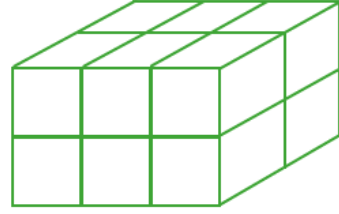
Aşağıdaki şekillerde kaç eş küp olduğunu altlarındaki boşluklara yazınız.



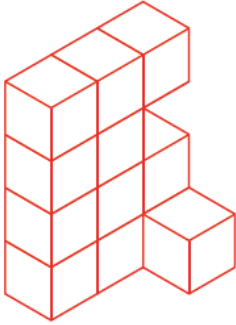
..... küp



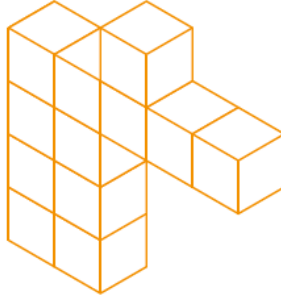
..... küp



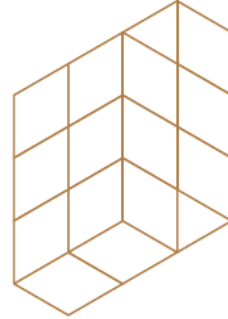
..... küp



..... küp



..... küp



..... küp

Aşağıda verilen eş küplerle oluşturulmuş yapıların aynısını yanlarına çiziniz.

