

4. SINIF

KAZANIM DEĞERLENDİRME SINAVI

Yayın Tarihi: 06 Kasım 2020

TÜRKÇE
MATEMATİK
SOSYAL BİLGİLER
FEN BİLİMLERİ
İNGİLİZCE



A B C

1 2 3

www.ilkokulevim.com



Günümüz artık teknoloji çağı. Artık hayatımızdaki çoğu şeyi internet üzerinden yapabiliyoruz. Banka işleri, sağlık işleri, devlet dairesi işleri vb. çoğu işimizi internet kullanarak halledabiliyoruz.

Peki bu durum bize ne kazandırıyor? Cevap çok basit aslında. Tabii ki zaman. Bu işlerimizi kolayca hallettiğimiz için geriye kalan vakti çok değerli geçirmeliyiz. Eğer kaliteli zaman geçirirsek ancak o zaman bize değer katar.

1-2-3. soruyu metne göre cevaplayınız.

1. Yukarıdaki metnin konusu nedir?

- A) İnternetin bize kazandırdıkları
- B) İnternetin yasakları
- C) İnternetin bizi kolaylığa alıştırdığı
- D) İnternetin işlerimizi zorlaştırdığı

2. Metnin ana fikri nedir?

- A) İnternet bizi bağımlı hale getirir.
- B) Zamanı geriye alamayız.
- C) İnternet bize vakit kazandırır ancak bu vakti değerli kılan onu kaliteli kullanmamızdır.
- D) Bizi sosyal medyaya alıştıırır.

3. Bu metnin başlığı aşağıdakilerden hangisi olabilir?

- A) İNTERNET BAĞIMLILIĞI
- B) ÇAĞIMIZ VE İNTERNET
- C) DİJİTAL YASAKLAR
- D) YAPAY ZEKA

4. Aşağıdaki hangi cümlede eş sesli kelime sayısı fazladır?

- A) Merdivenlerden indiği gibi koştu.
- B) Dolu bardak düşüp kırıldı.
- C) Soğuk zamanlarda içi ısındı.
- D) İncecik fidanı koparıp attı.

5. Aşağıdaki sözcük ikililerinden hangisi anlam ilişkisi bakımından farklıdır?

- A) sade-yalın
- B) yüz-çehre
- C) geniş-dar
- D) ev-konut



TÜRKÇE TESTİ

6. "bol" sözcüğü aşağıdaki görseller için kullanılırsa hangisine farklı bir anlam katar?



I Bu denizde farklı balık çeşitleri var.

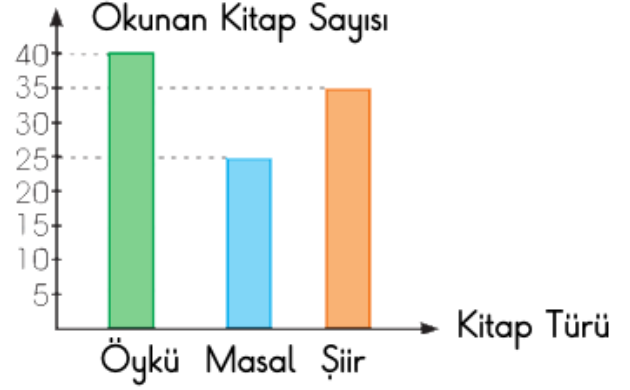
II Yakaladığı avı yavrularına götürmenin sevincini yaşayan kartal şarkı söylüyordu.

III Teknesiyle nehirde dolaşan balıkçı umutla oltasını attı.

IV Hamsiler mutluluktan havalara uçuyorlardı.

7. Yukarıdaki cümlelerden hangisinde sadece gerçek öğelere yer verilmiştir?

- A) I-II
B) I-III
C) II-III
D) III-IV



Şekildeki grafikte 4/A sınıfı öğrencilerinin bir ayda okuduğu kitap sayıları ve türleri verilmiştir.

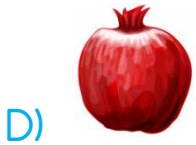
8. Buna göre aşağıdakilerden hangisi söylenemez?

- A) Şiir masaldan 10 kitap fazla okunmuştur.
B) Öyküler, şiirlerden çok okunmuştur.
C) Bir ayda toplam 95 kitap okunmuştur.
D) Bir ay boyunca en çok öykü okunmuştur.

TÜRKÇE TESTİ

Şu ardındaki küçük köy bizim köyümüzdür. Köyümüzde çeşit çeşit meyve vardır. Yaza girerken bahçemizdeki ağaçlardan topladığım kütür kütür yemeye doyamam.

9. Paragraftaki noktalı yerler aşağıdaki görsellerle tamamlandığında hangisi kullanılmaz?



Kır saçlı bilim adamı mikroskop ile ağaç yapraklarını inceliyordu. Bu sırada kapı çaldı. Bilim adamı isteksiz bir şekilde kapıyı açtı. Gelen bilim adamının yardımcısıydı. Bilim adamı yardımcısını soğuk karşıladı. Çünkü bilim adamı çalışırken rahatsız edilmeyi hiç sevmezdi.

10. Bu parçada aşağıdakilerden hangisi yoktur?

A) Deyim

B) Eş sesli sözcük

C) Terim anlamlı sözcük

D) Mecaz anlamlı sözcük



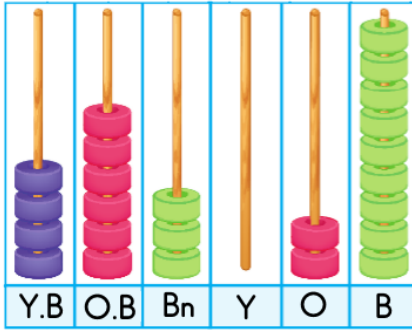
MATEMATİK TESTİ

4	A	B	8	C	2
---	---	---	---	---	---

Yukarıdaki 6 basamaklı doğal sayının okunuşu "Dört yüz seksen altı bin sekiz yüz iki" dir

1. Buna göre "A+B+C" toplamı kaçtır?

- A) 12
- B) 13
- C) 14
- D) 15



2. Yukarıda abakütle modellenen sayının yüzbinler basamağındaki rakamın sayı değeri kaçtır?

- A) 20
- B) 3000
- C) 60000
- D) 400000

Tavuk	Koyun	İnek	Kedi
4300	4400	4500	4600

3. Hangi hayvanın kutusunda 4452 sayısının en yakın yüzlüğe yuvarlanmış hali bulunmaktadır?

- A) Tavuk
- B) Koyun
- C) İnek
- D) Kedi

20105	21009	23985	20015
R	I	S	A

4. Yukarıdaki sayılar büyükten küçüğe doğru sıralanırsa hangi sözcük oluşur?

- A) SARI
- B) SIRA
- C) ASIR
- D) ASRI

MATEMATİK TESTİ

$$100 > \blacksquare + 38$$

5. Yukarıdaki verilen bilgiye göre \blacksquare yerine yazılabilecek en büyük sayı kaçtır?

- A) 60
- B) 61
- C) 62
- D) 63

84	78	72	66	60
----	----	----	----	----

Yukarıdaki sayılar belli bir kurala göre dizilmiştir.

6. Aşağıdaki örüntülerden hangisi aynı kurala göre dizilmiştir?

- A) 54-48-50-44-46
- B) 96-90-85-81-78
- C) 35-41-47-53-59
- D) 63-57-51-45-39




1 2042 + 3459 -----	2 3015 + 2486 -----
3 3208 + 2303 -----	4 4042 + 1459 -----

Erdem pencerelerde yazılı toplama işlemlerinden sonucu farklı olan pencereyi açacaktır.

7. Buna göre Erdem kaç numaralı pencereyi açmalıdır?

- A) 1
- B) 2
- C) 3
- D) 4




Boş ağırlık
1987 kg

Sebzelerin ağırlığı
9008 kg

8. Yukarıda verilen bilgilere göre kamyonun toplam ağırlığı ne kadardır?

- A) 10995
- B) 8021
- C) 10895
- D) 7021

MATEMATİK TESTİ



Ankara'da bulunan 4. sınıf öğrencilerinin 2586 tanesi futbol, 3504 tanesi basketbol, 2014 tanesi ise voleybol lisansına sahiptir.

9. Buna göre Ankara'da futbol, basketbol ve voleybol lisansı olan kaç 4. sınıf öğrencisi vardır?

- A) 7014
- B) 8104
- C) 8014
- D) 9014



10. Yukarıdaki rakamlar birer kez kullanılarak yazılabilecek dört basamaklı en büyük tek sayı ile en küçük çift sayının toplamı kaçtır?

- A) 9687
- B) 9383
- C) 8283
- D) 8094

FEN BİLİMLERİ TESTİ

Maden

Kayaçları oluşturan ana maddedir.

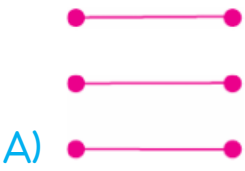
Kayaç

Yer kabuğu ondan oluşur

Mineral

Ekonomik değeri olan minerallerdir.

1. Yukarıdaki kavram ve özellikleri eşleştirildiğinde oluşacak şekil aşağıdakilerden hangisidir?



"..... nesli tükenmiş canlılar hakkında bilgi sahibi olmamızı sağlar."

2. Yukarıdaki cümlede noktalı yere hangisi gelmelidir?

A) Yer kabuğu

B) Fosiller

C) Madenler

D) Kayaçlar



3. Aşağıdakilerden hangisi Dünya'nın yukarıdaki hareketinin sonucudur?

A) Mevsimler

B) Yıl

C) Gece-gündüz

D) Aylar

4. Aşağıdakilerden hangisi fosilleşme sonucu oluşan bir yakıt değildir?

A) Kömür

B) Petrol

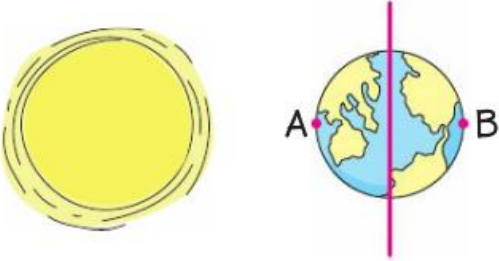
C) Doğalgaz

D) Mangal Kömürü

FEN BİLİMLERİ TESTİ

5. Dünya Güneş etrafında daha hızlı dönseydi aşağıdakilerden hangisi olurdu?

- A) Bir yıl denilen süre kısalırdı.
- B) Günler uzardı.
- C) Sıcaklık artardı.
- D) Mevsimler çoğalırdı



6. Görselle ilgili aşağıdakilerden hangisine ulaşılabilir?

- A) A noktasında gece yaşanmaktadır.
- B) B noktasında gündüz yaşanmaktadır.
- C) A noktasında gündüz yaşanmaktadır.
- D) A noktasından mevsim kıştır.

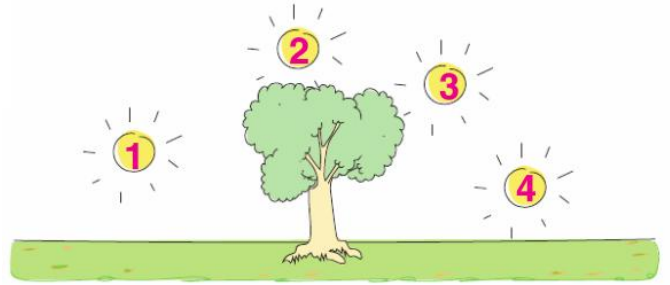


Dünya'mızın Hareketleri

Eda Dünya'nın hareketleri hakkında arkadaşlarına bilgi vermektedir.

7. Hangi bilgiyi verirken yanlışlık yapmıştır?

- A) Dünya, Güneş etrafında dolanım hareketi yapar.
- B) Dünya kendi etrafında dönme hareketi yapar.
- C) Dünya'nın kendi etrafında dönmesi ile gece gündüz oluşur.
- D) Ay'ın Dünya'nın çevresinde dolanması ile mevsimler oluşur.



8. Güneş kaç numaralı yerdeyken ağacın gölgesi en kısadır?

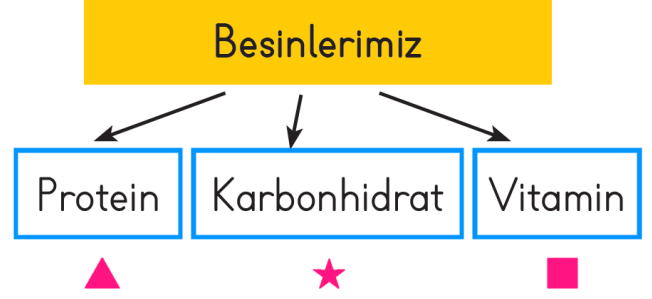
- A) 1
- B) 2
- C) 3
- D) 4

FEN BİLİMLERİ TESTİ

(1) Vücudumuzun ihtiyaç duyduğu besin maddelerinin yeteri kadar ve belirli aralıklarla tüketilmesine dengeli beslenme denir. (2) Dengeli beslenirken bazı şeylere dikkat etmemiz gerekir. (3) Karbonhidrat, yağ ve proteinler; mineral ve vitaminlere göre daha az tüketilmelidir. (4) Beslenirken su içmeyi ihmal etmemeliyiz. (5) Yaklaşık olarak günde 8 bardak su içmeliyiz; eğer hava sıcaklığı artarsa içilen su miktarını azaltmalıyız.

9. Yukarıdaki metinde kaç numaralı ifadeler hatalıdır?

- A) 1-2
- B) 2-3
- C) 3-5
- D) 2-4



10. Semboller yerine aşağıdaki besinlerden hangileri gelebilir?

- | | | | |
|----|------------|-------|--------|
| | ▲ | ■ | ★ |
| A) | Marul | Havuç | Ekmek |
| B) | Kırmızı et | Elma | Bal |
| C) | Portakal | Tavuk | Fındık |
| D) | Ceviz | Balık | Yoğurt |

"Öğretmenimiz sınıfta herkese söz hakkı veriyor. Panoya asılacak resimlere bizim karar vermemizi istiyor."



1. Öğretmenimizin bu davranışı aşağıdakilerden hangisine örnektir?

- A) Kız öğrencilere öncelik vermeye.
- B) Öğrenciler arasında ayrımcılık yapmamaya.
- C) Yetenekli öğrencileri ödüllendirmeye.
- D) Öğrencileri planlı olmaya özendirilmeye.

- I. Olaylar karşısında empati kurar.
- II. Kırıcı olmamaya özen gösterir.
- III. Farklı düşüncelere saygılı olur.
- IV. Sinirlendiğinde sert tepki verir.

2. Hoşgörülü bir insan yukarıdakilerden hangisini yapmaz?

- A) I
- B) II
- C) III
- D) IV

Serhat sokakta yürürken arkasından kendisine bir kişi çarpar. Sinirli bir şekilde arkasına döndüğünde kendisine çarpan kişinin görme özürülü bir vatandaş olduğunu fark eder.

3. Serhat belirtilen durumlarda sırasıyla hangi duyguları yaşamıştır?

- A) öfke - utanma
- B) üzüntü - acıma
- C) acıma - öfke
- D) endişe - suçluluk

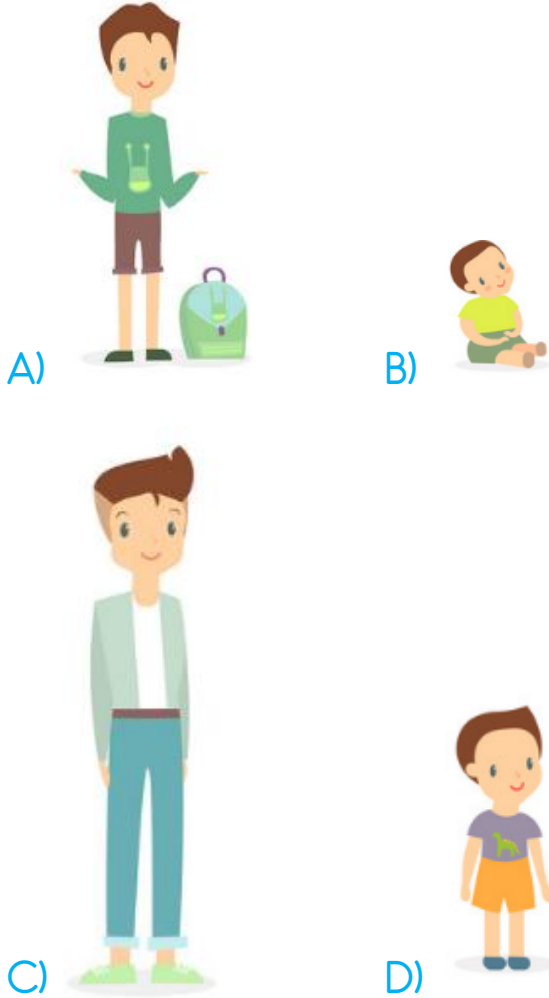
4. Çok istediği hâlde okulun masa tenisi takımına seçilemeyen hangi öğrencinin düşüncesi doğrudur?

- A) Çağdaş bir daha seçmelere katılmamayı düşünüyor.
- B) Erva seçilen arkadaşlarıyla konuşmamayı düşünüyor
- C) Eslem çok çalışıp bir sonraki yıl yeniden katılmayı düşünüyor.
- D) Sude spor yapmaktan vazgeçmeyi düşünüyor.

SOSYAL BİLGİLER TESTİ



5. 2005 yılında doğan Sarp , kronolojik sıralamada çiçekle gösterilmiş tarihte aşağıdaki görüntülerden hangisine sahiptir?



6. Aile geçmişini araştıran Mehmet aşağıdakilerin hangisinden fazla bir yardım alamaz?

- A) kardeşi
- B) babası
- C) dedesi
- D) halası



Raket turma konusunda farklı teknikler geliştirmeliyim.



Daha fazla üçlük sayı atmak için çok çalışmalıyım.



Bu hızlı kulaçlarımla beni kimse geçemez.

7. Aşağıda ilgi alanlarından hangisi Gülsüm, Mert ve Sena'ya ait değildir?

- A) Yüzme
- B) Kayak
- C) Basketbol
- D) Tenis

SOSYAL BİLGİLER TESTİ



Seda aile tarihini öğrenmek için dedesine sorular sorar.

8. Seda dedesiyle yapacağı görüşmede, aşağıdaki sorulardan hangisini sormaz?

- A) Gençliğinizde ne iş yapardınız?
- B) Çocukluğunuzda oynadığınız oyunlar nelerdir?
- C) En çok sevdiğiniz akrabanız kimdir?
- D) Soyadımızın anlamı nedir?

9. Aşağıdakilerden hangisi yanlış bir düşüncedir?
- A) Olayları empatik düşünebilmek.
 - B) Bizden farklı düşünenlere saygı duymak.
 - C) Kendimizi başkalarının yerine koymak
 - D) Ülkemize sığınan insanları dışlamak



10. Yukarıdakilerden kaç tanesi milli kültür öğelerimizdendir?

- A) 1
- B) 2
- C) 3
- D) 4



İNGİLİZCE TESTİ



It is a

1. Yukarıdaki boşluğa hangi kelime gelmelidir?

- A) eraser B) book
C) desk D) pencil



Open the



2. Yukarıdaki boşluğa hangi kelime gelmelidir?

- A) Door B) desk
C) Window D) chair

$$\begin{array}{c} \text{23} \\ \text{★} \end{array} + \begin{array}{c} \text{18} \\ \text{★} \end{array} = ?$$

3. Yukarıdaki boşluğa işlemin sonucu kaçtır?

- A) thirty five
B) forty two
C) forty one
D) thirty e



He is from

4. Yukarıdaki boşluğa hangi kelime gelmelidir?

- A) Italy B) Spain
C) Germany D) Japan



It is a

5. Yukarıdaki boşluğa hangi kelime gelmelidir?

- A) book B) table
C) desk D) ruler

Sevgili ÖĞRETMEN ve VELİLERİMİZ;
Deneme Sınavına Teşekkür Mahiyetinde
Sosyal Medya Hesaplarımızı Beğenirseniz
Çok Mutlu Oluruz.

Aşağıdaki Linklerden Bizlere Ulaşabilirsiniz.

www.ilkokulevim.com

www.instagram.com/ilkokulevim

www.facebook.com/ilkokulevim

www.facebook.com/groups/272489210266407/

t.me/ilkokulevim

CEVAP ANAHTARI

TÜRKÇE	MATEMATİK	FEN BİLİMLERİ	SOSYAL BİLGİLER	İNGİLİZCE
1-A	1-C	1-B	1-B	1-A
2-C	2-D	2-B	2-D	2-C
3-B	3-C	3-C	3-A	3-C
4-B	4-B	4-D	4-C	4-A
5-C	5-B	5-A	5-A	5-B
6-C	6-D	6-C	6-A	
7-B	7-C	7-D	7-B	
8-C	8-A	8-B	8-C	
9-D	9-B	9-C	9-D	
10-A	10-C	10-B	10-C	