

# Konu 1-4 Ritmik Saymalar

## Kazanım

100 içinde ikişer ve beşer, onar  
30 içinde üçer, 40 içinde dörder  
ileriye ve geriye doğru sayar.

### 100 İçinde 2'şer Ritmik Saymalar

1. Aşağıdaki yüzlük tabloyu inceleyiniz. Yeşil renkli karelerdeki sayıları 2'den başlayıp sıra ile sayınız ve sağındaki sarı renkli dairelerden boş olanları doldurunuz.



1	2	3	4	5	6	7	8	9	10
11	12	13	14	15	16	17	18	19	20
21	22	23	24	25	26	27	28	29	30
31	32	33	34	35	36	37	38	39	40
41	42	43	44	45	46	47	48	49	50
51	52	53	54	55	56	57	58	59	60
61	62	63	64	65	66	67	68	69	70
71	72	73	74	75	76	77	78	79	80
81	82	83	84	85	86	87	88	89	90
91	92	93	94	95	96	97	98	99	100

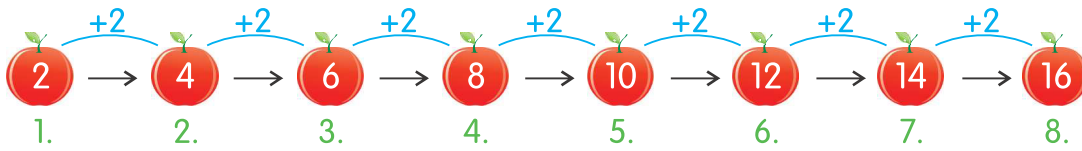
2		6		10		14		18	
22		26		30		34		38	
42		46		50		54		58	
62		66		70		74		78	
82		86		90		94		98	



### Prof. Mati'nin Bilgi Kutusu

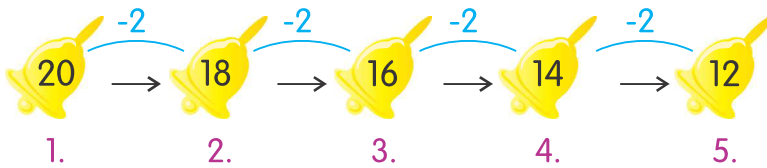
Belirli bir düzen içinde yapılan saymalara **ritmik sayma** denir. 2, 4, 6, 8, 10 ... gibi

2. 2'den başlayarak ikişer ritmik sayalım. Sekizinci saymada hangi sayıyı söyleriz?



Sekizinci saymada 16 sayısını söyleriz.

3. 20'den geriye doğru ikişer ritmik sayalım. Beşinci saymada hangi sayıyı söyleriz?



Beşinci saymada 12 sayısını söyleriz.



### Önemli

İleriye doğru ritmik saymalar toplama işlemidir. Geriye doğru ritmik saymalar çıkarma işlemidir.

**Uygulama**

1. Aşağıdaki ritmik saymaları, 100'lük tablodan yararlanarak tamamlayınız.

2	4	6			12				20			26
		32	34				42	44				52
			60			66				74		
	82			88						100		

2. Sayı doğrusu üzerinde ikişer ritmik sayarak oklarla ilerleyiniz.



3. Aşağıda verilen sayılardan belirtilen sayılara kadar ikişer ritmik sayıp boşlukları doldurunuz.

14	16	18	...	...	24	26	28	...	...	...	...	...	40
8	10	...	...	...	...	20	...	...	26	...	...	...	34
22	24	...	...	...	...	34	36	...	...	...	...	...	48

4. Aşağıda verilen sayılardan başlayıp belirtilen sayılara kadar geriye doğru ikişer ritmik yazınız.

36	34	32	...	...	...	24	...	...	18	16	...	12
52	50	...	...	44	...	...	38	...	...	...	...	28

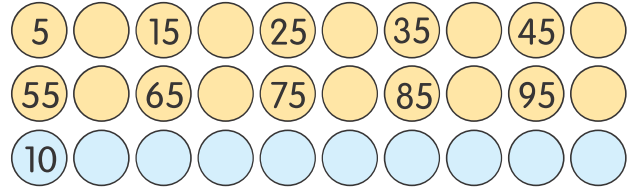
# 1. FASİKÜL Doğal Sayılar

## 100 İçinde 5 Şer ve 10 Ar Ritmik Sayma

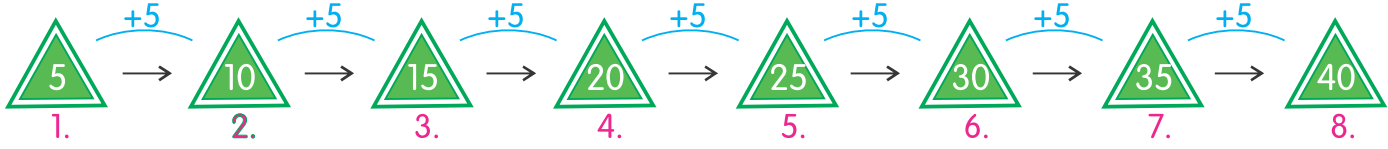
1.

Aşağıdaki yüzlük tabloyu inceleyiniz. 5 er 5 er ve 10 ar 10 ar sayınız. Yandaki sarı ve mavi daireleri doldurunuz.

1	2	3	4	5	6	7	8	9	10
11	12	13	14	15	16	17	18	19	20
21	22	23	24	25	26	27	28	29	30
31	32	33	34	35	36	37	38	39	40
41	42	43	44	45	46	47	48	49	50
51	52	53	54	55	56	57	58	59	60
61	62	63	64	65	66	67	68	69	70
71	72	73	74	75	76	77	78	79	80
81	82	83	84	85	86	87	88	89	90
91	92	93	94	95	96	97	98	99	100




2. 5'ten başlayarak beşer ritmik sayalım. Sekizinci saymada hangi sayıyı söyleriz?



Beşer beşer sayarken sekizinci saymada 40 sayısını söyleriz.

3. 50'den başlayarak beşer ritmik sayalım. Onuncu saymada hangi sayıyı söyleriz?



Onuncu saymada 95 sayısını söyleriz.

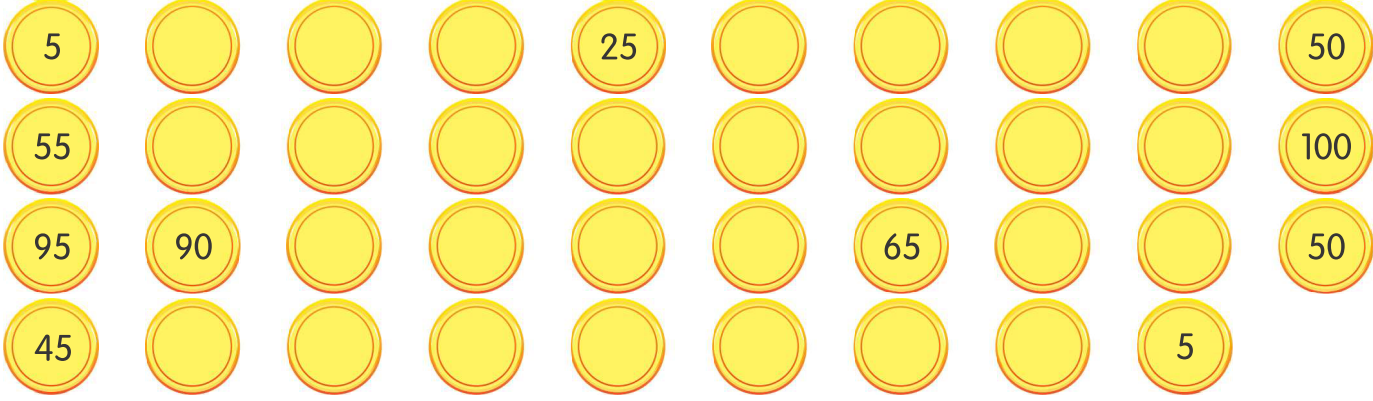
4. 100'den geriye doğru 10 ar ritmik sayalım. Altıncı saymada hangi sayıyı söyleriz?



Altıncı saymada 50 sayısını söyleriz.

**Uygulama**


1. Aşağıdaki ritmik saymaları 100'lük tablodan yararlanarak, hem ileriye hem de geriye doğru tamamlayınız.



2.



Aşağıdaki 1 ve 2 numaralı yavru kuşlar annelerini aramaktadırlar. Kuşları annelerine ulaştırmanız istenmektedir. Bunun için 1 nolu kuşun yanındaki buluttan başlayıp 2 şer 2 şer geriye doğru saymanız ve 2 nolu kuşun yanındaki buluttan başlayıp geriye doğru 5 er 5 er saymanız yeterli olacaktır. Anne kuşlar, yardımlarınız için şimdiden teşekkür ediyorlar.



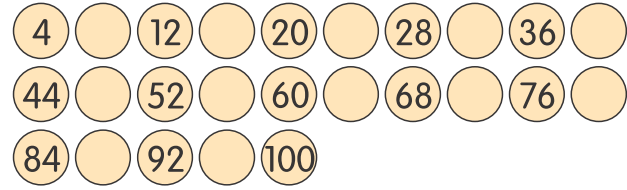
## 1. FASİKÜL Doğal Sayılar

### 100 İçinde 4'er Ritmik Sayma

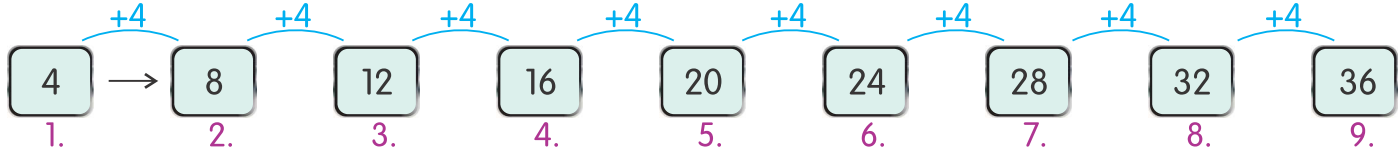
Aşağıdaki yüzlük tabloyu inceleyiniz. Kırmızı renkteki sayıları 4'ten başlayarak 100'e kadar sıra ile sayınız. Sonra da yanındaki dairelerden boş olanları tamamlayınız.

1.

1	2	3	4	5	6	7	8	9	10
11	12	13	14	15	16	17	18	19	20
21	22	23	24	25	26	27	28	29	30
31	32	33	34	35	36	37	38	39	40
41	42	43	44	45	46	47	48	49	50
51	52	53	54	55	56	57	58	59	60
61	62	63	64	65	66	67	68	69	70
71	72	73	74	75	76	77	78	79	80
81	82	83	84	85	86	87	88	89	90
91	92	93	94	95	96	97	98	99	100



2. 4'ten başlayarak dörder ritmik sayalım. Dokuzuncu saymada hangi sayıyı söyleriz?



Dokuzuncu saymada 36 sayısını söyleriz.

3. 26'dan başlayıp 4'er 4'er ritmik sayalım. 7. saymada hangi sayıyı söyleriz?



Yedinci saymada 50 sayısını söyleriz.

4. 40'tan geriye dörder ritmik sayalım. Yedinci saymada hangi sayıyı söyleriz?



Yedinci saymada 16 sayısını söyleriz.

**Uygulama**

1.



Sevimli palyaço, bahçesinin duvarının her bir sırasına 4 er ritmik sayma yazarak boyamış. Fakat yaramaz bir kedi, duvardaki sayıların bazılarını basmış. Bu sayılar okunmuyor. Okunmayan yerleri düzelterek palyaçoya yardım ediniz. Boş olan yerleri tamamlayınız.

1	5		13						
5		13		21			33		
21		29			41		49	53	57
28			40			52			64
41		49		57			69		
42			54	58	62			74	
2	6					26	30		38
27		35							
60			72						96
34	38			50			62		70

2. Aşağıdaki dörder ritmik saymalarda verilmeyen sayıları yazınız.

8	12	16					36				52
44	48			60						84	

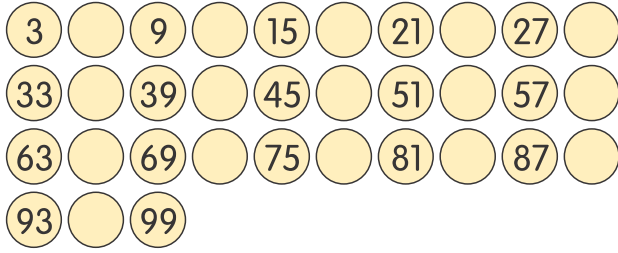
3. Aşağıda verilen sayılardan başlayıp belirtilen sayılara kadar geriye doğru dörder ritmik yazınız.

40									8
96									64

# 1. FASİKÜL Doğal Sayılar

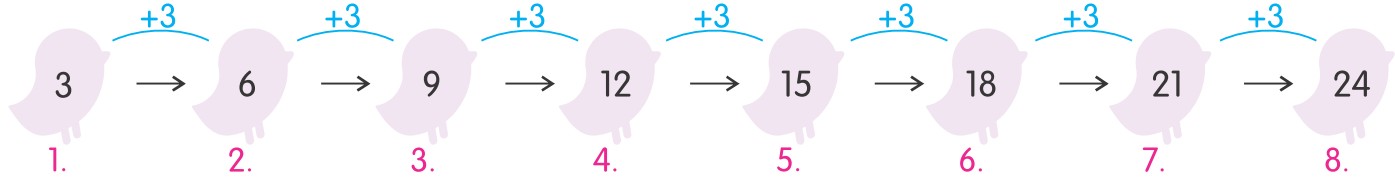
## 100 İçinde 3 er Ritmik Sayma

1. Yandaki yüzlük tabloyu inceleyiniz. Kırmızı renkteki sayıları 3'ten başlayıp 99'a kadar sıra ile sayınız. Sonra da aşağıda sarı renkli dairelerdeki eksik sayıları yazınız.



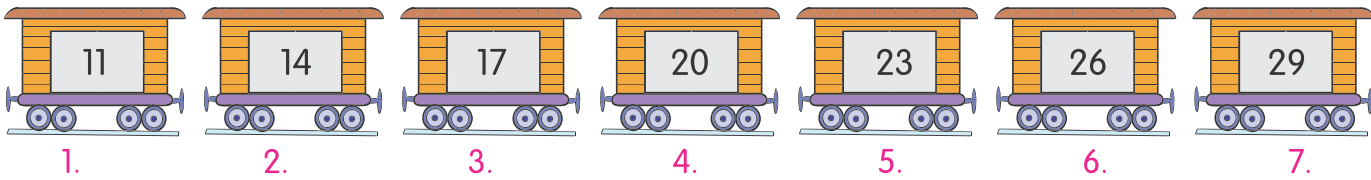
1	2	3	4	5	6	7	8	9	10
11	12	13	14	15	16	17	18	19	20
21	22	23	24	25	26	27	28	29	30
31	32	33	34	35	36	37	38	39	40
41	42	43	44	45	46	47	48	49	50
51	52	53	54	55	56	57	58	59	60
61	62	63	64	65	66	67	68	69	70
71	72	73	74	75	76	77	78	79	80
81	82	83	84	85	86	87	88	89	90
91	92	93	94	95	96	97	98	99	100

2. 3'ten başlayarak üçer ritmik sayalım. Sekizinci saymada hangi sayıyı söyleriz?



Sekizinci saymada 24 sayısını söyleriz.

3. 11'den başlayıp 3 er ritmik sayalım. Yedinci saymada hangi sayıyı söyleriz?



Yedinci saymada 29 sayısını söyleriz.

4. 37'den geriye üçer ritmik sayalım. Yedinci saymada hangi sayıyı söyleriz?



Yedinci saymada 19 sayısını söyleriz.

**Sıra Sende**

1. Yandaki 100'lük tabloda 6'dan başlayarak ikişer ritmik sayınız. Saydığınız yerleri boyayarak aşağıdaki boşluğa yazınız.

6									
									100

1	2	3	4	5	6	7	8	9	10
11	12	13	14	15	16	17	18	19	20
21	22	23	24	25	26	27	28	29	30
31	32	33	34	35	36	37	38	39	40
41	42	43	44	45	46	47	48	49	50
51	52	53	54	55	56	57	58	59	60
61	62	63	64	65	66	67	68	69	70
71	72	73	74	75	76	77	78	79	80
81	82	83	84	85	86	87	88	89	90
91	92	93	94	95	96	97	98	99	100

2. 86'dan geriye doğru 2 şer ritmik sayma yapınız. Sonra da altındaki soruları cevaplayınız.



3. sayı kaçtır? ..... 6. sayı kaçtır?..... 12. sayı kaçtır? .....  
13. sayı kaçtır? ..... 16. sayı kaçtır?..... 18. sayı kaçtır? .....

3. 5 er 5 er, 100'e kadar sayma yaparak, yıldızların içine yazınız.



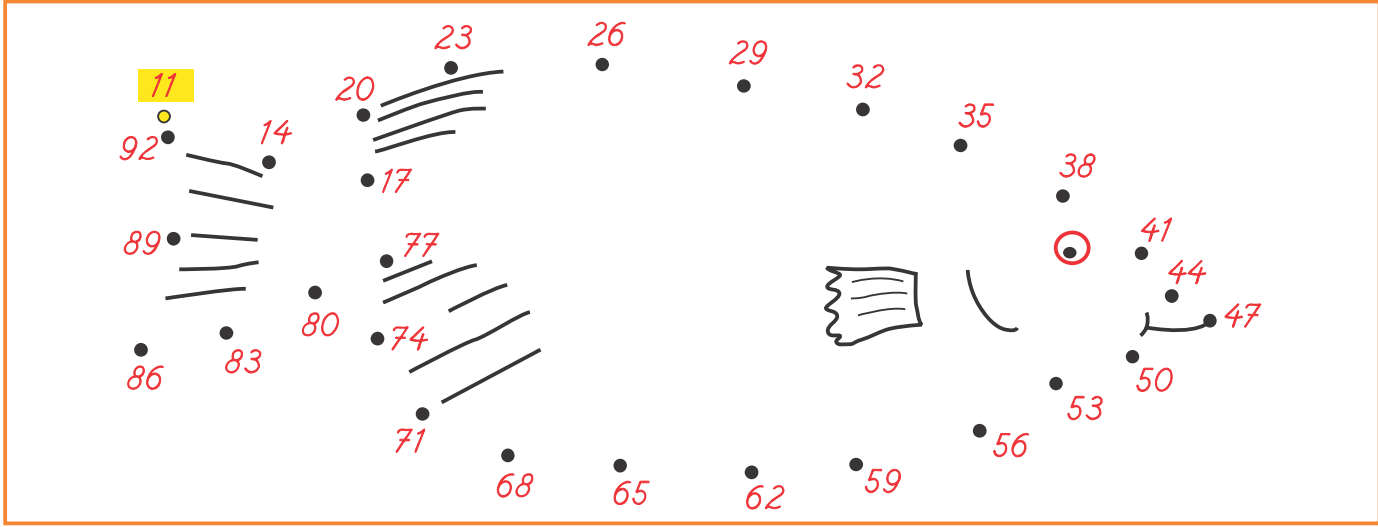
4. Aşağıdaki ritmik saymada verilmeyen sayıları yazınız.





Sıra Sende

5. Aşağıdaki resimde işaretli yerden başlayınız ve 3 er 3 er ritmik sayıp noktaları birleştiriniz. Tamamlanan resmi istediğiniz renge boyayınız.



6. Anne geyiğin yolu üzerindeki 14 sayısından başlayıp 5 er ritmik sayma yapıp anne geyiği yavrusuna ulaştırınız. Daha sonra da anne tilkinin yolu üzerindeki 41 sayısından başlayıp 3 er ritmik sayma yapıp anne tilkiyi yavrusuna ulaştırınız.

