

3.SINIF

ARA TATİL

DEĞERLENDİRME SINAVI

www.ilkokulevim.com





ORMAN

Hem yuvayım kuşlara,
Temiz hava insanlara,
Doyamazsın bakmaya,
Yeşilin her tonu burada.

Kirletip üzme beni,
Temiz tut hep çevreni,
Belki tekrar gelirsin,
Gölgede eğlenirsin.

1. ve 2. soruları metne göre cevaplayalım.

1- Şiirde aşağıdakilerden hangisinden bahsedilmemiştir?

- A) Ormanların yararlarından
- B) Ormanların temiz tutulması gerektiğinden
- C) Ormandaki hayvan türlerinden

2- Şiirde ormanların hangi yararından bahsedilmemiştir?

- A) Havayı temizlemesi
- B) Toprak kaymasını önlemesi
- C) Kuşlara yuva olması

“Satır sonuna sığmayan sözcükler nasıl bölünür?” konusunu anlatan Serap Öğretmen ayrıca şu bilgileri de tahtaya yazmıştır.

- Satır sonuna kısa çizgi (-) konur.
- Satır sonunda kesme işareti (‘) gelince kısa çizgi (-) konmaz.
- Satır sonunda tek harfli hece bırakılmaz.

3- Buna göre aşağıdaki öğrencilerden hangisinin konuyu anlayamadığını söyleyebiliriz?

A)



.....Ayşe'
nin.....

B)



.....bilgi-
sayar.....

C)




.....a-
kılı






Arda yandaki 3 kitabı isimlerine bakarak alfabe sırasına göre sıralayıp kitaplıktaki rafa dizecektir. Kitaplarla ilgili bilinenler şunlardır:

 Arda'nın yeşil kitabının ismi ilk hecesi "pan" olan bir hayvan adı ile başlamaktadır.

 Arda'nın kırmızı kitabının ismi ilk harfi "s" ikinci harfi "r" olan bir renk ile başlamaktadır.

 Arda'nın mavi kitabının ismi ilk harfi "m" , son harfi "r" olan bir gezegen adıdır.

4- Buna göre Arda kitapları rafa nasıl dizmelidir?

- A) kırmızı-yeşil-mavi
- B) mavi-yeşil-kırmızı
- C) yeşil-mavi-kırmızı



Öğretmeni Ayşe'ye kurduğu cümlenin kurallı bir cümle olmadığını söylemiştir.

5- Buna göre Ayşe aşağıdaki cümlelerden hangisini kurmuş olamaz?

- A) Ödevlerimi unuttuğum için evde getiremedim bugün.
- B) Getiremedim bugün ödevlerimi evde unuttuğum için.
- C) Ödevlerimi evde unuttuğum için bugün getiremedim.



Ezgi ve Kayra okula başladıkları günden beri hep öğretmenlerinden söz ediyorlardı. Hiç durmadan evdeki aile bireylerine öğretmenlerinin öğrettiği bilgileri, yaptığı etkinliklerle onları ne kadar çok eğlendirdiklerinden söz ediyorlardı.

6- Yukarıdaki metin için aşağıdaki deyimlerden hangisi uygun olur?

- A) Dilinden düşürmemek
- B) Kulak kabartmak
- C) Temize çekmek



Selim bir bilmece kitabı aldı () Bana yeni öğrendiği bir bilmeceyi sordu ()
Dama çıkan file ne denir ()
Dikkaattt () Cevap geliyor ()

7- Bu paragrafta yay ayrıçla () belirtilen yerlere gelmesi gereken noktalama işaretleri hangi seçenekte verilmiştir?

- A) (.) (?) (?) (!) (!)
- B) (.) (.) (?) (!) (.)
- C) (.) (.) (?) (!) (?)






“Haydi Bul Cümleyi” adlı yarışma programında sunucu yarışmacılardan verilen kurallara göre cümle yazmalarını istiyor.

HAYDİ BUL CÜMLEYİ



1. Toplam 9 kelimedenden oluşmalı.
2. Cümlede zıt anlamlı kelimeler bir arada bulunmalı
3. Cümlede varlığın özelliğini belirten sözcük bulunmalı

8- Buna göre hangi yarışmacı , sunucunun isteğine uygun bir cümle yazmıştır?

- A)  Ahmet'in yeni yaptığı kırmızı oyuncak araba çok hoşuma gitti.
- B)  Beşiktaşlı futbolcular yeni stadyumlarında maça siyah beyaz formalarıyla çıktılar.
- C)  Komşumuz Murat Usta masa ile pencere arasındaki boşluğu metreyle ölçtü.



Öğretmenleri Feyza, Derya, Kayra ve Arda'dan birer cümle kurmalarını istemiştir. Öğrencilerin kurduğu cümleler şu şekildedir:

1. Bari bende seninle geleyim.
2. Konya'ya ne zaman gideceksiniz?
3. Bugünkü maçta hiç gol atamadım.
4. Çok sevdiğim çizgi filmi seyrettim bugün.

- Aralarında soru cümlesi kuran tek öğrenci Kayra'dır.
- İlk harfi ünlüyle başlayan öğrenci kurallı cümle kurmamıştır.
- İstek cümlesi kuran öğrenci Derya değildir.

9. ve 10. soruları metne göre cevaplayalım.

9- Olumsuz cümleyi kuran öğrenci aşağıdakilerden hangisidir?

- A) Feyza
- B) Arda
- C) Derya

10- Feyza'nın kurmuş olduğu cümle aşağıdakilerden hangisidir?

- A) Bari bende seninle geleyim.
- B) Bugünkü maçta hiç gol atamadım.
- C) Çok sevdiğim çizgi filmi seyrettim bugün.



Esmâ Hanım bir bilgi yarışmasına katılmış ve ilk 5 soru sonucunda aşağıdaki puan durumu oluşmuştur.




1- Yarışmada 15 soru sorulmakta olup her soru 10 puan değerinde olduğuna göre Esmâ Hanım yarışmayı en çok kaç puanla tamamlayabilir?

A) 150

B) 120

C) 100



Yandaki matematik oyununda verilen rakamlar kullanılarak üç basamaklı en büyük ve en küçük sayı yazılacaktır.

2- Bu iki sayının toplamının sonucu kaç eder?

A) 532

B) 678

C) 735



Yasemin, Özer ve Gözde akıllarından tuttıkları üç basamaklı sayı ile ilgili aşağıdaki ipuçlarını vermişlerdir:



Yasemin: Sayının birler basamağı 8 ve en yakın onluğu 240'tır.



Özer: Sayının birler basamağı 4 ve en yakın onluğu 240'tır.



Gözde: Sayının birler basamağı 5 ve en yakın onluğu 240'tır.

3 ve 4. Soruları yukarıda verilen bilgilere göre cevaplayınız.

3- Verilen bilgilere göre sayıları küçükten büyüğe doğru sıralarsak ikinci sırada bulunan sayı hangisi olur?

A) 244

B) 245

C) 238


4- Verilen bilgilere göre en büyük sayı ile en küçük sayının toplamı kaç eder?

A) 473

B) 479

C) 472





Teraziye 3 adet yumurta kolisi yerleştirilmiş ve toplam ağırlığı 900 gram gelmiştir. Her kolide 10 adet yumurta bulunmaktadır. Tüm yumurtaların ağırlığı birbirine eşittir. Boş yumurta kolisinin ağırlığı ise 100 gram gelmektedir.

5- Buna göre 20 adet yumurtanın ağırlığı kaç gramdır?

- A) 600
- B) 500
- C) 400



Portakal Suyu 6 TL

Çay 2 TL

Limonata 4 TL

Gazoz 5 TL

Bir kafede yukarıdaki dört ürünün satışından bir günde toplam 864 TL gelir elde edilmiştir.

6- Bu gelirin $\frac{2}{8}$ 'i limonatadan elde edildiğine göre kaç bardak limonata satılmıştır?

- A) 54
- B) 78
- C) 108



Aras, Yunus ve Gökhan adında üç arkadaşın yaşları hakkında şunlar bilinmektedir:

- Aras doğduğunda Yunus 2 yaşındadır.
- Yunus doğduğunda ise Gökhan 3 yaşındadır

7- Aras şuan 7 yaşında olduğuna göre üçünün yaşları toplamı kaçtır ?


- A) 28
- B) 24
- C) 21



Pazartesi günü bir miktar soru çözdüm. 59 soru daha çözmüş olsaydım salı günü çözdüklerimden 28 soru daha fazla çözmüş olacaktım.

8- Salı günü 265 soru çözdüğüme göre pazartesi günü çözdüğüm soru sayısı kaçtır?

- A) 293
- B) 234
- C) 206



Musa Amca tarlasından topladığı domatesleri evine getirmiştir. Bir kasa 28 kg domates almaktadır ve tarladan 34 kasa domates getirilmiştir.

9- Bu domateslerin $\frac{3}{7}$ 'si salça yapılacağına göre geriye ne kadar domates kalır?

A) 408

B) 496

C) 544



Mert yaz tatilinde manav olan amcasının yanında çalışmıştır. Mert hafta içi çalışıp, hafta sonları ise tatil yapmıştır. Mert çalıştığı her gün için 20 TL para alırken hafta sonu 45 TL harcamıştır.

10- Buna Mert 4 haftada toplam kaç TL para biriktirir?




A) 220

B) 320

C) 400



1- Aşağıdaki öğrencilerden hangisi yanlış bilgi vermiştir?

- A)  Bir sesi duyabilmemiz sesin şiddetine bağlıdır.
- B)  Yıldızlar doğal ışık kaynağına örnektir.
- C)  İnsanların işitme duyusu tüm canlılardan daha çok gelişmiştir.



Akıcıdır.



Belirli bir şekli yoktur.



Dışarıdan etki olmadıkça şekli değişmez.

2- Yukarıda verilen bilgilerin kaç tanesi katıların özelliğini belirtmektedir?

- A) 1
- B) 2
- C) 3



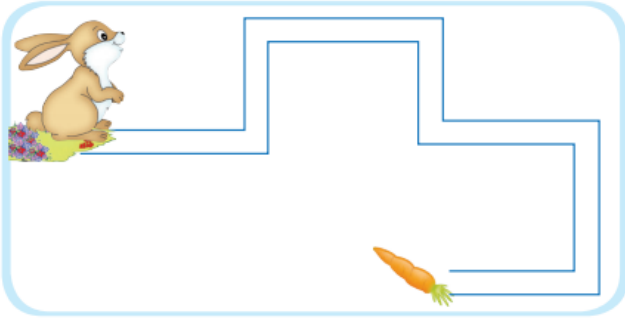
Tuğla, sert olduğu için bina yapımında kullanılır.

Cam, ışık girsin diye pencerelerde kullanılır.

Yaylar, esnek oldukları için araçlarda kullanılır.

3- Verilen bilgi ve örneklere göre hangi sonuca ulaşamaz?

- A) Maddeler farklı özelliklere sahiptir.
- B) Maddeler, özelliklerine göre farklı alanlarda kullanılır.
- C) Sağlam ve sert maddeler her alanda kullanılabilir.



Tavşanımız Boncuk şeklindeki yolu izleyerek havuca ulaşacaktır.

4- Boncuk kaç kere yön değiştirir?

- A) 7
- B) 6
- C) 5



5- Yukarıdaki şemada “?” olan yere hangi konu başlığı yazılmalıdır?

- A) Kuvvet Nedir?
- B) Hareketin Sonuçları
- C) Kuvvetin Etkileri



Aşağıda, 3 kişinin eşit zamanda aldıkları yollar kırmızı çizgilerle gösterilmiştir.

Metin :



Kerem :



Okan :



6- Buna göre, bu kişilerin en hızlıdan en yavaşa doğru sıralanması nasıl olmalıdır?

A) Metin-Okan-Kerem

B) Kerem-Metin-Okan

C) Kerem-Okan-Metin

Tablodaki ifadelerin doğru olanlarına "D", yanlış olanlarına "Y" harfi yazılacaktır.

Gözlerimiz fazla ışıktta daha rahat ve daha net görür.

Yapay ışık kaynakları kendiliğinden ışık yayar.

Ses, cisimlerin titreşimi sonucunda oluşur.

7- Yukarıdaki şemada "?" olan yere hangi konu başlığı yazılmalıdır?

A)

Y
Y
D

B)

D
Y
D

C)

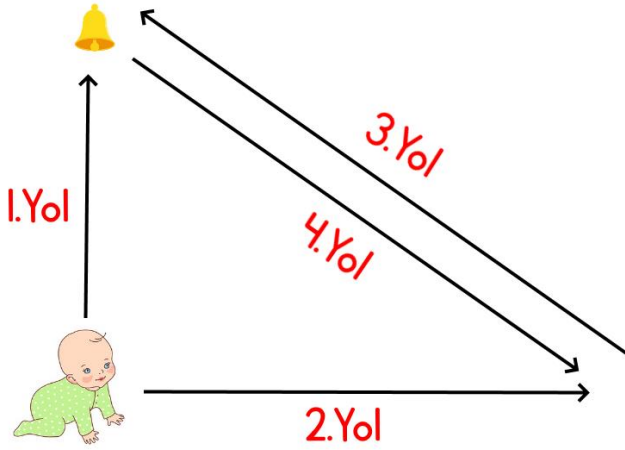
D
D
Y



- I. Kuzu sesi
- II. Televizyondaki müzik sesi
- III. Uçak sesi
- IV. Ağlayan bebeğin sesi

8- Yukarıdakilerden hangileri doğal ses kaynağına örnektir?

- A) I- IV
- B) III- IV
- C) II- III



Bir bebek oda içerisinde gezerken zilin sesini duyabiliyor. Bebeğe göre zilin sesi önce azalıyor daha sonra giderek artıyor.

9- O halde bebek yukarıdaki belirtilen yollardan hangilerini sırayla kullanmıştır?

- A) I. yol - 3. yol
- B) 2.yol - 3. yol
- C) 3. yol- 4. yol



I. Sıra		II. Sıra		III. Sıra	
1	Kaya	4	Sünger	7	Ayna
2	Kitap	5	Vazo	8	Kağıt
3	Lastik	6	Silgi	9	Ağaç

Gözde her sıradan aşağıdaki kurallara uygun madde seçecektir.

- I. sıradan esnek olan maddeyi seçecektir.
- II. sıradan kırılğan olan maddeyi seçecektir.
- III. sıradan pürüzlü olan maddeyi seçecektir.

10- İstenen bilgilere göre Gözde'nin seçmiş olduğu rakamlardan hangi sayı oluşur?

- A) 359
- B) 347
- C) 258



★ Kaykayımla hız yapmayı çok severim.

▲ Topumuz yola kaçarsa, ben de hemen peşinden koşar onu alırım.

● Paten kullanırken kaskımı, dizlik ve dirsekligimi mutlaka takarım.

1- Yukarıdaki açıklamalardan hangisi ya da hangileri doğrudur?

A) Yalnız ★

B) ▲ ve ●

C) Yalnız ●



Sedef okuldan eve geldi. Her gün olduğu gibi telefonu eline aldı ve oyun oynamaya başladı. Kimse uyarırsa saatlerde telefon karşısında geçirecekti. Annesi: Her gün telefonla oynamamalısın. Sağlığın bozulacak.” diye Sedef’i uyardı.


2- Annesinin Sedef’i uyarmasının asıl sebebi aşağıdakilerden hangisidir?

A) Ailesiyle iletişimi azaldığı için

B) Derslerini ihmal ettiği için

C) Sağlığı bozulabileceği için

3- Aşağıdakilerden hangisi evimizde ya da okulumuzda karşılaşacağımız kazalardan biri değildir?





Aslı bugün okulda acil yardım durumlarında yardım alabileceği telefon numaralarını öğrendi. Aslı eve gider gitmez acil bir durumda eve gelip gelmeyeceklerini anlamak için acil yardım numarasını aradı. Kısa süre içinde acil yardım kurumundan geldiler.

4- Aslı'nın bu davranışının sonucunda aşağıdakilerden hangisi olamaz?

- A) Yardım kurumundan gelenler Aslı'ya teşekkür eder.
- B) Yardım kurumuna gereksiz ihbarda bulunmuş olur.
- C) Yardım kurumunu meşgul ettiği için ihtiyacı olanların yardım almasını engeller.



Yapılan bir araştırmaya göre ülkemizde ev kazalarının yarısına yakını 0-6 yaş grubunda bulunan çocuklar tarafından gerçekleştirildiği gözlenmiştir.

5- Buna göre 0-6 yaş grubu aralığındaki çocukların kazaya uğrama oranının yüksek olmasının sebebi aşağıdakilerden hangisi olamaz?

- A) Bu yaş grubundaki çocukların zamanlarının büyük bölümünü evde geçirmeleri
- B) Bu yaş grubundaki çocukların anne babalarının bilinçli olması
- C) Bu yaş grubundaki çocukların çok hareketli ve meraklı olmaları



Ayla, yaşadıkları sel felaketinden sonra ailesini kaybetmiş ve en yakın acil toplanma bölgesine ulaşmıştır.

6- Ayla, ailesini bulabilmek için aşağıdakilerin hangisini yaparsa daha başarılı olur?

- A) Ailesine ait iletişim bilgilerini toplanma bölgesindeki görevlilere verip onlardan yardım istemelidir.
- B) Toplanma bölgelerini tek tek gezerek ailesini aramalıdır.
- C) Toplanma bölgesindeki yaşlı kişilerden yardım istemelidir.



**Nasıl
Besleniyoruz?**

**Dikkat
Ediyor muyuz?**

7- Yukarıdaki afişte asıl belirtilmek istenen aşağıdakilerden hangisidir?

- A) Besinlerle öğün önemli değildir. Önemli olan her gün beslenmektir.
- B) Vücudun ihtiyaç duyduğu besin öğelerini dengeli şekilde alınmalıdır.
- C) Beslenme de istediğimiz her şeyi yiyebiliriz.



Satın aldığımız yiyecek ve içecekler;

- I. Katkı maddesi içermelidir.
- II. Doğal yiyecekler olmalıdır.
- III. Koruyucu maddeler eklenmiş olmalıdır.

8- Yukarıdakilerden hangisi veya hangileri sağlığımız için tehlike oluşturabilir?

- A) I ve II
- B) I ve III
- C) Yalnız II



Kalemimi kaybettiğim için yenisini aldım.



Suyum bitti ama son paramla çikolata aldım.



Çok istediğim oyuncak yerine yırtılan çantamın yenisini aldım



Kolyemin yeşilini de aldım.



Gömleğim küçülmüştü yeni bir gömlek aldım.

9- Yukarıdaki çocuklardan hangileri ihtiyaçlarına öncelik vermiştir?





Okul müdürü Selim Bey öğrencilerine şu şekilde bir konuşma yapmıştır: “Ülkemizden ve dünyadan bir çok insan , elde ettikleri başarıyı , planlı ve disiplinli çalışmalarına borçludur. Bu kişilere en güzel örnek, Ata’mızdır. Atatürk yapacağı tüm çalışmalarını önceden planlar ve özenli bir şekilde yapardı.”

10- Okul müdürü Selim Bey’in konuşmasında geçen Atatürk’ün kişisel özelliklerinden etkilenen Ömer’in nasıl davranması beklenilmez?

- A) Hafta sonu ve hafta içi yapacağı aktiviteleri plan yaparak sıralar.
- B) Yaptığı planı her gün disiplinli olarak takip eder.
- C) Zamanının çoğunu bilgisayar karşısında geçirerek ailesi ile az zaman geçirir.



I have got a blue ball and a red kite.

1- Verilen ifadeye göre hangisi Erdem'e ait değildir?



I am in the _____.

2- Verilen resme göre ifadeye uygun seçenek hangisidir?

A) playroom

B) bathroom

C) kitchen



- Where is the ship?

- It's

3- Cümledeki noktalı yere gelmesi gereken ifade hangisidir?

A) in the sea

B) on the sea

C) in the sky



I like but I like bees.

4- Görsele göre cümledeki noktalı yerlere sırasıyla gelmesi gereken sözcükler hangisidir?

- A) ladybirds / like
- B) turtles / do
- C) frogs / don't



I feel tired.

5- Verilen ifade hangi seçeneğe aittir?

