



3.SINIF

EKİM AYI SÜREÇ İZLEME SINAVI-2

Adı:.....

Soyadı:.....





BEDEN DİLİ

İlk insanlar, konuşarak anlaşmayı geliştirmeden önce beden diliyle anlaşırlardı. Beden dili insanların ilk anlaşma aracı ve ilk dili olmuştur. Beden dili aracılığıyla insanlar, duygularını, düşüncelerini, isteklerini ve ihtiyaçlarını başka insanlarla paylaşmışlardır.

(Aşağıdaki ilk iki soruyu, yukarıdaki metne göre cevaplayınız.)




1. Yukarıdaki metne göre, ilk insanlar ilk önce anlaşma yolu olarak aşağıdakilerden hangisini uyguluyorlarmış?

- A) Konuşarak anlaşırlardı.
- B) Beden diliyle anlaşırlardı.
- C) Teknolojik araçlarla iletişim kurarlardı.

2. Metnin konusu, seçeneklerde verilenlerin hangisidir?

- A) İletişim
- B) Sağlık
- C) Ulaşım

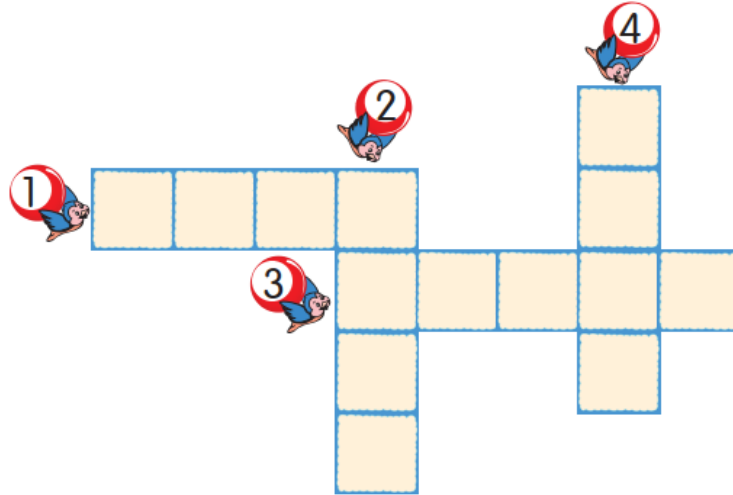
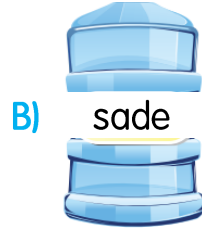
3. Hangi öğrenci cümle kurarken daha fazla hece kullanmıştır?

- A)  Annem tabaklarımızı temizlememizi istedi.
- B)  Babam, arabanın arka koltuğuna oturmamı istedi.
- C)  Halk otobüsünün arka kapısından yavaşça indik.



Ayşe, suyun içilecek durumda olduğunu göstermek amacıyla damacananın üzerine not yazmış. Sonra sözcüğün zıt anlamlısını yazdığını görmüş.

4. Buna göre, Ayşe damacanaya hangi sözcüğü yazmalıydı?



1. "Şehir" kelimesinin eş anlamlısı.
2. "Bayat" kelimesinin zıt anlamlısı.
3. "Sabah" kelimesinin zıt anlamlısı.
4. "Küçük" kelimesinin eş anlamlısı.

5. Yukarıdaki bulmaca yukarıdaki ifadelere göre doldurulduğunda, bulmacadaki numaralı yerlere hangi seçenekte verilen sözcükler yazılmalıdır?

- | 1 | 2 | 3 | 4 |
|---------|------|--------|-------|
| A) İLÇE | YENİ | GÜNDÜZ | İRİ |
| B) İL | ESKİ | GECE | BÜYÜK |
| C) KENT | TAZE | AKŞAM | UFAK |



Kişisel eşyalarımızı özenle kullanmalıyız. Başkalarına ait eşyaları izin almadan kullanmamalıyız. Onların eşyalarına da zarar vermemeliyiz. Zarar verdiğimiz eşyanın bedelini ödemeliyiz. Onların eşyalarını kendi eşyamız gibi özenle kullanmalıyız.

6. Yukarıdaki metne göre, başkalarının eşyalarını kullanma konusunda aşağıdakilerden hangisini söyleyemeyiz?

- A) Başkalarına ait eşyaları izin almadan kullanmamalıyız.
- B) Onların eşyalarını, kendi eşyamız gibi rahatlıkla kullanabilmeliyiz.
- C) Zarar verdiğimiz eşyanın bedelini ödemeliyiz.



Sağlıklı olmak için
iyi beslenmeliyiz.
Süt, yumurta, meyve
Sebze de yemeliyiz.

7. Yukarıdaki dörtlüğün konusu nedir?

- A) Sağlık
- B) Meyvelerin önemi
- C) Sporun faydaları

“Kaan, düştüğü yerden kalkamadı.”

8. Cümlesinde geçen “düş” sözcüğünün farklı anlamda kullanılışı ile ilgili cümle aşağıdakilerden hangisidir?

- A) Meyveler dallardan düştü.
- B) Hakan merdivenden düştü.
- C) Düşümde seni gördüm.



Hafta sonu ödevlerimi yapmıştım getirmeyi unuttum.

9. Emre'nin cümlesini aşağıdaki ifadelerden hangisi doğru tamamlar?

- A) rağmen
- B) çünkü
- C) fakat



Ayaz

Hayatımızın devamı için beslenmeliyiz.



Emir

İşlerimizi zamanında bitirmeliyiz.



Eflin

Boğaz sağlığıımıza dikkat etmeliyiz.

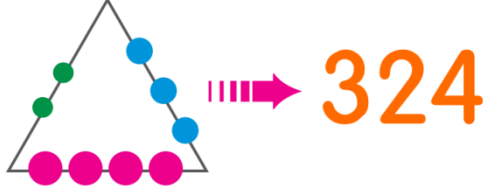
10. "Can boğazdan gelir." Atasözünün anlamını hangi öğrenci doğru açıklamıştır?

- A) Ayaz
- B) Emir
- C) Eflin



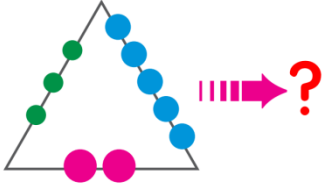
11. "Efkan'a annesi çok kızmıştı ..." cümlesi aşağıdakilerden hangisiyle tamamlanırsa, sebep-sonuç anlamı kazanır?

- A) çünkü Efkan odasını dağınık bırakmıştı.
- B) fakat babası kızmamıştı.
- C) ama Efkan üzülmemişti.



Yukarıdaki üçgenin kenarlarındaki noktalardan üç basamaklı bir sayı oluşturulmuştur.

5. Buna göre,



bu üçgenin kenarlarındaki noktalardan hangi sayı oluşturabiliriz?

A) 253

B) 532

C) 235

6. Çiçeklerin içindeki rakamlar birer kez kullanılarak oluşturulabilecek üç basamaklı doğal sayılardan en büyüğü ile en küçüğünün toplamı kaçtır?

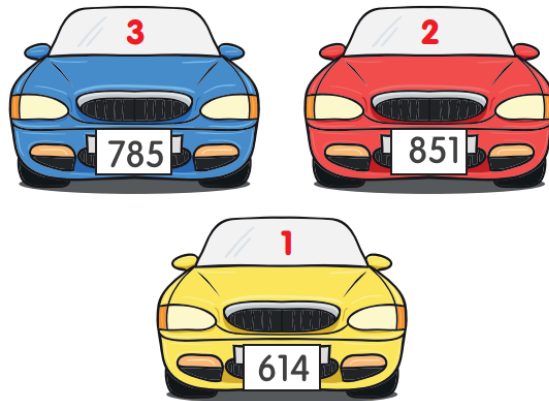
A) 835

B) 808

C) 795



Aşağıda araçların plakası verilmiştir.



- I. En yakın onluğu 610 olan sarı plakalı araçtır.
- II. En yakın yüzlüğü 800 olan kırmızı plakalı araçtır.
- III. Mavi plakalı aracın en yakın onluğu 790'dır.

7. Yukarıda verilen bilgilerin hangisi veya hangileri doğrudur?

A) Yalnız I

B) II ve III

C) I ve III



11. Yandaki toplama işleminde "▲" ve "■" ile gösterilen rakamların basamak değerleri toplamı kaçtır?
A) 503 B) 603 C) 609

$$\begin{array}{r} 24 \blacktriangle \\ + \blacksquare 73 \\ \hline 816 \end{array}$$

Bir fabrikada 196 bayan işçi çalışmaktadır. Bu fabrikada çalışan erkek işçilerin sayısı, bayan işçilerden 87 fazladır.

12. Bu fabrikada toplam kaç işçi çalışmaktadır?
A) 477 B) 478 C) 479



1. Dünya yuvarlak olduğuna göre, uzaktan gelen aşağıdaki gemilerden hangisi diğerlerine göre en uzaktadır?



Yeni gelişen teknolojik gelişmeler sayesinde Dünya'mızın uzaydan fotoğrafları çekilebilmektedir.

2. Çekilen bu fotoğraflarda mavi görülen yerler Dünya'nın hangi katmanlarını ifade etmektedir?

- A) Kara tabakası
B) Su tabakası
C) Hava tabakası

3. Aşağıda verilen canlı çiftlerinden hangisi aynı Dünya tabakasında yaşamlarını sürdürür?

- A) Kedi – Balık
B) Solucan – Fare
C) Kuş – Hamsi

- I. Limandan ayrılan bir geminin önce gövdesinin kaybolması
II. Uçağın hep aynı yönde hareket ederek kalktığı hava alanına ulaşması
III. Güneş doğarken şeklinin yavaş yavaş görülmesi

4. Yukarıdaki verilen örneklerden hangileri Dünya'mızın yuvarlak olduğunun kanıtıdır?

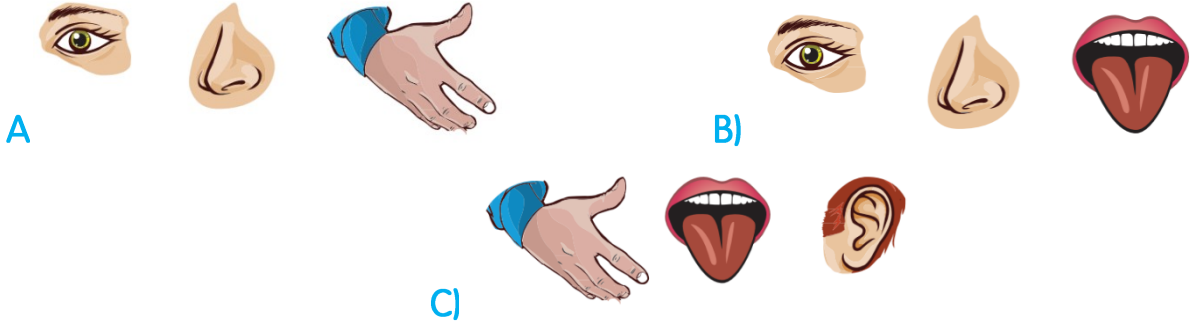
- A) I ve II
B) II ve III
C) I, II ve III

5. Aşağıda verilen duyu organlarından hangisi ile şekilde verilen balın tadını alabiliriz?





6. Şekilde verilen çileğin kırmızı rengini, hoş kokusunu ve güzel tadını algılamak için aşağıda verilen duyu organlarından hangilerini kullanmamız gerekir?



7. Aşağıdakilerden hangisi göz sağlığını olumsuz etkiler?

- A) Başkalarına ait havluyla yüzümüzü silmek
- B) Uzun süreli televizyon izlememek
- C) Başkalarına ait gözlükleri kullanmamak

8. Şekildeki gibi düşerek yaralanan bir öğrencinin hangi duyu organı zarar görmüştür?

- A) Deri
- B) Dil
- C) Burun



9. Burun sağlığımız için aşağıda verilenlerden hangisini yapmamalıyız?

- A) Burnumuzdaki kılları koparmalıyız.
- B) Uzun süreli burun tıkanıklığında doktora gitmeliyiz.
- C) Burun temizliğine özen göstermeliyiz.

10. Aşağıda verilenlerden hangisi derimize ait bir özelliktir?

- A) Besinleri tatlarını ayırt etmemizi sağlar.
- B) Varlıkların sert ya da yumuşak olduğunu algılamamızı sağlar.
- C) Varlıkların çıkardıkları sesleri algılamamıza yardımcı olur.



Sınıf içinin krokisini çizmeye çalışıyoruz.

1. Seçeneklerden hangisini kroki üzerinde göstermek doğru değildir?

- A) Sıralar
- B) Tuvaletler
- C) Yazı tahtası

2. Aşağıda verilenlerden hangisini sağlık alanında insanlara hizmet veren meslekler arasında sayamayız?



Okulumuzun yakınında bulunan parkın temizliğini, hazırladığımız proje çerçevesinde yaptık.

3. Yukarıdaki projede görev yapan öğrenci hangi kulüpte görev almaktadır?

- A) Sosyal Yardımlaşma ve Dayanışma Kulübü
- B) Sağlık, Temizlik ve Çevre Koruma Kulübü
- C) Spor Kulübü

Sınıf başkanlığı seçimi yapılacak olan 3/A sınıfında başkan adaylarının bazı özellikleri şu şekildedir:

Merve: Çok güzel keman çalar ve şarkı söyler.

Alper: Güzel ve etkili konuşur. İletişimi güçlüdür. Ayrıca ikna kabiliyeti yüksektir.

Şermin: Çok iyi resim yapmaktadır. Resim konusunda sınıftaki herkes ona hayrandır.

4. Yukarıda verilen bilgilere göre hangi öğrencinin sınıf başkanı seçilmesi uygundur?

- A) Merve
- B) Şermin
- C) Alper



Ayaz

Zor durumda bulunan arkadaşlarıma yardım ederim.



İkra

Konuyu anlamayan arkadaşlarıma yardımcı olurum.



Eflin

Konuşmalarım kaba ve serttir.

5. Yukarıdaki çocuklardan hangisinin davranışı arkadaşına karşı olumsuzdur?

- A) Ayaz
- B) İkra
- C) Eflin



İnsanlarla sosyalleşmek güçlü yönlerimizi artırır.



İnsanların güçlü olduğu yönler vardır.



İnsanların zayıf yönleri yoktur.

6. Yukarıdaki ifadelerden kaç tanesi doğrudur?

- A) 1
- B) 2
- C) 3

“Ahmet teneffüste oynarken tanımadığı bir sınıftan çocuğun yere düştüğünü gördü. Hemen giderek onu yerde kaldırdı ve durumunun nasıl olduğunu sordu. Bu durum karşısında yere düşen çocuk Ahmet'e teşekkür etti.

7. Yukarıdaki anlatıma göre, Ahmet için aşağıdakilerden hangisini **söylenemez**?

- A) Bencildir.
- B) Düşünceli biridir.
- C) Yardımseverdir.





8. Aşağıdaki davranışlardan hangisi arkadaşlık ilişkilerini olumsuz etkiler?

- A) Oyun kurallarına uyulması ve kazanan takımın tebrik edilmesi
- B) Eşyalarımızın bizden izin alınmadan kullanılması
- C) Sınıf başkanımızın tarafsız davranması

Okulda yapılan sosyal ve kültürel etkinliklerin faydaları ile ilgili öğrenciler şunları söylemiştir:



Çevremizdeki insanlarla iyi iletişim kurmamızı sağlar.




Özgüvenimizi artırır ve sorumluluklarımızı daha kolay yapmamızı sağlar.



Toplumsal olaylara karşı duyarlılığımızın zayıflamasına sebep olur.

9. Hangi öğrencinin verdiği bilgi yanlıştır?



03/11/2020

Okulumuzda açılacak olan olan basketbol kursuna katılmak istiyorum.

Gereğinin yapılmasını arz ederim.

Melisa UÇAR
3/H Sınıfı

10. Yukarıdaki dilekçede Melisa aşağıdakilerden hangisini yazmayı unutmuştur?

- A) Dilekçenin yazılma amacını
- B) Dilekçe verilen kurumun adını
- C) Dilekçe tarihini



1. Aşağıda verilen diyalogda boş bırakılan yere gelmesi gereken seçenek hangisidir?



Who is that woman?



..... is my sister.

- A) I
- B) They
- C) She

My mother has three sisters and they are my

2. Yukarıdaki cümlede boş bırakılan yere uygun olan ifade hangi seçenekte verilmiştir?

- A) daughters
- B) aunts
- C) uncles

3. Boşluğa hangi kelime gelmelidir?

- A) spin
- B) spell
- C) ask

$$8 + 9 = ?$$



Can you
your name?

F-A-T-I-H



4. Yukarıdaki işlemin sonucu kaçtır?

- A) sixteen
- B) seventeen
- C) eighteen

5. Boşluğa ne yazılması uygun olur?

- A) Good night.
- B) Good morning.
- C) Good afternoon.



3. SINIF CEVAP KÂĞIDI

Adı Soyadı:	PUAN <input type="text"/>
Sınıfı:	
Numarası:	

TÜRKÇE	
1-	(A) (B) (C)
2-	(A) (B) (C)
3-	(A) (B) (C)
4-	(A) (B) (C)
5-	(A) (B) (C)
6-	(A) (B) (C)
7-	(A) (B) (C)
8-	(A) (B) (C)
9-	(A) (B) (C)
10-	(A) (B) (C)
11-	(A) (B) (C)
DOĞRU :	
YANLIŞ :	

MATEMATİK	
1-	(A) (B) (C)
2-	(A) (B) (C)
3-	(A) (B) (C)
4-	(A) (B) (C)
5-	(A) (B) (C)
6-	(A) (B) (C)
7-	(A) (B) (C)
8-	(A) (B) (C)
9-	(A) (B) (C)
10-	(A) (B) (C)
11-	(A) (B) (C)
12-	(A) (B) (C)
DOĞRU :	
YANLIŞ :	

FEN BİLİMLERİ	
1-	(A) (B) (C)
2-	(A) (B) (C)
3-	(A) (B) (C)
4-	(A) (B) (C)
5-	(A) (B) (C)
6-	(A) (B) (C)
7-	(A) (B) (C)
8-	(A) (B) (C)
9-	(A) (B) (C)
10-	(A) (B) (C)
DOĞRU :	
YANLIŞ :	

HAYAT BİLGİSİ	
1-	(A) (B) (C)
2-	(A) (B) (C)
3-	(A) (B) (C)
4-	(A) (B) (C)
5-	(A) (B) (C)
6-	(A) (B) (C)
7-	(A) (B) (C)
8-	(A) (B) (C)
9-	(A) (B) (C)
10-	(A) (B) (C)
DOĞRU :	
YANLIŞ :	

İNGİLİZCE	
1-	(A) (B) (C)
2-	(A) (B) (C)
3-	(A) (B) (C)
4-	(A) (B) (C)
5-	(A) (B) (C)
DOĞRU :	
YANLIŞ :	