



ADI:

SOYADI:

SINIFI:

NUMARASI:

OKULU:

www.ilkokulevim.com

3. SINIF

**KAZANIM DEĞERLENDİRME
SINAVI**



Sağlıktan başka hiçbir şey insana mutluluk veremez. Çünkü mutlu olmanın ilk koşulu sağlıklı olmaktır. Ne kadar zengin olursanız olun, sağlığınız iyi değilse mutlu olmazsınız. Bütün işleriniz iyi gitse bile sağlığınız bozursa mutlu olamazsınız.




1- Yukarıdaki metnin ana fikri nedir?

- A. Zengin olmak önemlidir .
- B. Sağlık olmadan mutluluk olmaz.
- C. Sağlıktan başka şeylerde insana mutluluk verir.

2- Yukarıdaki metne en uygun başlık aşağıdakilerden hangisidir?

- A. Para ve Sağlık
- B. Zenginlik ve Sağlık
- C. Sağlık ve Mutluluk

3- Resimdeki hangi hayvanın ismindeki ünlüler sadece kalın ünlü harflerden oluşmaktadır?

- A. 
- B. 
- C. 



1

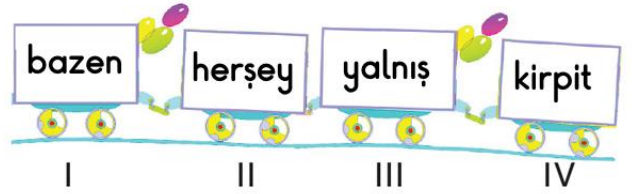
2

3

Yukarıdaki araçlar gidecekleri şehirlerin sözlük sırasına göre hareket edeceklerdir.

4- Yukarıdaki bilgiye göre kaç numaralı araç ilk hareket eder?

- A. 1
- B. 2
- C. 3



5- Yukarıdaki vagonlarda kaç numaralı kelimelerin yazımı yanlıştır?

- A. I-II
- B. II-III
- C. II- III-IV

6- “çocuk ile anne” arasındaki benzer ilişki “oğlak” ile aşağıdaki hangi kelime arasında vardır?

- A. koyun
- B. keçi
- C. köpek



★ Nasrettin Hoca bir gün eşeğe ters binmiş.

● Pinokyo yalan söyleyince burnu uzuyor.

■ Limondan çıkan Limon Kız şehzadeye doğru yürüdü.

7- Yukarıdaki cümlelerden hangisi hayal ürünü değildir?

A. ★

B. ●

C. ■

..... yaş iken

8- Yukarıdaki ata sözünde boş bırakılan yerlere sırasıyla hangi kelimeler yazılmalıdır?

A. Fidan- kesilir

B. Ağaç - eğilir

C. Çiçek - açar

1- sonbahar

2- her

3- yaprakları

4- ağaçların

5- sararır

6- mevsiminde

9- Yukarıda numaralandırılmış kelimelerle anlamlı ve kurallı bir cümle oluşturulduğunda sıralama nasıl olur?

A. 2 - 1 - 6 - 4 - 3 - 5

B. 2 - 1 - 6 - 3 - 4 - 5

C. 1 - 2 - 6 - 4 - 3 - 5

10- Aşağıdakilerden görsellerden hangisinin konusu israfı önlemektir?





1896 kg

189kg

658kg

1- Yukarıdaki hayvanların kütlelerini küçükten büyüğe sembol kullanarak sıralayacak olursak doğru sıralama aşağıdakilerden hangisi olur?


- A. fil > inek > geyik
- B. inek < geyik < fil
- C. geyik < inek < fil



$$\begin{array}{r} 589 \\ + \dots\dots\dots \\ \hline 967 \end{array}$$

2- Yukarıda verilmeyen toplanan kaçtır?

- A. 368
- B. 378
- C. 388

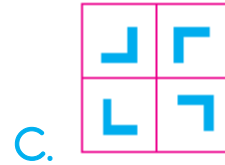
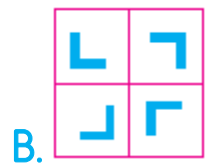
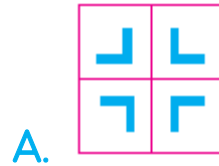


1.Adım

2.Adım

3.Adım

3- Yukarıdaki örüntüye göre 4.adıma aşağıdakilerden hangisi gelmelidir?



$$434 + \blacksquare > 954$$

4- Yukarıda verilen bilgilere göre \blacksquare en az kaç olmalıdır?

- A. 519
- B. 520
- C. 521



$$\begin{array}{r} 1 \text{ * } 8 \\ \times \quad \text{ * } \\ \hline 534 \end{array}$$

* = _____
* = _____

5- Yukarıda verilen çarpma işlemine

göre * ve * yerine gelecek rakamların toplamı kaçtır?

- A. 10
- B. 13
- C. 15

6- Arda 9 gün boyunca her gün 76 sayfa kitap okumuştur. Geriye 68 sayfa okunacak yeri kaldığına göre kitap kaç sayfadır?

- A. 682
- B. 752
- C. 812

$$48 \div 8 = \blacksquare$$

$$63 \div 7 = \blacklozenge$$

$$32 \div 8 = \bullet$$

7- Yukarıda verilen işlemlere göre $\blacksquare + \blacklozenge + \bullet$ işleminin sonucu kaçtır?

- A. 17
- B. 19
- C. 21



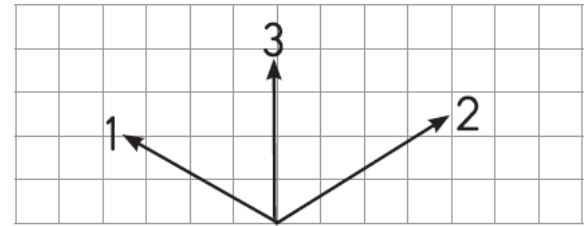
= 1kg

3 elma 1 kg gelmektedir

8- Kasada 36 adet elma olduğuna göre bu elmalar kaç kilograma eşittir?

- A. 12
- B. 16
- C. 18

9- Aşağıdaki görsellerin hangisinde bir doğru modeli yoktur?



10- Yukarıdaki şekilde kaç numaralı ışınlar geniş açı oluşturur?

- A. 1-3
- B. 2-3
- C. 1-2



Bu test 10 sorudan oluşmaktadır.



Kıyıya yaklaşan bir geminin önce direği sonra ise gövdesi görünür.

1- Bu durumun ispatı aşağıdakilerden hangisidir?

- A. Dünya'nın şeklinin yuvarlak olduğu
- B. Dünya'nın şeklinin düz olduğunu
- C. Dünya'nın şeklinin yamuk olduğunu



2- Yukarıdaki resimde hangi duyumuzla ilgili bir kaza gerçekleşmiştir?

- A. Görme
- B. İşitme
- C. Dokunma



I



II



III

3- Kaç numaralı resim görme olayının gerçekleşmesi için gerekli değildir ?

- A. I
- B. II
- C. III



Murat

Çevremizde gördüğümüz evler hareketsiz varlıklara örnektir.

İnsanlar ve hayvanlar hareketli varlıklardır.



Serap



Mehtap

Bitkiler hareketsiz varlıklardır.

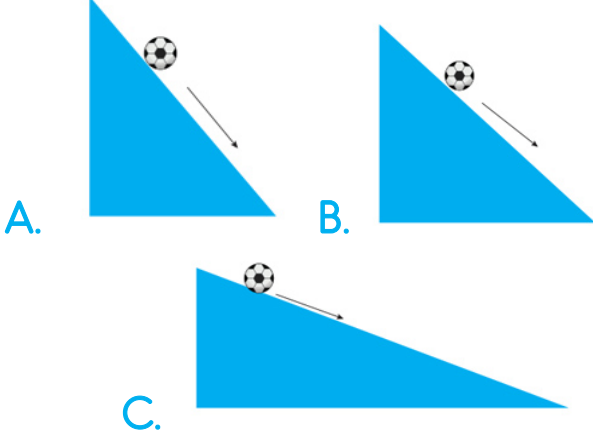
4- Yukarıdaki öğrencilerden hangisi yanlış bilgi vermiştir?

- A. Murat
- B. Serap
- C. Mehtap





5- Aşağıdaki durumların hangisinde top daha ağır hareket eder?



7- Aşağıdakilerden hangisi yapay ses kaynağına yanlış örnek olur?

- A. Su
- B. Radyo
- C. Müzik

8- Aşağıdakilerden hangisinin ses şiddeti diğerlerinden fazladır?

- A. Sebze satan satıcının sesi
- B. Ders anlatan öğretmenin sesi
- C. Konser veren şarkıcının sesi

9- Aşağıdakilerden hangisi katı hâldeki bir maddenin özelliklerindedir?

- A. Belirli bir şekli yoktur.
- B. Akıcı değildir.
- C. Konulduğu kabın şeklini alır.

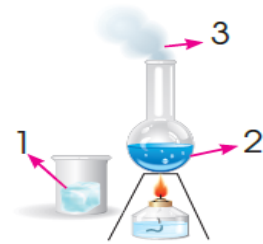


Işık kaynaklarına şunları örnek verebiliriz:
Bulutlar, ay, dünya, yıldızlar, ışıltak, deniz feneri

Sinem

6- Yukarıda Sinem'in örneklerinden kaç tanesi ışık kaynağı değildir?

- A. 2
- B. 3
- C. 4



10- Yukarıdaki görselde numaralandırılmış bölümler maddenin hangi hâlini gösterir?

- | | | | |
|----|------|------|------|
| | 1 | 2 | 3 |
| A. | Sıvı | Katı | Gaz |
| B. | Katı | Sıvı | Gaz |
| C. | Gaz | Sıvı | Katı |



Bu test 10 sorudan oluşmaktadır.

İlçelerde yerel yönetimin başında
..... bulunur.

1- Yukarıdaki boşluğa hangi kelime gelmelidir?

- A) vali
- B) kaymakam
- C) muhtar



Ben senin babanın arkadaşım. Baban okuldan seni almamı söyledi.

2- Alp yukarıdaki durumla karşılaştığında aşağıdakilerden hangisini yapmalıdır?

- A. Tamam diyerek arabaya binmeli.
- B. Diğer arkadaşlarını da götürmek için onları da çağırmalı
- C. Hemen oradan uzaklaşmalıdır.

3- Hangi trafik işaretinin anlamı yanlış yazılmıştır?



A. Yaya Geçidi



B. Bisiklet Yolu



C. Üst Geçit



Sağlıklı büyümek için.....

4- Türkan'ın cümlesini aşağıdakilerden hangisi ile devam ettiremez?

- A) yeterli ve dengeli beslenmeliyiz.
- B) spor yapmalıyız.
- C) akşam geç yatmalıyız.

1-şampuan 2-diş macunu 3-su
4-deterjan 5-tarak 6- sabun

5- Yukarıdakilerden kaç tanesini kişisel bakımda kullanırsınız?

- A. 6
- B. 5
- C. 4



◆ Parktaki banklara tuttuğumuz takımın baş harflerini yazabiliriz.

★ Otobüs ve minibüslerden koltuklara delici ve kesici araçları batırabiliriz.

◆ Park ve sokaklara çöp atmamalıyız.

6- Yukarıdaki davranışlardan hangisi veya hangileri yanlıştır?

A. Yalnız ◆

B. ◆ ve ★

C. Yalnız ◆

Derslerimizi düzenli ve planlı çalışarak ileriki yaşamımızda başarılı olacağımız bir mesleğe sahip olmamız sadece kendimiz için değil
..... için de çok önemlidir.

7- Yukarıdaki metinde boş bırakılan yere aşağıdakilerden hangisi yazılmalıdır?

A. okulumuz

B. ülkemiz

C. arkadaşlarımız

▲ Seçme ve seçilme hakkı

● Soyadı Kanunu

■ Arap harflerinin kabulü

8- Aşağıdakilerden hangisi ülkemize cumhuriyetin getirdiği yeniliklerden biri değildir?

A. ▲

B. ●

C. ■

9- Aşağıdaki davranışlardan hangisi yanlıştır?

A. Toplu taşıma araçlarından inerken aracın tam olarak durması beklenmelidir.

B. Yaya kaldırımlarında sağdan yürümek gerekir.

C. Büyük taşıtlarda emniyet kemeri takmaya gerek yoktur.

10- Aşağıdakilerden hangisi dengeli ve düzenli beslenmenin yararları arasında yer alır?


A. Sağlıklı oluruz.

B. Çalışkan oluruz.

C. Planlı ve düzenli oluruz.



Bu test 5 sorudan oluşmaktadır.



1- Verilen görselin adı nedir?

- A) Ship
- B) Helicopter
- C) Plain



2- Yukarıdaki görseldeki yer aşağıdakilerden hangisinde bulunmaktadır?

- A) school
- B) hospital
- C) bank




Ali: How do you feel today?

Adem: I feel.....

3- Yukarıdaki boşluğa aşağıdakilerden hangisi gelmelidir?

- A) energetic
- B) hungry
- C) angry



4- Görseli anlatan seçeneği işaretleyiniz.

- A) ride a bike
- B) read a book
- C) watch television



5- görselde kaç adet karpuz vardır?

- A) sixteen
- B) seventeen
- C) eighteen

Sevgili ÖĞRETMEN ve VELİLERİMİZ;
Deneme Sınavına Teşekkür Mahiyetinde
Sosyal Medya Sayfamızı Beğenirseniz
Çok Mutlu Oluruz.

Aşağıdaki Linklerden Bizlere Ulaşabilirsiniz.

www.ilkokulevim.com

www.instagram.com/ilkokulevim

www.facebook.com/ilkokulevim

www.facebook.com/groups/272489210266407/

t.me/ilkokulevim

CEVAP ANAHTARI

TÜRKÇE	MATEMATİK	FEN BİLİMLERİ	HAYAT BİLGİSİ	İNGİLİZCE
1-B	1-C	1-A	1-B	1-A
2-C	2-B	2-C	2-C	2-B
3-C	3-C	3-B	3-C	3-A
4-C	4-C	4-C	4-C	4-C
5-C	5-A	5-C	5-B	5-A
6-B	6-B	6-B	6-B	
7-A	7-B	7-A	7-B	
8-B	8-A	8-C	8-C	
9-A	9-C	9-B	9-C	
10-C	10-C	10-B	10-A	