

3.SINIF

ilkokul evim



SCAN ME



3.SINIF

HAZIRBULUNUŞLUK
SINAVI SORULARI

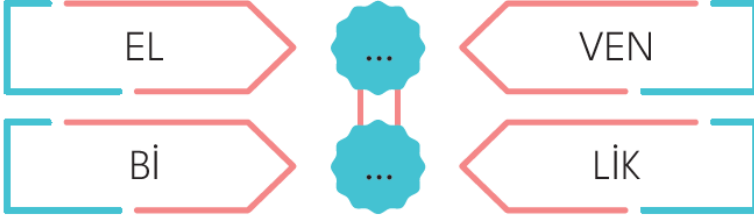
www.ilkokulevim.com

ÜCRETSİZ
ETKİNLİK
SİTESİ

Adı: _____
Soyadı: _____



TÜRKÇE TESTİ



1 Tablodaki sözcüklerin eksik heceleri boş kutulara yazıldığında yukarıdan aşağı hangi sözcük oluşur?

A) Dere

B) Dilek


C) Dilim

Kelime veya kelime gruplarının harf, sayı ve resimlerle temsil edilmesiyle oluşturulan sözcük oyununa "resfebe" denir

ÖRNEK



2 Buna göre;



harf ve resimlerle şifrelenmiş sözcük aşağıdakilerden hangisidir?

A) HAYAL

B) HATA

C) HAYAT



K



R



A



O


3 Yukarıda görselleri karışık verilen olayı, oluş sırasına göre sıraladığımızda oluşan şifreli sözcük hangi seçenekte doğru verilmiştir?

A) ORAK


B) KARO

C) ROKA

Onur, ilkokul ikinci sınıf öğrencisidir. Hafta sonu ailesi ile birlikte televizyon izleyecektir.

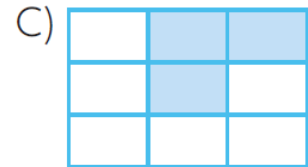




4 Buna göre Onur ve ailesi, aşağıdaki akıllı işaretlerden hangilerinin yer aldığı programı izlemelidir?



| | | | |
|---------|-------|-------|---------|
| misafir | ödül | ufak | ak |
| beyaz | al | konuk | ziyaret |
| küçük | konut | iri | hediye |

Yukarıdaki sözcüklerin tablodaki eş anlamlıları boyandığında tablonun son görünümü nasıl olur?



6

Aşağıdaki dörtlüklerden hangisi yandaki görselle ilgili **değildir**?



- A) Sevgi ve şefkatle,
Büyütürler hep bizi.
Değişmeyiz dünyaya,
Sevgili annemizi.
Atıla ÇAKIROĞLU
- B) İyi koru, sev onu,
Çiğnetme hiç kimseye.
Dalgalandır göklerde,
Göğsünü gere gere.
Ülkü DUYSAK
- C) İyi, doğru sözler onda.
Şefkat dolu gözler onda.
Sevgi ve ışık var yolunda.
Melek annem, güzel annem.
Nihat EVRİMER



Beyza, babası ile televizyonda hava durumunu izliyordu. Sunucu ekrandaki hava durumu görselini işaret ederek, yarın ülke genelinde havanın açık olacağını ve sıcak geçeceğini söyledi.

7

Buna göre sunucunun işaret ettiği hava durumu sembolü hangi seçenekte verilmiştir?

- A) 
- B) 
- C) 

Ahmet, bu sene ilkokula başlayacak.



Bugün Ege'ye bir sürpriz yapacağım.



Babam, garajdaki arabayı çıkardı.



8

Yukarıda sembollerle eşleştirilen cümlelerin hangisinde satır sonuna sığmayan sözcüğün yazımı **yanlıştır**?

- A) ● B) ▲ C) ★

Üç kişi, farklı ulaşım araçlarını kullanarak sinemaya gidiyorlar. Bu kişilerin kullandıkları araçlarla ilgili bilinenler şunlardır:

- Berat, hız yapmayı seviyor.
- Onur, motorlu taşıt kullanmaz.
- Enes, motosiklet kullanmaktan korkar.



9

Buna göre kişiler ve taşıtlar eşleştirildiğinde aşağıdakilerden hangisi doğru olur?

A) Berat - Bisiklet

B) Onur - Bisiklet

C) Enes - Motosiklet

→
temizliğime

↓
kişisel

←
veririm

↑
önem

10

Yukarıdaki sembollerle eşleştirilen sözcüklerden anlamlı ve kurallı bir cümle oluşturulduğunda sıralama nasıl olur?

A) ↓ → ↑ ←

B) ↓ → ← ↑

C) ↑ ← ↓ →

MATEMATİK TESTİ



Burhan Öğretmen sınıfa farklı renkte zarflarla girmiştir. Zarfların içerisinde rakamlar yazmaktadır.

Dört öğrencisinden birer adet zarf çekmelerini ve aşağıdaki bilgiler doğrultusunda sayılar oluşturmalarını istemiştir:

- Kırmızı ve sarı renkli zarfları çekenler 1. grup olacaktır.
- Mavi ve yeşil renkli zarfları çekenler 2. grup olacaktır.
- 1 ve 2. gruplar, zarfın içerisinde çıkan rakamlarla iki basamaklı doğal sayılar elde edecektir.

1

Buna göre 1 ve 2. grubun elde etmiş olduğu doğal sayılar hangi seçenekte verilen sayılar olabilir?

1. Grup

- A) 91
B) 16
C) 19

2. Grup

- 16
46
64



Yukarıda sarı kutularda yazan rakamlar kendi aralarında, pembe kutularda yazan rakamlar kendi aralarında yan yana getirilerek iki basamaklı sayılar oluşturulacak ve bu sayılar toplanacaktır.

2

Buna göre aşağıdaki sayılardan hangisi bu toplamlardan biri **olamaz?**

- A) 94 B) 49 C) 40

| | | | | |
|----|---|---|---|----|
| 22 | + | ▲ | = | 40 |
| + | | + | | + |
| ● | | ■ | | ◆ |
| = | | = | | = |
| 30 | + | | = | 52 |

3 Yukarıdaki tabloda semboller ile gösterilen yerlere gelmesi gereken sayılar hangi seçenekte verilmiştir?

- A) $\frac{\text{▲}}{18}$ $\frac{\text{●}}{8}$ $\frac{\text{■}}{4}$ $\frac{\text{◆}}{12}$
 B) $\frac{\text{▲}}{12}$ $\frac{\text{●}}{8}$ $\frac{\text{■}}{18}$ $\frac{\text{◆}}{4}$
 C) $\frac{\text{▲}}{18}$ $\frac{\text{●}}{8}$ $\frac{\text{■}}{12}$ $\frac{\text{◆}}{4}$

Burak ve Osman'ın oynadıkları bilgisayar oyunu iki bölümden oluşmaktadır ve aldıkları puanlar aşağıda gösterilmiştir.

| | | |
|-------|---------|----|
| Burak | 1. oyun | 12 |
| | 2. oyun | 18 |

| | | |
|-------|---------|----|
| Osman | 1. oyun | 21 |
| | 2. oyun | 14 |

4 Buna göre Burak ve Osman'ın iki oyundan aldıkları puanlar ile ilgili aşağıdakilerden hangisi yanlıştır?

- A) Burak'ın iki oyundan aldığı puan 30'dur.
 B) Osman'ın iki oyundan aldığı puan 35'tir.
 C) Burak ve Osman'ın 1. oyundan aldıkları puanların toplamı 32'dir.



8

Kutu içerisinde verilen miskaetler ile ilgili aşağıdaki ifadelerden hangisi **yanlıştır**?







- A) Altışarlı üç gruptan oluşmuştur.
- B) Üçerli altı gruptan oluşmuştur.
- C) Kutularda toplam 18 miskaet vardır.



Akın Öğretmen, öğrencilerine beslenme saatinde simit getirmiştir. Simitleri yukarıdaki tepsiye koymuştur. Öğrencilerine yiyebilecekleri kadar simit almalarını söylemiştir.

9

Buna göre aşağıdaki öğrencilerden hangisinin almış olduğu simit sayısı en fazladır?

- A)  → 
- B)  → 
- C)  → 



Yukarıdaki teraziler dengededir.

10

Buna göre terazilerdeki ürünlerin kütlesi ile ilgili aşağıdaki ifadelerden hangisi yanlıştır?

- A) Domatesin kütlesi, armutun kütlesinden ağırdır.
- B) Domates ve armutun toplam kütlesi 7 kg'dır.
- C) Armutun kütlesi, domatesin kütlesinden 1 kg fazladır.

HAYAT BİLGİSİ TESTİ

Halil, çantasını salı gününe ait ders programına göre hazırlamıştır. Okula gittiğinde birinci derste hayat bilgisi defterini kullanmış, ikinci ve üçüncü derste bilmediği kelimelerin anlamını bulmak için sözlükten yararlanmıştır. Dördüncü derste ise boya kalemleri ve resim defterini evde unuttuğu için arkadaşlarından boya kalemi ve resim yapmak için boş kâğıt istemiştir. Beşinci derste ritmik saymalarla ilgili etkinliği yapan Halil, altıncı derste ise öğretmenin etkileşimli tahtada açtığı masalı dinlemiştir.

| Gün / Saati | Birinci Ders | İkinci Ders | Üçüncü Ders | Dördüncü Ders | Beşinci Ders | Altıncı Ders |
|-------------|---------------|-------------|-------------|---------------|--------------|---------------------|
| Salı | Hayat Bilgisi | Türkçe | Türkçe | Müzik | Matematik | Serbest Etkinlikler |

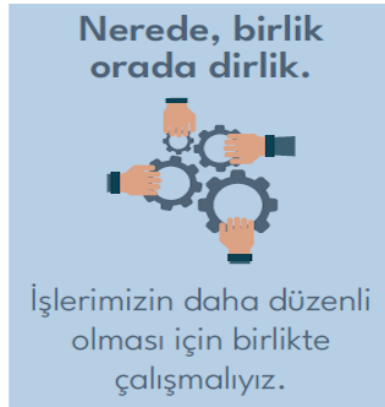
1 Buna göre Halil'in ders programının doğru olması için nasıl bir değişiklik yapılması gerekmektedir?

- A) Altıncı ders için serbest etkinlikler yerine beden eğitimi yazılmalıdır.
- B) Birinci ders için hayat bilgisi yerine müzik yazılmalıdır.
- C) Dördüncü ders için müzik yerine görsel sanatlar yazılmalıdır.

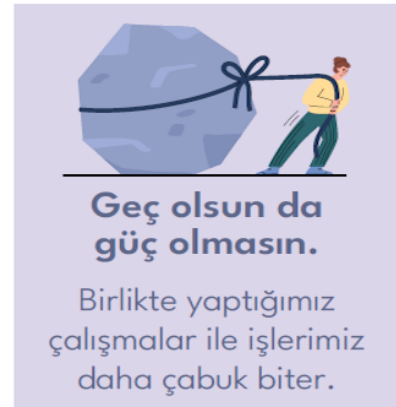
Aşağıda Eren, Belinay ve Yıldırım'ın hazırladıkları afişler verilmiştir.



Eren



Belinay



Yıldırım

2 Buna göre hangi öğrencinin afişinin konusu "birlikte çalışma" ile ilgili değildir?

- A) Yıldırım
- B) Belinay
- C) Eren

3

Aşağıdaki görsellerden hangisi aile bireylerimiz ve akrabalarımız ile paylaştığımız özel anlardan birine ait **değildir**?

A)



B)



C)



Aşağıdaki eksik ifadeler oklar yardımıyla yandaki ifadeler ile tamamlanacaktır.

Geç saatlere kadar

oturmamızda bir sorun yoktur.

oturmamız uyku düzenimizi bozar.

Yemeklerden sonra

dişlerimizi fırçalamalıyız.

televizyon izlemeliyiz.

Tırnaklarımızı kısa ve

temiz tutmak sağlığımız için önemlidir.

temiz tutarak daha başarılı oluruz.

4

Buna göre okların yönü hangi seçenekteki gibi olur?



Aşağıdaki çocuklar hangi mevsimde, hangi besinleri tükettiklerini söylemişlerdir.



Gülay

Kış mevsiminde özellikle portakal, çilek, karpuz, kayısı gibi meyveleri tüketiyorum.

İlkbahar ve sonbahar mevsimlerinde tüketilmesi gereken besinler aynıdır. Ben her iki mevsimde de domates, nar, elma, erik gibi besinleri tüketirim.



Ceren



Mahir

Mevsimine uygun beslenmek oldukça önemlidir. Bu yüzden yaz mevsiminde kiraz, mısır gibi besinler tüketirken kış mevsiminde havuç, turp gibi besinler tüketirim.

5

Buna göre hangi öğrenciler **yanlış** bilgi vermişlerdir?

A) Yalnız Mahir

B) Ceren ve Mahir

C) Gülay ve Ceren

Yeşim, aşağıdaki balonların bazılarını patlatacaktır.







6

Buna göre hangilerini patlatırsa geriye yalnızca üzerinde evlerimizde kullandığımız kaynakların yazılı olduğu balonlar kalır?





A) 1 ve 2

B) 2 ve 5

C) 3 ve 4

| | | | |
|---|---|---|--|
|  | Trafikte yardıma ihtiyacımız olabilir. |  | Toplu taşıma aracına binerken önceliği kendimize vermeliyiz. |
|  | Özel gereksinimli bireylere toplu taşıma aracında yer vermeliyiz. |  | Tramvayda hamile bir kadın gördüğümüzde ona yer vermeliyiz. |

7 Verilenlere göre;

-  şekli ile belirtilen ifade yanlıştır.
-  şekli ile belirtilen ifade doğrudur.
-  şekli ile belirtilen ifade doğrudur.
-  şekli ile belirtilen ifade yanlıştır.

bilgilerinden hangileri doğrudur?

- A) 2, 3 ve 4 B) 1, 3 ve 4 C) 3 ve 4



Ece : Benim yaşadığım şehir ülkemizin başkentidir.

Ayla : Benim yaşadığım şehir başkentimizin batısında ama başkentimiz ile komşu değildir.

Onur : Benim yaşadığım şehir başkentimiz ile komşudur.

8

Verilen Türkiye haritasına göre çocukların yaşadıkları şehirler aşağıdakilerden hangisi olabilir?

- | | <u>Onur</u> | <u>Ece</u> | <u>Ayla</u> |
|----|-------------|------------|-------------|
| A) | Bolu | Ankara | Balikesir |
| B) | İstanbul | Eskişehir | Bolu |
| C) | Balikesir | Ankara | Çankırı |

Önce birlikte kahvaltı edeceğiz. Daha sonra aile büyüklerimizi ziyaret etmeye gideceğiz.



Baba, namazdan çıktıktan sonra ne yapacağız?

Verilen konuşmanın hangi bayram ile ilgili olduğunu bazı öğrenciler aşağıdaki gibi ifade etmiştir.

Ahmet: Ramazan Bayramı

Kayra: Kurban Bayramı

Zeynep: Cumhuriyet Bayramı

9 Buna göre hangi öğrencinin ifadesi doğru değildir?

A) Zeynep

B) Ahmet

C) Kayra

Bahar: Merhaba, ben Kocaeli’nde yaşıyorum. Yaşadığım şehir sanayi şehri olarak bilinir. Tarım ve hayvancılık da yapılıyor ama yaşadığım şehrin asıl geçim kaynağı fabrikalardır.

Seher: Ben Adana’da yaşıyorum. Mutlaka yaşadığım şehre gelip portakal, mandalina yemelisiniz. Yalnızca turunçgiller yetişmez şehrimde, birçok tarım ürününün yetiştiği şehirdir. Tahıllar, meyveler, sebzeler...

Yeliz: Ben de Erzurum’da yaşıyorum. Büyükbaş, küçükbaş hayvancılık ve arıcılık gibi faaliyetler yoğun bir şekilde yapılır.



1



2



3



4



5



6

10 Yukarıda verilenlere göre şehirler ve şehirlerde üretilenler eşleştirmesi aşağıdakilerden hangisinde doğru verilmiştir?

| | Adana | Erzurum | Kocaeli |
|----|-------|---------|---------|
| A) | 1-3 | 2-4 | 5-6 |
| B) | 2-3 | 4-6 | 1-5 |
| C) | 1-5 | 2-3 | 4-6 |

İNGİLİZCE TESTİ



Beril

Can a lion fly?



Ceren

1 Yukarıdaki sorunun doğru cevabı hangi seçenektir?

A) Yes, it is.

B) No, it is a lion.

C) No, it can't.

Chicken



.....



2 Yukarıdaki görselde verilen boşluğa hangi kelime gelmelidir?

A) cow

B) bird

C) frog


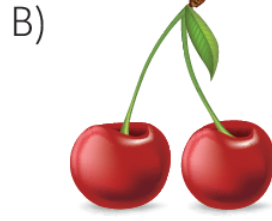



3 Yukarıda verilen görseli en iyi anlatan seçenek hangisidir?

- A) Touch the grapes.
- B) Colour the grapes.
- C) Cut the grapes.



4 Yukarıdaki bilgiye göre Nil'in sevdiği meyve aşağıdakilerden hangisidir?



it's

arm

my

5 Yukarıda karışık verilen kelimeler ile anlamlı bir cümle oluşturmak için renkli kartlar hangi seçenekteki gibi sıralanmalıdır?

