

3. SINIF



ADI & SOYADI:	
SINIFI & NO:	
OKULU:	

DERS ADI	SORU SAYISI	TOPLAM SORU SAYISI	SINAV SÜRESİ (DAKİKA)
TÜRKÇE	14	52	90 Dakika
MATEMATİK	13		
FEN BİLİMLERİ	10		
HAYAT BİLGİSİ	10		
İNGİLİZCE	5		

3.SINIF KONU TEKRAR SORULARINA ULAŞMAK İÇİN
SAĞ ÜSTTEKİ KAREKODU OKUTABİLİRSİNİZ



Bir yaz günüydü. Atatürk denize giriyordu. Orada bulunan bütün çocuklar çevresine toplandılar. Babam onları uzaklaştırmak istedi. Bunu gören Atatürk, babama, "Kaptan, bırak gelsinler! Çocuklardan zarar gelmez. Onlar, yarının büyükleridir." dedi.

Mevlüt Kaplan (Anılarla Atatürk)

1,2 ve 3. soruları metne göre cevaplayınız.

1. Aşağıdakilerden hangisi Atatürk'ün kaptana söylediklerinden biri **değildir**?

- A) Onları buradan uzaklaştırın.
- B) Çocuklardan zarar gelmez.
- C) Onlar, yarının büyükleridir.

2. Atatürk'ü gören çocuklar ne yapmışlar?

- A) Hızla oradan uzaklaşmışlar.
- B) Atatürk'ün çevresine toplanmışlar.
- C) Atatürk'e çiçek vermişler.

3. Metnin hikâye unsurlarıyla ilgili bilgilerinden hangisi **doğrudur**?

- A) Olay: Atatürk'ün çocuklarla birlikte denizde yüzmesi
- B) Ana karakter: Kaptan
- C) Zaman: Bir yaz günü

Sıra No	Sözcük	Hecelenişi	Hece Sayısı
1	kasap	ka-sap	2
2	prenses	pi-ren-ses	3
3	yumurta	yu-mur-ta	3
4	karınca	kar-ın-ca	3
5	sinemacı	si-ne-ma-cı	4

4. Yukarıdaki tablodaki yanlış bilgilerin sıra numaraları hangi seçenekte verilmiştir?

- A) 1 - 3 - 5
- B) 3 - 4 - 5
- C) 2 - 4

Serra: Alfabemizde bulunan sekiz ünlü harf aynı zamanda hecedir.

Kayra: Alfabemizde bulunan 21 sessiz harfin tamamı ile sözcük başlayabilir.

Hatice: Alfabemizde bulunan 29 harfin 8 tanesi sesli (ünlü), 21 tanesi sessiz (ünsüz) harftir.

5. Yukarıdaki öğrencilerden hangisi yanlış bilgi vermiştir?

- A) Serra
- B) Kayra
- C) Hatice

TÜRKÇE TESTİ

ihtiyaç

6. Yukarıdaki sözcüğün eş anlamlısı hangi cümlede kullanılmıştır?

- A) Ömer sınıf için gelecek eşyaları evde unutmuş.
B) Eymen yarınki maçını kazanırsa finale çıkacak.
C) Okul için tüm gereksinimlerimi tamamladık.

1 gelemedi

2 olduğundan

3 hasta

4 okula

7. Numaralandırılmış sözcüklerden anlamlı ve kurallı bir cümle kurmak için sıralama nasıl yapılmalıdır?

- A) 3-2-4-1
B) 4-1-3-2
C) 3-2-1-4

- ağaç • abla • armut • ahır

8. Yukarıdaki sözcüklerin alfabetik sıraya göre doğru sıralanışı aşağıdakilerden hangisidir?

- A) abla / ağaç / ahır / armut
B) ağaç / abla / ahır / armut
C) abla / ahır / ağaç / armut



9. Yukarıdaki heceler kullanılarak hangi sözcük elde edilemez?

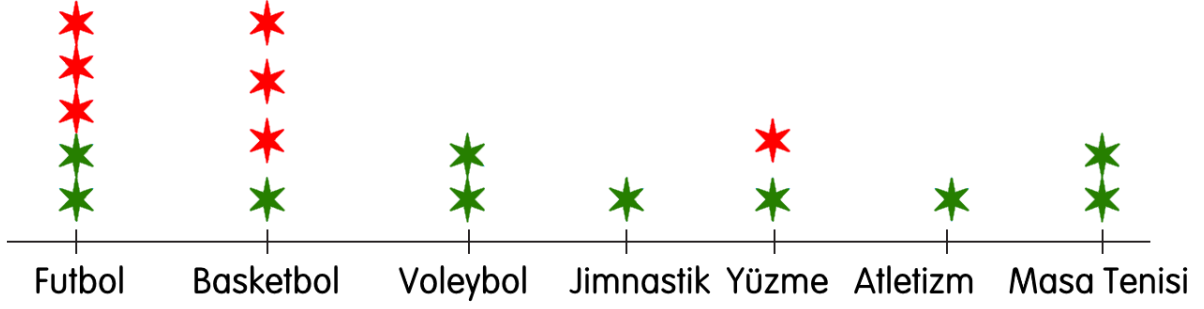
- A) makara
B) makarna
C) kamaracı

- Serra yarışmaya katılan tek kızdı.
• Odasını toplamadığı için annesi Asiye'ye kızdı.
• Türkan, sınıfımızda en hızlı koşan kızdı

10. Yukarıdaki cümlelerin hangilerinde "kız" kelimesi aynı anlamda kullanılmıştır?

- A) • ve •
B) • ve •
C) • ve •

TÜRKÇE TESTİ



Not: Her ★, iki öğrenciyi göstermektedir.

Derya öğretmen öğrencilerine hangi spor dalları ile ilgilendiklerini soruyor. Verilen cevaplara göre yukarıdaki grafiği yapıyor.

(Yeşil ★ erkekleri, kırmızı ★ kızları gösteriyor.)

11, 12 ve 13. soruları yukarıdaki grafiğe göre cevaplayalım.

11. Kız öğrencilerin tercih etmediği etkinlikler nelerdir?

- A) Futbol, basketbol, yüzme
- B) Voleybol, yüzme, masa tenisi
- C) Voleybol, Jimnastik, atletizm, masa tenisi

12. Bu sınıfın erkek - kız öğrenci sayıları hangi seçenekte verilmiştir?

- A) K: 10
E: 10
- B) K: 14
E: 20
- C) K: 7
E: 10

13. Yukarıdaki grafiğe göre hangisi söylenemez?

- A) En fazla basketbolla ilgilenen vardır.
- B) Yüzmeyle 4 kişi ilgilenmektedir.
- C) Futbolla ilgilenen kız sayısı, masa tenisi ile ilgilenen erkek sayısından fazladır.

TÜRKÇE TESTİ

Hatice ile Mehmet "Kelime Tahmini" oyunu oynuyorlar. Her biri aklında bir kelime belirliyor. Belirledikleri kelimelerle ilgili ikişer tane ipucu vererek birbirlerinin kelimelerini tahmin etmeye çalışıyorlar.



Hatice

1. Belirlediğim kelime üç hecelidir.
2. Belirlediğim kelimenin ilk ve son harfi aynıdır.

1. Belirlediğim kelime alfabenin 3. harfi ile başlıyor. Alfabenin 27. harfiyle bitiyor.
2. Belirlediğim kelime 2 hecelidir ve 2 hecesi de aynıdır.



Mehmet

14. Yukarıdaki bilgilere göre Ecem ve Çınar'ın belirlediği kelimeler aşağıdakilerden hangisi olabilir?

	Hatice	Mehmet
A)	kelebek	civciv
B)	Ankara	ceviz
C)	araba	cami

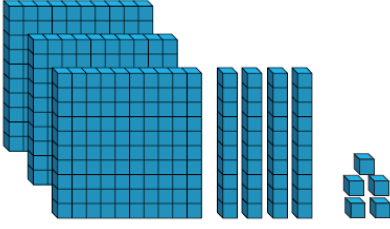
TÜRKÇE TESTİ BİTTİ!
MATEMATİK TESTİNE GEÇİNİZ.

MATEMATİK TESTİ

708

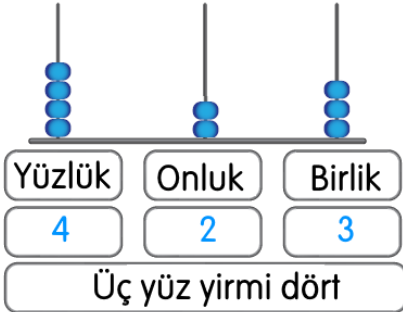
1. Yukarıdaki sayının okunuşu hangi seçenekte doğru verilmiştir?

- A) Sekiz yüz yedi
- B) Yedi yüz sekiz
- C) Yedi yüz seksen



2. Yukarıda taban bloklarla modellenmiş olan sayının yazılışı ve okunuşu hangi seçenekte doğru olarak verilmiştir?

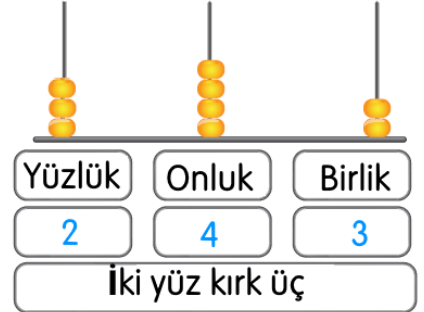
- A) 255 : iki yüz elli beş
- B) 543 : Beş yüz kırk üç
- C) 345 : Üç yüz kırk beş



1



2



3

3. Yukarıdaki numaralandırılmış abaküslerden hangisinde verilen bilgiler doğrudur?

- A) 1
- B) 2
- C) 3

4. "4, 0, 8" rakamları birer kez kullanarak aşağıdaki sayılardan hangisi yazılamaz?

- A) 804
- B) 408
- C) 844

MATEMATİK TESTİ

786

1.Sayı

409

2.Sayı

5. Birinci sayının yüzler basamağındaki rakamın basamak değeri ile ikinci sayının onlar basamağındaki rakamın basamak değeri toplanıyor. Buna göre toplam kaçtır?

A) 700

B) 704

C) 709

3

9

4

6. Yukarıdaki rakamlar birer kez kullanılarak oluşturulabilecek en küçük sayı hangi yüzlüğe daha yakındır?

A) 500

B) 400

C) 300

478

469

487

7. Yukarıda verilen sayıların küçükten büyüğe doğru sembol kullanarak sıralanışı hangi seçenekte doğru verilmiştir?

A) $469 < 478 < 487$

B) $478 < 487 < 469$

C) $487 < 478 < 469$



8. Yukarıda sembollerle gösterilen sayı en yakın yüzlüğe yuvarlandığında 900, en yakın onluğa yuvarlandığında 860 oluyor. Buna göre bu sayı aşağıdakilerden hangisi olamaz?

A) 855

B) 858

C) 865

$$7 + 9 = \star$$

$$6 + 13 = \blacktriangle$$

$$6 + 8 = \bullet$$

Yukarıdaki işlemlerin sonuçları Romen rakamları ile yazılacaktır.

9. Buna göre, şekillerle eşleşen Romen rakamları hangi seçenekte verilmiştir?

\star

\blacktriangle

\bullet

A) XVI XIX XIV

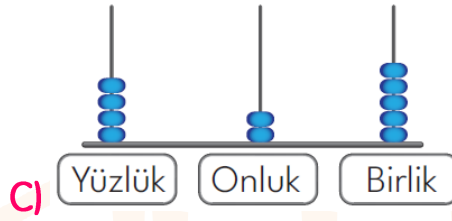
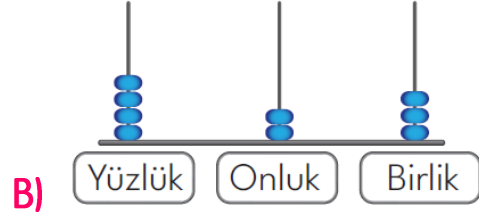
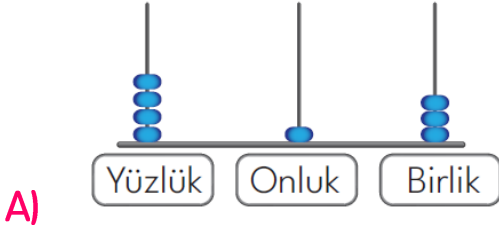
B) XVI XVII XV

C) IV XX XVI

MATEMATİK TESTİ

$$479 > ? > 423$$

10. Yukarıda verilen sıralamaya uyacak şekilde "?" işareti ile gösterilen yere gelmesi gereken sayının abaküs ile gösterilişi hangi seçenekte doğru verilmiştir?



11. Kibrit çöplerini kullanarak 14 sayısını Romen rakamı olarak yazacak olan Kayra en az kaç tane kibrit çöpü kullanır?

A) 4

B) 5

C) 6

Eymen: 47'den başlayarak geriye doğru 23'e kadar üçer ritmik sayma yaptım.

Seda: 22'den başlayarak ileri doğru 50'a kadar dörder ritmik sayma yaptım.

12. Buna göre Eymen ve Seda, ritmik sayma yaparken hangi sayıları ortak söylemişlerdir?

A) 26 - 38

B) 32 - 38

C) 35 - 46

+	554	572
297	A	
386		B

13. Yukarıda verilen toplama işlemi tablosunda $B - A = ?$ işleminin sonucu kaç olur?


A) 97

B) 107

C) 117

MATEMATİK TESTİ BİTTİ! FEN BİLİMLERİ TESTİNE GEÇİNİZ.


FEN BİLİMLERİ TESTİ




1. Yukarıdaki görselleri ödevi için bulan Serra hangi konuda çalışma yapmaktadır?

- A) Geçmişten günümüze Dünya'nın şeklindeki değişiklikler
- B) Eski zamanlarda yaşayan insanların Dünya'nın şekli ile ilgili görüşleri
- C) En güzel Dünya görselleri

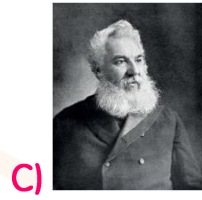
2. Aşağıda resmi verilen ve ismi yazılı olan bilim insanlarından hangisi Dünya'nın yuvarlak olduğu ile ilgili çalışma yapmamıştır?



Pisagor



Macellan

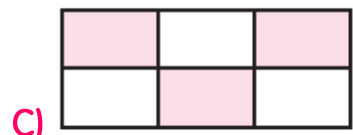
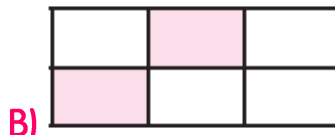
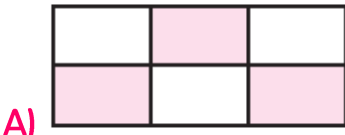


Graham Bell

Denizler	Mağaralar	Okyanuslar
Sahiller	Irmaklar	Göller

Yukarıdaki tabloda Dünya'nın su tabakasında olmayan yerler boyanacaktır.

3. Buna göre oluşan tablo hangi seçenekte verilmiştir?



- I. En sıcak katmandır.
- II. İç katmandır.
- III. Dünya'nın iç kısmında bulunur.
- IV. Kara katmanının altında, su katmanını üstünde bulunur.

4. Yukarıda verilen bilgilerden hangisi ya da hangileri Dünya'nın katmanlarından çekirdek için söylenemez?

- A) I ve II
- B) II ve III
- C) Yalnız IV

FEN BİLİMLERİ TESTİ



Dünya üzerindeki büyük kara parçalarına kıta denir.

5. Buna göre haritada gösterilen yerlerden hangileri bu bilgiye örnek olarak verilebilir?

A) 1, 2, 4

B) 2, 3, 5

C) 3, 4, 5

★ Tat alma duyu organıdır.

▲ Cisimlerin renklerini algılarız.

● Konuşmamıza yardımcı olur.

6. Yukarıdaki sembollerle gösterilen ifadelerden hangileri "dil" ile ilgilidir?

A) ★ ●

B) ★ ▲

C) ▲ ●

• Dünya'mız şeklindedir.

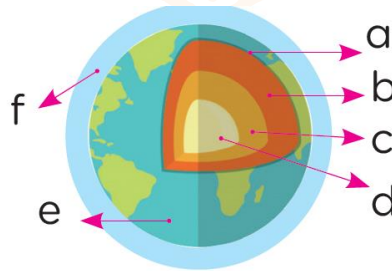
• Dünya'mız kutuplardan hafif, ekvattan dir.

7. Aşağıdaki sözcüklerden hangisi cümlelerdeki noktalı yerlere yazılacak sözcüklerden biri **değildir**?

A) basık

B) şişkin

C) küp



8. Yukarıda verilenlere göre Dünya'nın iç ve dış katmanları hangi seçenekte doğru verilmiştir?

İç Katmanlar

A) a, b, c

B) b, c, d

C) c, d

Dış Katmanlar

d, e, f

a, e, f

a, b, e, f

FEN BİLİMLERİ TESTİ

Televizyonda doktor duyu organlarımızın sağlığı ile ilgili açıklamalar yaptı:

- I. Tozdan, kirden koruyalım.
- II. Televizyonu 2 - 3 metre uzaktan izleyelim.
- III. Havuç gibi meyve ve sebzeler tüketelim.

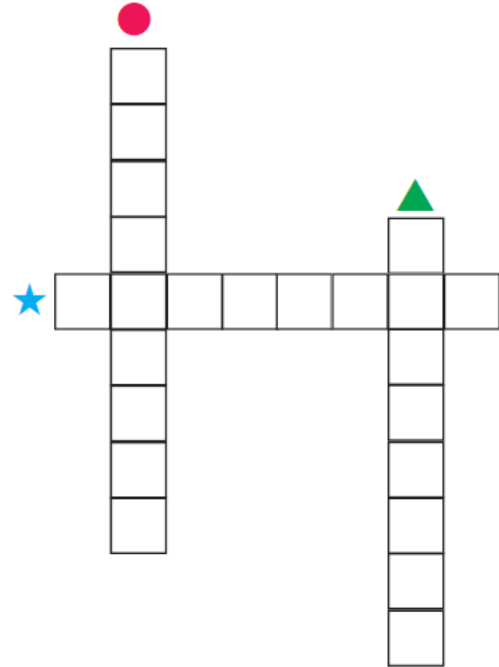
9. Doktorun yukarıdaki açıklamaları hangi duyu organımızın sağlığını korumaya yöneliktir?



* → Dünya'yı saran katmanın diğer adıdır.

● → Okyanusların, denizlerin, akarsu ve göllerin oluşturduğu katmanın adıdır.

▲ → Dünya'nın en iç katmanıdır.



10. Yukarıda tanımları verilen sözcükler bulmacaya doğru yerleştirildiğinde aşağıdaki seçeneklerden hangisine ulaşılır?

A) * → Atmosfer
● → Su katmanı
▲ → Çekirdek

B) * → Atmosfer
● → Magma
▲ → Su katmanı

C) * → Hava katmanı
● → Kara katmanı
▲ → Çekirdek

FEN BİLİMLERİ TESTİ BİTTİ! HAYAT BİLGİSİ TESTİNE GEÇİNİZ.

HAYAT BİLGİSİ TESTİ

"Gitar kursuna gidiyorum. Gitar çalmayı da çok seviyorum. En büyük amacım ileride iyi bir gitarist olmak."

1. Yukarıdaki sözleri aşağıdaki seçeneklerin hangisindeki öğrenci söylemiş olabilir?



A)



B)



C)

Gülümseyerek arkadaşlarınıza "Günaydın" dediniz. Arkadaşlarınız da size "Günaydın" dediler ve oyuna katılmanızı istediler.

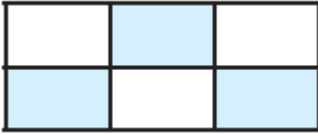
2. Bu durumda duygunuz ne olur?

- A) Mutlu olmak
- B) Endişe etmek
- C) Merak etmek

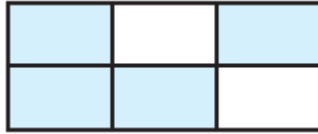
Hoşgörülü	Kıskanç	Kibar
Çalışkan	Cömert	Bencil

Yukarıdaki tablodaki özelliklerden arkadaşımızda olmasını istediklerimizi boyayacağız.

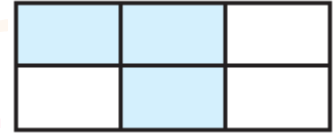
3. Buna göre tablonun boyalı şekli nasıl olur?



A)



B)



C)

4. Aşağıdaki seçeneklerin hangisinde "kroki" ile ilgili yanlış bir bilgi verilmiştir?

- A) Kuş bakışı çizimdir.
- B) Planlı, ölçekli bir çizimdir.
- C) Yön belirtilmelidir. Sembol kullanılabilir.




HAYAT BİLGİSİ TESTİ

Okuldaki sosyal etkinliklerde birçok öğrenci görev almaktadır.

5. Aşağıdaki ifadelerden hangisi sosyal etkinliklerin bize kazandırdıkları arasında sayılmaz?

- A) Okulda yapılan etkinlikler öğrencilerde sorumluluk duygusunu geliştirir.
- B) Okullardaki sosyal etkinliklere katılan öğrencilerin is birliği yapma bilinci gelişir.
- C) Okullardaki sosyal etkinliklere katılan öğrenciler bencil olurlar.

6. Aşağıdaki öğrencilerden hangisinin ifadesi onun güçsüz yanını belirtmektedir?

- A)  Saatlerdir şiiri ezberlemeye çalışıyorum. Ama ezberleyemedim.
- B)  Herkes güzel resim yaptığımı düşünüyor. Resim sergim açılacak.
- C)  Basketbol kursuna katılmıştım. Öğretmenim beni okul takımına aldı.

Kayra , Cahit Zarifoğlu İlkokulu, 3G sınıfında okumaktadır. Bu yıl yapılacak okul sporlarındaki masa tenisi turnuvasına okulu adına katılmak istemektedir. Ancak okullarında bu müsabakalara hazırlanacak bir alan bulunmamaktadır.

7. Buna göre Kayra, okullarındaki bu sorunu çözmek için ne yapmalıdırlar?

- A) Okuldaki öğrencilerden para toplamalıdırlar.
- B) Okul idaresine konuyla ilgili dilekçe yazmalıdırlar.
- C) Okulda spor salonu olmadığı için bu isteğinden vazgeçmelidir.

Pelin, annesinin beslenmesine koyduğu kurabiyeleri arkadaşları ile birlikte yemektedir.

8. Buna göre Pelin için aşağıdakilerden hangisi söylenebilir?

- A) Bencil
- B) Kıskanç
- C) Paylaşımçı

HAYAT BİLGİSİ TESTİ



9. Yukarıdaki krokiye göre hangisi **söylenemez**?

- A) Parkın sağında okul, solunda cami bulunmaktadır.
- B) Eczanenin doğusunda manav, batısında market vardır.
- C) Okulun karşısında market, batısında park bulunmaktadır.

Sınıf başkanlığı seçimi yapılacak olan 3/A sınıfında başkan adaylarının bazı özellikleri şu şekildedir:

Beyza: Çok güzel keman çalar ve şarkı söyler

Arya: Güzel ve etkili konuşur. İletişimi güçlüdür. Ayrıca ikna kabiliyeti yüksektir.

Feyza: Çok iyi resim yapmaktadır. Resim konusunda sınıftaki herkes ona hayrandır.

10. Yukarıda verilen bilgilere göre hangi öğrencinin sınıf başkanı seçilmesi daha uygundur?

A) Beyza

B) Arya

C) Feyza

HAYAT BİLGİSİ TESTİ BİTTİ!

İNGİLİZCE TESTİNE GEÇİNİZ.

İNGİLİZCE TESTİ

1. Verilen eşleştirmelerden hangisi **yanlıştır**?

- A) twenty — 19
- B) eighteen — 18
- C) fourteen — 14

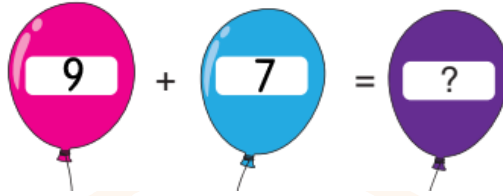
A : What color is this car?

B : It is



2. Diyalogtaki boşluğa hangi kelime gelmelidir?

- A) blue
- B) pink
- C) black



3. Yukarıdaki toplama işleminde soru işareti olan yere aşağıdaki seçeneklerden hangisi yazılmalıdır?

- A) sixteen
- B) seventeen
- C) eighteen

4. Resimde gösterilen oyun hangisidir?

- A) Hide and Seek
- B) Hopscotch
- C) Chinese Whispers



I have two They are Şule and Sevinç.

5. Yukarıdaki cümlede boş bırakılan yere aşağıdaki ifadelerden hangisi **gelemez**?

- A) brothers
- B) aunts
- C) sisters

TEST BİTTİ.

CEVAPLARINIZI KONTROL EDİNİZ