



Öğrenciler, çocukluktan başlayıp genç oluncaya kadar geçen bir sürede okula giderler. Bu yaşlarda büyüklerinden beledikleri en önemli şey, anlayıştır. Kendilerini anlayan ve anlayış gösteren insanları çok severler. Öğrencilerin yerine kendimizi koyarak karar vermeliyiz. Bu bizi başarılı bir iletişime ve başarıya götürür.

1- Yukarıdaki paragrafa göre, aşağıdakilerden hangisi söylenemez?

- A) Öğrencilerin davranışlarını kendi düşüncelerimize göre değerlendirmeliyiz.
- B) Öğrenciler, öğrencilik süresi içinde büyüklerinden anlayış beklerler.
- C) Öğrenciler, kendilerini anlayan ve anlayış gösteren insanları severler.

Sözcük	Zıt Anlamısı
Islak	I
Uslu	II
İnce	III

2- Yukarıdaki tabloda numaralı boşluklara hangi seçenekte verilen sözcükler yazılmalıdır?

- | I | II | III |
|----------|---------|-------|
| A) yaş | akıllı | kaba |
| B) nemli | afacan | kibar |
| C) kuru | yaramaz | kalın |

3- “Ayşe Hanım, talebelerine her zaman kibar davranırdı.” cümlesinde altı çizili sözcüklerin yerine hangi seçenekte verilen sözcükler sırasıyla yazılırsa cümlemin anlamında bir değişiklik olmaz?

- A) okul - süre - kaba
- B) öğrenci - vakit - nazik
- C) öğrenci - defa - ılımlı

1. Merak

2. Mesafe


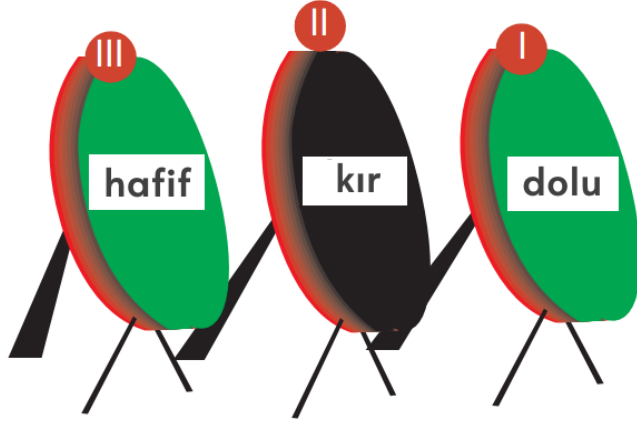
3. Mektup

4- Yukarıdaki kelimeler sözlükteki sırasına göre sıralanırsa hangi seçenekte verilen sıralama doğru olur?

A) 2 - 1 - 3

B) 3 - 1 - 2

C) 3 - 2 - 1



Kayra

Kayra, sesteşi olmayan kelimenin yazılı olduğu hedefi vuracaktır.

5- Buna göre, Selim okunu kaç numaralı hedefe atmalıdır?

A) I

B) II

C) III

1. ancak

2. sürekli ve düzenli

3. bir çalışmayla

4. elde edilir

5. başarı

6- Yukarıdaki numaralandırılmış kelime ve kelime gruplarıyla kurallı ve anlamlı bir cümle oluşturulursa sıralama nasıl olur?

A) 5 - 1 - 2 - 3 - 4

B) 4 - 3 - 1 - 5 - 2

C) 5 - 3 - 2 - 4 - 1



7- Yukarıdaki tabelada yazan cümle ile ilgili en uygun yorum aşağıdakilerden hangisidir?




A) Ormanlarda asla ateş yakmamalıyız.

B) Sorumsuzca davranıp bir ormanı yaktıktan sonra üzülme bir işe yaramaz.

C) Ormanda yanan ağaçların yerine yenileri dikilmelidir.



8- Aşağıdaki öğrencilerden hangisinin cümlesinde sebep-sonuç ilişkisi yoktur?

- A)  Hava çok soğuk olduğu için dışarı çıkamadık.
- B)  Annesini bulamayınca ağlamış.
- C)  Büyüklerimizin sözünü dinlemeliyiz.



9- Yandaki tahtadaki numaralı sözcüklerden kaç tanesinin yazımı yanlıştır?

- A) 2
B) 3
C) 4

() Bugün Ali'yi gördün mü ()
– Hayır () bugün hiç görmedim.
– Peki, bizimle gelecek misin?
– Ali gelirse ben de gelirim ()

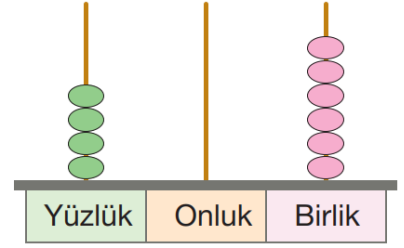
10- Yukarıdaki diyalogda () parantezle gösterilen yerlere sırasıyla hangi noktalama işaretleri konulmalıdır?

- A) (–) (?) (,) (.)
B) (–) (.) (,) (.)
C) (–) (!) (.) (.)



1- Yanda abaküste verilen sayı ile ilgili olarak hangi seçenekteki bilgi yanlıştır?

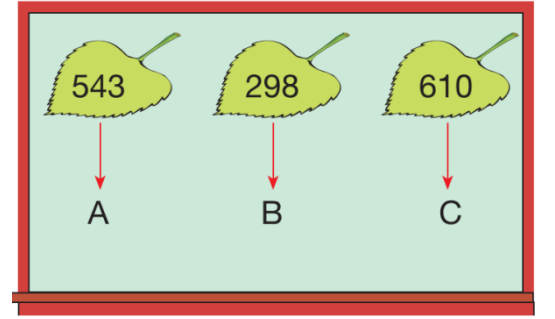
- A) Yüzler basamağındaki rakamın basamak değeri 400'dür.
 B) Okunuşu, dört yüz altmıştır.
 C) 4 yüzlük + 0 onluk + 6 birlik şeklinde çözümlenir.



Yandaki doğal sayılar harflerle ilişkilendirilmiştir.

2- Bu doğal sayıları büyükten küçüğe doğru sıralarsak aşağıdaki sıralamalardan hangisi doğru olur?

- A) $C > A > B$
 B) $B > C > A$
 C) $A > B > C$



3- Bir çıkarma işleminde eksilen 500, fark 284 olduğuna göre, çıkan sayı kaçtır?

- A) 384
 B) 276
 C) 216

$$\begin{aligned} 580 - \square &= 120 \\ \square - \triangle &= 210 \\ \triangle - 110 &= ? \end{aligned}$$

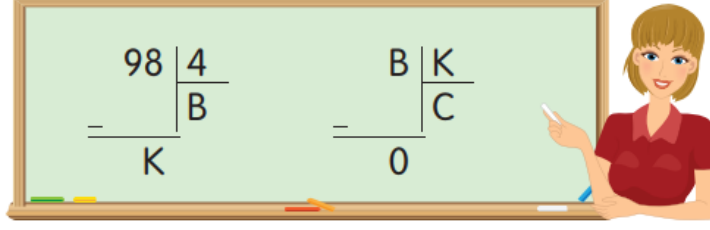
4- Yukarıdaki eşitliklere göre, "?" ile belirtilen sayı aşağıdakilerden hangisidir?

- A) 140
 B) 130
 C) 240

$$\begin{aligned} (105) + (87) + (160) \\ \downarrow \quad \downarrow \quad \downarrow \\ \square + \square \\ \downarrow \\ \triangle \end{aligned}$$

5- Yanda şemada verilen toplama işlemlerine göre, " \triangle " yerine aşağıdaki doğal sayılardan hangisi gelmelidir?

- A) 438
 B) 439
 C) 441



Nehir Öğretmen yukarıdaki işlemleri tahtaya yazıyor ve öğrencilerine (BxC) +2 işleminin sonucunu soruyor.

6- Buna göre, hangi öğrenci bu işlemin sonucunu doğru söylemiştir?



Arıcı Ahmet Bey arılarıyla ilgili olarak;

- Yandaki gibi üç katlı 5 kovanım var.
- Her bir kovani oluşturan katlara 6 çerçeve (petek) koyuyorum.
- Yaz sonuna doğru her bir çerçeveden 3 kg bal alıyorum. bilgilerini veriyor.



7- Ahmet Bey, yaz sonunda elde ettiği balın 175 kg'ını sattığına göre, geriye kalan bal kaç kg'dır?

A) 110

B) 95

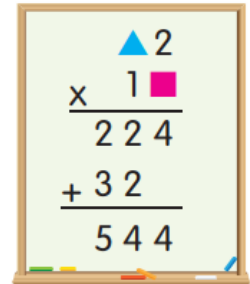
C) 85

8- Yandaki çarpma işlemine göre, ■ x ▲ işleminin sonucu aşağıdakilerden hangisidir?

A) 7

B) 14

C) 21








Yandaki tabloda Kaan Bey'in işe gittiği günler "✓" ile işe gitmediği günler "X" ile gösterilmiştir.

9- Kaan Bey, işe gittiği her gün için çalıştığı iş yerinden günlük 108 TL ücret aldığına göre, bir haftada toplam kaç TL kazanır?

- A) 500
- B) 540
- C) 648

Pazartesi	✓
Salı	✓
Çarşamba	X
Perşembe	✓
Cuma	✓
Cumartesi	✓
Pazar	X

Tablo: Bir Otoparkta Bulunan Araçların Çetele Tablosu

Araçlar	Araçların Sayısı
	
	
	

Yukarıdaki çetele tablosunda bir otoparkta bulunan araçların sayısı ve çeşitleri verilmiştir.

10- Tabloya göre, aşağıdakilerden hangisi yanlıştır?

- A) Bu otoparkta toplam 46 araç bulunmaktadır.
- B) Kamyonların sayısı, otobüslerin sayısından 2 azdır.
- C) Bu otoparkta 18 otomobil vardır.



Ayşe, gitarının tellerine dokunduğunda tellerin titreştiğini ve sonucunda da ses oluştuğunu fark ediyor.

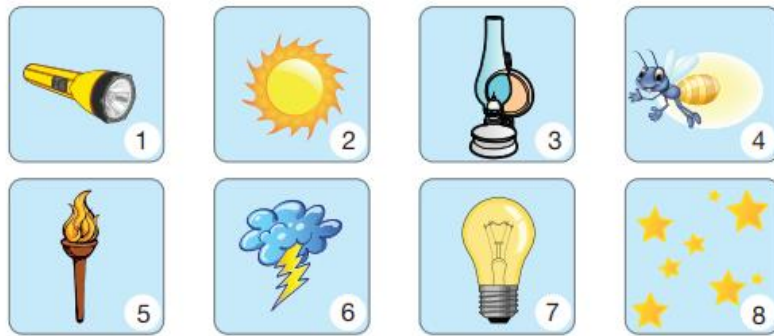
1- Buna göre, sesle ilgili olarak aşağıdakilerden hangisini söyleyebiliriz?

- A) Titreşen bütün cisimlerin çıkardığı sesi duyabiliriz.
- B) Ses, Güneş ışınları gibi doğrusal olarak yayılır.
- C) Titreşen cisimler ses üretir.



2- Yukarıdaki uyarı levhalarının anlamı sırasıyla hangi seçenekte doğru olarak verilmiştir?


- A) Patlayıcı madde - Zehirli madde - Yanıcı madde
- B) Dikkat zarar verici kokular - Genel tehlike - Yanıcı madde
- C) Zararlı ve tahriş edici madde - Zehirli madde - Yanıcı madde





3- Yukarıdaki ışık kaynakları doğal ışık kaynakları ve yapay ışık kaynakları şeklinde gruplandırılırsa hangi seçenekte verilen gruplama doğru olur?

- | | <u>Doğal Işık Kaynakları</u> | <u>Yapay Işık Kaynakları</u> |
|----|------------------------------|------------------------------|
| A) | 2, 3, 6, 7 | 1, 4, 5, 8 |
| B) | 2, 4, 6, 8 | 1, 3, 5, 7 |
| C) | 2, 4, 5, 7 | 1, 3, 6, 8 |



Onur  Koşucunun birinci olmak için yaptığı hareket hızlanma hareketidir.

Rüştü  Kalecinin kaleye giren topa dokunması yön değiştirme hareketidir.

Hasan  Duvar saatindeki yelkovanın yaptığı hareket sallanma hareketidir.

4- Yukarıdakilerden hangisi, varlıkların hareket özelliklerini yanlış açıklamıştır?

A) Onur **B)** Hasan **C)** Rüştü

I. Halı ve bulaşık süngeri pürüzsüz maddelerdir.

II. Kış mevsiminde arabaların kaymaması için kışlık lastikler takılmalıdır.

III. Ne olduğunu bilmediğimiz maddelerin tadına bakmak sağlığımıza zarar verebilir.

5- Yukarıdaki ifadelerden hangisi yanlıştır?

A) I **B)** II **C)** III

- Belli bir şekli vardır.
- Genellikle konuldukları kabın şeklini almazlar.
- Akışkan değildirler.

6- Yukarıdaki özellikler hangi maddelere aittir?

A) Gaz **B)** Sıvı **C)** Katı

1. Havada serbest bırakılan bir taş düşerken hızlanma hareketi yapar.

2. Bir otomobil bisiklete göre hızlı, uçağa göre yavaş hareket eder.

3. Hareketli bir kumandalı arabaya hareketinin tersi yönünde bir kuvvet uygularsak hızı artar.

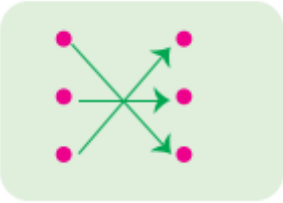
7- Yukarıdaki ifadelerden hangisi ya da hangileri doğrudur?

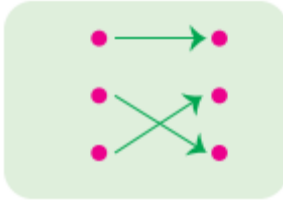
A) Yalnız 1
B) 1 ve 3
C) 1 ve 2

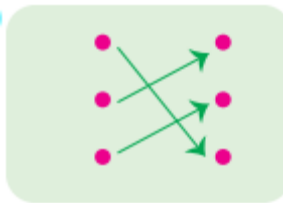



Cisimler	Özellikleri
Toprak vazo	• Esnek
Paket lastiği	• Sert
Altın bilezik	• Kırılgan


8- Yukarıdaki cisimleri özellikleri ile doğru eşleştiren Mert'in eşleştirmesi hangi seçenekteki gibidir?


A) 

B) 

C) 

Selçuk  Duran cisimleri hareket ettirebilir.

Ferhat  Hareket halindeki cisimleri durdurabilir.

Cemil  Cisimlerin hareket yönünü değiştirebilir.

9- Yukarıdaki öğrencilerden hangisi ya da hangileri kuvvetle ilgili doğru bilgi vermiştir?

- A) Yalnız Selçuk
B) Selçuk – Ferhat – Cemil
C) Selçuk – Cemil

10- Duyu organlarımızın sağlığı ile ilgili olarak;

- I. Kulağımızın sağlığı için yüksek sesle müzik dinlememeliyiz.
II. Göz sağlığımız için yakından televizyon izlemeliyiz.
III. Deri sağlığımız için düzenli banyo yapmalıyız.
IV. Dil sağlığı için çok sıcak, soğuk, acı, tuzlu, asitli yiyecekler ve içecekler tüketmemeliyiz.

verilenlerden hangileri doğrudur?




- A) I, III ve IV
B) II ve III
C) Yalnız IV



1- Yukarıdaki trafik levhalarının anlamları hangi seçenekte doğru verilmiştir?

- | I | II | III |
|----------------------|-----------------------|------------------|
| A) Yaya giremez | KontROLSÜZ demir yolu | Bisiklet giremez |
| B) Yaya geçidi | KontROLSÜZ demir yolu | Bisiklet yolu |
| C) Mecburi yaya yolu | Yaya giremez | Okul geçidi |

2- Aşağıdaki öğrencilerden hangisinin ortak kullanım alanlarıyla ilgili olarak verdiği bilgi yanlıştır?

- A)  Okulda ortak kullanım alanlarında tuvalet ve lavaboları temiz kullanmalıyız.
- B)  Yiyeceklerimizin ambalajlarını yere atmamız.
- C)  Piknik alanlarında çöplerimizi bırakmamalıyız.

- () Sağlıklı büyümek için dengeli beslenmeliyiz.
- () Düzenli beslenme günde üç öğün yemeğimizi aksatmamaktır.
- () Sadece et ve et ürünleriyle beslenmek dengeli beslenmeyi ifade eder.

3- Yukarıdaki ifadelerin başına doğru ise (D), yanlış ise (Y) yazarsak “doğru-yanlış” sıralaması nasıl olur?

- A) D - D - Y B) D - Y - Y C) Y - D - Y

4- Aşağıdakilerden hangisi bilinçli bir tüketicinin yapması gereken davranışlardan biri olamaz?

- A) Aldığı ürünün son kullanma tarihine bakmak
- B) Ambalajı bozuk ürünleri almak
- C) Alacağı ürünle ilgili fiyat araştırması yapmak



Beslenme, barınma ve giyinme ihtiyaçlarımız hayatımızı devam ettirmek için gereklidir. Ayrıca bizi mutlu eden isteklerimizde vardır. Ancak bizler, paramızı harcarken ihtiyaçlarımıza öncelik vermeliyiz.

5- Buna göre, yandaki listede hangilerinin yerleri değiştirilirse yukarıdaki açıklamaya göre, doğru bir alışveriş listesi hazırlanmış olur?

- A) Oyuncak - Pantolon
- B) Oyuncak - Tablet
- C) Ayakkabı - Süt


1. Ayakkabı
2. Oyuncak
3. Süt
4. Pantolon
5. Tablet





6- Yukarıdaki meyveler genellikle hangi mevsimde pazarcılarının tezgahını doldururlar?

- A) Yaz
- B) İlkbahar
- C) Sonbahar

7- Aşağıdaki öğrencilerden hangisinin ifadesi yanlıştır?

A)  Günlük plan yapmak zamandan tasarruf etmemizi sağlar.

B)  Teknolojik ürünler az zamanda daha çok iş yapmamızı sağlar.

C)  İstedığımız saatte yüksek sesle müzik dinlemek komşuluk ilişkilerine zarar vermez.



Demokratik yaşayışın ilk alışkanlıkları ailede kazanılır.

8- Aşağıdakilerden hangisi demokratik bir ailenin özelliğidir?

- A) Ailede kararları baba verir.
- B) Kararlar alınırken aile bireylerinin görüşleri alınır.
- C) Aile bireyleri arasında iş bölümü yoktur.

9- Evimizin krokisini çizip yerini tarif ederken;

- I. Çevredeki cadde ve sokakları belirtiriz.
- II. Evimizin çevresinde bulunan önemli binaları belirtiriz.
- III. Krokiyi çizdiğimiz kağıdın bir köşesine yön levhası (şeması) koyabiliriz.

verilenlerden hangisi ya da hangilerinin yapılması evimizin kolayca bulunmasını sağlar?

- A) Yalnız I
- B) I ve II
- C) I, II ve III

Bizi olumlu davranışlarıyla mutlu eden arkadaşlarımız olduğu gibi olumsuz davranışlarıyla bizi üzen arkadaşlarımız da olabilir.

10- Buna göre, aşağıdaki davranışlardan hangisi bizi olumsuz olarak etkiler?

- A) Arkadaşımızın oyun kurallarına uymayıp oyunumuzu bozması
- B) Arkadaşımızın sabah karşılaştığımızda bize günaydın demesi
- C) Arkadaşlarımızın aldıkları görevleri yerine getirmeleri



1- Resme göre, aşağıdaki cümlede boş bırakılan yere uygun olan ifade hangi seçenekte verilmiştir?

It's a nice

- A) plane
- B) helicopter
- C) doll



2- Resme göre, aşağıdaki cümlede boş bırakılan yere uygun olan ifade hangi seçenekte verilmiştir?

It is a ball.

- A) pink



- B) blue

- C) yellow

3- Resme göre, uygun ifade hangi seçenekte verilmiştir?

- A) I have got three green kites.
- B) I have got three green teddy bears.
- C) I have got thirteen green teddy bears.



4- Aşağıdaki görsele göre doğru ifade hangisidir?

- A) I feel tired
- B) I feel sad
- C) I feel energetic



5- Resimdeki kişiyi en iyi hangi seçenekteki ifade tanımlar?

- A) small
- B) fat
- C) thin

