



İLKOKULEVİM DENEME SINAVLARI

3.Sınıf Ocak Ayı Kazanım Değerlendirme Sınavı

Türkçe
Matematik
Fen Bilimleri
Hayat Bilgisi
İngilizce

www.ilkokulevim.com



Mehmet'in annesi aşçılık, babası tamircilik yapıyordu. Mehmet bir gün okulda hastalandı. Babasına haber verdiler. Babası gelip Mehmet'i aldı ve doktora götürdü. Doktor onu muayene etti. İlaçlar yazdı ve üç gün evde dinlenmesini söyledi. Babası da raporu alıp Mehmet'in öğretmenine götürdü.

- ▲ Kuşbakışı çizimdir.
 - Ölçeklendirme yapılmaz.
 - Her şey sadece kare şeklinde gösterilir.
- 3 - Yukarıda kroki ile ilgili verilen bilgilerden hangileri doğrudur?
- A) ▲ ● B) ● ■ C) ▲ ■

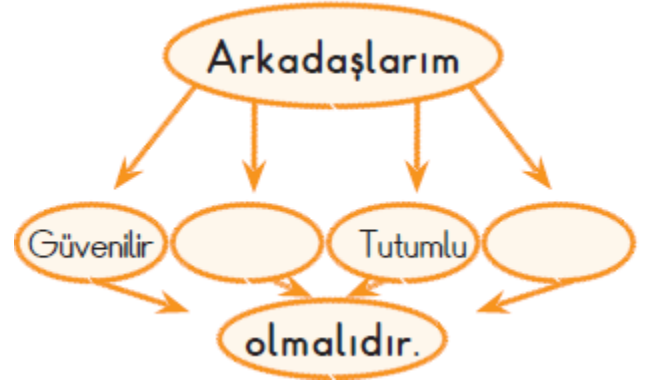
1 ve 2. soruları metne göre yanıtlayalım.

1- Yukarıdaki olaya göre hangisi söylenemez?

- A) Hayatımızda her türlü mesleğe ihtiyaç vardır.
- B) En önemli meslek doktorluktur.
- C) Meslekler ihtiyaçlarımıza göre değişir.

2 - Yukarıdaki metinde kaç tane meslekten bahsedilmiştir?

- A) 2
- B) 3
- C) 4



4 - Arkadaş seçiminde dikkat etmemiz gereken özelliklere göre boş bırakılan kutulara hangileri getirilmelidir?

- A) Sırdas Kıskanc
- B) Çalışkan Sevecen
- C) Yardımcı Bencil



5 - Aşağıdaki ifadelerden hangisi okulun bize kazandırdığı bir davranış değildir?



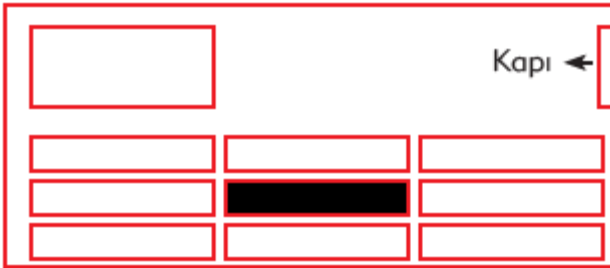
Bilgi ve beceri edindiğimiz yerdir.



Arkadaş edinip sosyalleştığımız yerdir.



Konuşmayı öğrendiğimiz yerdir.



6 - Siyah renk ile gösterilen yerde oturan çocuk kimdir?

A) **Efe**: Öğretmen masasının tam önünde oturuyorum.

B) **Ecem**: Kapı tarafında en sondaki sırada oturuyorum.

C) **Sefa**: Ortadaki sıralarda baştan ikinci sırada oturuyorum.

7 - Ders çalışmak için Zeyneplere gittim. Yanlışlıkla bardağı kırdım. Saliha bu durumda ne yapmalıdır?

A) Kimseye söylemeden bardağı çöpe atmalıdır.

B) Zeynep'e yanlışlıkla olduğunu söylemelidir.

C) Bardağı kırdığını kabul etmemelidir.

8 - Aşağıdakilerden hangisi istektir?



Bir günümü planlarsam

9 - Yukarıdaki cümleyi hangi ifade ile tamamlayamayız?

A) işlerimi zamanında yetiştiririm.

B) çok yorulurum.

C) başarılı olurum.





Bayram Amca bozulan televizyonunu kendi tamir etmeye çalışıyor.



10 - Bayram Amca'nın yapması gereken doğru davranış hangisi olmalıdır?

- A) Tamirci veya servisini çağırmalıdır.
- B) Kablosunu değiştirmelidir.
- C) Yeni bir televizyon almalıdır.

- ▲ Camları silmek
- Muslukları tamir etmek
- Ekmek almak
- ★ Odamızı toplamak

11 - Hangileri büyüklerimizin yapacağı işlerdendir?

- A) ▲ - ●
- B) ● - ★
- C) ▲ - ■

Şeyma, doğum gününde arkadaşlarını evine davet etmek istiyordu. Arkadaşları, evini rahatça bulsun diye evinin etrafındaki önemli yerleri ve yolları kağıt üzerine ölçük kullanmadan çizerek arkadaşlarına verdi.

12 - Müge, evini tarif ederken hangi yöntemi kullanmıştır?

- A) Harita çizmiştir.
- B) Kroki çizmiştir.
- C) Plan çizmiştir.

13 - Aşağıdakilerden hangisi alışverişte dikkat etmemiz gereken bir durum değildir?

- A) Reklamlarda gördüğümüz her şeyi alabiliriz.
- B) Alışverişi bütçemize uygun yapmalıyız.
- C) Alışverişte her şeyden önce ihtiyaçlarımız gelmelidir.





14 - ★=Anne ■=Baba ▲=Çocuk

	Çatı tamir edilecek
	Kullanılmayan oyuncaklar seçilecek
	Ütü yapılacak

Tablodaki işleri yaparak kişilerin sembollerini tabloya yazalım.

Tablonun görüntüsü hangi seçenekteki gibi olur?

- A)

★
■
▲

 B)

■
▲
★

 C)

■
★
▲

15 -“Berra bahçedeki çiçekleri sularken arkadaşları onu seksek oynamak için davet etmişlerdi. Berra da suyu akan hortumu yere bırakıp koşarak arkadaşlarının yanına gitti.

Berra'nın bu davranışı için hangisini söyleyebiliriz?

- A) Berra, kaynakları bilinçsiz kullanmaktadır.
B) Berra, bilinçli bir tüketicidir.
C) Berra, çiçek sulamayı sevmemektedir.



Anne o gün erik almıştı. Yemekten sonra verecekti çocuklara. Erikleri tabağa boşalttı. O güne kadar hiç erik tatmamış olan Berke ise bu garip meyveyi koklayıp duruyordu. Erikler çok hoşuna gitmişti. Bir tanesinin tadına bakmak istiyordu. Odada hiç kimsenin olmadığı bir sırada, uzandı, bir erik aldı, attı ağzına. Yemeğe oturmadan önce tabaktaki erikleri sayan anne bir tanesinin eksildiğini görünce babaya haber verdi.

Aşağıdaki 1-2-3. soruyu metne göre cevaplandırınız.

1 -Anne, çocuklara ne almış?

- A) Erik
- B) Kiraz
- C) Karpuz

2 -Erikleri gören Berke ne yapmış?

- A) Yemekten sonra bir tane yemiş.
- B) Koklamış
- C) Bir tane alıp odasına koşmuş.

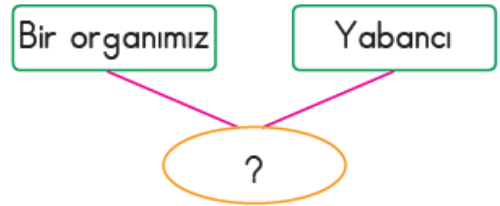
3 -Anne, eriklerin eksildiğini nasıl anlamış?

- A) Berke'yi erik yerken görmüş.
- B) Berke, erikleri yediğini söylemiş.
- C) Tabaktaki erikleri saymış.

- Köyün en varlıklı insanı muhtarmış.
- Kral fakir halkı için yiyecek dağıtmış.
- ▲ Parasız kalınca çalışmaya karar vermiş.

4 -Yukarıdaki cümlelerin hangisinde "zengin" kelimesinin eş anlamlısı kullanılmıştır?

- A) ▲
- B) ●
- C) ■



5 -Yukarıda farklı iki anlamı verilen eş sesli kelime hangisidir?

- A) Dil
- B) El
- C) Baş



6 - Aşağıdakilerden hangisinin adı, ünlü ile başlayıp ünsüzle biter?



7 -Aşağıdaki cümlelerin hangisinin sonuna diğerlerinden farklı bir noktalama işareti konur?

- A) Yazın İzmir'e gidecek misiniz()
B) Anneme ne söylediğini duymadım()
C) Kahvaltıda neler yedin()

Aşağıdaki çocuklar, adlarının alfabetik sırasına göre sıralanacaklar.



8 -Bu durumda hangi iki çocuk yer değiştirmelidir?

- A) Efe ve Eda
B) Efe ve Ece
C) Ece ve Ege

1. Zehra, sessiz okuma yapıyor.
2. Can, çok hızlı okuyabiliyor.
3. Arkadaşlarımı asla unutmam.

9 -Hangi cümlelerdeki altı çizili sözcükler, aldıkları ek nedeniyle yeni anlamlar kazanmıştır?

- A) 1 ve 2 B) 1 ve 3
C) 2 ve 3

Küçük tavşan, ormanda gezintiye çıktı. Ağaçların arasından bir ses duydu. Küçük bir yavru kuşun ayağı sıkışmıştı. Hemen gidip onu kurtardı.

10 -Metnin, hikâye unsurlarıyla ilgili bilgilerinden hangisi yanlıştır?

- A) Olay: Tavşan ile kuşun maceraları
B) Yer: Hayvanat bahçesi
C) Ana Karakterler: Kuş ve tavşan



Hasta olduğunu duyunca

1. Ziyarete gittim.
2. Çok üzüldüm.
3. Doktor çağırdı.

11 - Yukarıdaki cümle numaralandırılmış ifadelerden hangisiyle tamamlanırsa duygu bildiren bir yargı olur?

- A) 1 B) 2 C) 3


12 - "Nehir" sözcüğü, hangi cümlede özel ad olarak kullanılmıştır?


- A) Nehir nazlı nazlı akıyordu.
B) Nehirden tuttuğumuz balıkları pişirdik.
C) Nehir bugün de okula gelmedi.


13 - "yaş" kelimesi aşağıdaki cümlelerin hangisinde farklı anlamda kullanılmıştır?

- A) İncirler hala yaş olduğu için kutuya koymadık.
B) Dedem benim yaşımdayken kendisine oyuncak yaparmış.
C) Yarın on yaşına gireceğim.

14 - Hangisinin cümlesinde sebep - sonuç ilişkisi yoktur?

A)  Yağmur yağdığı için çok ıslandım.

B)  Vaktim olmadı bu yüzden yazamadım.

C)  Gece geç saate kadar televizyon izledim.

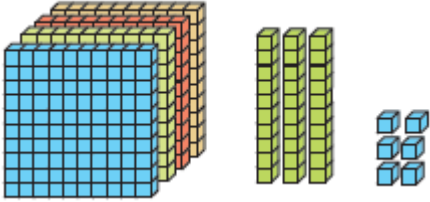
15 - Aşağıdaki cümlelerin hangisinde varlıkların özelliklerini bildiren bir kelime yoktur?

- A) Dışarı çıkarken yeni ayakkabılarımı giydim.
B) Hafta sonu hep birlikte pikniğe gideceğiz.
C) Yanlışlıkla kırık sandalyeye oturdum.





- 1 - Yandaki sayının yüzler ve onlar basamağındaki rakamların yerleri değiştirildiğinde oluşan yeni sayı kaçtır?
 A) 638 B) 386 C) 683



- 2 - Yukarıda sayı blokları ile gösterilen doğal sayı aşağıdakilerden hangisidir?
 A) 436 B) 346 C) 634

- ★ 218
 ♥ 196
 ❁ 305

- 3 - Yukarıdaki sayılardan hangisinin en yakın onluğu ile en yakın yüzlüğü birbirine eşittir?
 A) ❁ B) ♥ C) ★

$$432 > \blacktriangle > 370 > \blacksquare > 354$$

- 4 - Yukarıda bulunan \blacktriangle ve \blacksquare sembollerinin yerine hangi sayılar gelebilir?

- | | | |
|----|------------------|----------------|
| | \blacktriangle | \blacksquare |
| A) | 422 | 372 |
| B) | 417 | 368 |
| C) | 443 | 365 |



- 5 - Yukarıdaki örüntüde \triangle yerine hangi sayı gelmelidir?
 A) 9 B) 11 C) 14



- 6 - Aşağıdakilerden hangisi çocukların gösterdiği sayılardan değildir?
 A) 13 B) 14 C) 18



7 - Yukarıdaki rakamları birer kez kullanarak kaç tane üç basamaklı çift sayı oluşturabiliriz?

- A) 1 B) 2 C) 3

$$\begin{array}{r} 7 \blacksquare 8 \\ - 45 \bullet \\ \hline \blacktriangle 64 \end{array}$$

10 - Yukarıdaki işleme göre verilmeyen ifadelerin değerleri kaçtır?

- A) \blacksquare 1 \bullet 4 \blacktriangle 2
B) 2 6 3
C) 1 4 3



Üç yüz seksen dört



Beş yüz kırk yedi

8 - Murat ile Beyza'nın söylediği sayıların toplamı kaçtır?

- A) 831 B) 921 C) 931

$$\begin{array}{r} 743 \\ - 152 \\ \hline \blacktriangle \blacksquare \bullet \end{array}$$

9 - Yukarıdaki işlemde " $\blacktriangle \blacksquare \bullet$ " ile gösterilen rakamların toplamı kaçtır?

- A) 14 B) 15 C) 16

11 - Selin'in 258 tane leblebisi var. Esmâ'nın Selin'den 67 fazla leblebisi vardır.

Esmâ ve Selin'in toplam kaç leblebisi vardır?

- A) 483 B) 538 C) 583





Bir mağazada 800 gömlek vardır. 1. hafta 173 gömlek, 2. hafta ise 1. haftadan 46 fazla gömlek satılmıştır.

12 - Mağazada kaç gömlek kalmıştır?

- A) 488 B) 480 C) 408






13 -

Rakamları birbirinden farklı üç basamaklı en küçük sayının 3 ile çarpımı kaçtır?

- A) 306 B) 333 C) 346

14 - Saatteki hızı 60 km olan bir otomobil 14 saatte kaç km yol gider?

- A)  740
B)  780
C)  840

Kırtasiyeci, her birinde 24 kitap olan 9 kutu kitap almıştır. Kitaplardan 84 tanesini satmıştır.

15 - Kalan kitapların sayısı kaçtır?

- A) 132 B) 165 C) 216





✓Dağ ✓Tepe ✓Ova

1 -Yukarıda verilenler, Dünya'nın hangi tabakasında bulunur?

- A) Hava küre
- B) Taş küre
- C) Su küre

Sahilden denizi izleyen bir kişi, çok uzaktan yaklaşan yelkenli geminin önce yelkenlerini, daha sonra gövdesini görüyor.

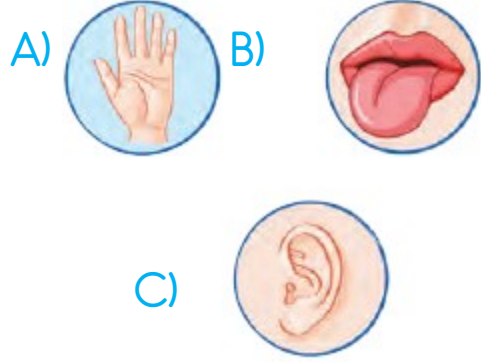
2 -Yukarıdaki ifade,aşağıdakilerden hangisinin kanıtı olabilir?

- A) Denizin dibinde tümseklerin olmasının
- B) Dünya'nın şeklinin yuvarlak olmasını
- C) Geminin yelkenlerinin çok büyük Olmasının

3 -Aşağıdaki ifadelerden hangisi duyu organlarımızın sağlığını korumaya yöneliktir?

- A) Çok tozlu ortamlarda oynamam.
- B) Bilgisayarda uzun süre oyun oynarım.
- C) Sütü çok sıcak içerim.

4 -Cisimlerin sert, yumuşak, pürüzlü veya pürüzsüz olup olmadığını anlamamızı sağlayan duyu organımız aşağıdakilerden hangisidir?



Aşağıda, duyu organlarının görevleri belirtilirken bir yanlışlık yapılmıştır.

Dil: Tat almamızı sağlar.

Göz: Görmemizi sağlar.

Kulak: Dokunarak cisimleri tanımamızı sağlar.

Burun: Koku almamızı sağlar.

Deri: İşitmemizi sağlar.

5 -Buna göre hangi duyu organları yer değiştirirse yanlışlık giderilmiş olur?

- A) Kulak ile burun
- B) Göz ile deri
- C) Kulak ile deri



- Potadan seken basketbol topunun hareketi
 - Caddede yol alırken sağdaki sokağa sapan arabanın hareketi
 - ▲ Rüzgârlı havada ağaçtaki yaprakların hareketi
- 6 - Hangi geometrik şekiller ile gösterilen hareketler yön değiştirmedir?

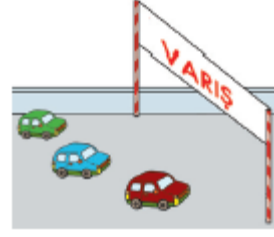
- A) ●-▲
B) ■-▲
C) ●-■

◆ Bahçedeki çamaşır ipine asılmış çamaşırların rüzgârda yaptığı hareket

- ◆ Lunaparktaki gondolun hareketi
- ◆ Bebeği uyutmak için sallanan beşiğin hareketi

7 - Yukarıdaki hareket türlerinden kaç tanesinde sallanma hareketi vardır?

- A) 3
B) 2
C) 1



Yukarıdaki yarışta arabaların hepsi buldukları konumdan aynı anda varışa ulaşmış ve yarışı berabere bitirmişlerdir.

8 - Buna göre hangi araba en hızlıdır?

- A) Kırmızı
B) Yeşil
C) Mavi



Yukarıdaki gibi havaya atılan top, bir süre sonra yere düşmüştür.

9 - Topun yaptığı hareket türleri sırasıyla hangi seçenekte doğru olarak verilmiştir?

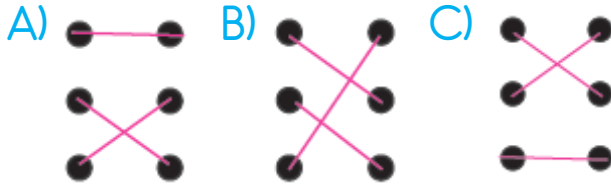
- A) Hızlanan, yön değiştiren, yavaşlayan
B) Yavaşlayan, dönen, hızlanan
C) Yavaşlayan, yön değiştiren, hızlanan





Toz şeker	Sıvı
Sirke	Katı
Su buharı	Gaz

10 -Yukarıdaki eşleştirmeyi yaptığımızda aşağıdakilerden hangisini elde ederiz?




- I. Dolabın kapağını açmak
- II. Tahtaya çivi çakmak
- III. Futbolcunun kaleye şut atması

11 -Yukarıdaki anlatımlara göre uygulanan kuvvetler hangi seçenekte doğru olarak verilmiştir?

I	II	III
A) Çekme	Çekme	İtme
B) Çekme	İtme	İtme
C) İtme	İtme	İtme

11 -Günlük hayatta aşağıdaki maddelerden hangisinin "katı, sıvı ve gaz" hâllerini birlikte gözlemleyebiliriz?

- A) Su
- B) Şeker
- C) Silgi



Yandaki buz patencisinin gösterisini sergilediği yüzeyi _____ olarak niteleriz.

13 -Yukarıdaki cümlede boş bırakılan yere hangisi getirilmelidir?

- A) esnek
- B) pürüzlü
- C) pürüzsüz



14 - Yukarıdaki uyarı levhalarının anlamı sırasıyla hangi seçenekte doğru olarak verilmiştir?

- A) Patlayıcı madde - Zehirli madde
- Yanıcı madde
- B) Dikkat zarar verici kokular -
Genel tehlike - Yanıcı madde
- C) Zararlı ve tahriş edici madde
- Zehirli madde - Yanıcı madde

İçerisinde ne olduğunu bilmediğimiz bir kutuyla karşılaştığımızda;

- I. Kesinlikle koklamamalıyız.
- II. Tadına bakarak ne olduğunu anlamalıyız.
- III. Büyüklerimizden yardım almalıyız.

15 - Yukarıda verilenlerden hangileri yapmalıyız?

- A) I ve III
- B) II ve III
- C) I, II ve III





1 - Görselin ingilizce karşılığı hangisidir?

- A) Lemon
- B) Star
- C) Zoo



4 - What color is it?

- A) pink
- B) grey
- C) black



2 - Görselin ingilizce karşılığı hangisidir?

- A) Milk
- B) Star
- C) Melon



5 - It's a

- A) a cafe
- B) a playground
- C) a supermarket



3 - There are

- A) seven pencils
- B) seven scissors
- C) seven crayons



İLKOKULA DAİR HER ŞEY BU SİTEDE

1. Sınıf



3. Sınıf

2. Sınıf

4. Sınıf

- * Konu Anlatımları
- * Konu Özetleri
- * Etkinlikler
- * Çalışma Kağıtları
- * Tarama Sınavları
- * Deneme Sınavları
- * Masal Köşesi
- * Hikaye Köşesi
- * Oyun Köşesi
- * Kitap Köşesi
- * Film Köşesi

3.SINIF OCAK AYI KAZANIM DEĞERLENDİRME SINAVI

CEVAP ANAHTARI

HAYAT BİLGİSİ:	I-B	2-C	3-A	4-B	5-C
	6-C	7-B	8-A	9-B	10-A
	11-C	12-B	13-A	14-B	15-A
TÜRKÇE:	I-A	2-B	3-C	4-C	5-B
	6-A	7-B	8-B	9-A	10-B
	11-B	12-C	13-A	14-C	15-B
MATEMATİK:	I-C	2-A	3-B	4-B	5-A
	6-C	7-B	8-C	9-B	10-A
	11-C	12-C	13-A	14-C	15-A
FEN BİLİMLERİ:	I-B	2-B	3-A	4-A	5-C
	6-C	7-A	8-B	9-C	10-C
	11-B	12-A	13-C	14-C	15-A
İNGİLİZCE:	I-B	2-C	3-C	4-A	5-B