



İLKOKULEVİM DENEME SINAVLARI

3.Sınıf Kasım Ayı Kazanım Değerlendirme Sınavı

Türkçe
Matematik
Fen Bilimleri
Hayat Bilgisi
İngilizce

Yayın Tarihi:03/12/2020



TÜRKÇE TESTİ

İnsan olan kara günde,
Kimseye el açmamalı,
Çalışmalı, kazanmalı,
Hiçbir işten kaçmamalı.

1- Dörtlüğün konusu aşağıdakilerden hangisidir?

- A. Her zaman çalışılması gerektiği
- B. Her işte çalışılmaması gerektiği
- C. Zor günlerde tek çalışılması

Uçun kuşlar uçun doğduğum yere
Şimdi dağlarında mor sümbül vardır.
Ormanlar koynunda bir serin dere
Dikenler içinde sarı gül vardır.

2- Şiirin ana duygusu aşağıdakilerden hangisidir?

- A. Merhamet
- B. Hasret
- C. Karamsarlık

Önce yemeğe gittik. Sonra film

1 2 3 4 5

izledik.

6

3- Kaç numaralı sözcükler olayların oluş sırasını belirtmektedir?

- A. 1-5
- B. 1-4
- C. 4-6

20	6	4	6	24	6

4- Yukarıda alfabemizdeki harflerin sırasından yararlanarak bir şifre oluşturulmuştur. Oluşan şifre aşağıdakilerden hangisidir?

- A. pekiyi
- B. peçete
- C. perili



5- "Büyük - küçük" sözcükleri arasındaki anlam ilişkisi hangi formanın renkleri arasında vardır?

- A. 1
- B. 2
- C. 3

6- "Yaşlı kadın ormanda _____" cümlesi hangisi ile tamamlanırsa hayal ürünü bir anlam taşır?

- A. mantar topladı.
- B. kocaman bir tavşan gördü.
- C. dev dinazor yakaladı.




TÜRKÇE TESTİ

- ▲ Eline de bir süpürge verdiler.
- Bahçeye kardan adam yaptılar.
- Gece kar çok yağdı.
- ★ Sabah Kayra ile Furkan bahçeye çıktılar.

7- Yukarıdaki olaylar, hangi seçenekte oluş sırasına göre sıralanmıştır?

- A. ★ ▲ ● ■
- B. ★ ■ ● ▲
- C. ■ ● ▲ ★

8- Hangisinin cümlesinde sebep - sonuç ilişkisi yoktur?

- A.  Kar yağınca dışarıda kardan adam yaptık
- B.  Vaktim olmayınca sana mesaj atamadım.
- C.  Gece geç vakte kadar oyun oynadım.

“Ne verirsem biriktirir () kendine saklar () kimseye söylemezdi ()”



9- Yukarıda cümlede yay ayrıçaların içine sırasıyla hangi noktalama işaretleri konmalıdır?

- A. (,) (,) (.)
- B. (.) (,) (.)
- C. (.) (,) (,)



Ben her gün iki saat ders çalışırım. Ondan sonra da yani daha sonra film izlerim.

10- Yukarıda konuşan öğrencinin konuşmasında görülen bozukluk aşağıdakilerden hangisidir?

- A. Kelimelerin yanlış anlamda kullanılması
- B. Aynı anlama gelen sözcükleri kullanması
- C. Yanlış noktalama işareti kullanması



MATEMATİK TESTİ

Aşağıda 3/A sınıfı öğrencilerinin en sevdiği renklerin grafiği verilmiştir.

Grafik: Sevilen Renkler

Mavi	● ● ● ● ● ● ● ● ● ●
Sarı	● ● ● ● ●
Kırmızı	● ● ● ●
Yeşil	● ● ● ● ● ●
Pembe	● ● ●

Not: Her şekil 2 kişiyi göstermektedir.

1-2-3. soruları grafiğe göre cevaplayınız.

1- En çok sevilen renk ile en az sevilen renk aşağıdakilerden hangisidir?

- A. Yeşil-Kırmızı
- B. Mavi- Mor
- C. Sarı-Mavi

2- Maviyi sevenlerin sayısı yeşili sevenlerin sayısından kaç fazladır?

- A.3
- B.6
- C. 9

3- 3/A sınıfının mevcudu kaç kişidir?

- A. 27
- B. 42
- C. 54

$$\begin{array}{r} 6 \star 3 \\ - \bullet 85 \\ \hline \boxed{398} \end{array}$$

4- Yukarıdaki çıkarma işlemine göre

★ - ● işleminin sonucu kaçtır?

- A. 4
- B. 5
- C. 6



Metin ile Ali futbol kursuna yazılmışlar ve yukarıda fiyatları verilen malzemelerden almışlardır.

5- 485 TL parası olan Metin ile Ali 2 adet forma 2 çift ayakkabı ve 1 adet de top aldıklarına göre kaç TL paraları artar?

- A. 338
- B. 253
- C. 147

MATEMATİK TESTİ

6- Onlar basamağında 7, birler basamağında 6 bulunan üç basamaklı en büyük doğal sayı 489'dan kaç fazladır?

- A. 487 B. 510 C. 567

$$\begin{array}{r} 32 \star \\ + \blacksquare 55 \\ \hline 783 \end{array}$$

7- Yukarıdaki toplama işleminde \star ve \blacksquare yerine gelmesi gereken rakamların basamak değerleri toplamı kaçtır?

- A. 12 B. 102 C. 408

	54	
45		?
	12	

8- Yukarıdaki şekilde sayılar soldan sağa, yukarıdan aşağıya ve köşeden köşeye toplandığında toplam 95'tir. "?" yerine ne gelmelidir?

- A. 18 B. 21 C. 24

Semih defterine eksilen ve çıkan kartlarını yapıştırdı.



9- Aşağıdaki kartlardaki hangi sayıları eksilen ve çıkan yerine yazarsa fark 387 olur?

- A. $\begin{array}{c} 878 \\ 481 \end{array}$ B. $\begin{array}{c} 943 \\ 556 \end{array}$
- C. $\begin{array}{c} 755 \\ 358 \end{array}$

10-

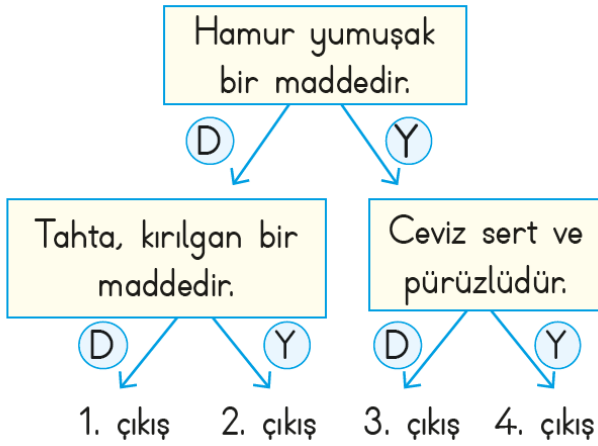
$$965 - 687 < A$$

Yukarıdaki ifadeye göre A yerine yazılabilecek en küçük doğal sayı kaçtır?

- A. 278
B. 279
C. 280



FEN BİLİMLERİ TESTİ




1- Yukarıdaki ifadeleri "Doğru - Yanlış" şeklinde değerlendiren bir öğrenci uygun seçimlerle kaç numaralı çıkışa ulaşır?

- A. 1.Çıkış
- B. 2.Çıkış
- C. 4.Çıkış

Kuvvet uygulandığında şekli değişen, kuvvetin etkisi kalktığında eski hâline geri dönen maddelere **esnek madde** denir.

2- Aşağıdaki maddelerden hangisi bu özelliğe uymaz?




★ Cam kırılğan olduğu için koltuk yapımında kullanılmaz.

▲ Pamuk yumuşak olduğundan yatak yapımında kullanılır.

■ Şemsiye su geçirmediği için yağmur yağdığında kullanılır.

3- Yukarıdaki verilen örneklere göre hangi sonuca ulaşabiliriz?

- A. Maddeler benzer özelliklere sahiptir.
- B. Maddeler çeşitli özellikleri dikkate alınarak farklı alanlarda kullanılır.
- C. Esnek madde her yerde kullanılır



Yukarıdaki buz pateni yapanların sergilediği yüzeyi _____ olarak niteleriz.

4- Yukarıda cümlede boş bırakılan yere hangi kelime gelmelidir?

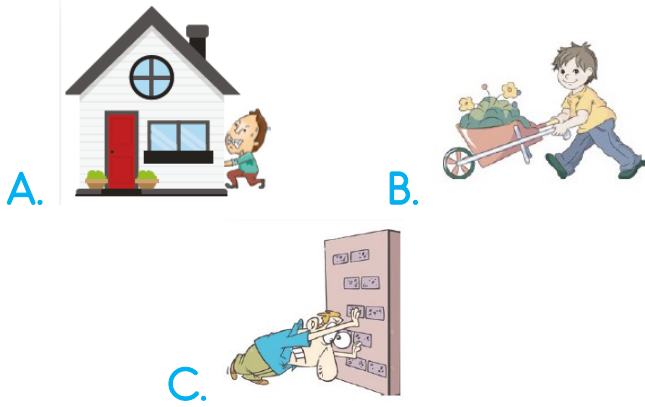
- A. pürüzlü
- B. pürüzsüz
- C. esnek



FEN BİLİMLERİ TESTİ

Kuvvet uygulayarak her cisim hareket ettirilemez.

5- Aşağıdakilerden hangisi buna örnek gösterilemez?



“Bir cisme uygulanan kuvvet, cismin _____, _____ ve _____ değiştirebilir.”

6- Yukarıdaki ifadede boş bırakılan yerlere aşağıdakilerin hangisi gelemez?

- A. hızını - yönünü - rengini
- B. hızını - şeklini - konumunu
- C. hızını - yönünü - şeklini

7- Aşağıdaki bilgilerden hangisi yanlıştır?

- A. İtme ve çekme kuvveti sayesinde hareketli cisim yavaşlayabilir.
- B. Bir varlığı yavaşlatmak için ona hareket yönüyle aynı yönde kuvvet uygularız
- C. Bir varlığı durdurmak için ona hareket yönüyle ters yönde kuvvet uygularız.



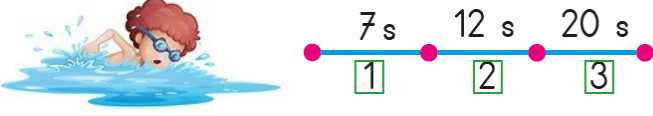
1. Grup

2. Grup

8- Oynanan oyunla ilgili hangi ifade doğrudur?

- A. 1. grup çekme, 2. grup itme kuvveti uygular.
- B. 1. grup ve 2. grup itme kuvveti uygular.
- C. 1. ve 2. grup çekme kuvveti uygular

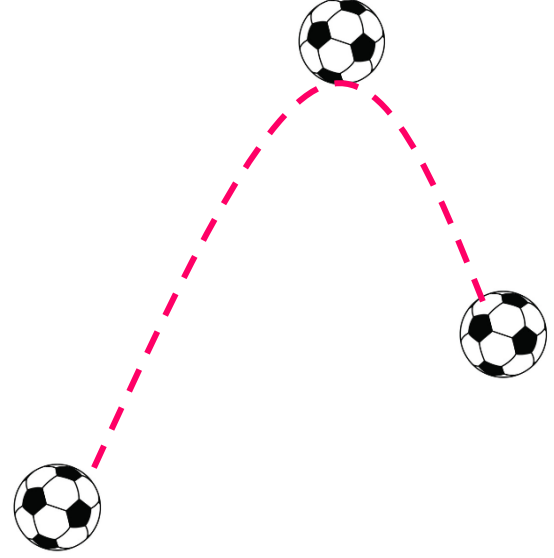
FEN BİLİMLERİ TESTİ



Yüzücü numaralandırılmış ve eşit uzunluktaki bölümleri belirtilen sürelerde tamamlıyor.

9- Buna göre yüzücü kaç numaralı bölümde en yavaş yüzmüştür?

- A. 1
- B. 2
- C. 3



Yukarıdaki gibi havaya atılan top, bir süre sonra yere düşmüştür.

10- Topun yaptığı hareket türleri sırasıyla hangi seçenekte doğru olarak verilmiştir?

- A. Hızlanan, yön değiştiren, yavaşlayan
- B. Yavaşlayan, dönen, hızlanan
- C. Yavaşlayan, yön değiştiren, hızlanan



/ilkokulevim



/ilkokulevim





/ilkokulevim



/ilkokulevim

HAYAT BİLGİSİ TESTİ

Arda  Dişlerimi fırçalarken suyu kapatırım.

Melike  Her gün yeni bir kıyafet alırım.

Kaan  Lambaları hiçbir zaman kapatmam.

1- Yukarıdaki öğrencilerden hangisi kaynakları verimli kullanır?

- A. Arda
- B. Melike
- C. Kaan

Bak, musluk ağlıyor,
Tamir et beni diyor.
Ah, çöp kutusunda bayat ekmekler
Fırında kalsaydım diyor.

Ömer Kemal

2- Yukarıdaki şiir için en uygun başlık aşağıdakilerden hangisidir?

- A. Alışveriş Ne Güzel
- B. Eşyalarımız
- C. Tasarruf

Akşam, ailemle beraber aile bütçesini konuştuk. Ailede herkesin aile bütçesine katkıda bulunması gerektiğine karar verdik. Ben de aile bütçesine katkıda bulunacağım.



Arda

3- Arda aile bütçesine nasıl katkıda bulunabilir?

- A. Harçlığının bir kısmını biriktirerek
- B. Çalışıp para kazanarak
- C. Kantinden alışveriş yaparak

4- Evimizin adresini verirken aşağıdaki bilgilerden hangisine ihtiyaç yoktur?

- A. Evimizin telefon numarası
- B. Mahallemizin adı
- C. Sokak ve kapı numaramız



HAYAT BİLGİSİ TESTİ

- I. Evimizde küçüklerimize rehberlik etmeliyiz.
- II. Evimizde ütü yapmak çocukların görevidir.
- III. Evde anne, baba ve çocuklar görev paylaşımında bulunmalıdır.

5- Yukarıdaki ifadelerden hangisi ya da hangileri doğrudur?

- A. Yalnız I
- B. I ve III
- C. II ve III

★ Hayri, annesinin yaptığı keklerden komşularına da götürüp ikram etmeyi çok sever.

▲ Selin, komşularını rahatsız edecek kadar yüksek seste müzik dinliyor.

■ İsmail Bey, hasta olan yaşlı komşusunu doktora götürmüştür.

6- Yukarıdaki davranışlardan kaç tanesi doğrudur?

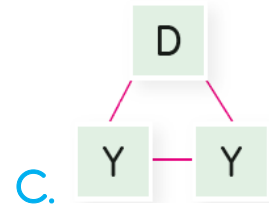

- A. 1
- B. 2
- C. 3

Bahçe bakımında babamıza yardım etmeliyiz.

Komşuluk ilişkilerinin kişinin yaşamına bir etkisi yoktur.

Çocukların görevi sadece odalarını toplamaktır.

7- Yukarıdaki açıklamaların “doğru - yanlış” durumu hangi seçenekteki gibidir?





HAYAT BİLGİSİ TESTİ

Market	Murat'ın evi	Atatürk Cad.	Ebru'nun evi	
Papatya sok.			Karanfil sok.	
Ali'nin evi	Pastane		Park	

8- Krokiye göre Ebru'nun evi hakkında verilen bilgilerden hangisi doğrudur?

- A. Murat'ın evinin solundadır.
- B. Papatya sokak üzerindedir.
- C. Parkın karşısındadır.

9- Arkadaşımızın hangi tür davranışı ona olan güvenimizi artırır?

- A. Her zaman dürüst ve doğru olması
- B. Hatalı davransak da bizi haklı çıkarması
- C. Tartışmalarda her zaman bizi savunması



Ela, sen en çok neleri yapmaktan hoşlanırsın?

Öğretmenim, ben hayvanları çok seviyorum. Onlarla ilgilenmekten ve bakımlarını yapmaktan hoşlanıyorum.



10- Öğretmeninin sorusuna Ela'nın verdiği yanıtı göre Ela büyüdüğünde hangi mesleği seçerse daha mutlu ve başarılı olur?

- A. Veterinerlik
- B. Doktorluk
- C. Hemşirelik



/ilkokulevim



/ilkokulevim



/ilkokulevim



/ilkokulevim

İNGİLİZCE TESTİ



I feel

1- Konuşmada boş bırakılan yere ne gelmelidir?

- A. happy
- B. sad
- C. angry



She is in the kitchen.

She is.....

2- Boşluğa ne yazılması uygun olur?


- A. bad
- B. hungry
- C. tired

big



3- Soru işareti yerine hangi kelime gelmelidir?

- A. old
- B. small
- C. slow



A: How many apples are there?

B: There are.....apples.

4- Yukarıdaki boşluğa ne yazılmalıdır?

- A. sixteen
- B. seventeen
- C. eighteen

.....is my aunt.

5- Boşluğa gelmesi gereken kelime nedir?

- A. I
- B. He
- C. She

İLKOKULA DAİR HER ŞEY BU SİTEDE

1. Sınıf



3. Sınıf

2. Sınıf

4. Sınıf

- * Konu Anlatımları
- * Konu Özetleri
- * Etkinlikler
- * Çalışma Kağıtları
- * Tarama Sınavları
- * Deneme Sınavları

- * Masal Köşesi
- * Hikaye Köşesi
- * Oyun Köşesi
- * Kitap Köşesi
- * Film Köşesi

Sevgili ÖĞRETMEN ve VELİLERİMİZ;
Deneme Sınavına Teşekkür Mahiyetinde
Sosyal Medya Sayfamızı Beğenirseniz
Çok Mutlu Oluruz.

Aşağıdaki Linklerden Bizlere Ulaşabilirsiniz.

www.ilkokulevim.com

www.instagram.com/ilkokulevim

www.facebook.com/ilkokulevim

www.facebook.com/groups/272489210266407/

t.me/ilkokulevim

3.SINIF KASIM AYI KDS CEVAP ANAHTARI

TÜRKÇE	MATEMATİK	FEN BİLİMLERİ	HAYAT BİLGİSİ	İNGİLİZCE
1-A	1-B	1-A	1-A	1-A
2-B	2-B	2-B	2-C	2-B
3-B	3-C	3-B	3-A	3-B
4-B	4-C	4-B	4-A	4-A
5-A	5-C	5-B	5-B	5-C
6-C	6-A	6-A	6-B	
7-B	7-C	7-B	7-C	
8-C	8-B	8-C	8-C	
9-A	9-B	9-C	9-A	
10-B	10-B	10-C	10-A	