

DERS ADI	SORU SAYISI	TOPLAM SORU SAYISI	SINAV SÜRESİ (DAKİKA)
TÜRKÇE	10	35	70
MATEMATİK	10		
HAYAT BİLGİSİ	10		
İNGİLİZCE	5		

SORU KİTAPÇIK NUMARASI							
0	2	0	2	2	2	0	3

T.C. KİMLİK NUMARASI	
ADI VE SOYADI	
SINIFI / ŞUBESİ	
ÖĞRENCİ NUMARASI	

### ÖĞRENCİLERİN DİKKATİNE!

**SINAV BAŞLAMADAN ÖNCE AŞAĞIDAKİ UYARILARI MUTLAKA OKUYUNUZ.**

- Öğrenci yoklama listesinde belirtilen sınıfta ve sıra numarasında oturunuz.
- Cevap kağıdındaki kimlik bilgilerinin doğruluğunu kontrol ediniz.
- Kitapçık türünü cevap kağıdındaki ilgili alana kodlayınız.
- Cevap kağıdı üzerindeki kodlamaları kurşun kalemle yapınız.



## TÜRKÇE

Bu testte 10 soru vardır.

B

1.



Görselde verilen hayvanın isminin hecelerinden aşağıdaki sözcüklerden hangisi **oluşturulamaz**?

A) Sara

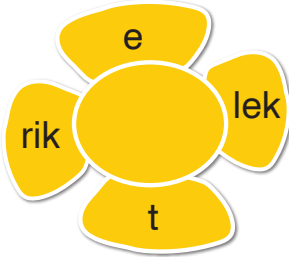
B) Yasa

C) Maya

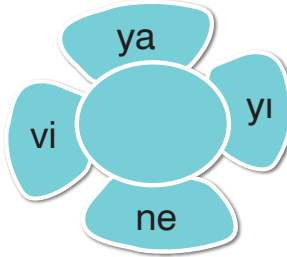
2. Çiçeklerin yapraklarına sözcüklerin heceleri yazılmıştır.

Buna göre hangi seçenekteki sözcük hecelerine **yanlış** ayrılmıştır?

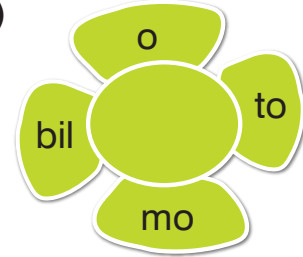
A)



B)



C)



3. Aşağıdaki seçeneklerden hangisinde sözcükler alfabetik sıraya göre dizilmiştir?

A) kalem - limon - maske

B) patlıcan - sarımsak - raket

C) yastık - vazo - zeytin



4.

Dikkat, kaygan zemin ( )  
Pazardan elma ile muz aldım ( )  
Naz'ı gördün mü ( )

Yukarıda verilen cümlelerde ayraçların içine sırasıyla hangi noktalama işaretleri konulmalıdır?

- A) (?) (.) (!)  
B) (!) (.) (?)  
C) (.) (!) (?)

5. Aşağıdaki sözcüklerin eş ve zıt anlamlıları verilmiştir.

Buna göre hangi seçenekte verilen cevap **yanlıştır**?

Sözcük	Eş Anlam	Zıt Anlam
A) Islak	Yaş	Kuru
B) Yoksul	Fakir	Zengin
C) Yanıt	Soru	Cevap



## KANGURU

Anavatanı Avustralya olan kangurunun en önemli özelliği zıplayarak hareket edebilmesidir.

Arka ayakları oldukça uzun mesafeler zıplayacak kadar güçlüdür. Fakat ön ayakları çok gelişmemiştir. Öne doğru hareket edebilir, geriye doğru hareket edemezler. En büyük keseli hayvan olan kanguru, kesesi sayesinde yavrusunu tehlikelerden koruyabilmekte ve taşıyabilmektedir.

Yavrular annelerinin kesesinde 6-7 ay durmakta ve kesenin içinde beslenmektedirler.

1 ve 2. soruları yukarıdaki metne göre cevaplayınız.

6. Kanguru ile verilen bilgilerden hangisi **yanlıştır**?

- A) En önemli özelliği zıplamasıdır.
- B) Ön ayakları oldukça güçlüdür.
- C) Yavrusunu kesesinde büyütmemektedir.

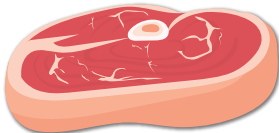


7. Aşağıdaki sorulardan hangisinin cevabı metinde **yoktur**?

- A) Kanguru yavrusunu kesesinde ne kadar süre taşır?
- B) Kangurunun anavatanı neresidir?
- C) Kanguru neyle beslenmektedir?

8. Aşağıdaki görsellerden hangisinin adı **ünlü harf ile başlayıp ünsüz harf ile bitmiştir**?


A)



B)



C)






## TÜRKÇE

B

9.



Görseldeki hayvanlarla ilgili aşağıda verilen ifadelerden hangisi doğrudur?

- A) 3. resimdeki hayvan korkmuş durumdadır.
- B) 2. resimdeki hayvan şaşırmış durumdadır.
- C) 1. resimdeki hayvan sinirli durumdadır.

10. Aşağıdaki seçeneklerin hangisinde satır sonuna sığmayan sözcüklerin yazımıyla ilgili **yanlışlık** yapılmıştır?

A) 


il-
kokul

B) 

hanım-
eli

C) 

asla-
nağzı



# MATEMATİK

Bu testte 10 soru vardır.

B

1.

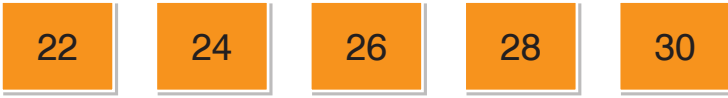


Verilen sayı örüntüsünün kuralı ile aşağıdaki örüntülerden hangisinin örüntü kuralı aynıdır?

A)





B)



C)



2.



Elmaları bir deste, portakalları ise bir düzine yapmak için aşağıdakilerden hangisinin yapılması gerekir?

- A) Elmalar 3 artırılıp, portakallar 3 azaltılmalıdır.
- B) Elmalar 5 artırılıp, portakallar 4 azaltılmalıdır.
- C) Elmalar 4 artırılıp, portakallar 2 azaltılmalıdır.



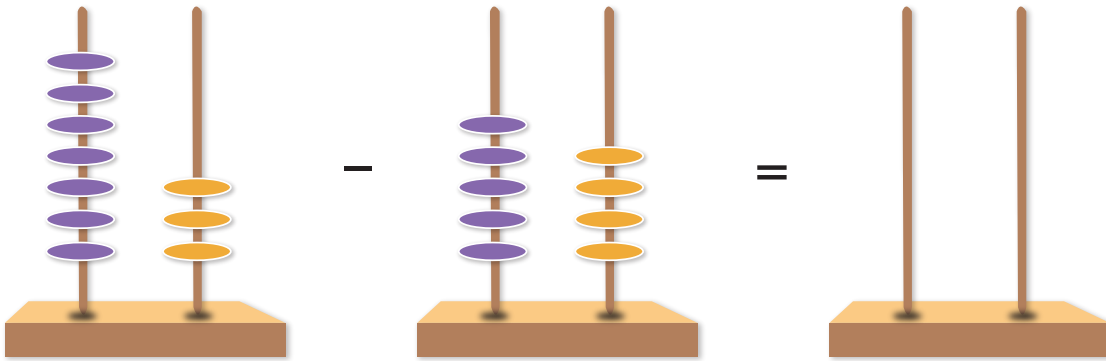
3. Aşağıdaki işlemlerden hangisinin verilmeyen toplananı 48'dir?

A)  $\text{✿} + 37 = 85$

B)  $15 + \text{✿} = 73$

C)  $\text{✿} + 21 = 79$

4.



Yukarıda abakütle modellenen çıkarma işleminin sonucunu abakütle gösterebilmek için kaç tane mor ve turuncu topa ihtiyaç vardır?

A) 1 mor ve 7 turuncu top

B) 1 mor ve 9 turuncu top

C) 2 mor ve 1 turuncu top



5.



Kovanda yaşayan arıların sayısını Ceren, Harun ve Sinem tahmin etmişlerdir. Buna göre arıların sayısına tahmini en yakın olan çocuk hangisidir?


A)



3 düzine

Ceren

B)



2 deste

Harun

C)



40 tane

Sinem








# MATEMATİK

B

6.

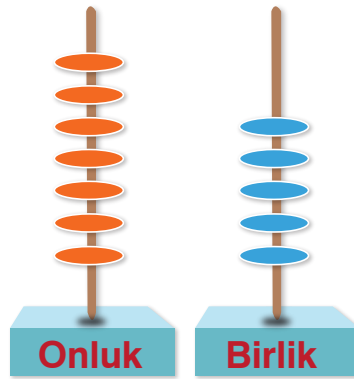
Sayı		
Basamak Adı	Onlar Basamağı	
Basamak Değeri		4
Okunuşu	Seksen dört	

Basamak tablosunda sembolle gösterilen yerlere aşağıdakilerden hangileri gelmelidir?



- A) 84      8      Birler Basamağı
- B) 84      80      Birler Basamağı
- C) 80      84      Onlar Basamağı

7.



Abaküste gösterilen sayıdan başlayarak geriye doğru beşer ritmik sayma yaparken 6. saymada hangi sayı söyleriz?

- A) 55      B) 50      C) 45



# MATEMATİK

B

8.



Arabaların plakalarında yazan sayılara göre büyükten küçüğe doğru sıralanmıştır. Buna göre sarı ve yeşil arabaların plakalarındaki sayılar sırasıyla aşağıdakilerden hangisi olabilir?

A) 55 - 30

B) 62 - 25

C) 48 - 35

9.

$$28 + 44$$

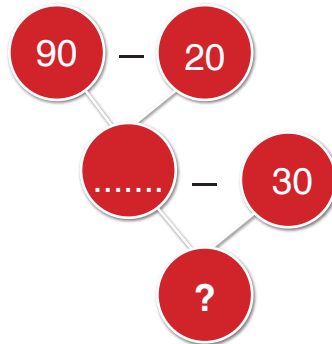
Verilen toplama işlemi ile ilgili aşağıdaki ifadelerden hangisi **yanlıştır**?

A) Eldeli toplama işlemidir.

B) İşlemin sonucu 2 birlik 7 onluktur.

C) İşlemin tahmini sonucu 60'tır.

10.



Yukarıdaki zihinden çıkarma şemasına göre soru işareti kaçtır?

A) 40

B) 30

C) 20



## HAYAT BİLGİSİ

Bu testte 10 soru vardır.

B

1. Grup çalışmalarında;

1. Gruptaki arkadaşlarımıza adil davranmalıyız.
2. Bireysel çalışarak başarılarımızı artırabiliriz.
3. Sorumluluk duygumuz ve yeteneklerimiz daha çok gelişir.

Grup çalışmalarıyla ilgili verilen bilgilerden hangileri doğrudur?

A) 1 ve 2

B) 2 ve 3

C) 1 ve 3

2.



Çocuklar!

Sizlerden alışveriş listesi hazırlamanızı istiyorum. Listenize iki ihtiyacınızı ve bir tane de istediğinizi yazabilirsiniz.

Ahmet öğretmenin öğrencilerinden istediği listeyi hangi öğrenci doğru hazırlamıştır?

A)

Berkay

1. Su
2. Top
3. Oyun konsolu

B)

Ekin

1. Oyuncak
2. Yumurta
3. Cips

C)

Gizem

1. Ekmek
2. Çikolata
3. Su



## HAYAT BİLGİSİ

B

3. Dinleme kurallarına uyarak dersi dinleyen öğrenci aşağıdakilerden hangisidir?

A)



B)



C)



4.

- Akrabaların sevinç ve üzüntüleri birdir.
- Akrabalarımızı sadece özel günlerde ziyaret edebiliriz.
- Saygı ve yardımlaşma akrabalık ilişkilerini güçlendirir.

Yukarıdaki ifadelerden hangileri doğrudur?

A)  ve

B)  ve

C)  ve

5.

Bana yardım edebilir misin?	Kendinize çok iyi bakın.	Bir daha yerime oturma.
Sen haksızsın.	Sen de bizimle oynayabilirsin.	Eline sağlık anneciğim.

Nezaketli ifadelere “✓” işareti koyulursa tablonun görünümü nasıl olur?

A)

✓	✓	
✓	✓	

B)

✓	✓	
	✓	✓

C)

✓	✓	✓
		✓



## HAYAT BİLGİSİ

B

6. Aşağıdaki ifadelerden doğru olanlara “D”, yanlış olanlara ise “Y” yazalım.

İfadeler	D / Y
1. Fiziksel özelliklerimizden bazıları zamanla değişebilir.	
2. Herkesin fiziksel özellikleri aynı olmalıdır.	
3. Bireysel farklılıkları saygı ile karşılamalıyız.	

Buna göre tablonun doğru-yanlış görünümünü nasıl olur?

A)

Y
Y
D

B)

D
Y
D

C)

D
D
D

7. Aşağıdaki çocuklar okul kaynaklarını nasıl kullandıklarını anlatmışlardır.



Sınıfımızda gereksiz yanan lambaları söndürürüm.

Cem



Ellerimi birden fazla kağıt havlu ile kurularım.

Sefa



Lavaboda açık kalan muslukları kapatırım.

Naz

Buna göre hangi çocuğun davranışı **yanlıştır**?

A) Naz

B) Sefa

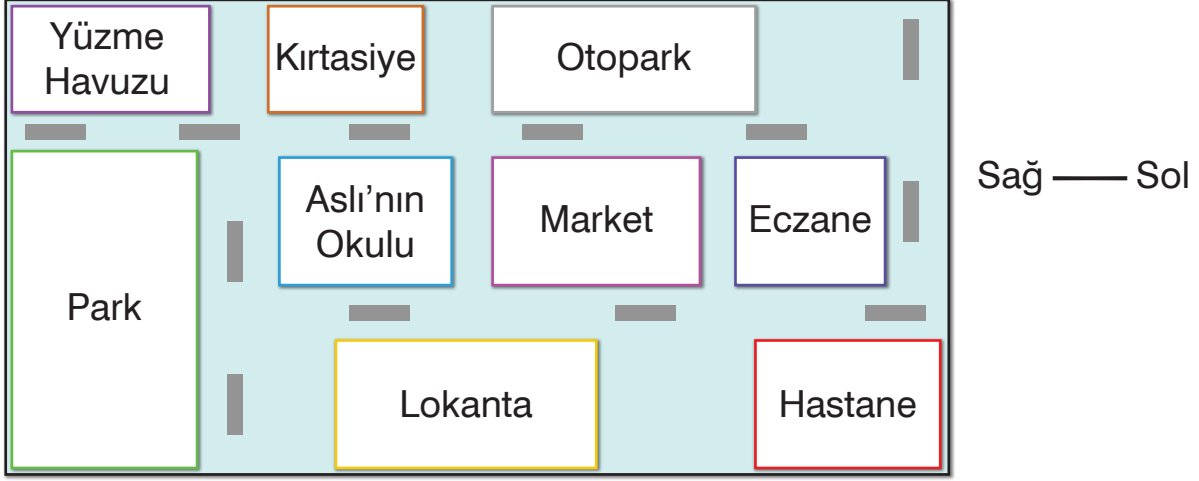
C) Cem



## HAYAT BİLGİSİ

B

8.



Görsele göre Aslı'nın okulu ile ilgili verilen bilgilerden hangisi **yanlıştır**?

- A) Okul, marketin solundadır.
- B) Okul, kırtasiyenin karşısındadır.
- C) Okul, eczane ile aynı sokaktadır.

9. Aşağıdaki ifadelerden hangisi doğrudur?

- A) Çantamızı ders planımıza göre annemiz hazırlamalı.
- B) Sınıf kurallarını sınıf öğretmenimiz belirlemeli.
- C) Evimizi boyatırken aile bireylerinin fikirleri alınmalı.

10.

-Oyun oynarken arkadaşlarımıza karşı nazik olmalıyız.


-Oyunu kurallarına göre oynamalıyız.

-Kazanan takımı tebrik etmeliyiz.

-Oyunu kazandığımızda aşırı sevinmeliyiz.

Yukarıda verilen davranışlardan kaç tanesi doğrudur?

- A) 2
- B) 3
- C) 4

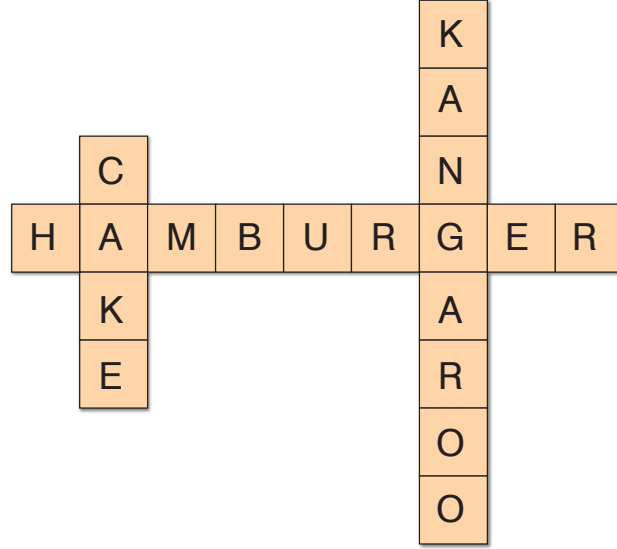


# İNGİLİZCE

Bu testte 5 soru vardır.


B

1.



Bulmacada bulunmayan görsel aşağıdakilerden hangisidir?

A)



B)



C)



2.



\_icnic



\_ootball



\_orilla

Sözcüklerde boş bırakılan yerler sırasıyla hangi harflerle tamamlanmalıdır?

A)



B)



C)






# İNGİLİZCE

B

3.



Numaralandırılmış görsellerden hangisinin açıklaması **yanlıştır**?

A) 1

B) 2 ve 3


C) 4

4. Seçeneklerdeki görsellerle ifade eşleştirmelerinden hangisi doğrudur?

A)



B)




C)



5.

Numbers



Vagonlarında, sayılar sırasıyla yazılırken bazı sayılar verilmemiştir.

**Buna göre boş bırakılan vagonlara yazılması gereken sayılar hangi seçenekte verilmiştir?**

A) one - three - ten

B) three - five - eight

C) two - six - nine