



Köyün birinde yaşlı bir adam varmış. Çok fakirmiş ama; kral bile onu kıskanmış. Öyle dillere destan bir atı varmış ki, kral bu at için ihtiyara neredeyse hazinenin tamamını teklif etmiş ama adam atını satmaya yanaşmamış. "Bu at, bir at değil benim için; bir dost, insan dostunu satar mı?" dermiş hep.

(Aşağıdaki ilk iki soruyu, yandaki metne göre cevaplayınız.)

1. Bu metinle ilgili aşağıdakilerden hangisi söylenemez?

A) Öyküdeki olay, yaz mevsiminde gerçekleşmiştir.

B) Öyküdeki olay, bir köyde yaşanmıştır.

C) Öykünün kahramanları yaşlı köylü ve kraldır.

2. Öyküye göre, fakir adamın atını satmamasının sebebi nedir?

A) Yaşlı adamın çocuklarının atı çok sevmeleri

B) Kralın, atı almak için az para vermesi

C) Yaşlı adamın, atını dostu olarak görmesi



3. Yukarıdaki kelimelerden hangisi, sözlük sırasında en önde yer alır?

A) sarı

B) kırmızı

C) beyaz



4. Aşağıdaki cümlelerde altı çizili sözcüklerden hangisinin tüm ünlü harfleri kalındır?

A) Annemle pazardan sebze aldık

B) Seyit çok güzel basketbol oynuyor.

C) Melike yarınki turnuvaya iyi hazırlanmış.



Kalın Ünlüler	İnce Ünlüler
Kapı	Kelebek
Mutfak	İncir
	

Öğretmeni Aslı'da tabloyu sadece kalın ve ince ünlülerin bulunduğu kelimelerle doldurmasını istemiştir.

5. Buna göre, sembollerle gösterilen yerlere hangi kelimeleri yazması gerekir?



- A) kiraz paten
B) sağlık sinek
C) musluk zürafa

6. Aşağıdaki sözcüklerden hangisi hecelerine doğru ayrılmıştır?

A)topl-
antı

B)a-
yakkabı

C)bil-
mece


men

ret

öğ

7. Yukarıdaki hecelerle anlamlı bir sözcük oluşturmak istersek sıralama nasıl olur?

- A)   
B)   
C)   



Minik fare, hecelerine doğru ayrılmış sözcükleri bulacaktır.

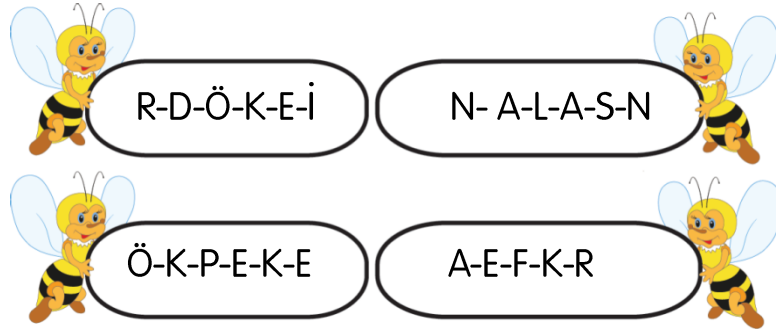

8. Buna göre kaç sözcük doğru hecelerine ayrılmıştır?

A) 3

B) 2



C) 1

9. Hangisinin adında iki ünsüz harf yan yana bulunmaktadır?



Kutular içerisinde verilen seslerden hayvan adları oluşturunuz. Her kutuda bir ses fazladır. Fazla olan sesleri birleştirip anlamlı hale getirdiğinizde bir hayvanın adını bulacaksınız.

10. Adı gizli olan hayvan aşağıdakilerden hangisidir?





Yukarıdaki örüntü bir kurala göre oluşturulmuştur. Ancak bir sayının örüntünün kuralını bozduğu bilinmektedir.

1. Bu sayının yerine hangi sayı yazılırsa örüntü doğru olur?

A) 29

B) 31

C) 34



2. Yukarıdaki numaralı sayıların küçükten büyüğe doğru sıralanışının doğru olabilmesi için kaç numaralı sayıların yerleri değişmelidir?

A) 3 ile 4

B) 4 ile 5

C) 2 ile 3

Bir basketbol takımının koçu 12 basketbol oyuncusuna sırt numaralarını verirken bir örüntü oluşturacak şekilde vermiş ve 6 oyuncusunu asıl, 6 oyuncusunu da yedek olarak belirlemiştir.



3. Buna göre, aşağıdaki sırt numaralarından hangisi bu takımın oyuncularından birine ait değildir?

A) 53

B) 68

C) 76



4. Yukarıdaki tren vagonlarının içinde bulunan örüntüye göre, boş vagonlara sırasıyla hangi sayılar yazılmalıdır?

A) 27 - 35


B) 26 - 34

C) 28 - 36



Bir galerici galerisinde bulunan araçlar ile ilgili şu bilgileri vermiştir:

- Bir düzineden 4 fazla siyah otomobil var.
- Kırmızı otomobillerin sayısı bir desteye eşittir.
- Mavi otomobillerin sayısı, siyah otomobillerin sayısından 3 azdır.



10. Verilenlere göre, bu galerideki otomobillerle ilgili olarak aşağıdakilerden hangisi söylenemez?

- A) 11 tane mavi otomobil vardır.
- B) Kırmızı otomobillerin sayısı 10'dur.
- C) Galerideki toplam otomobil sayısı 39'dur.



"Elif, zayıf uzun boylu, kıvrıkcık saçlı ve neşeli bir kızdı."

1. Elif'in özelliklerini tanıtan cümlede, hangisini Elif'in fiziksel özellikleri arasında sayamayız?

- A) Zayıf ve uzun boylu olması
- B) Kıvrıkcık saçlı olması
- C) Neşeli olması

2. "Küçükken rahatsızlık geçirmişim ve çok iyi duyamıyorum." diyen Egemen'e yapılan hangi davranış yanlıştır?

- A) Öğretmenin Egemen'i ön sıralarda oturtması
- B) Egemen ile alay edilmesi
- C) Sınıfta herkesin Egemen'in duyacağı sesle seslenmesi

3. Sınıf panosunun hazırlanmasında yardımcı olan Soner için ne söylenebilir?

- A) Sınıf işlerine yardımcı olmaktadır.
- B) Ev işlerine yardımcı olmaktadır.
- C) Kendi başına hareket etmektedir.

4. Eşyalarını özenle kullanan bir öğrenci için ne söylenebilir?

- A) Düzenlidir.
- B) Dağınıktır.
- C) Eşyasının değerini bilmez.

5. Arkadaşının silgisini izinsiz aldığını gören Çağla, bu durum karşısında nasıl davranmalıdır?

- A) Arkadaşı ile kavga etmelidir.
- B) Arkadaşına bu durumdan rahatsız olduğunu söylemelidir.
- C) Arkadaşlığını kesmelidir.

