

2.SINIF

ARA TATİL

DEĞERLENDİRME SINAVI

www.ilkokulevim.com





Minik kelebek dünyaya yeni gelmişti. Çok heyecanlı ve meraklıydı. Her şey ona ilginç geliyordu. Kuşlar, böcekler, ağaçlar çok güzeldi. Özellikle çiçekleri çok sevmiştir. Renk renktiler. Üstelik mis gibi de kokuyorlardı. Minik kelebek her gün böcekleri inceliyordu. Sürekli uçuyordu. Doğanın güzelliği onu mutlu ediyordu.

Aygül ASLAN

1. ve 2. soruları metne göre cevaplayalım.

1- Minik kelebek için aşağıdakilerden hangisi söylenemez?




- A) B)
- C)

2- Aşağıdakilerden hangisi çiçeklerin özelliklerinden biri değildir?

- A) renk renk olmaları
B) mis gibi kokmaları
C) çok ilginç olmaları


Ahmet'in mağazadan aldığı eşyanın adı dört hecelidir.


3- Buna göre Ahmet mağazadan hangisini almıştır?


- A)  B)  C) 



Arda yandaki 3 kitabı isimlerine bakarak alfabe sırasına göre sıralayıp kitaplıktaki rafa dizecektir. Kitaplarla ilgili bilinenler şunlardır:

 Arda'nın yeşil kitabının ismi ilk hecesi "pan" olan bir hayvan adı ile başlamaktadır.

 Arda'nın kırmızı kitabının ismi ilk harfi "s" üçüncü harfi "r" olan bir renk ile başlamaktadır.

 Arda'nın mavi kitabının ismi ilk harfi "m" , son harfi "r" olan bir gezegen adıdır.

4- Buna göre Arda kitapları rafa nasıl dizmelidir?


- A) kırmızı-yeşil-mavi
- B) mavi-yeşil-kırmızı
- C) yeşil-mavi-kırmızı



Öretmen öğrencisini başarısından dolayı tebrik etti.

5- Yukarıdaki cümlede kaç tane kelimenin yazımı yanlış yapılmıştır?

- A) 1
- B) 2
- C) 3



Akşam olunca dereden
Türlü sesler duyulur.
Ağaçlarda, dallarda,
Kuşlar, kelebekler uyur.

6- Şiirdeki altı çizili sözcüklerle ilgili aşağıdakilerden hangisi söylenemez?

- A) Ağaçlar kelimesi çok sayıda varlığı anlatmaktadır.
B) Beş tanesi çoğul, bir tanesi tekil isimdir.
C) Hepsi çoğuldur.



Selim bir bilmece kitabı aldı () Bana
yeni öğrendiği bir bilmeceyi sordu ()
Dama çıkan file ne denir ()
Dikkaattt () Cevap geliyor ()

7- Bu paragrafta yay ayrıçla () belirtilen yerlere gelmesi gereken noktalama işaretleri hangi seçenekte verilmiştir?

- A) (.) (?) (?) (!) (!)
B) (.) (.) (?) (!) (.)
C) (.) (.) (?) (?) (!)






“Haydi Bul Cümleyi” adlı yarışma programında sunucu yarışmacılardan verilen kurallara göre cümle yazmalarını istiyor.



HAYDİ BUL CÜMLEYİ

1. Toplam 10 kelimedenden oluşmalı.
2. İçinde 2 tane tek başına anlamı olmayan kelime bulunmalı.
3. Cümlede haber anlamı olmalı.

8- Buna göre hangi yarışmacı , sunucunun isteğine uygun bir cümle yazmıştır?

- A)  Aylin ile Esra her buluşmalarında geçmiş anılarını konuşarak mutlu olurlar.
- B)  Sevgi ve ablası Pazar günü için plan yaptılar, sende gel.
- C)  Komşumuz Murat Usta masa ile pencere arasındaki boşluğu metreyle ölçtü.

 Hafta sonu ailemle gezdiğimiz yerleri arkadaşlarıma anlatacağım.

9- Kerim, gezip gördüğü yerleri arkadaşlarına anlatırken söze ilk önce nasıl başlamalıdır?

- A) Yerin adını ve nerede olduğunu söylemelidir.
- B) O yerin yemeklerini anlatmalıdır.
- C) Gördüğü tarihi yerlerden bahsetmelidir.



Kedilerimin adı Duman, Şanslı ve Güneş'in tüyleri yumuşacık. Bahçede oynamayı çok severler. Annem Cuma günü kedilerimi veterinerine götürüp aşılarını yaptıracak. Şuan onlar en sevdikleri oyun olan iplerle oynuyorlar.

10- Aşağıdaki sorulardan hangisinin cevabı yukarıdaki metinde yoktur?


- A) Kedi kim veterinerine götürmüştür?
- B) Kediler nerede oynamayı çok sevmektedirler?
- C) Kedilerin en sevdiği yemek nedir?





1- 3 onluk 5 birlikten oluşan sayıdan başlayarak 8 onluktan oluşan sayıya kadar beşer ritmik sayarsam kaç ritmik sayma yapmış olurum?

- A) 8
- B) 9
- C) 10



Yandaki matematik oyununda verilen rakamlar birer kez kullanılarak iki basamaklı en büyük ve en küçük sayı yazılacaktır.

2- Bu iki sayının toplamının sonucu kaç eder?

- A) 43
- B) 55
- C) 59



Yasemin, Özer ve Gözde akıllarından tuttıkları sayı ile ilgili aşağıdaki ipuçlarını vermişlerdir:



Yasemin: Sayının birler basamağı 8 ve en yakın onluğu 40'tır.



Özer: Sayının birler basamağı 4 ve en yakın onluğu 40'tır.



Gözde: Sayının birler basamağı 5 ve en yakın onluğu 40'tır.

3 ve 4. Soruları yukarıda verilen bilgilere göre cevaplayınız.

3- Verilen bilgilere göre sayıları küçükten büyüğe doğru sıralarsak ikinci sırada bulunan sayı hangisi olur?

A) 44

B) 38

C) 35

4- Verilen bilgilere göre en büyük sayı ile en küçük sayının toplamı kaç eder?

A) 73

B) 79

C) 82





1

$87-46$

2

$95-66$

3

$79-68$

5- Bu işlemler ve sonuçlarıyla ilgili aşağıdakilerden hangisi söylenemez?

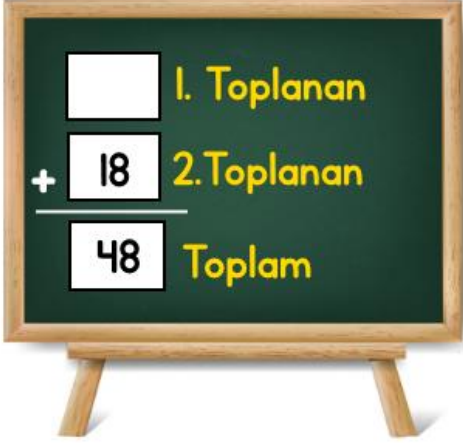
- A) 1. işlemin sonucu 2. işlemin sonucundan büyüktür.
B) 2. işlemin sonucunun en yakın onluğu 30'dur.
C) 3. işlemin sonucu iki basamaklı en küçük sayıdır



Tavşanlar yılda 6-7 defa doğum yapabilir. Yavrular yaklaşık bir ay anne karnında dururlar. Her doğumda 4 ile 12 arasında yavru doğurabilirler. Dila'nın tavşanı bu yıl tam 6 defa doğum yaptı. Her defasında 5 yavru tavşan doğurdu.

6- Dila'nın tavşanının bir yılda doğurduğu toplam yavru sayısı kaçtır?

- A) 30 B) 36 C) 42



7- Yandaki toplama işleminde 1. toplanan hangi sayı olsaydı toplam 63 olurdu?


- A) 15
- B) 30
- C) 45



Pazartesi günü bir miktar soru çözdüm. 19 soru daha çözmüş olsaydım Salı günü çözdüklerimden 28 soru daha fazla çözmüş olacaktım.

8- Salı günü 50 soru çözdüğüme göre pazartesi günü çözdüğüm soru sayısı kaçtır?

- A) 55
- B) 59
- C) 63



Yukarıdaki sūrahinin kaç bardak su aldığı resimle gösterilmiştir. Annem bir günde bir sūrahi su içiyor. Babam ise iki günde 18 bardak su tüketiyor.

9- Babam ile annem iki günde ne kadar su tüketirler?

- A) 24
- B) 30
- C) 36



2/B sınıfındaki öğrenciler yukarıda verilen örüntünün kuralına uygun olacak şekilde harflerle yeni bir örüntü oluşturacaktır.

10- Buna göre hangi öğrencinin oluşturduğu kelime hem örüntünün kuralına uygun hem de anlamlıdır?

- A)  LAKA
- B)  YIKA
- C)  YAKA



Ela , oyun alanındaki oyun araçlarını güvenli bir şekilde kullanmaktadır.

1- Buna göre Ela'nın aşağıdakilerden hangisini yapması beklenemez?

- A) Salıncaktan inerken salıncığın durmasını beklemesi
- B) Sallanırken etrafındakilere çarpmamaya dikkat etmesi
- C) Salıncakta çok hızlı sallanması



Sedef okuldan eve geldi. Her gün olduğu gibi telefonu eline aldı ve oyun oynamaya başladı. Kimse uyarırsa saatlerde telefon karşısında geçirecekti. Annesi: Her gün telefonla oynamamalısın. Sağlığın bozulacak.” diye Sedef’i uyardı.

2- Annesinin Sedef’i uyarmasının asıl sebebi aşağıdakilerden hangisidir?

- A) Ailesiyle iletişimi azaldığı için
- B) Derslerini ihmal ettiği için
- C) Sağlığı bozulabileceği için



Islak elle prizlere dokunmamalıyız.

3- Bu cümle aşağıdakilerden hangisi ile ilgilidir?

- A) Eğitim
- B) Güvenlik
- C) Doğa



Aslı bugün okulda acil yardım durumlarında yardım alabileceği telefon numaralarını öğrendi. Aslı eve gider gitmez acil bir durumda eve gelip gelmeyeceklerini anlamak için acil yardım numarasını aradı. Kısa süre içinde acil yardım kurumundan geldiler.

4- Aslı'nın bu davranışının sonucunda aşağıdakilerden hangisi olamaz?

- A) Yardım kurumundan gelenler Aslı'ya teşekkür eder.
- B) Yardım kurumuna gereksiz ihbarda bulunmuş olur.
- C) Yardım kurumunu meşgul ettiği için ihtiyacı olanların yardım almasını engeller.



uyku



spor



beslenme

5- Yukarıda sembollerle gösterilenlerden hangileri sağlıklı yaşam için gereklidir?





Serap her hafta sonu odasını temizlemektedir.

6- Buna göre Serap ile ilgili aşağıdaki bilgilerden hangisini söyleyemeyiz?

- A) Düzenli ve temiz bir çocuktur.
- B) Yaşadığı yerin düzenine dikkat etmemektedir.
- C) Temizliğe önem vermektedir.

7- Aşağıdakilerden hangisi bir ailenin giderlerini azaltmak için aldığı önlemlerden biri olamaz?

- A) Bayatlayan ekmekleri yemeklerde kullanmak için atmamak
- B) Tabaklarına tüketebilecekleri kadar yemek almak
- C) Alışveriş yaparken ihtiyaçlarından fazla almak



Erdem yapacakları proje ödevini planlamak için arkadaşlarını kahvaltıya davet etti. Erdem kahvaltı sırasında öksürmeye başladı.

8- Erdem , sofrada görgü kurallarına uymak için aşağıdakilerden hangisini yapmalıdır?

- A) Yemek yemekten vazgeçmelidir.
- B) Ağızını peçete ile kapatmalıdır.
- C) Ağızını açarak öksürmelidir.



Kalemimi kaybettiğim için yenisini aldım.



Suyum bitti ama son paramla çikolata aldım.



Çok istediğim oyuncak yerine yırtılan çantamın yenisini aldım



Kolyemin yeşilini de aldım.



Gömleğim küçülmüştü yeni bir gömlek aldım.

9- Yukarıdaki çocuklardan hangileri ihtiyaçlarına öncelik vermiştir?



..... aile bağlarımız güçlendi.

10- Yukarıdaki cümlede boş bırakılan yere aşağıdakilerden hangisi yazılamaz?

A) Her zaman annemin istediklerini yaptığım için

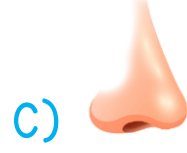

B) Evdeki görev ve sorumlulukları yardımlaşarak yaptığımız için

C) Ailemizi ilgilendiren konularda kararları hep birlikte aldığımız için





1- "This is my eye." cümlesini ifade eden görsel hangisidir?



Defne: ?

Salih: This is my head.

2- Boşluğa gelecek ifade aşağıdakilerden hangisidir?

- A) What's your name
B) What is this
C) What color is



3- Görseli ifade eden cümle hangisidir?

- A) Look at my nose
B) Point your head.
C) Raise your hand.



4- "Let's play hide and seek." Cümleyi anlatan görselin bulunduğu seçenek aşağıdakilerden hangisidir?



What color is it?

5- Yukarıdaki sorusunun resme göre cevabı hangi seçenekte verilmiştir?

- A) It is yellow, pink and purple.
B) It is red, yellow and blue.
C) It is purple and yellow.

