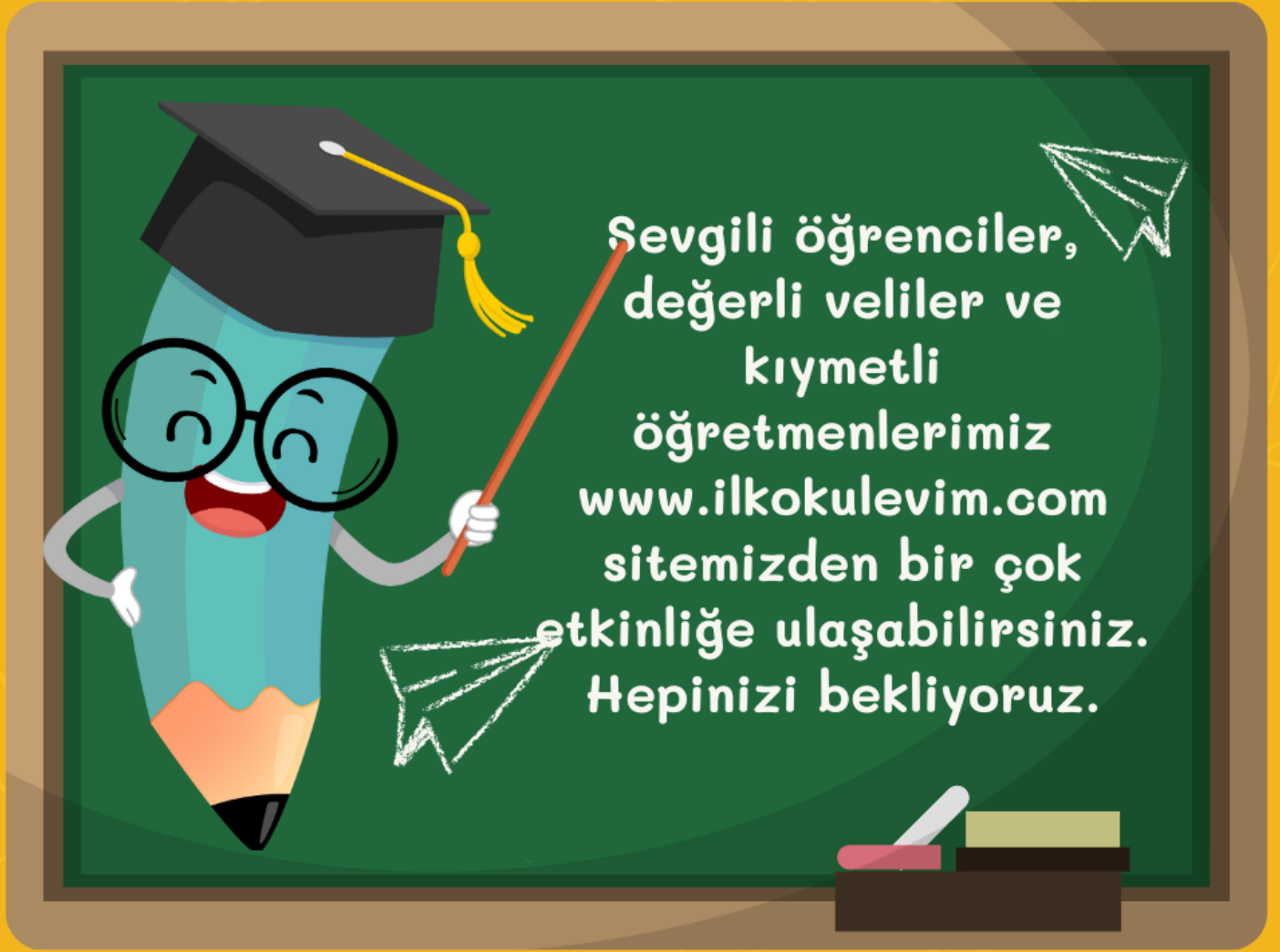


# 2. SINIF 12. HAFTA ETKİNLİKLERİ



[WWW.ILKOKULEVIM.COM](http://WWW.ILKOKULEVIM.COM)

## ETKİNLİKLER - 31

## Sözcükleri Tanıyalım - 1

**Etkinlik A:** Aşağıda verilen değerler eğitimi ile ilgili sözcükler ve anlamları eşleştirmesini yapalım.

Hoşgörü

1

3

Zor koşullar altında cesaret ve metanetini yitirmeme duygusu, olacak ya da gelecek bir şeyi telaş göstermeden beklemeye diyoruz.

Bağışlamak

2

.....

Korku, çekinme ve kuşku duymadan inanma ve bağlanma duygusuna diyoruz.

Sabır

3

.....

Kendine aykırı gelse de her şeyi anlayışla karşılayarak olabildiğince hoş görme durumuna diyoruz.

Güven

4

.....

Kişinin kendine ve başkalarına karşı yerine getirilmesi gereken yükümlülüklerini zamanında yerine getirmesi zorunluluğudur.

Saygı

5

.....

Kendinin olan bir malı ya da hakkı, yardım olsun diye ya da iyilik etmiş olmak için bir başkasına karşılıksız olarak vermeye diyoruz.

Sorumluluk

6

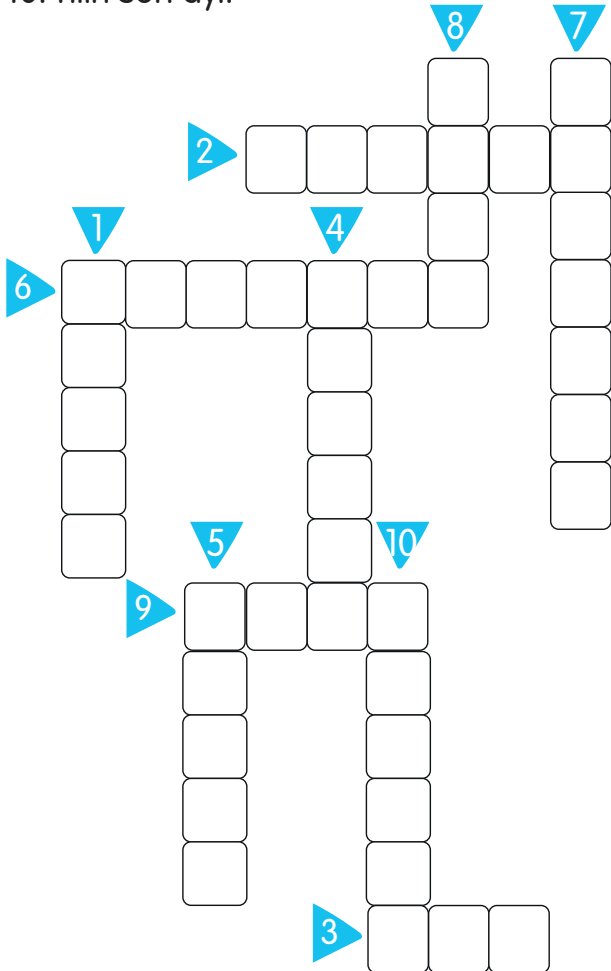
.....

Büyüklerle, yaşlılara, değeri yüksek olanlara, kutsal bilinen kimselere, şeylere karşı duyulan, sevgi ve çekinmeyle karışık bağlılık duygusudur.



**Etkinlik B:** Aşağıdaki sorulan soruların cevaplarını bulmacada uygun yerlere yazalım.

1. Et satılan dükkân.
2. Hastalandığımızda ilaç aldığımız yer.
3. Vücudumuzda damarların içerisinde dolaşan sıvı.
4. Farelerin sevdiği yiyecek.
5. Yazı yazarken kullanırız.
6. Kitap satan kişi.
7. Karşımızdaki ile konuştuğumuz iletişim aracı.
8. Limonun rengidir.
9. Siyahın diğer adı.
10. Yılın son ayı.



**Etkinlik C:** Aşağıdaki cümlelerde boş kalan yerlere uygun sözcükleri yazalım.



- Vücudumuzda içinde kanın dolaştığı yapıya ..... diyoruz.
- .....işitme duyumuzdur. Dışardan gelen sesleri onunla işitiriz.
- Tat almaya yarayan ve konuşmamızı sağlayan .....dir.
- Parmaklarımızın ucunda bulunan ve uzadığında kestiğimiz .....tır.
- Tavuklardan elde edilen, kahvaltıda yediğimiz .....dır.
- Her bir ayakta ve elimizde beşer tane bulunan .....larımızdır.
- Yediden büyük, dokuzdan küçük olan rakam.....'dir.
- Alfabemizde .....tane harf bulunur. Bu harflerden 8 tanesi sesli, 21 tanesi sessizdir.

# OYUN MOLASI

ETKİNLİKLER - 32

Etkinlik A: Eksik parçayı bulunuz.



1 

2 

3 


4 





5 

6 

Resimdeki eksik parça kaç numaralı parçadır?




Etkinlik B: Soru işareti yerine hangi şekil gelmelidir?



- A) 
- B) 
- C) 
- D) 

Etkinlik C: Şeklin gölgesi hangisidir?




- A) 
- B) 
- C) 
- D) 

BilsemUp ekibi tarafından hazırlanmıştır.

## Etkinlik B: İsim bulma



Heceleri doğru sıralayarak 4 kız, 5 erkek ismi bulunuz.



Etkinlik C: Soru işareti yerine hangi şekil gelmelidir?



A)

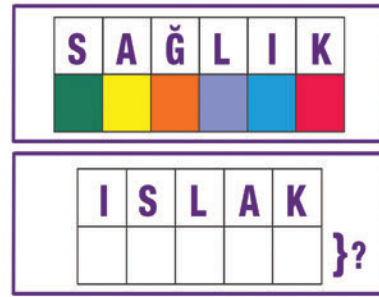
B)

C)

D)



Etkinlik D: Soru işareti yerine hangi şekil gelmelidir?



A)

B)

C)

D)



BilsemUp ekibi tarafından hazırlanmıştır.



## ETKİNLİKLER - 33

## Tek Başına Anlamı Olmayan Sözcükler

Bazı sözcüklerin tek başlarına anlamları yoktur. Bu sözcükler cümle içerisinde kullanıldığında anlam kazanırlar.

**Etkinlik A:** Tek başına anlamı olmayan sözcükleri örnekte olduğu gibi işaretleyelim.

ay	ve	yıl	ancak	bıçak	kaçak
<input type="radio"/>	<input checked="" type="radio"/>	<input type="radio"/>	<input type="radio"/>	<input type="radio"/>	<input type="radio"/>
üç	beş	ile	bilye	bile	bilgi
<input type="radio"/>	<input type="radio"/>	<input type="radio"/>	<input type="radio"/>	<input type="radio"/>	<input type="radio"/>
ama	kar	çok	dünkü	üzüm	neyseki
<input type="radio"/>	<input type="radio"/>	<input type="radio"/>	<input type="radio"/>	<input type="radio"/>	<input type="radio"/>
gel	çünkü	otur	yemekli	şeftali	ya da
<input type="radio"/>	<input type="radio"/>	<input type="radio"/>	<input type="radio"/>	<input type="radio"/>	<input type="radio"/>
gel	yat	fakat	elbise	ise	şişe
<input type="radio"/>	<input type="radio"/>	<input type="radio"/>	<input type="radio"/>	<input type="radio"/>	<input type="radio"/>
veya	koş	gül	boya	oysa	top
<input type="radio"/>	<input type="radio"/>	<input type="radio"/>	<input type="radio"/>	<input type="radio"/>	<input type="radio"/>
iç	için	dış	koyun	kuzu	lakin
<input type="radio"/>	<input type="radio"/>	<input type="radio"/>	<input type="radio"/>	<input type="radio"/>	<input type="radio"/>
gibi	sel	köy	açıkcası	açık	koyun
<input type="radio"/>	<input type="radio"/>	<input type="radio"/>	<input type="radio"/>	<input type="radio"/>	<input type="radio"/>

**Etkinlik B:** Cümle içerisinde geçen tek başına anlamı olmayan sözcüğü bularak örnekteki gibi işaretleyip altına yazalım.

Ahmet, benim ~~gibi~~ hızlı.

gibi

Selin ile Selen çok yaramaz.

.....

Bahçeden elma ve armut topladım.

.....

Türkçe dersini matematik kadar seviyorum.

.....

Size gelecektim ama annem izin vermedi.

.....

Tuna da bize gelecek.

.....

Başarılı olmak için çalışıyorum.

.....

Kardeşim soğuk havada ince elbise giymesine rağmen hasta olmadı.

.....

Toplantıya gelecektim fakat işim çıktı.

.....

Ödevimi yapamadım çünkü elektrikler kesildi.

.....

Çok çalışmalıyım yoksa başarısız olurum.

.....

Şemsiyemi yanıma almıştım ancak yağmur yağmadı.

.....

Bebek sanki babasına benziyor.

.....

Kötü not aldım oysa çok çalışmıştım.

.....

ANALİZ YAYINLARI



## ALİŞTIRMALAR-70

## Toplama İşlemi İle İlgili Alıştırma ve Problem Çözüyorum - 3

a) Aşağıdaki çoktan seçmeli soruları cevaplayınız.

1) Fatma 20 TL'ye kazak, 15 TL'ye eldiven ve 42 TL'ye de pantolon almıştır. Fatma toplamda kaç TL harcamıştır?

- A) 70      B) 72      C) 77

2) Yandaki toplama işlemine göre, "

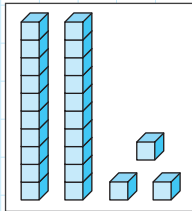
$$\begin{array}{r} 44 \\ + \quad \square \\ \hline 65 \end{array}$$

- A) 21      B) 39      C) 69

3) Özlem'in hikaye kitaplarının sayısı 3 desteye eşittir. Özlem, bir deste daha kitap alırsa toplam kaç kitabı olur?

- A) 36      B) 40      C) 42

4) Yandaki sayma bloklarına 1 onluk daha eklersek yeni sayı kaç olur?



- A) 13      B) 23      C) 33

5)  $\square + 52 = 52 + 34$

Yukarıdaki eşitlikte "

- A) 34      B) 68      C) 86

6)  $23 + 42 = \triangle + 34$

Yukarıdaki eşitlikte "

- A) 30      B) 31      C) 32

7) Bir ayta ağacından Ali 61, Hasan 12, Murat 14 ayta topluyor. Buna göre, toplanan ayta sayısı kaçtır?

- A) 67      B) 77      C) 87

8) Test kitabını 3 günde bitiren Hüseyin, 1. gün 28 sayfa, 2. gün 32 sayfa, 3. gün 20 sayfa çözdüğüne göre, bu test kitabı kaç sayfadır?

- A) 72      B) 80      C) 84



9) Aşağıdaki toplama işleminden hangisinin sonucu **yanlıştır**?

A)  $60 + 16 = 70$

B)  $33 + 33 = 66$

C)  $44 + 22 = 66$

10)

$$\begin{array}{r} 5 \text{ onluk} + 4 \text{ birlik} \\ + 2 \text{ onluk} + 3 \text{ birlik} \\ \hline \dots\dots\dots \end{array}$$

Yukarıdaki toplama işleminde toplam kaçtır?

A) 70

B) 77

C) 81

11) Aşağıdaki toplama işlemlerinden hangisinin sonucu doğrudur?

A)  $52 + 18 = 72$

B)  $54 + 22 = 66$

C)  $50 + 22 = 72$

12) Serhat'ın 25 TL'si vardır. Ağabeyisi Ömer'in parası ise Serhat'tan 15 TL fazladır. Buna göre, ikisinin paralarının toplamı kaç TL'dir?

A) 65

B) 70

C) 75

13) Bir kırtasiyeden Kerem 2 düzine, Akın ise 3 deste kalem alıyorlar. Buna göre, Kerem ile Akın kırtasiyeden toplam kaç kalem almışlardır?

A) 50

B) 54

C) 58

14) 4 onluk, 5 birlikten oluşan sayıya 3 onluk, 7 birlikten oluşan sayı eklenirse toplam kaç olur?

A) 82

B) 80

C) 78

15)



Annem 38 yaşındadır. Babam, annemden 3 yaş büyüktür.

Ebru'nun ifadesine göre, annesinin ve babasının yaşları toplamı kaçtır?

A) 79

B) 76

C) 41

## ALİŞTIRMALAR-71

## Çıkarma İşlemi İle İlgili Sorular Çözüyorum

a) Aşağıdaki soruları cevaplayınız.

1) 17 eksiği 40 olan sayı kaçtır?

.....

2) Ömer'in 95 TL'si vardı. 10 lirası ile atkı, 15 lirası ile kitap aldı. Ömer'in kaç TL'si kalmıştır?

.....

3) Sınıfımızda toplam 36 öğrenci vardır. Kız öğrenciler 19 kişi olduğuna göre, erkek öğrencilerin sayısı kaçtır?

.....

4) Bir çıkarma işleminde eksilen 80, çıkan 30 ise fark kaçtır?

.....

5) 69 sayısının onlar basamağı 2 artırıp, birler basamağını 5 azaltırsak yeni sayı kaç olur?

.....

6) Özlem 42 yaşında, Gamze ise 22 yaşındadır. Buna göre Özlem, Gamze'den kaç yaş büyüktür?

.....

7) Resul ile Ali'nin paraları toplamı 65 TL'dir. Ali'nin parası 24 TL olduğuna göre, Resul'un parası kaç TL'dir?

.....

8) Bir çıkarma işleminde eksilen 74, fark 44 ise çıkan sayı kaçtır?

.....

9) 6 onluk ve 2 birlikten, 4 onluk, 1 birlik çıkarılırsa fark kaç olur?

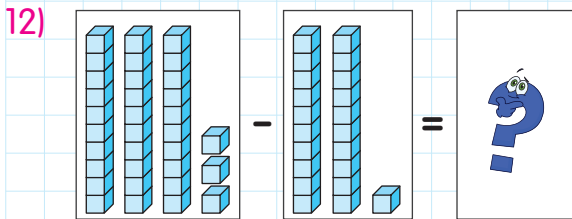
.....

10) Bir çıkarma işleminde eksilen 60, çıkan 37 olduğuna göre, fark kaçtır?

.....

11) 98 sayısının 39 eksiği kaçtır?

.....



Yukarıdaki işlemin sonucu kaçtır?

.....

13) Enes'in 77 bilyesi vardı. 26 tanesini Fatih'e verdi. Geriye kaç bilyesi kaldı?

.....

14) Onlar basamağı 9, birler basamağı 1 olan sayıdan 27 çıkarılırsa sonuç kaç olur?

.....

ANALİZ YAYINLARI

15) Hangi sayının 24 eksiği 2 düzineye eşit olur?

.....

16) Bir otobüste 44 koltuk vardır. Koltukların 23'ü dolu olduğuna göre, otobüste kaç boş koltuk vardır?

.....


## ETKİNLİKLER - 18

## Kullanırken Biriktiriyorum - 1

**Etkinlik A:** Aşağıda görselleri verilen durumlarda ne yapmamız gerektiğini altına yazınız. Örneğe göre yapınız.



Açık olan musluğu  
kapatalım.




.....

.....




.....

.....



.....

.....



.....

.....



.....

.....

**Etkinlik B:** Aşağıdaki sözcükleri anlamları ile eşleştiriniz.

A

Bir ailenin ya da bir kimsenin ileriye dönük olarak bir süre için tasarladığı gelir ve giderlerini tür ve ayrıntılarıyla gösteren çizelge.

tasarruf

....

B

Parayı ya da tüketilecek herhangi bir şeyi dikkatli kullanma, idareli harcama.

kaynak

....

C

Evimizde kullandığımız elektrik, su, doğal gaz, odun ve kömür gibi doğada bulunan ürünler.

bütçe

....



**Etkinlik C:** Evimizde kullandığımız kaynakları aşağıdaki görsellerin altındaki kutulara doğru numarayı yazarak eşleştiriniz.

1 Tavanda yanan lamba

2 Kazanlara atılan kömür

3 Musluktan akan su

4 Sobaya atılan odun

5 Defter ve kağıt

6 Ocakta yanan doğal gaz



**Etkinlik D:** Aşağıda yarım bırakılan cümleleri uygun olanları ile eşleştiriniz.

A Seyretmediğimiz televizyonu mutlaka

açmamalıyız.

B Odadan çıkarken yanan lambaları

ettirmeliyiz.

C Yemek piştikten sonra ocağı açık

bırakmamalıyız.

D Damlayan muslukları tamir

kapatmalıyız.

E Kalorifer yanarken pencereleri

söndürmeliyiz.