


1. Ömer'in annesi Elif Hanım, Emre Bey'den 5 yaş küçük. Ömer'in babası Emre Bey ise Ömer'den 38 yaş büyük ve Ömer 7 yaşındadır.

**Buna göre, aşağıdaki seçeneklerde verilenlerden hangisi yanlıştır?**

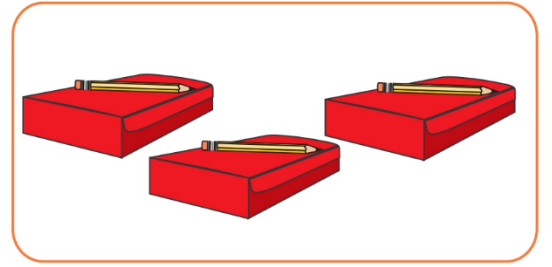
- A) Emre Bey 45 yaşındadır.  
B) Elif Hanım 40 yaşındadır.  
C) Üçünün yaşları toplamı 90'dır.




2. Bir kutuda 2 deste kalem vardır.

**3 kutu kalem alan bir kırtasiyeci, kalemlerin 48'ini satarsa geriye kaç kalem kalır?**

- A) 14      B) 12      C) 10



- 3.



Bir çiftlikte bulunan 90 koyundan önce 25'i sonra da 19'u satılmıştır.

**Buna göre, çiftlikte kaç koyun kalmıştır?**

- A) 46      B) 44      C) 42

4. 29 Ekim Cumhuriyet Bayramı'nda 43 kişilik bir sınıftan 18 öğrenci folklor-da, 9 öğrenci de farklı etkinliklerde görev almıştır.

**Verilenlere göre, kaç öğrenci Cumhuriyet Bayramı'nda görev almamıştır?**

- A) 18      B) 16      C) 14

5. Bir çıkarma işleminde fark 7'dir. Çıkan sayı farktan 9 fazla ise, bu çıkarma işleminde eksilen sayı kaçtır?

- A) 23      B) 16      C) 14

6. A çiçekçisi bir günde 3 düzine, B çiçekçisi bir günde 4 deste gül satmaktadır.

**Her iki çiçekçi bir günde toplam kaç gül satmıştır?**

- A) 70      B) 74      C) 76

7.



Benim yaşımın 8 eksiği 16 ise ben kaç yaşındayım?

- A) 20      B) 22      C) 24

8. Bayramda sınıfımızı süslemek için 34 tane yeni bayrak aldık. 25 bayrak da geçen yıldan kalmıştı. Tüm bayrakları kullanarak sınıfımızı süsledik.

**Sınıfımızı süslemek için toplam kaç bayrak kullandık?**

- A) 59      B) 48      C) 52

9. Bir kutuda 3 deste kırmızı kalem, 3 düzine de kurşun kalem vardır.

**Bu kutuda toplam kaç kalem vardır?**

- A) 60      B) 66      C) 70

10.



Yukarıdaki kümede 15 tavuk vardır. Kümede bulunan civcivlerin sayısı, tavukların sayısından 8 fazladır.

**Buna göre, kümede toplam kaç hayvan vardır?**

- A) 38      B) 34      C) 30

11. Bir sınıfta 16 kız, kızlardan 4 fazla da erkek öğrenci vardır.

**Buna göre, sınıf mevcudu kaç kişidir?**

- A) 32      B) 36      C) 38

12. Bir çıkarma işleminde fark 48, çıkan 26 ise eksilen kaçtır?

- A) 70      B) 72      C) 74

1. Öğretmenin sorduğu problemin çözümünü, hangi öğrenci doğru yapmıştır?

A)   $(15 + 9) - 7 = 14$

B)   $(15 + 7) - 9 = 13$

C)   $(9 + 7) - 15 = 1$

Oya'nın 15 fıncığı vardır. Babası, Oya'ya 7 fıncık daha veriyor. Oya, fıncıklarının 9 tanesini kardeşine veriyor. Oya'nın geriye kaç fıncığı kalmıştır?



2.



.....₺



16 ₺



.....₺

Yukarıdaki ürünleri alan Mert, ürünler için toplam 92 ₺ ödüyor.

**Mert'in aldığı futbol topunun fiyatı, eldivenin fiyatından 8 ₺ fazla olduğuna göre, spor ayakkabısının fiyatı kaç ₺'dir?**

- A) 48      B) 50      C) 52

3. Bir otobüste 43 yolcu vardı. Önce 15 yolcu, daha sonra da 9 yolcu indi. Geriye kalan yolcular ise son durakta indiler.

**Son durakta otobüsten kaç yolcu inmiştir?**

- A) 19      B) 23      C) 25

4.



Levent'in 37 ₺'si vardı. Levent'e dayısı 13 ₺, amcası 12 ₺ verdi. Levent parasının bir miktarını Kızılay'a yardım olarak verince geriye 35 ₺'si kaldı.

**Buna göre, Levent Kızılay'a kaç ₺ yardım yapmıştır?**

- A) 27      B) 24      C) 18

5. Kadir'in 69 tane bilyesi vardı. 15 tanesini Mehmet'e, 26 tanesini de Cengiz'e verdi.

**Geriye kaç bilyesi kaldı?**

- A) 38      B) 34      C) 28









6. Bir satıcı, 70 şemsiyeden 48 tanesini satıyor.

**Bu satıcının geriye kaç şemsiyesi kalmıştır?**

- A) 20      B) 22      C) 25

7. Bir simitçi sabah 25, öğlen 42 simit satıyor. Kalan simitlerini de akşama doğru satıyor. **Bu simitçi, gün boyunca toplam 89 simit sattığına göre, akşama doğru kaç simit satmıştır?**

**Yukarıdaki problemin çözümünde sırasıyla hangi seçenekte verilen işlemler yapılırsa doğru sonuç bulunamaz?**

- A)  
- B)  
- C)  

8. Yandaki gazeteci bir günde 80 gazeteyi kapı kapı dolaşarak dağıtıyor. Gül Sokak'ta 12, Karanfil Sokak'ta, 27, Elmas Sokak'ta da 19 gazete dağıtıyor.



**Buna göre, gazetecinin dağıtmadığı kaç gazetesi kalmıştır?**

- A) 32      B) 22      C) 12

9. Bir çıkarma işleminde fark 12'dir.

**Çıkan sayı farktan 20 fazla ise bu çıkarma işleminde eksilen sayı kaçtır?**

- A) 44      B) 42      C) 40

10. Ali'nin 25 ₺'si vardı. Ali, babasından 15 ₺, annesinden de  $\Delta$  ₺ olarak fiyatı 60 ₺ olan bir basketbol topu aldı.

**Buna göre, Ali annesinden kaç ₺ almıştır?**

- A) 15      B) 20      C) 25

11. Sezgin'in 35 bilyesi vardı. Arkadaşı Ahmet de Sezgin'e bilyelerini verdi.

**Son durumda Sezgin'in 60 bilyesi olduğuna göre, Ahmet, Sezgin'e kaç bilye vermiştir?**

- A) 25      B) 30      C) 35

12. Elif, bir hikâye kitabının birinci gün 25 sayfasını okuyor, ikinci gün ise 48 sayfasını okuyor.

**Elif, iki günde toplam kaç sayfa kitap okumuştur?**

- A) 68      B) 70      C) 73