



# 2.SINIF

## EKİM AYI SÜREÇ İZLEME SINAVI-1



Adı:.....

Soyadı:.....





1) Aşağıdaki hayvan görsellerinden hangisi alfabemizin son harfi ile başlar?



Adımı oluşturan harf sayısı "bilgisayar" sözcüğündeki sessiz harfler kadardır.

2) Buna göre konuşmayı yapan çocuğun adı ne olabilir?

A) Kayra

B) Türkan

C) Mustafa



3) Yukarıda resmi verilen sözcük ile ilgili aşağıdaki ifadelerden hangisi yanlıştır?

A) Sesli harfle başlayıp sessiz harfle biter.

B) Dört harfli bir sözcüktür.

C) Üç heceli bir sözcüktür.



Aşağıdaki tabloda bir sözcük yazılıdır. Bu sözcüğü oluşturan harflerin alfabedeki sıra numarası altlarında yazılıdır.

14	12	24	1	20

4) Buna göre tabloda yazılı sözcük aşağıdakilerden hangisidir?

- A) kitap
- B) kiraz
- C) kilit

Sınıfımıza yeni pano alındı.

5) Yukarıdaki cümlede geçen sözcükler alfabetik sıraya göre dizildiğinde "pano" sözcüğü kaçınıcı sırada yer alır?

- A) ikinci
- B) üçüncü
- C) dördüncü

6) Satır sonuna sığmayan sözcüklerden hangisinin yazımı yanlıştır?

A) .....oto-  
büs

B) .....araş-  
tırma

C) .....pe-  
ncere



Bizim sokağa çok **şirin** bir oyun parkı yapıldı. Oyun parkının içinde rengarenk oyuncaklar var. Yerler, **güvende** olmamız için yumuşak malzemedен yapılmış. Oyun parkının başında ise bize çok **nazik** davranan bir bekçi var.

7) Aşağıdakilerden hangisi, bu paragrafta renkli olarak verilen kelimelerden birinin açıklaması değildir?

- A) Sevimli, cana yakın
- B) Birinin kötülüğünü isteyen kimse
- C) Korku, endişe duymadan inanma duygusu

1 ve 2. Sözcükler arasında eş anlamlılık ilişkisi vardır.

1 ve 3. Sözcükler arasında zıt anlamlılık ilişkisi vardır.

8) Seçeneklerin hangisinde verilen sözcükler, yukarıdaki bilgilere göre sıralanmıştır?

1. Sözcük

2.Sözcük

3.Sözcük

A) güzel

çirkin

iyi

B) yarar

fayda

zarar

C) kirli

temiz

lekeli



Hacer Öğretmen eş anlamlı kelimelerle ilgili bir çalışma yapmıştır. Öğrencilere üzerinde kelime yazılı kağıtlar vermiş ve onlardan bu kelimelerin eş anlamlılarını yazmasını istemiştir. Kayra, Zeynep, Zümra ve Saliha'nın kağıtları aşağıdaki gibidir.

1	2	3	4
ıslak-yaş düş-gerçek cevap-yanıt yıl-sene	ıslak-yaş düş-rüya cevap-yanıt yıl-sene	ıslak-yaş düş-gerçek cevap-soru yıl-hafta	ıslak-kuru düş-rüya cevap-soru yıl-sene

- Zeynep, bir hata yapmıştır.
- Zümra iki hata yapmıştır.
- Kayra, hepsini doğru yapmıştır.
- Saliha, sadece bir doğru yapmıştır.

9-10. soruları bilgilere göre cevaplayınız.

9 ) Zümra'nın kartı kaç numaradır?

A) 1

B) 2


C) 4

10 ) Kayra'nın kartı kaç numaradır?

A) 1

B) 2

C) 3



Yukarıdaki rakamları kullanan Uğur, iki basamaklı sayılar oluşturmuştur.

1) Bu sayıların en yakın onlukları hangisi olamaz?

A) 40

B) 50

C) 60

$$53 + 36 = ?$$

Yukarıdaki toplama işleminde Hatice işlemin tahmini sonucunu bulurken Mehmet işlemin gerçek sonucunu bulmuştur.

2) Buna göre Hatice ile Mehmet'in bulduğu sayılar arasındaki fark kaçtır?

A) 1

B) 2

C) 3

$$\begin{array}{r} 4 \text{ A} \\ + \text{B} 7 \\ \hline 5 \text{ 9} \end{array} \quad \begin{array}{r} \text{C} 2 \\ + 15 \\ \hline 6 \text{ D} \end{array}$$

3) Yukarıdaki toplama işleminde verilmeyen rakamların toplamı kaçtır?

A) 13

B) 14

C) 15



$$27 + \blacksquare = 36$$

$$\blacksquare + \bullet = 16$$

4)  $\bullet + \bullet + \blacksquare$  işleminin sonucu kaçtır?

A) 23

B) 44

C) 25

1	2	3	4	5	6
76	41	25	78	40	39

5) Yukarıdaki sayıların büyükten küçüğe doğru sıralanışı hangi seçenekte verilmiştir?

A) 3 6 5 2 1 4

B) 4 1 2 5 6 3

C) 1 4 2 5 6 3

Seyhan'ın kalemlerinin sayısı 2 desteden 3 fazladır. Gürkan'ın kalemlerinin sayısı ise Seyhan'ın kalemlerinden 5 eksiktir.

6) Buna göre aşağıdaki ifadelerden hangisi doğrudur?

A) Seyhan'ın 27 kalemi vardır.

B) Gürkan, Seyhan'a 6 kalem verirse bir düzine kalemi kalır.

C) Seyhan, Gürkan'a 2 kalem verirse Gürkan'ın 2 düzine kalemi olur.



**Fatih:** Altıdan başlayarak ikişerli ritmik yedi sayma yaptım.



**Yusuf:** Beşten başlayarak beşer ritmik altı sayma yaptım.

**7 )** Fatih ve Yusuf'un verdiği bilgilere göre aşağıdakilerden hangisi doğrudur?

- A) Fatih'in son söylediği sayı, Yusuf'unkinden büyüktür.
- B) İkisinin de son söylediği sayı aynıdır.
- C) Yusuf'un son söylediği sayı , Fatih'inkinden büyüktür.

**8 )** Bir koşu yarışmasına 12 kişi katılmıştır. Kenan bu yarışmayı sondan 5. Sırada bitirdiğine göre yarışmayı kaçınıcı sırada bitirmiştir?

- A) 7
- B) 8
- C) 9





Aşağıdaki renkler öğrenci servislerini temsil etmektedir ve altına kaç öğrenci taşıdığı ile ilgili bilgi verilmiştir.



17 öğrenci

? öğrenci

25 öğrenci

? öğrenci

Kırmızı servis aracı ; sarı servis aracından fazla, mavi servis aracından az öğrenci taşıyor.

Yeşil servis aracı, mavi servis aracından daha fazla öğrenci taşıyor.

9 ) Buna göre dört servisin okula taşıdığı toplam öğrenci sayısı en az kaç olabilir?

A) 86

B) 88

C) 91

Aşağıda verilen hesap makinesi arızalı olduğundan sayıları hatalı algılamaktadır. Herhangi bir rakama basıldığında basılan rakamın 1 fazlasını ekrana yansıtmaktadır.



Örneğin; 58 sayısını yazmak için tuşlara basıldığında ekrana 69 sayısı çıkmaktadır.

Eslem bu arızalı hesap makinesi ile  $23+46$  işlemini yapıp sonucu bulmuştur.

10 ) Buna göre hesap makinesinin bulduğu sonuç aşağıdakilerden hangisidir?

A) 69

B) 81

C) 91



Dört arkadaşın özellikleri ile ilgili şu bilgiler verilmiştir;

- Seda çok hızlı okur.
- Burcu çok iyi yüzer.
- Esra çok güzel resim yapar.
- Eren çok iyi futbol oynar.

1) Buna bilgilere göre aşağıdakilerden hangisi söylenemez?

- A) Hepsi çok iyi okur.  
B) Hepsi farklı özelliklere sahiptir.  
C) Hepsinin farklı yetenekleri vardır.



**Deren:**

Arkadaşlarımın farklı özelliklere sahip olmasını  
..... karşılarım.

2) Bu cümlede noktalı yere aşağıdakilerden hangisi gelirse Deren bireysel farklılıklara saygı duymuş olur?

- A) şaşkınlıkla                      B) kızgınlıkla                      C) hoşgörüyle

3) Aşağıdakilerin hangisinde bireysel farklılıklara saygı duyulmamıştır?

- A) Efnan, benim gibi güzel resim çizemiyor.  
B) Selim ile göz rengimiz aynı olmayabilir.  
C) Suat'ın işitme cihazı kullanması normal bir durumdur.



Yücel, okul çantasını günlük ders programına göre hazırlamadı. Görsel sanatlar dersinde gerekli eşyaları getirmediği için eşyaları sürekli arkadaşlarından istemek zorunda kalmıştır.

**4 ) Buna göre Yücel ile ilgili aşağıdakilerden hangisi söylenemez?**

- A) Arkadaşlarından sürekli eşya istemek zorunda kalır.
- B) Özgür sorumluluklarını bilen bir öğrencidir.
- C) Ders eşyalarını unutursa etkinliklere tam katılamaz.



**Sümeyye:**

Sınıfta alınan kararlara herkes saygılı olmalıdır.

**5 ) Sümeyye'nin düşüncesine aşağıdaki davranışlardan hangisi örnek verilebilir?**

- A) Beğenmediğimiz kararlara itiraz etmek
- B) Sadece öğretmenimizin fikirlerine saygı duymak
- C) Alınan kararları uygulamak



6) Okul kaynaklarını ve eşyalarını özenli kullanan bir öğrenci için aşağıdakilerden hangisini söyleyemeyiz?

- A) Tutumlu biri değildir.
- B) Tasarrufa özen gösterir.
- C) Kaynakları özenli kullanır.

7) Sınıfıla ilgili konularda karar alırken aşağıdakilerden hangisi yapılmamalıdır?

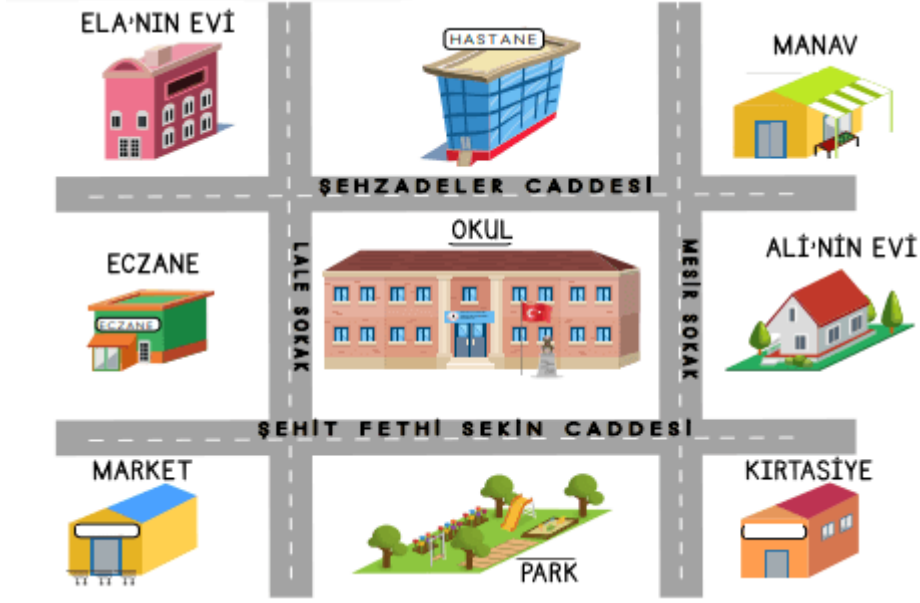
- A) Herkesin fikrini dinlemek
- B) Alınan kararlara saygı duymak
- C) Sadece sınıf başkanının fikrini kabul etmek



**Hande:** Grubumuzun bütün üyeleri üzerine düşen görevleri yerine getirmiştir.

8) Hande konuşmasında aşağıdakilerden hangisinden söz etmiştir?

- A) Öz denetimden
- B) Sorumluluktan
- C) Planlı olmaktan



9 ) Görsele göre aşağıdakilerden hangisi yanlıştır?

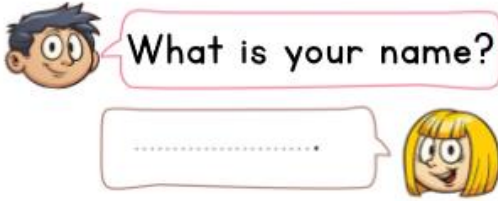
- A) Ali eczaneye gitmek için 2 caddeyi kullanabilir.
- B) Ela'nın evinin karşısında eczane bulunmaktadır.
- C) Ali'nin evinin karşısında market bulunmaktadır.

10 ) Size göre görsele bulunan okul için verilen bilgilerden hangisi doğrudur?

- A) Okulun sağında Ali'nin evi bulunmaktadır.
- B) Okulun önünde eczane bulunmaktadır.
- C) Okulun arkasında kırtasiye bulunmaktadır.



- A) evening
- B) morning
- C) night



- A) I'm fine.
- B) My name is Meral.
- C) Good evening.



- A) gorilla
- B) cheetah
- C) zebra



- A) That's a wagon.
- B) That's a balloon.
- C) That's a lemon



- A) Good bye.
- B) Have are you?
- C) Great thanks.