



ADI:

SOYADI:

SINIFI:

NUMARASI:

OKULU:

www.ilkokulevim.com

2.SINIF

**KAZANIM DEĞERLENDİRME
SINAVI**



Yol üstünde otomobil,
Tozu dumana katıyor.
Beyaz gemilerin denizleri,
Kıyı kıyı dolaşiyor.
Demirden bir kuş gibi,
Uçuyor uçaklarım.
İnce çelik raylarında,
Koşuyor vagonlarım.

Yalvaç URAL

1 ve 2. soruları şiire göre cevaplayın!

1- Şiirin konusu nedir?

- A. Denizler
- B. Kuşlar
- C. Taşıtlar

2- Uçak neye benzetilmiştir?

- A. Demirden bir kuşa
- B. Hızlı koşan bir ata
- C. Raylarda koşan vagonlara

3- "Yanmak" sözcüğü hangi cümlede farklı bir anlamda kullanılmıştır?

- A. Hasan kibritle oynarken elini yaktı.
- B. Dedesinin ölümü onun için yakıyordu.
- C. Yemek Bülent'in ağzını yakmış.

■ Ablam kızlaya kan bağışı yaptı.

● Ankara, Türkiye'nin başkentidir.

▲ Aliler yarın Konya'ya gidecek.

4- Yukarıda verilen cümlelerin hangisinde yazım yanlışı vardır?

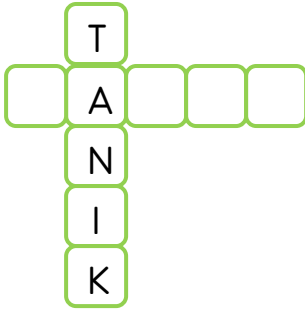
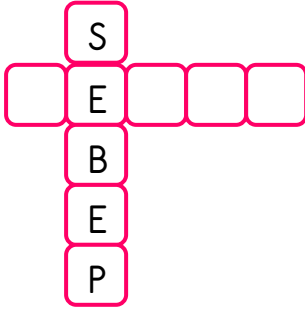
- A. ■
- B. ●
- C. ▲



Kayra bisiklet almak
..... para biriktiriyor.

5- Yukarıdaki cümleyi anlamlı şekilde tamamlamak için boşluğa hangi kelime gelmelidir ?

- A. gibi
- B. için
- C. çünkü



Yukarıdaki hayvanlar onlara verilen kelimelerin bulmacada eş anlamlarını bularak yazacaklardır.

6- Buna göre bu sözcükler sırasıyla hangileridir?



- A. NETİCE YOKSUL GÖZCÜ
 B. NEDEN ZENGİN DELİL
 C. NEDEN YOKSUL ŞAHİT

BB

Aşağıdaki kelimeler büyük harfle başlar:

1. Şehir adları
2. Cümle başları
3. Şiirde dize başları
4. Hayvanlara verilen adlar
5. Meyve adları

7- Yukarıdaki verilen bilgilerden kaç tanesi doğrudur

- A. 3
 B. 4
 C. 5

- 1-Follukta altın bir yumurta gördü.
- 2-Köylünün biri tavuk satın aldı.
- 3-Buna çok sevinen köylü , çabucak zengin olmak istedi.
- 4-Ertesi sabah kümese uğradı.

8- Numaralandırılmış cümleler olayların oluş sırasına göre nasıl sıralanmalıdır?

- A. 2-4-1-3
 B. 2-4-3-1
 C. 4-2-1-3



Bu mont sana çok ya()
kışmış()Yeni mi aldın()

9- Yukarıdaki cümlede verilmeyen noktalama işaretleri sırasıyla nasıl olmalıdır?

- A. (.) (?) (!)
B. (-) (.) (?)
C. (-) (?) (.)

Kayra odasında oyun oynuyordu. Tek başına kalınca canı çok sıkılıyordu. Teyzesi gelince parka gidecekleri için çok heyecanlıydı. Kapı zili çaldı. Kayra hemen koşarak kapıyı açtı. Çok sevindi. Teyzesi gelmişti. Parka gideceği için çok sevinçliydi.

10- Yukarıdaki metnin hikaye unsurlarıyla ilgili verilen bilgilerden hangisi yanlıştır?

- A. Hikayenin kahramanı Kayra'dır.
B. Olay evde geçmiştir.
C. Olay pazar günü yaşanmıştır.



Bu test 10 sorudan oluşmaktadır.






- 1- Yukarıdaki 8★ sayısı en yakın onluğa yuvarlandığında 90 olduğuna göre ★ yerine hangi rakam gelemez?
A. 4 B. 5 C. 6

22.54

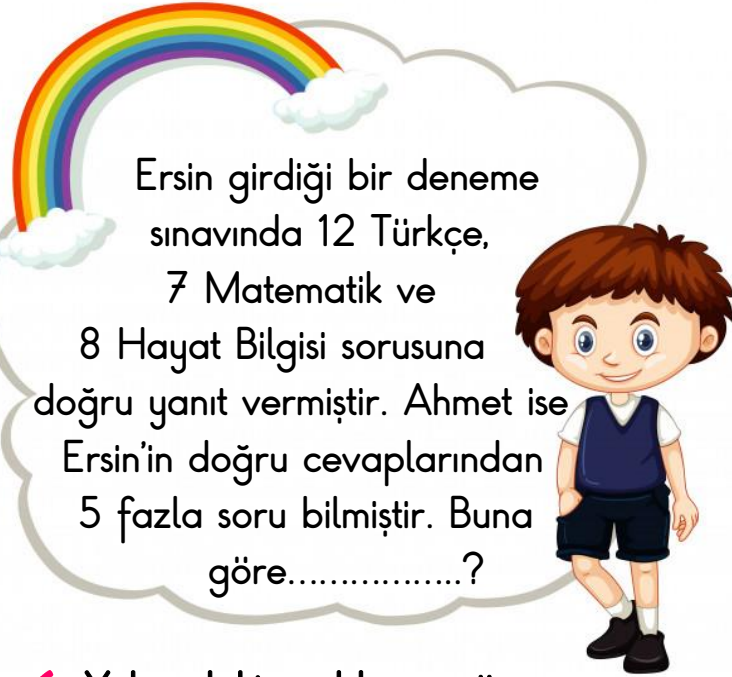
22.57

21.22.22

42.25.11

- 2- Yukarıdaki hangi iki çiçeğin toplama işlemi sonucu farklıdır?
A.  B.  C. 

- 3- Aşağıdakilerden hangisi bir örüntü değildir?
A. AABCCCAABCC
B. 
C. 22299552229955



Ersin girdiği bir deneme sınavında 12 Türkçe, 7 Matematik ve 8 Hayat Bilgisi sorusuna doğru yanıt vermiştir. Ahmet ise Ersin'in doğru cevaplarından 5 fazla soru bilmıştır. Buna göre.....?

- 4- Yukarıdaki probleme göre noktalı yere ne yazılmalıdır?
A. Ahmet kaç matematik sorusuna doğru cevap vermiştir?
B. Ahmet kaç Ersin'den kaç Türkçe sorusuna doğru cevap vermiştir?
C. Ahmet toplam kaç doğru cevap vermiştir?



- 5- Ayımız Bombo elindeki sayılar ile çıkarma işlemi yaptığında sonucu kaç bulur?
A. 23
B. 27
C. 37



| | | | | | |
|---|----|----|----|----|----|
| x | 5 | 6 | 7 | 8 | 9 |
| 3 | 15 | ● | 21 | 24 | 27 |
| 4 | 20 | 24 | 28 | ★ | 36 |
| 5 | 25 | 30 | ◆ | 40 | 45 |

6- Yukarıdaki çarpım tablosuna göre

◆ + ● + ★ işleminin sonucu kaç eder?

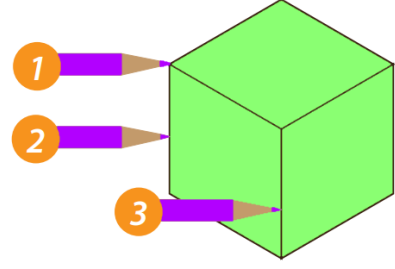
- A. 75 B. 80 C. 85



Yukarıda bir çiftlikte bulunan tavuk,inek ve koyunların sayıları verilmiştir.

7- Buna göre bu çiftlikteki hayvanların ayak sayıları toplamı kaçtır?

- A. 70 B. 80 C. 84



8- Hangi kalemlerin ucu küpün ayırıtına dokunmuş?

- A. 1 ile 2 B. 1 ile 3 C. 2 ile 3

9- Saliha 56 sayfalık bir kitabın 20 sayfasını okudu. Geriye kalan sayfaları ise 4 günde bitirmek için günde kaç sayfa okumalıdır?

- A. 9
B. 10
C. 11



10- Şekildeki rüzgar gülü ok yönünde çeyrek dönüş yaparsa aşağıdaki seçeneklerden hangisi gibi durur?

- A. B. C.



Bu test 10 sorudan oluşmaktadır.

2B sınıfı öğrencilerinden Haluk, televizyonda belgesel programı izlemeyi çok severken, Şeyma kitaplardan yeni bilgiler öğrenmeyi çok sevmektedir. Adem iyi basketbol oynarken, Kayra okul futbol takımının kaptanıdır.

1- 2/A sınıfı öğretmeni canlılarla ilgili pano hazırlama çalışması yaptırmak istemektedir. Buna göre hangi iki öğrenciye bu görevi vermelidir?

- A. Adem - Şeyma
- B. Kayra - Haluk
- C. Haluk - Şeyma



2- Yukarıdaki sınıfla ilgili hangilerini söyleyebiliriz?

- A. Sınıfın çok tertipli ve düzenli olması nedeniyle başarı oranı yüksektir.
- B. Öğrenciler okul eşyalarını özenli kullanmaktadırlar.
- C. Ülke, okul ve aile bütçelerine zarar vermektedirler.

1-Kararların ortak alındığı ailelere●..... aile denir.

2-Aile içinde kararlar alınırken■..... da düşüncesi sorulmalıdır.

3- Yukarıdaki cümlelerde ● ve ■ ile belirtilen boşluklara hangi kelimeler gelmelidir?

- | | |
|---------------|------------|
| ● | ■ |
| A. anlayışlı | komşuların |
| B. demokratik | çocukların |
| C. uyumlu | büyüklerin |

| | |
|---|---|
| Elerimizi sık sık yıkamalıyız. | Sağlıklı beslenmek için hep aynı besinleri yemeliyiz. |
| Spor yapmak sağlıklı olmak için önemlidir | Çok yemek yersek çabuk büyürüz. |

Yukarıda verilen bilgi kartlarında doğru bilgiler maviye yanlış bilgiler ise sarıya boyanacaktır.

4- Bilgiler okunup kartlar boyandığında nasıl bir şekil ortaya çıkar?

- A.
- B.
- C.



Ülkemizde kültürel zenginliklerimizi gösteren bir çok şey vardır. Bunlardan biri de yemeklerimizdir.

5- Buna göre aşağıdaki yemeklerden hangisi bizim kültürümüze ait değildir?




- A.  Manti
- B.  Kebab
- C.  Pizza



6- Aşağıdaki bisikletle ilgili verilen bilgilerden hangisi doğrudur?

- A. Bisikletimizi trafiğin yoğun olduğu yerlerde sürmeliyiz.
- B Bisiklet sürerken tehlikeli hareketler Yapabiliriz.
- C. Bisiklet sürerken kask, dizlik takmalıyız.

7- Aşağıdakilerden hangisi kara taşıtıdır?

- A) 
- B) 
- C) 



Araba tekerlekleri üretiyorum

Sadettin Usta

8- Yukarıdaki cümleyi söyleyen Sadettin Usta nerede üretim yapıyordu?

- A. Mobilya Mağazası
- B. Çiftlik
- C. Fabrika



9- Farklı ülkelerden; savaş, çalışma gibi nedenlerle ülkemize gelen insanlara nasıl davranmalıyız?

- A. Onlara her konuda yardımcı olmalıyız.
- B. Onlarla konuşmamalıyız.
- C. Ülkelerine geri gitmelerini söylemeliyiz.



Sema

Millî Mücadele'ye halk katılmamıştır.



Can

Millî Mücadele'nin başladığı şehir Ankara'dır



Murat

Millî Mücadele'de Atatürk liderlik etmiştir.

10- Yukarıdaki öğrencilerden hangisinin Millî Mücadele ile ilgili söylediği ifade doğrudur?

- A. Sema
- B. Can
- C. Murat



Bu test 5 sorudan oluşmaktadır.



1- Yukarıdaki cümlede boşluğa hangi kelime gelmelidir?

- A. sing
- B. jump
- C. chess



2- Yukarıdaki görsel aşağıdakilerden hangisidir?

- A. ear
- B. toe
- C. mouth



It is a

3- Yukarıdaki cümlede boşluğa hangi kelime gelmelidir?

- A. bird
- B. turtle
- C. fish



It is and

4- Yukarıdaki boşluğa yazılması gereken renkler hangi seçenekte doğru verilmiştir?

- A. red- yellow
- B. pink-white
- C. black-white

$$2 + 4 = ?$$

5- Yukarıdaki işlemin sonucu kaçtır?

- A. five
- B. six
- C. four

Sevgili ÖĞRETMEN ve VELİLERİMİZ;
Deneme Sınavına Teşekkür Mahiyetinde
Sosyal Medya Sayfamızı Beğenirseniz
Çok Mutlu Oluruz.

Aşağıdaki Linklerden Bizlere Ulaşabilirsiniz.

www.ilkokulevim.com

www.instagram.com/ilkokulevim

www.facebook.com/ilkokulevim

www.facebook.com/groups/272489210266407/

t.me/ilkokulevim

CEVAP ANAHTARI

| TÜRKÇE | MATEMATİK | HAYAT BİLGİSİ | İNGİLİZCE |
|--------|-----------|---------------|-----------|
| 1-C | 1-A | 1-C | 1-C |
| 2-A | 2-B | 2-C | 2-A |
| 3-B | 3-B | 3-B | 3-B |
| 4-A | 4-C | 4-A | 4-C |
| 5-B | 5-B | 5-C | 5-B |
| 6-C | 6-C | 6-C | |
| 7-B | 7-B | 7-A | |
| 8-A | 8-C | 8-C | |
| 9-B | 9-A | 9-A | |
| 10-C | 10-B | 10-C | |