

# 2.SINIF

## İLKOKULEVİM

### KAZANIM DEĞERLENDİRME SINAVI



HER ATIK ÇÖP DEĞİLDİR.



1- Bu görsel ile ilgili aşağıdakilerden hangisi söylenebilir?

- A) Kullanmadığımız eşyaları evde saklamalıyız.
- B) Sağlıklı ve temiz bir gelecek için atıkları geri dönüştürmeliyiz.
- C) Atıklarımızı çöp kutusuna atmamızdır.



2- Eftelya, haftasonu yaşadıklarını anlatırken aşağıdakilerden hangisini yaparsa konuşma kurallarına uymamış olur?

- A) Sık sık duraklamalar yaparsa
- B) Göz teması kurarak anlatırsa
- C) İşitilebilir bir ses tonuyla konuşursa



Öğretmenimizle şehirde bir gezi yaptık. Yaya üst geçitlerini kullandık. Yayaların bu üst geçitleri kullanıp kullanmadıklarını gözlemledik. Trafik levhalarını inceledik. Trafik kurallarına ne kadar uyulduğunu gözlemledik.

**3-** Bu metnin konusunu hangi öğrenci doğru söylemiştir?

- A) Süleyman: Yaya geçitlerinden geçilmesi
- B) Ayşe: Trafik levhalarının incelenmesi
- C) Gamze: Şehir trafiğinin gözlemlenmesi

Radyo dinlemeyi seviyor		
misiniz?	musunuz?	misiniz?

**4-** Yukarıdaki tabloda bulunan cümlenin sonuna hangi soru eki getirilirse cümle anlamlı olur?

- A) misiniz?
- B) musunuz?
- C) misiniz?

“Erhan Çarşamba günü İzmir’e uçakla gelmiş.”



5- Bu cümlede hangi sembolle gösterilen sözcük yanlış yazılmıştır?

A) ▲

B) ■

C) ●

▲ Ahmet Mehmet Veli top oynadılar.

● İngilizce matematik ve müzik derslerini çok severim.

■ Kardeşime pantolon gömlek şort aldık.

6- Yukarıdaki cümlelerin hangi ikisinde eşit sayıda virgül kullanılmaktadır?

A) ▲ ●

B) ● ■

C) ▲ ■

- Beni günlük yaşamınızda, hemen hemen her gün kullanıyorsunuz.
- Benim birden fazla sözlük anlamım olsa da en çok kullanılanlardan biri “Yer yüzünün deniz olmayan kısımları”dır.
- Eş anlamlısı ve zıt anlamlısı bulunan sözcükler arasında bende varım.

7- Yukarıda kendini tanıtan sözcük hangi seçenekte doğru verilmiştir?

A) Toprak

B) Siyah

C) Kara

kitap  
defter  
kalem

eldiven  
kaşkol  
soba

güneş  
mayo  
kum

8- Yukarıda verilen sözcük grupları aşağıdaki görsellerden hangisini çağırıştırır?

A)



B)



C)



Ramazan işe giderken maskesini unutmuştu.

9- Yukarıda verilen bilgiden hareketle aşağıdakilerden hangisi kesin olarak söylenebilir?

A) Evde maskesi kalmamıştır.

B) Ramazan evden koşarak çıkmıştı.

C) Ramazan evden çıkmıştır.

Yaşadığım şehri bul!

- ✓ Yaşadığım şehrin adının ilk harfi alfabemizin 21. harfi
- ✓ İkinci harfi alfabemizdeki 12. harf
- ✓ Üçüncü harfi ise alfabemizdeki son harftir.

Erhan ve Sezen yaşadığım şehri bul oyununu oynamaktadırlar.

**10-** Sezen'in anlattığı Erhan'ın bilmeye çalıştığı şehir hangisidir?

- A) Rize
- B) Bolu
- C) Kars



Ankara'dan Antalya'ya tatil için yola çıkan üç arkadaş 11:45'te yola çıkmıştır. Sabit bir hızla giden araçları ile 30 dakikada 20 kilometre yol gitmişlerdir.

**1-** Bu üç arkadaş 40 kilometre daha yol gittiklerine göre toplamda kaç dakika yol gitmişlerdir?

A)45

B)90

C)60

Ahmet, çok hastalanmış ve doktorun verdiği ilaçları, eczacının belirlediği şekilde kullanmaktadır. Eczacı ilacı iki günde bir, saat 10:00'da 4 hafta boyunca içmesini söyler.

**2-** Buna göre Ahmet, ilacı kaç saat arayla ve toplamda kaç gün içecektir?

A) 24 saat arayla toplamda 28 gün

B) 48 saat arayla toplamda 14 gün

C) 72 saat arayla toplamda 14 gün





Bir kuruyemiş dükkanında 4 yarım çuval ceviz satılmış geriye 4 yarım çuval ceviz kalmıştır. Hiç açılmamış ceviz çuvalları ise iki kişi arasında yarıya bölüştürülmüş ve her birine 3 yarım çuval ceviz düşmüştür.

**3-** Buna göre bu kuruyemiş dükkanında en başta kaç bütün çuval ceviz vardı?

A)7

B) 10

C) 14

$$24 \div 4$$

**4-** Yukarıda verilen bölme işlemine ait problem hangisi olamaz?

A) 24 silgi dörderli gruplandırılırsa kaç grup oluşur?

B) 24 tane armut 4 kişiye eşit olarak paylaştırılırsa her biri kaç armut alır?

C) 24 kağıttan 4 tanesini kullandım. Geriye kaç kağıt kalır?

Bayram tatili için memleketi Ordu'ya giden Sarp, 5 kilometre gittikten sonra mola veriyor. Mola sonrası gideceği yol, gittiği yolun 7 katıdır.

**5-** Buna göre Sarp'ın mola sonrası gideceği yok kaç kilometredir?

A)30

B)35

C)40





Kaan göl kenarında gördüğü kurbağanın kaç karış zıpladığını hesaplamak istemektedir. Bu kurbağanın 3 kez ileri, 2 kez geri ve sonrasında 5 kez ileri zıpladığını görüyor.

6- Kurbağanın her zıplaması Kaan'ın 2 karışına denk geldiğine göre, kurbağa ileriye kaç karış zıplamıştır.?

- A) 12
- B) 16
- C) 20



7- Yukarıdaki verilen örüntüde “?” olan yere hangi şekil gelmelidir?

- A) ★
- B) ●
- C) ☾

Sema, Semra ve Serap anneler günü için çiçek topluyorlar. Sema ve Semra birer düzine, Serap ise daha az çiçek topluyor. Sema ve Semra kendi çiçeklerinden ikişer tanesini Serap'a verince bu üç arkadaşında birer deste çiçeği oluyor



8- Buna göre, Serap başlangıçta kaç çiçek toplamıştır?

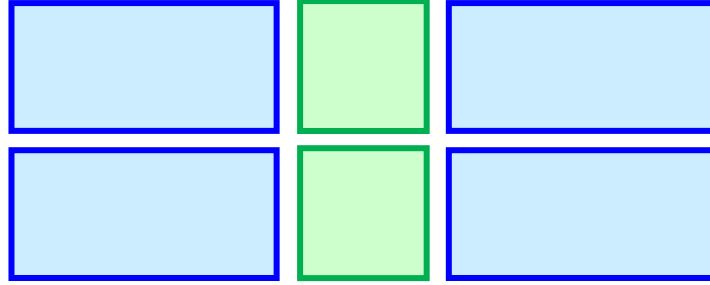
- A) 7
- B) 6
- C) 8



Kadir, öğle yemeğinde arkadaşlarıyla birlikte eve geleceğini söylemiş ve annesinden pizza yapmasını istemiştir. Annesi ise daire şeklinde açtığı hamurların üstüne çeşitli malzemeler koyarak 3 çeşit pizza yapmıştır.

9- Görselde yer alan pizzaların köşe sayısını aşağıdaki işlemlerden hangisi ile gösterebiliriz?

- A)  $3 \times 0$
- B)  $3 \times 3$
- C)  $3 \times 1$



Ayhan'ın elinde yukarıdaki boyalı tahtalar bulunmaktadır. Ayhan bu tahtalarla bir geometrik cismin maketini yapıyor.

10- Ayhan'ın yaptığı geometrik cisim hangisi olabilir?

- A) küp
- B) dikdörtgen prizma
- C) kare prizma

- ☺ Kazanmak kadar kaybetmekte doğaldır.  
☹ Oyun sonunda kazanan arkadaşlarımızı mutlaka kutlamalıyız.  
☺ Kaybettiğimiz zaman ağlamalıyız.

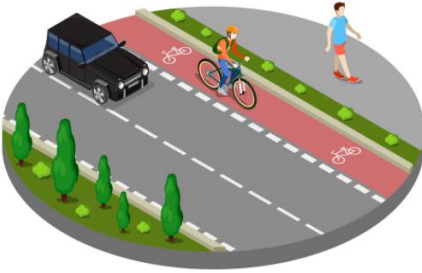
1- Hangi sembollerin yanındaki bilgiler doğrudur?

- A) ☺ ☹  
B) ☺ ☹  
C) ☹ ☹

Tolga ve Ömür farklı sınıflarda olmalarına rağmen çok iyi arkadaşlardır. Tolga futbol oynamayı, müzik dinlemeyi ve satranç oynamayı seviyor. Ömür ise Voleybol oynamayı, bulmaca çözmeyi ve tavla oynamayı seviyor.

2- Tolga ve Ömür'ün çok yakın iki arkadaş olmalarının nedeni aşağıdakilerden hangisidir?

- A) Aynı etkinliklerden hoşlanmaları  
B) Aynı sınıfta olmaları  
C) Birbirlerinin farklı özelliklerine saygı duymaları



3- Yandaki görselde bisiklet süren Cemal için aşağıdakilerden hangisi söylenemez?

- A) Yoğun trafik için bisiklet kullanmaktadır.  
B) Bisiklet yolunu kullanmıştır.  
C) Bisiklet sürerken kullanılması gereken eşyaları kullanmıştır.

**4- Aşağıda verilen bilgilerden hangisi yanlıştır?**

- A) Göç eden kişilere göçmen denir.
- B) Savaş, açlık gibi sebeplerle insanlar farklı ülkelere göç edebilir.
- C) Göç eden kişilerin kültürlerine saygı gösterilmemelidir.

Berkay ve 5 yaşındaki kardeşi anneleri markete gittiği için yalnız kalmışlardı. Bu sırada karınlarının acıktığını fark ettiler ve kendileri için yemek hazırlamaya karar verdiler.

**5- Berkay ve kardeşinin aşağıdaki teknolojik aletlerden hangilerini yanlarında bir yetişkin yokken kullanmalarında sakınca yoktur?**

- A) Fırın- ocak
- B) Buzdolabı
- C) Su ısıtıcısı

→ ..... hastaları muayene eden sağlık çalışanıdır.

→ ..... doktorun yazdığı ilaçları reçeteye göre satan çalışandır.

→ ..... hastalarla ilgilenen sağlık çalışanıdır.

**6- Boş bırakılan yerlere sırasıyla hangi meslekler yazılmalıdır?**

- A) Doktor - Eczacı - Hemşire
- B) Hemşire - Eczacı - Doktor
- C) Doktor - Hemşire - Eczacı

Talha sağlıklı beslenen bir çocuktur.

**7-** Aşağıdakilerden hangisi Talha'nın öğle yemeği seçimlerinden biri olamaz?



Asım evdeki kaynakları tasarruflu kullanarak aile bütçesine katkıda bulunmak istiyor.

**8-** Buna göre aşağıdaki seçeneklerden hangisi Asım'ın yapması gerekenlerden biri değildir?

A) Tüm eşyalarını özenli ve temiz kullanmalıdır.

B) Derslerine gaz lambası ışığında çalışmalıdır.

C) Ellerini yıkarken, dişlerini fırçalarken suyu boş yere açık bırakmamalıdır.

**9-** Aşağıdakilerden hangisi milli kültürümüzü yansıtan bir görsel değildir?





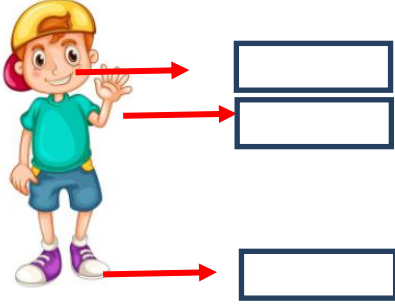
Mücahit yolda yürürken elinde bastonu olan yaşlı bir teyzenin karşıdan karşıya geçmeye çalıştığını görmüştür.

**10-** Aşağıdakilerden hangi Mücahit'in yapması gereken davranışlardan biridir?

- A) Yaşlı teyzeye iyi günler demeli ve evine gitmelidir.
- B) Yaşlı teyzenin yardıma ihtiyacının olup olmadığını sormalıdır.
- C) Yaşlı teyzeye bakmadan yanından geçip gitmelidir.

1- Aşağıdaki eşleştirmelerden hangisi yanlıştır?

- A) kurbağa → frog  
B) balık → fish  
C) tavşan → turtle



2- Aşağıdakilerden hangisi okla gösterilen organlardan biri değildir?

- A) eye  
B) leg  
C) food




3- Emel'in elindeki meyvenin adı nedir?

- A) apple  
B) pear  
C) peach

Let's swing!

4- Yukarıda verilen cümleyi açıklayan görsel hangi şıkta doğru verilmiştir?



Resim dersinde Hazal resim çizmiş, öğretmeni ise bu resmi boyamasını istemiştir.

5- Öğretmen aşağıdaki ifadelerden hangisini kullanmıştır?

- A) Draw a picture.
- B) Open the door.
- C) Color the picture.

