

Bulutlu bir günde gökyüzüne baktığımızda orada çok yaşlı, bizlere düşünemediğimiz kadar uzak, çıplak gözle bakamayacağımız kadar parlak ve Dünya'mızı ısıtacak kadar sıcak olan bir gök cismi görürüz. Eğer sırlarla dolu bu cisim olmasaydı, Dünya'mız uzayda dolaşan karanlık ve donmuş bir gezegene dönüşürdü. Güneş, gökyüzünde izlediğimiz yıldızlardan biridir. Çok parlak görmemizin sebebi bize diğer yıldızlardan daha yakın olmasıdır.

Araştırmacı Çocuk
(Düzenlenmiştir.)

1 ve 2. soruları yukarıdaki paragrafa göre cevaplayınız.

1- Yukarıdaki paragrafın konusunu anlatan görsel aşağıdakilerden hangisidir?

- A) Dünya B) Güneş C) Ay görselleri

2- Paragrafa göre, aşağıdakilerden hangisi söylenemez?

- A) Güneş'in çıplak gözle bakılamayacak kadar parlak olduğu
B) Güneş'in Dünya'mızı ısıttığı
C) En büyük yıldızın Güneş olduğu

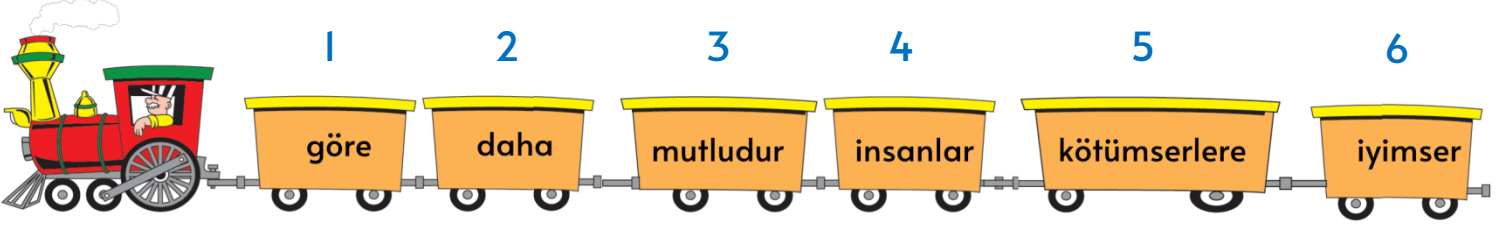
3- Aşağıda verilenlerin hangisi sözlükte diğerlerinden sonra gelir?

kelebek

kelime

Keloğlan

- A) Kelebek
B) Kelime
C) Keloğlan



Yukarıdaki trenin hareket edebilmesi için vagonlara yazılı olan sözcüklerle anlamlı ve kurallı bir cümle oluşturulması gerekiyor.

4- Buna göre, bu sözcükler nasıl sıralanırsa tren hareket eder?

- A) 6-4-5-1-2-3
- B) 2-5-1-4-6-3
- C) 6-4-2-5-1-3



Derya () hangi filme gittin()Offf()benevde çok sıkıldım()

5- Yukarıdaki cümlede ayraç ile boş bırakılan yere sırasıyla hangi noktalama işareti gelmeli?

- A) (,)(?)(,)(!)
- B) (,)(!)(,)(!)
- C) (.)(?)(,)(!)

6- Aşağıdaki öğrencilerden hangisi hece ile ilgili yanlış bilgi vermiştir?

- A) Her sesli harf bir hecedir.
- B) Bir hecede en fazla üç harf bulunabilir.
- C) Bir hecede sadece bir tane sesli harf bulunur.



Arya

Beklediğim haberi alınca çok mutlu oldum.

Yaralı kediği görünce yüreğim sızladı.



Derya



Uras

Kardeşimin aldığı kazak çok güzeldi.

7- Yukarıdaki öğrencilerden hangisinin cümlesinde “üzülmek” anlamı vardır?

A) Arya

B) Derya

C) Uras

8- “Eyvah! İp koptu, aşağıya düşüyorum.” cümlesini söyleyen kişi, nasıl bir duygu yaşamaktadır?

A) şaşkınlık

B) kızma

C) korku ve endişe



9- Yukarıdaki görsellere göre hangi ifade yazılırsa karşılaştırma yapılmış olur?

A) Karınca akşama kadar durmadan yuvasına yiyecek taşıdı.

B) Arı da karınca kadar çalışkan bir hayvandır.

C) Arı, çiçekten çiçeğe çiçek tozu taşıyordu.



6 kitap daha okursam 3 düzine kitap okumuş olacağım.

1- Buna göre okuduğum kitapların sayısı kaçtır?

A) 30

B) 32

C) 34

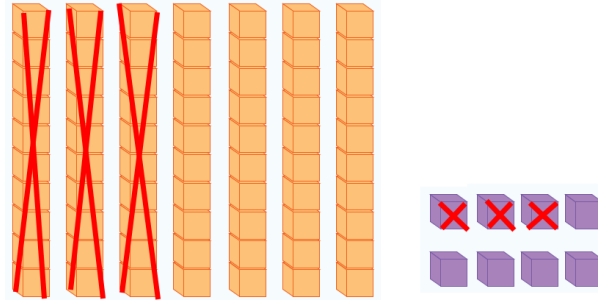


2- 6,3,5,1 rakamları kullanılarak yazılabilecek iki basamaklı rakamları farklı en büyük ve en küçük sayıların toplamı kaçtır?

A) 67

B) 78

C) 86



3- Yukarıda modellenen çıkarma işlemi hangi seçenekte doğru verilmiştir?

A) $78 - 45 = 33$

B) $45 - 33 = 12$

C) $78 - 33 = 45$



4- Yukarıdaki tren vagonlarının içinde bulunan örüntüye göre, boş vagonlara sırasıyla hangi sayılar yazılmalıdır?

A) 27 - 35

B) 26 - 34

C) 28 - 36

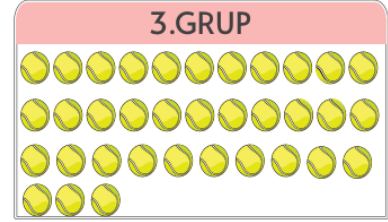

7▲ büyüktür 74

5-Yukarıdaki karşılaştırmada “▲” yerine kaç tane rakam yazılabilir?

A) 6

B) 5

C) 4



Serpil Öğretmen yukarıdaki gruplar halinde verilen varlıkların sayılarını öğrencilerinden onluk ve birliklerine ayırmasını istemiştir.

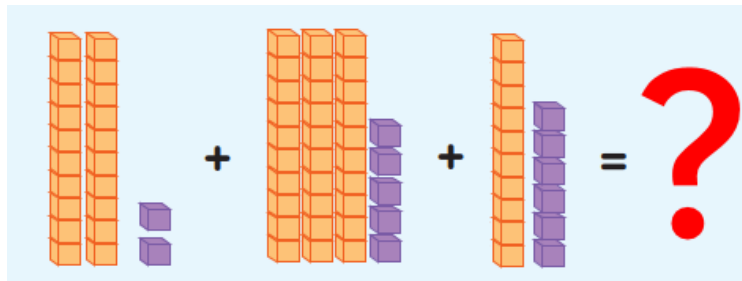
- Ayşe I.gruptaki varlıkların sayısını 2 onluk, 4 birlik olarak ifade etmiş.
- Fatma 2. gruptaki varlıkların sayısını 1 onluk, 7 birlik olarak ifade etmiş.
- Selin 3. gruptaki varlıkların sayısını 5 onluk, 3 birlik olarak ifade etmiş.

6-Buna göre, hangi öğrenci öğretmenin isteğini yerin getirememiştir?

A) Ayşe

B) Fatma

C) Selin



7-Yukarıda modellenerek verilen toplama işleminin sonucu hangi seçenekte doğru verilmiştir?

A) 63

B) 73

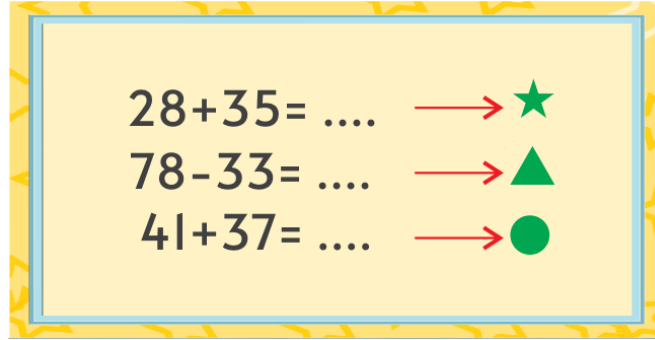
C) 83



Halter sporuyla uğraşan Uras, yukarıda verilen ağırlıkları kaldırarak birinci oluyor.

11-Buna göre, Uras'ın kaldırdığı ağırlık tahmini olarak kaç kg'dır?

- A) 100 B) 90 C) 80



Yukarıdaki işlemler sembollerle eşleştirilmiştir.

12-Buna göre, işlemlerin sonuçlarını sembolleri kullanarak büyükten küçüğe sıralarsak hangi seçenek doğru olur?

- A) ★ ▲ ● B) ● ★ ▲ C) ● ▲ ★

$$\begin{array}{r} \blacktriangle 8 \\ 3 \blacksquare \\ \hline 45 \end{array}$$

13-Yandaki çıkarma işleminde verilenlere göre, ▲ ve ■ rakamlarının farkı kaç olur?

- A) 10 B) 7 C) 4



Bir öğretmen yandaki tahtaya yazdığı çıkarma işlemi ile ilgili olarak öğrencilerinden şunları yapmalarını istemiştir:

- Eksileni 13 azaltın,
- Çıkanı 7 arttırın

ve öğrencilerine farkın nasıl değiştiğini sorar.

14-Buna göre, aşağıdaki öğrencilerinden hangisinin verdiği cevap öğretmen tarafından doğru olarak kabul edilir?

A)  Fark değişmez

B)  Fark 20 azalır.

C)  Fark 15 azalır.




1-Oyunla ilgili olarak verilenlerden hangisi yanlıştır?

- A) Kurallarını önceden belirlemek
- B) Oyun kurallarına uymayanları uygun bir dille uyarmak
- C) Oyunu kaybeden grupla alay etmek

2-Aşağıdaki ifadelerden hangisi yanlıştır?

- A) Alışveriş yaparken önce isteklerimizi almak
- B) Paramızı harcarken aile bütçesine göre harcama yapmak
- C) Paramızın bir miktarını biriktirmeye çalışmak

3-Aşağıda verilen bilgilerden hangisi yanlıştır?

- A)  İşimiz bittiği zaman, musluğu kapatalım. Böylelikle suyumuz boşa akmamış olur.
- B)  Odada ihtiyaç yoksa lambaları yakmayalım ya da işimiz bitince hemen kapatalım.
- C)  Diş fırçalama sırasında musluğu açık bırakalım.

4-Aşağıdaki ifadelerden hangileri ile ailedeki işler daha kolay yapılabilir?

- I. Sorumluluk
- II. İş bölümü
- III. Yardımlaşma




- A) I
- B) II - II
- C) I - II - III

Öğretmenimiz yaptığım resimleri beğendiğini ve sergi açmam için çalışmam gerektiğini söyledi.

5-Öğretmenimiz neden bu şekilde söylemiş olabilir?

- A) Beni üzmemek için
- B) Yetenekli olduğumu düşündüğü için
- C) Beni mutlu etmek için

6-Aşağıdaki davranışlardan hangisi yanlıştır?

- A)  Ben oyunumu oynarım. Ev işlerine karışmam. Ev işleri beni ilgilendirmiyor.
- B)  Evdeki iş bölümü, işlerin zamanında ve kısa sürede yapılması için gereklidir
- C)  Ailedeki dayanışma aile bireyleri arasındaki sevgi ve saygıyı artırır.

7-Hangi öğrencinin yaptığı davranış yanlıştır?

- A) Azra, arkadaşının sözlüğünü izin alarak kullanmış.
- B) Hasan kaleminin ucunu sürekli açmaktadır.
- C) Gülşah, geçen yıl kullandığı çantayı kullanmaktadır.



“Ayşe, okuldan eve giderken zorlukla yürüyen yaşlı bir teyzeye rastlıyor. Teyzenin elinden tutarak evine bırakıyor.”

8-Yukarıdaki anlatıma göre, Ayşe'nin davranışını nasıl niteleyebiliriz?

- A) Doğruluk
- B) Yardımseverlik
- C) Liderlik



1-Yanda verilen görselin İngilizce karşılığı nedir?

- A) Monkey
- B) Zebra
- C) Gorilla



2-Yandaki resme göre en uygun anlatım hangi seçenekte verilmiştir?

- A) That is a gorilla.
- B) It is a lemonade.
- C) That is a baby.



3-Yandaki resme göre en uygun anlatım hangi seçenekte verilmiştir?

- A) Color the picture.
- B) Paint the ball.
- C) Cut the paper.



4-Yandaki resme göre en uygun anlatım hangi seçenekte verilmiştir?

- A) Open the door.
- B) Open the window
- C) Turn left.



5-Yandaki resme göre en uygun anlatım hangi seçenekte verilmiştir?

- A) Good morning!
- B) Good afternoon!
- C) Good night!