

2.SINIF

ilkokul evim



SCAN ME



2.SINIF

HAZIRBULUNUŞLUK  
SINAVI SORULARI

[www.ilkokulevim.com](http://www.ilkokulevim.com)

ÜCRETSİZ  
ETKİNLİK  
SİTESİ

Adı: \_\_\_\_\_

Soyadı: \_\_\_\_\_



Eymen sınıfta hep arkadaşlarının sözünü kesiyordu. Derslerde de söz almadan konuşuyordu. Bu nedenle arkadaşları onu sık sık şikayet ediyorlardı. Bu durum öğretmenini çok üzüyordu.

**1-** Eymen için aşağıdakilerden hangisi söylenemez?

- A) Arkadaşları Eymen'in bazı davranışlarından rahatsızdır.
- B) Eymen parmak kaldırarak konuşmaktadır.
- C) Öğretmeni Eymen için üzülmemektedir.

Merhaba, ben Sinem.



Merhaba ben de Ali.

**2-** Yukarıdaki konuşma aşağıdakilerden hangisine örnektir?

- A) Teşekkür konuşması.
- B) Tanışma konuşması.
- C) Özür dileme konuşması.

Annesi, Mert'i odasını toplaması için .....

**3-** Boş bırakılan yere aşağıdakilerden hangi kelime gelmelidir ?

- A) söyledi.
- B) mutfak
- C) uyardı



**MAKARNA**

Mert söylediđi kelimenin ilk hecesiyle yeni bir kelime yazacaktır.

### **MERT**

**4-** Mert'in yazdıđı kelime ařađıdakilerden hangisi olabilir?

- A) Makas
- B) Mahmut
- C) Mercimek



**5-** Yandaki gorselin zıttı ařađıdakilerden hangisidir?

**Mutlu**



Düşünceli



Üzgün



Kızgın

6- Hangi öğrencinin söylediği kelimenin hece sayısı en fazladır?



■ Tariğ'ı

▲ Murat'a

□ Dilek'i

7- Yukarıdaki kelimelerden hangisi yanlış yazılmıştır?

A) □

B) ■

C) ▲



İpek hikaye okuyacaktır. Kitabın kapağında ise yandaki resim bulunmaktadır.

8- Buna göre kitabın adı aşağıdakilerden hangisi olabilir?

A) Yardım Etmek Güzeldir

B) Trafik Kuralı Nedir?

C) Pazarda Bir Gün

Annesi Ataberk'i sıcak bir yaz günü erkenden uyandırdı. Ataberk kahvaltısını yaptıktan sonra köpeği Limon'u alarak doğruca parka gitmek istedi. Neşe içinde yürürken biranda yola atlayan Limon'a araba çarptı. Limon'u hemen veterinerine götürdüler. Limon kısa sürede iyileşerek Ataberk ile oyunlarına devam etti.



**9-** Yukarıdaki hikayenin kahramanı kimdir ?

- A) Ataberk'in annesi      B) Limon      C) Veteriner

**10-** Satır sonuna sığmayan kelimeleri bölerken aşağıdaki hangi noktalama işaretini kullanırız?

- A) -      B) ?      C)



Eren

Erva

Enes

Erkin

Emel

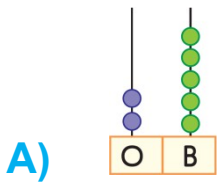
1- Yukarıdaki isimleri verilen çocuklardan hangisi en sağda bulunmaktadır ?

A) Eren

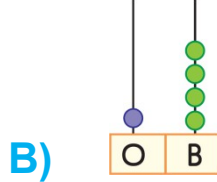
B) Enes

C) Emel

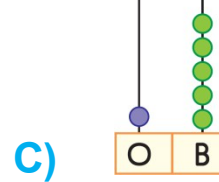
2- Aşağıdaki sayılardan hangisinin onluk ve birlikleri yanlış gösterilmiştir?



25



24



15

17

3- Yukarıdaki verilen sayı için aşağıdakilerden hangisi yanlıştır?

A) 16'dan sonradır.

B) 18'den öncedir.

C) 18 ile 19'un arasındadır.

1	2	3	4	5	6	7	8	9	10
11	12	13	14	15	16	17	18	19	20
21	22	23	24	25	26	27	28	29	30
31	32	33	34	35	36	37	38	39	40
41	42	43	44	45	46	47	48	49	50

4- Yandaki tabloda boyanan sayıdan başlayıp 5'erli ritmik sayma yaptığımızda 4.söylenen sayı kaçtır?

- A) 30                      B) 35                      C) 40



Melis'in annesi kek pişirmiştir. Melis 8 , Filiz 6 , Ömer ise 11 dilim kek yemiştir.

5- Buna göre en az keki kim yemiştir?

- A) Filiz                      B) Ömer                      C) Melis

6- Aşağıdaki saatlerden hangisinin okunuşu yanlış yazılmıştır?



Yedi buçuk



Beş buçuk



On bir buçuk



Pelin'in bir miktar şekeri vardır. Okula giderken 8 tanesini götürerek arkadaşlarına dağıtmıştır. Babası ise akşam iş dönüşü Pelin'e 6 şeker almıştır.

7- Buna göre aşağıdaki bilgilerden hangisi doğrudur ?

- A) Pelin'in şekerlerinin sayısı artmıştır.  
B) Pelin'in şekerlerinin sayısı aynı kalmıştır  
C) Pelin'in şekerlerinin sayısı azalmıştır.

11-6

16-9



8- Yukarıdaki verilen çıkarma işlemleri güneşin gösterdiği sayılarla eşleştirilirse hangi sayı boşta kalır ?

A) 7

B) 6

C) 5



9- Derya'nın kumbarasında yukarıdaki gösterilen paralar bulunmaktadır. Buna göre Derya aşağıdakilerden hangisini alabilir?

A)



12 TL

B)




19 TL

C)



14 TL



10- Yukarıdaki “?” olan yere aşağıdakilerden hangisi gelmelidir?

A)



B)



C)







**Tuna**

Arkadaşlar 4 adet milli bayramımız bulunmaktadır.

**1-** Aşağıdakilerden hangisi Tuna'nın belirttiği bayramlardan birisi değildir?

- A) Ulusal Egemenlik ve Çocuk Bayramı
- B) Zafer Bayramı
- C) Ramazan Bayramı

Yandaki görselde savaştan kaçan ve ülkemize sığınan bir aile gösterilmektedir.



**2-** Bu aile ile ilgili hangisini söyleyebiliriz?

- A) Bu aile tatil için ülkemize gelmiştir.
- B) Bu aileye karşı misafirperver olmalıyız.
- C) Bir daha ülkelerine dönmeyeceklerdir.

**3-** Aşağıdakilerden hangisi turistik bir yer değildir?



4- Aşağıdakilerden hangisi Mustafa Kemal Atatürk ile ilgili değildir?

A)



B)



C)



Burak bilgisayarında oyun oynarken birden yandaki bilgisayarda yazan mesaj çıkmıştır.

5-Buna göre Burak ne yapmalıdır?

- A) Ailesine haber vermelidir.
- B) Sadece adını yazmalıdır
- C) Adını soyadını yazmalıdır.

Suat



Dün balkondan aşağı sarktım

Bilgehan



Islak zeminde yavaş yürürüm.

Caner



Babamın çakmağı ile oynadım.

6- Yukarıdaki öğrencilerden hangisinin davranışı doğrudur?

- A) Caner
- B) Suat
- C) Bilgehan

7- Aşağıdakilerden hangisi doğru bir şekilde televizyon izleme şeklidir?



8- Aşağıdakilerden sağlığımız açısından yararlı değildir?



9- Esmâ ve arkadaşları kantinde yanlışlıkla yere meyve suyu dökmüşlerdir. Aşağıdaki kişilerden hangisini yardım etmeleri için çağırmaları gerekir?

A) Öğretmen

B) Hizmetli

C) Müdür



10- Yukarıdaki şekillerden hangisi bir aileyi ifade etmemektedir?

A) ▲

B) ■

C) ●