

2.SINIF

TARAMA

**Bu tarama etkinliđi hazırlanırken
11 Eylül-22 Aralık tarihleri arasındaki
kazanımlar baz alınarak hazırlanmıřtır.**

www.ilkokulevim.com



ADI:.....

SOYADI:.....



TÜRKÇE TESTİ

Kemal'in çalışma azmini arttıran, babasının sağlığındaki iyiye doğru gidişti. Doktorunun dediği gibi, babasında "mucizevi bir değişiklik" olmuştu. Artık hastalığından kurtulmuş sayılırdı. Doktorun bunu söylediği gün, evde gerçekten bir bayram havası esmişti.

1- Bu parçaya göre "mucizevi" sözcüğünün anlamı aşağıdakilerden hangisidir?

- A) Olması beklenen, şaşkınlık uyandırmayan
- B) Olağanüstü niteliklere sahip
- C) Yeterli, yetecek miktarda olan

2- "Geçmek" sözcüğü aşağıdakilerin hangisinde "geride bırakmak" anlamında kullanılmıştır?

- A) İplik, iğne deliğinden zor geçti.
- B) Yavaş yavaş bu hırs geçer.
- C) Bizim yelkenli, öbür tekneyi geçti.

Yaşlılarına göre uzun bir çocuktuk.

3- Bu cümledeki altı çizili kelimenin karşıt anlamlısı aşağıdakilerin hangisinde kullanılmıştır?

- A) Arkadaşımın çok zayıf bir kedisi vardı.
- B) Kısa olmasına rağmen her yere yetişiyordu.
- C) Amcam kardeşlerine göre şişman görünüyordu.

4- Aşağıdaki seçeneklerin hangisinde kesme işareti (') yanlış kullanılmıştır?

- A) Pazar günü Mersin'e gideceğiz.
- B) Elif'e bir de kalem aldım.
- C) Sinan'lar yazlığa taşınmışlar.

5- Aşağıdaki eşleştirmelerden hangisi aralarındaki anlam ilişkisine göre farklıdır?

- A) Güzel - çirkin
- B) Yumuşak - sert
- C) Kötü - fena

TÜRKÇE TESTİ

1. Ama uyumakta zorlandı.
2. Rüyasında bir ormanda yolunu kaybetmişti.
3. O gece her zamanki saatinde yattı.
4. Sabaha karşı uyuyabildi ve bir rüya gördü.

6- Numaralanmış cümleler oluş sırasına göre nasıl sıralanmalıdır?

A) 3 - 4 - 2 - 1

B) 3 - 1 - 4 - 2

C) 4 - 3 - 1 - 2

Birkaç kuruş artırıp
Kumbaraya atalım.
Yalnız bugünü değil
Yarını düşünelim.

7- Bu şiirin konusu aşağıdakilerden hangisidir?

A) Zengin olma hayali

B) Tutumlu olmak

C) Zamanı iyi kullanmak

8- Aşağıdaki cümlelerin hangisinde yazım yanlışı vardır?

A) Bursa'ya hangi trenle gideceğiz?

B) Sana gönderdiğim mektupları aldın mı?

C) Sokakta oynarken sinanı gördüm.

Aşağıdaki cümlelerin hangisinin anlamında "kesinlik" yoktur?

A) Yarın okula gidebilirim.

B) Derslerime çok çalıştım.

C) İşini bitirmeden gitmiş.

Başarıya giden yolda en önemli faktör kararlılıktır. Mücadele isteğimiz kaybolmadığı sürece başarıya ulaşma şansımızı koruruz. Unutmayalım ki inanmak başarmanın yarısıdır. Bu nedenle istikrarlı bir şekilde atacağımız sağlam adımlar bizi başarıya götürür.

Yukarıdaki paragrafta ne anlatılmak istenmektedir?

A) İnsanlar tek başına bir işi yapamazlar.

B) Başarılı olmak için başarılı olacağımıza inanmamız gerekir.

C) Her insan farklı bir alanda başarılı olabilir.

MATEMATİK TESTİ

Öğretmenimizin aldığı tahta kalemlerin sayısı iki desteden 6 fazladır.

1- Öğretmenimizin aldığı tahta kalemlerinin 1 destesi kırmızı, diğerleri siyah olduğuna göre, siyah tahta kalemlerinin sayısı kaçtır?

A) 14

B) 16

C) 20

() 1 düzine kalem, 1 deste kalemden 2 fazladır.

() İki basamaklı en büyük doğal sayı 98'dir.

() 47 sayısındaki 4 rakamının basamak değeri 40'tır.

2- Yukarıdaki ifadelerden doğru olanlara (D), yanlış olanlara (Y) yazılırsa "Doğru-Yanlış" sıralaması nasıl olur?

A) D - Y - D

B) D - D - Y

C) Y - Y - D

21 → 25 → 29 → 32 → 37 → 41

Yukarıdaki örüntü bir kurala göre oluşturulmuştur. Ancak sayılardan biri örüntünün kuralını bozmaktadır.

3- Buna göre, örüntünün kuralını bozan sayının yerine hangi sayı yazılmalıdır?

A) 30

B) 33

C) 40

Bir çiftlikteki hayvanların sayısının en yakın onluğu 50'dir.

4- Buna göre, çiftlikteki hayvan sayısı ile ilgili olarak aşağıdakilerden hangisi söylenemez?

A) Bu çiftlikte 47 hayvan olabilir.

B) Bu çiftlikte 54 hayvan olabilir.

C) Bu çiftlikte 44 hayvan olabilir.

5- Yandaki işlemde toplam kaçtır?

A) 60

B) 64

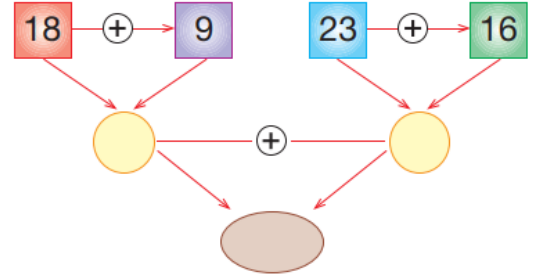
C) 68

$$\begin{array}{r} 36 \\ 12 \\ + 20 \\ \hline \end{array}$$

MATEMATİK TESTİ

6- Yandaki toplama işlemini okları takip ederek yaparsanız, bu işlemin sonucu kaç olur?

- A) 56 B) 66 C) 77



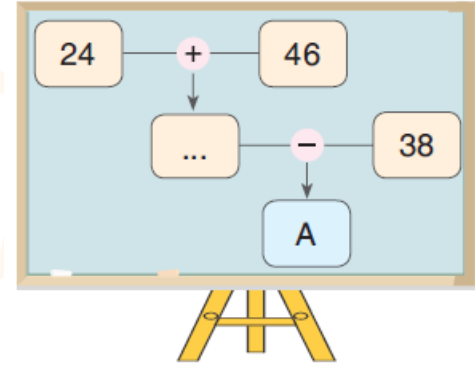
Bir otobüste 18 erkek yolcu, erkek yolculardan 7 fazla da bayan yolcu vardır.

7- Buna göre, bu otobüste toplam kaç yolcu vardır?

- A) 25 B) 36 C) 43

8- Yandaki şemada verilen işlemleri oklar yönünde yapan Miraç, "A" yerine hangi sayıyı yazarsa işlemleri doğru yapmış olur?

- A) 32
B) 42
C) 48



Bir pazarcının tezgâhında 65 karpuz vardı. Pazarcı karpuzların 30'unu sabah, 19'unu da öğleden sonra sattı.


9- Buna göre, pazarcının tezgâhında kaç karpuz kalmıştır?

- A) 24 B) 20 C) 16

Ömer'in annesi Elif Hanım, Emre Bey'den 5 yaş küçük. Ömer'in babası Emre Bey ise Ömer'den 38 yaş büyük ve Ömer 7 yaşındadır.

10- Buna göre, aşağıdaki seçeneklerde verilenlerden hangisi yanlıştır?

- A) Emre Bey 45 yaşındadır.
B) Elif Hanım 40 yaşındadır.
C) Üçünün yaşları toplamı 90'dır.



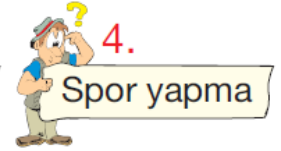
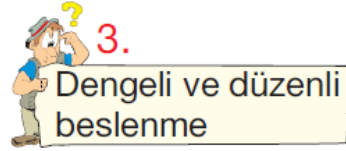
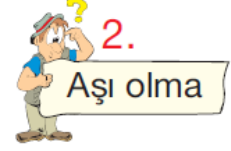

HAYAT BİLGİSİ TESTİ

1- Çevre temizliği ile ilgili olarak verilenlerden hangisi yanlıştır?

- A) Oyun oynadığımız alanları temiz tutmalıyız.
- B) Piknik yaptıktan sonra çöplerimizi ortalıkta bırakmalıyız.
- C) Çöplerimizi çöp kutusuna atmalıyız.

2- Yandakilerden hangileri sağlığımızı korumada etkilidir?

- A) 1, 2, 3 ve 4
- B) 3 ve 4
- C) 1 ve 2



3- Aşağıdaki ifadelerden hangisi yanlıştır?

- A) İhtiyaç ve isteklerimizi önceliklerimize göre belirlemeliyiz.
- B) Alışveriş yaparken önce isteklerimizi sonra da ihtiyaçlarımızı almalıyız.
- C) Beslenme, barınma ve giyinmenin temel ihtiyaç olduğunu bilmeliyiz.

1. Otobüste hamilelere yer vermek
2. Toplum sağlığını korumak için sosyal mesafeye dikkat etmek
3. Hasta veya yaşlıları ziyaret etmek
4. Yardıma muhtaç olan insanlara yardımcı olmak

4- Yukarıdakilerden hangisi ya da hangileri duyarlı bir insanın davranışları arasında yer alır?

- A) Yalnız 1
- B) 1, 2 ve 3
- C) 1, 2, 3 ve 4

5- Akrabalarımızla ilgili olarak verilenlerden hangisi yanlıştır?

- A) Akrabalarımızı haber vermeden ziyaret edebiliriz.
- B) Kaza ve hastalık gibi zor durumlarda akrabalarımıza destek olmalıyız.
- C) Akrabalarımızla dayanışma içinde olmalıyız.

CEVAP ANAHTARI ÇÖZÜMLÜ

www.instagram.com/ilkokulevim

SAYFASINDA PAYLAŞILACAKTIR.

TÜM SOSYAL MEDYA HESAPLARIMIZA

linktr.ee/ilkokulevim

BAĞLANTI ADRESİNDEN
ULAŞABİLİRSİNİZ.