

ABC



İLKOKULEVİM DENEME SINAVI

ABC

2. SINIF 1. DENEME

Ekim 2022



123

Adı Soyadı:

Numarası:

Sınıf/:Şube:





Annem, su alıp gelmemi istemişti. Hemen koşarak gittim. Hava güzel olduğu için mahallemizin bakkalı, kasabı, manavı oturmuşlar sohbet ediyorlardı. Benim derslerimi sordular. İyi olduğunu söylediğimde yüzleri güldü. Beni tebrik ettiler. Annemin merak edeceğini düşünerek zaman kaybetmeden suyu alıp hemen eve döndüm.

(Aşağıdaki ilk üç soruyu, yukarıdaki metne göre cevaplayınız.)

1. Mahallenin bakkalı, manavı, kasabı neden toplanmışlar?

- A) Sohbet etmek için
- B) Çocukla konuşmak için
- C) Gezmeye gitmek için

2. Çocuk eve gitmek için neden acele etmektedir?

- A) Ödevlerini yapacağından
- B) Annesinin merak edeceğini düşündüğünden
- C) Karnının acıkmasından

3. Aşağıda seçeneklerde verilen mesleklerden hangisinden metinde söz edilmemiştir?



B)

C)

4. "Bel" sözcüğü, aşağıdaki cümlelerin hangisinde, diğerlerinden farklı bir anlamda kullanılmıştır?

- A) Babam, ağaç dikmek için bel ile çukur açtı.
- B) Ninemin beli ağrıyormuş.
- C) Babam, komşumuzdan bel getirmemi istedi.



Küçük bir çocuk, şeker dolu bir kavanoza elini daldırılmış, şeker almak istemiş. Ancak kavanozdaki bütün şekerleri avuçladığı için kavanozun dar ağzından avucunu çıkaramamış. Avucundaki şekerleri kaybetmek istemeyen, ama elini de kavanozdan çıkaramayan bu çocuğu gören yaşlı bir adam ona seslenmiş:
– Oğlum, elindeki şekerlerin yarısını kavanoza bırak, o zaman elini kolayca kavanozdan çıkarabilirsin.

5. Yukarıdaki metnin konusu, aşağıdakilerden hangisidir?

- A) Pişmanlık
- B) Saygısızlık
- C) Açgözlülük

Büyük küçük herkes hocanın başına toplanmıştı.

Türkan için ailesi çok önemliydi.

Uyanan sincap yavaş yavaş gözlerini açtı.

6. Yukarıda tabloda hangi renkte gösterilen cümlede, zıt anlamlı sözcükler bir arada kullanılmıştır?

- A) Mavi
- B) Pembe
- C) Sarı

1 ev-konuk

2 uzak-ırak

3 kuvvetli-zayıf

Basketbol oynamak için kapalı spor salonuna giden Kayra eş anlamlı sözcüklerin yazılı olduğu potaya basket atma izni verilmiştir.

7. Buna göre Kayra, numaralanmış potaların hangisine basket atabilir?

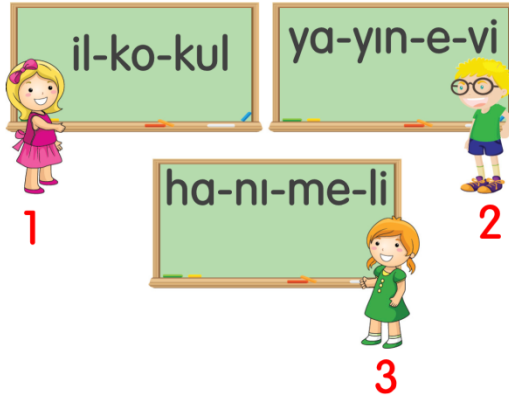
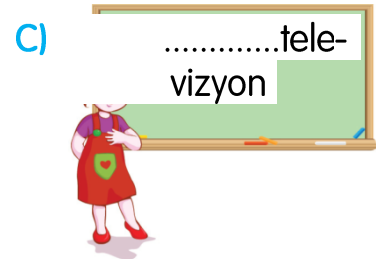
- A) 1
- B) 2
- C) 3



8. Aşağıdaki varlıklardan hangisinin adı, sözlük sırasında diğerlerinden sonra gelir?



9. Aşağıdaki öğrencilerden hangisi, satır sonuna sığmayan sözcüğü hecelerine doğru olarak ayırmıştır?



10. Kaç numaralı öğrenci sözcüğü hecelerine yanlış ayırmıştır?

A) 1

B) 2

C) 3

11. Aşağıdaki öğrencilerden hangisi hece ile ilgili yanlış bilgi vermiştir?

A) Her sesli harf bir hecedir.

B) Bir hecede en fazla üç harf bulunabilir.

C) Bir hecede sadece bir tane sesli harf bulunur.



Cümlelerdeki anlam karışıklığını ortadan kaldırmak için virgül kullanılır.

12. Aşağıda verilen cümlede virgül hangi sözcükten sonra kullanılırsa "minik bir çocuk, kediyi görünce çok sevinmiş" anlamı kazanır?

Minik kediyi görünce çok sevindi.

- A) "Minik" sözcüğünden sonra
B) "kediyi" sözcüğünden sonra
C) "görünce" sözcüğünden sonra

13. Aşağıda verilenlerin hangisi sözlükte diğerlerinden sonra gelir?

kelebek

kelime

Keloğlan

A) Kelebek

B) Kelime

C) Keloğlan

bahçesindeki

topladık

kasaya

dedemin

elmaları

14. Yukarıda verilen sözcüklerle anlamlı ve kurallı bir cümle oluşturacak olursak sıralama nasıl olmalıdır?

A) 4 - 1 - 5 - 3 - 2


B) 1 - 5 - 4 - 2 - 3

C) 3 - 4 - 5 - 2 - 1



Size sorduğum kelime 6 harften oluşmaktadır. Bu kelimedede 2 sesli, 4 sessiz harf bulunmaktadır. Bu kelime alfabenin 14. harfi ile başlamaktadır. Son harfi ise 17. sıradadır.

15. Başak bilgilerini verdiği kelimenin görseli aşağıdakilerden hangisidir?





Benim okul numaram, 8 birlik ve 4 onluktan oluşan doğal sayıdır.

1. Gamze'nin anlatımına göre, okul numarası, aşağıdaki doğal sayılardan hangisidir?

A) 48

B) 43

C) 84

2. Aşağıdaki eşleştirmelerden hangisi **yanlıştır**?

A)

3 onluk	7 birlik	→	37
---------	----------	---	----

B)

6 birlik	1 onluk	→	61
----------	---------	---	----

C)

8 birlik	3 onluk	→	38
----------	---------	---	----



Eren

7 kitap daha okursam 5 düzine kitap okumuş olacağım.

3. Buna göre Eren'in okuduğum kitapların sayısı kaçtır?

A) 53


B) 57

C) 67



Bir manavda bulunan meyvelerle ilgili şu bilgileri vermiştir:

- İki düzineden 7 fazla karpuz var.
- Kavunların sayısı 5 desteden 5 eksiktir.
- Ananasların sayısı, karpuzların sayısından 9 eksiktir.

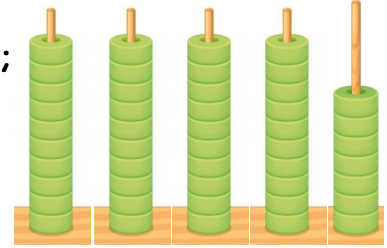


4. Verilenlere göre, bu manavdaki meyvelerle ilgili olarak aşağıdakilerden hangisi **söylenemez**?

- A) Toplam meyve sayısı 98'dir.
- B) Karpuzların sayısı 27'dir
- C) 45 adet kavun bulunmaktadır.

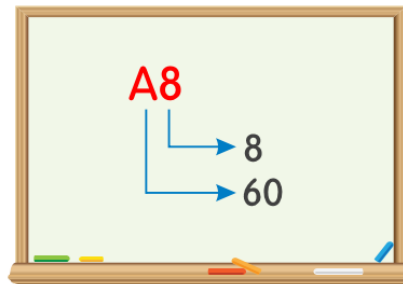
5. Yanda onluk taban bloklarıyla modellenen sayı için;

1. Bu sayının okunuşu kırk yedidir.
2. Onlar basamağındaki rakamın basamak değeri 50'dir.
3. Bu sayı 7 birlik ve 4 onluktan oluşur.



verilenlerden hangisi ya da hangileri doğrudur?

- A) Yalnız 1
- B) 1 ve 2
- C) 1 ve 3



Yukarıda bir doğal sayının rakamlarının basamak değerleri verilmiştir.

6. Buna göre "A" yerine aşağıdaki rakamlardan hangisi yazılmalıdır?

- A) 8
- B) 7
- C) 6



Semih Öğretmen yaşı ile ilgili olarak;

- Birler basamağında 6'dan büyük bir rakam vardır.
- Onlar basamağındaki rakamın basamak değeri 40'tır. bilgilerini veriyor.

7. Buna göre, Semih Öğretmen kaç yaşında olabilir?

A) 38

B) 45

C) 49



8. Yukarıdaki tren vagonlarının içinde bulunan örüntüye göre, boş vagonlara sırasıyla hangi sayılar yazılmalıdır?

A) 38 - 59

B) 37 - 59

C) 38 - 60

25 küçüktür A

B büyüktür 48

80 küçüktür C

9. Yukarıdaki karşılaştırmalara göre, aşağıdakilerden hangisi söylenemez?

- A) A yerine yazılabilecek en küçük sayı 27'dir.
- B) B yerine yazılabilecek en küçük sayı 49'dur.
- C) C yerine yazılabilecek en küçük sayı 81'dir.

Aşağıdaki 4 çocuğun sahip olduğu misket sayıları verilmiştir.

Ali

66

Mehmet

44

Cengiz

53

Hasan

41

10. Buna göre, bu çocukların isimleri sahip oldukları misket sayılarına göre, çoktan aza doğru sıralanırsa sıralama nasıl olur?

- A) Cengiz, Hasan, Ali, Mehmet
- B) Ali, Cengiz, Mehmet, Hasan
- C) Ali, Mehmet, Hasan, Cengiz



11. 45 sayısının onlar basamağındaki rakam 2 azaltılırsa sayı nasıl değişir?

- A) 20 artar.
B) 20 azalır.
C) Sayı değişmez.

12. Bir sınıftaki öğrenci sayısının en yakın onluğu 30 olduğuna göre, bu sınıfta en az kaç öğrenci vardır?

- A) 34
B) 32
C) 25

13. Bir yarışmada Ayşe baştan 3. sondan 5.sıradadır. Buna göre, bu yarışmada toplam kaç yarışmacı vardır?


- A) 5
B) 6
C) 7

14. 7 ve 1 rakamları birer kez kullanılarak yazılabilecek iki basamaklı en küçük ve en büyük sayılar hangi seçenekte doğru verilmiştir?

	<u>En Küçük Sayı</u>	<u>En Büyük Sayı</u>
A)	70	71
B)	71	17
C)	17	71

Aşağıdaki öğrenciler öğretmenlerinin söylediği sayıları en yakın onluğa yuvarlamışlardır.

15. Hangi öğrenci kendisine söylenen sayıyı en yakın onluğa **yanlış** yuvarlamıştır?

A)  36 → 40

B)  58 → 60

C)  63 → 70



- I. Kilomuz
- II. Saç rengimiz
- III. Boyumuzun uzunluğu

1. Yukarıda verilen fiziksel özelliklerimizden hangisi ya da hangileri büyüdükçe değişir?

A) I ve II

B) II ve III

C) I, II ve III

- Feyyaz güzel futbol oynar.
- Kayra masa tenisinde şampiyon oldu.
- Tiyatroya gitmeyi seviyorum.
- Kaan güzel resim yapar.

2. Yukarıdakilerden kaç tanesi yetenek ile ilgili değildir?

A) 1

B) 2

C) 3

1. Parmak kaldırarak konuşmak
2. Yerlere çöp atmamak
3. Sınıf eşyalarını korumak

3. Yukarıdakilerden hangisi ya da hangileri sınıf kuralları arasında yer alır?

A) Yalnız 1

B) 1 ve 2

C) 1, 2 ve 3

4. Sınıf içi etkinlikler belirlenirken aşağıdaki verilenlerden hangisi doğru bir davranış olur?

A) Yapılacak etkinlikler sınıf öğrencileri ile belirlenmelidir.

B) Sınıf başkanının söylediği etkinlik yapılmadı.

C) Öğretmenin karar verdiği etkinlik yapılmalıdır.

! Olaylar karşısında duygularımızı açıkça belirtmeliyiz.

! Düşüncelerimizi belirtirken çekingen olmalıyız.

! İsteklerimizi anlaşılır bir dille ifade etmeliyiz.

5. Yukarıdaki ifadelerden kaç tanesi doğrudur?

A) 1

B) 2

C) 3



Ayaz

Sınıfta gereksiz yanan lambaları kapatmak



İkra

Okul eşyalarını düzensiz kullanmak



Emir

Ders çalışırken televizyonu açık bırakmamak



Eflin

Diş fırçalarırken musluğu açık bırakmak

6. Yukarıdaki öğrencilerden hangileri kaynakları bilinçli olarak kullanmıştır?
A) Ayaz ve İkra B) Emir ve Eflin C) Ayaz ve Emir



"Grup çalışmalarında"

7. Yukarıdaki Eflin'in cümlesi aşağıdaki ifadelerden hangisiyle tamamlanamaz?
A) arkadaşlarımızla yardımlaşmalıyız.
B) kırıcı sözler söylememeliyiz.
C) gönüllü olmamalıyız.

1. Paten

2. Ayakkabı

3. Saat

Ekin ihtiyacı olan şeyleri defterine yazmıştır.

8. Ekin, bunlardan kaç numaralı olanı karşılamaya öncelik vermelidir?
A) 1 B) 2 C) 3



9. Satranç yarışmasında ödül alan arkadaşımıza hangisini söylersek uygun olur?

A) Tebrik ederim

B) Özür dilerim

C) Teşekkür ederim



Kurallara tekrar çalışıp oyunu oynamalısın



Maalesef hata yaptın.



Bu oyunda senin yerin yok.

10. Yukarıdaki öğrencilerden hangisinin oyunda hata yapan arkadaşına karşı söylediği söz doğru **değildir**?





1. Yanda verilen görselin İngilizce karşılığı nedir?

- A) coffee
- B) cake
- C) camp



2. Yanda hangi oyun resmedilmiştir?

- A) football
- B) tennis
- C) volleyball



3. Aşağıda verilen diyalogda boş bırakılan yere gelmesi gereken seçenek hangisidir?



.....?



I'm okay. Thanks.

- A) How are you
- B) Who are you
- C) How old are you

4. Yukarıdaki görsel neyi ifade etmektedir?

- A) Good evening
- B) Good afternoon
- C) Good morning



My name Hatice. IHatice.

5. Yukarıda verilen cümlede boş bırakılan yerlere gelmesi gereken seçenek hangisidir?

- A) is / am
- B) is / are
- C) is / is

2. SINIF CEVAP KAĞIDI

Adı Soyadı:

PUAN

Sınıfı:

Numarası:

TÜRKÇE

- 1- (A) (B) (C)
- 2- (A) (B) (C)
- 3- (A) (B) (C)
- 4- (A) (B) (C)
- 5- (A) (B) (C)
- 6- (A) (B) (C)
- 7- (A) (B) (C)
- 8- (A) (B) (C)
- 9- (A) (B) (C)
- 10- (A) (B) (C)
- 11- (A) (B) (C)
- 12- (A) (B) (C)
- 13- (A) (B) (C)
- 14- (A) (B) (C)
- 15- (A) (B) (C)

DOĞRU :

YANLIŞ :

MATEMATİK

- 1- (A) (B) (C)
- 2- (A) (B) (C)
- 3- (A) (B) (C)
- 4- (A) (B) (C)
- 5- (A) (B) (C)
- 6- (A) (B) (C)
- 7- (A) (B) (C)
- 8- (A) (B) (C)
- 9- (A) (B) (C)
- 10- (A) (B) (C)
- 11- (A) (B) (C)
- 12- (A) (B) (C)
- 13- (A) (B) (C)
- 14- (A) (B) (C)
- 15- (A) (B) (C)

DOĞRU :

YANLIŞ :

HAYAT BİLGİSİ

- 1- (A) (B) (C)
- 2- (A) (B) (C)
- 3- (A) (B) (C)
- 4- (A) (B) (C)
- 5- (A) (B) (C)
- 6- (A) (B) (C)
- 7- (A) (B) (C)
- 8- (A) (B) (C)
- 9- (A) (B) (C)
- 10- (A) (B) (C)

DOĞRU :

YANLIŞ :

İNGİLİZCE

- 1- (A) (B) (C)
- 2- (A) (B) (C)
- 3- (A) (B) (C)
- 4- (A) (B) (C)
- 5- (A) (B) (C)

DOĞRU :

YANLIŞ :