

# 2.SINIF 11. HAFTA ETKİNLİKLERİ

## Eşyalarımı Kullanırken

**Etkinlik A:** Aşağıda görselleri verilen kişisel eşyalarınızı temiz ve düzenli kullanmak için neler yapıyorsunuz? Noktalı yerlere yazınız.



-----

-----

-----

-----



-----

-----

-----

-----



-----

-----

-----

-----



-----

-----

-----

-----

**Etkinlik B:** Aşağıda yarım bırakılan cümleleri uygun olan sözcükler ile eşleştiriniz.

A Annemizin ütülediği kıyafetleri dolabımıza

toplamalıyız. ...

B Çalışmamız bitince masanın üstünü

vardır. ...

C Oyuncaklarımızı oynadıktan sonra yerine

asmalıyız. A

D Aile içerisinde herkesin yapması gereken görevleri

koymalıyız. ...

## 2.SINIF 11. HAFTA ETKİNLİKLERİ

**Etkinlik C:** Verilen bilgiler doğru ise "D", yanlış ise "Y" bölümünü boyayınız.

Evdeki tüm işleri anne yapmalıdır.

D

Y

Kıyafetlerimizi temiz ve düzenli kullanmalıyız.

D

Y

Oyuncaklarımızı ortada bıraktığımızda kazalar olabilir.

D

Y

Oyun oynarken kanepenin üstünde zıplayabilirim.

D

Y

Evde top ve saklambaç oynamak sakıncalıdır.

D

Y

Yemeğimizi koltukların üstünde de yiyebiliriz.

D

Y

Evimizde dışarıda giydiğimiz ayakkabı ile gezebiliriz.

D

Y

Odama temiz tutmak benim sorumluluğumdur.

D

Y

**Etkinlik D:** Aşağıda eşyalarımız ile ilgili cümlelerde boş bırakılan yerleri size verilen sözcüklerle tamamlayınız.

yerine

kişisel

görevlerimizi

dağıtmamalıyız

temiz

kapıları

- Okul kıyafetlerimizi ..... kullanmalıyız.
- Arkadaşlarımız gelse bile odamızı .....  
.....
- Dağılan oyuncaklarımızı tekrar.....  
..... koymalıyız.
- Evdeki ..... yerine getirmeliyiz.
- ..... çarpmadan kapatmalıyız.
- ..... eşyalarımızdan biz sorumluyuz.

# 2.SINIF 11. HAFTA ETKİNLİKLERİ

## Birlikte Karar Veriyoruz

**Etkinlik A:** Ailenizle birlikte aşağıdaki etkinliklerden hangilerini yapıyorsunuz? Altındaki kutuyu işaretleyiniz.



**Etkinlik B:** Aşağıda yarım bırakılan cümleleri uygun olanları ile eşleştiriniz.

A Toplum içindeki en küçük birime aile

olurum.

...

B Ailede karar alınmadan önce herkesin düşüncesi

uymalıdır.

...

C Ailede ortak alınan kararlara herkes

alınmalıdır.

...

D Ailede benim de fikrim sorulduğunda mutlu

denir.

A

## 2.SINIF 11. HAFTA ETKİNLİKLERİ

**Etkinlik C:** Verilen bilgiler doğru ise "D", yanlış ise "Y" bölümünü boyayınız.

Bizim ailede kararları babam alır.

D

Y

Bir plan yaparken benim de fikirlerim alınmalıdır.

D

Y

Evde çocukların görüşlerine önem verilmemelidir.

D

Y

Odamda yapılacak değişikliklerden haberim olmalıdır.

D

Y

Odama eşya alınırken benim görüşüm de alınmalıdır.

D

Y

Ailede ortaklaşa alınan kararlara herkesin uyması beklenir.

D

Y

Karar alırken annelerin görüşlerini almaya gerek yoktur.

D

Y

Ailede herkesin birbirine saygılı olması gerekir.

D

Y

**Etkinlik D:** Birlikte karar alma ile ilgili cümlelerde boş bırakılan yerleri size verilen sözcüklerle tamamlayınız.

fikrim

aile

ortak

sözünü

bağlarını

uymalıdır

saygılı

- Ailede kararlar alınırken herkesin fikri sorularak ..... karar alınır.
- Ortaklaşa alınan kararlar aile.....  
..... güçlendirir.
- Ailede herkes birbirine karşı.....  
..... olmalıdır.
- Eve eşya alınırken benim de.....  
..... alınmalıdır.
- Ortaklaşa alınan kararlara herkes .....  
.....
- ..... toplumun en küçük birimidir.
- Birbirimizin ..... kesmeden dinlemeliyiz.

# 2.SINIF 11. HAFTA ETKİNLİKLERİ

## PROBLEM ÇÖZÜYORUM




Problem çözer.



Ben 12 yaşındayım. Babam benden 27 yaş büyüktür. Buna göre, babam ile benim yaşlarımızın toplamı kaçtır?



Problemlle ilgili şekil çizeriz.



Problemi çözerken ilk önce okur, anlar ve anlatırız.



**Verilenler:** Çocuk 12 yaşında, babası çocuktan 27 yaş daha büyüktür.

**İstenilen:** Baba ve çocuğun yaşları toplamı kaçtır?

Verilenler ile istenilenleri tesbit ederiz.



Uygun işlemi seçer ve problemi çözeriz.



$12 + 27 = 39$  babanın yaşı

$12 + 39 = 51$  ikisinin yaşları toplamı

### Toplama İşlemi İle İlgili Alıştırma ve Problem Çözüyorum - 1

Aşağıdaki soruları cevaplayınız.

1) Sude 26 yaşındadır. Babası, Sude'den 27 yaş büyük ise Sude'nin babası kaç yaşındadır?

.....

2)  $20 + 62 + 14 = ?$   
İşleminin sonucu kaçtır?

.....

3) İki düzine kaleme kaç kalem daha eklenirse kalem sayısı 3 desteye eşit olur?

.....

4) 3 deste yumurtanın 8 fazlası kaç yumurta eder?

.....

## 2.SINIF 11. HAFTA ETKİNLİKLERİ

5) Benim yaşı 8'dir. Ablam, benden 4 yaş büyük olduğuna göre, ben ve ablamın yaşları toplamı kaçtır?

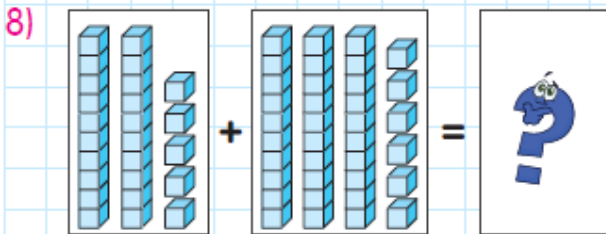
.....

6) 3 düzine kalemin 6 fazlası kaç kalem eder?

.....

7) Sibel'in 13 TL'si vardı. Ablası 6 TL, dedesi de 18 TL verdi. Sibel'in toplam kaç TL'si oldu?

.....



Yukarıdaki modellenen toplama işleminin sonucu kaçtır?

.....

9) 36 sayısı ile bu sayının rakamlarının yerleri değiştirilerek elde edilen yeni sayının toplamı kaçtır?

.....

10) 27 sayısının iki basamaklı en küçük sayı ile toplamı kaçtır?

.....

11)  $28 + 64 = \Delta$

Yukarıdaki toplama işleminde " $\Delta$ " yerine hangi sayı gelmelidir?

.....

12) Ayhan'ın 47, Çınar'ın ise 3 deste hikaye kitabı vardır.

Buna göre, her ikisinin toplam kaç tane hikaye kitapları vardır?

.....

# 2.SINIF 11. HAFTA ETKİNLİKLERİ

## Toplama İşlemi İle İlgili Alıştırma ve Problem Çözüyorum - 2

Aşağıdaki çoktan seçmeli soruları cevaplayınız.

1) 19 sayısından bir önce ve bir sonra gelen sayıların toplamı kaçtır?

- A) 37      B) 38      C) 39

2) Aşağıdaki işlemlerden hangisi doğru yapılmıştır?

- A) 
$$\begin{array}{r} 27 \\ 13 \\ + 44 \\ \hline 84 \end{array}$$
      B) 
$$\begin{array}{r} 17 \\ 13 \\ + 52 \\ \hline 72 \end{array}$$
      C) 
$$\begin{array}{r} 22 \\ 57 \\ + 15 \\ \hline 84 \end{array}$$

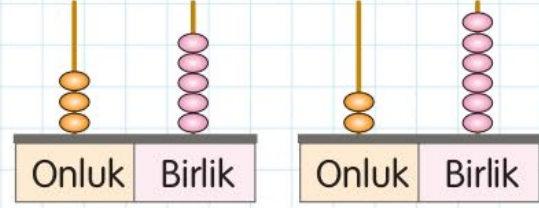
3) Ali'nin 18, Bekir'in bir deste, Ahmet'in bir düzine kalemi vardır. Üçünün toplam kaç kalemi vardır?

- A) 30      B) 40      C) 50

4) Sınıfımızda 19 erkek, 18 kız öğrenci vardır. Sınıfımızın mevcudu kaçtır?

- A) 36      B) 37      C) 38

5)



Yukarıdaki abaküslerde gösterilen sayıların toplamı kaçtır?

- A) 59      B) 60      C) 61

6) Aşağıdaki işlemlerden hangisi yanlıştır?

- A) 
$$\begin{array}{r} 63 \\ 18 \\ + 10 \\ \hline 81 \end{array}$$
      B) 
$$\begin{array}{r} 17 \\ 30 \\ + 46 \\ \hline 93 \end{array}$$
      C) 
$$\begin{array}{r} 10 \\ 28 \\ + 43 \\ \hline 81 \end{array}$$

7) Mesut'un kütlesi 77 kilogramdır. Annesinin kütlesi, Mesut'un kütlesinden 5 kilogram fazladır. Buna göre, Mesut'un annesi kaç kilogramdır?

- A) 82      B) 83      C) 84

8) Babam 37 yaşındadır. Babam 15 yıl sonra kaç yaşında olacaktır?

- A) 54      B) 53      C) 52

## 2.SINIF 11. HAFTA ETKİNLİKLERİ

9) Tarık 34 sayfa kitap okumuştur. Berna ise Tarık'tan 8 sayfa daha fazla kitap okumuştur. Buna göre, Tarık ve Berna toplam kaç sayfa kitap okumuşlardır?

- A) 42      B) 50      C) 76

10)

$$\begin{array}{r} 28 \\ + 43 \\ \hline \end{array}$$

Yukarıdaki toplama işleminin tahmini sonucu kaçtır?

- A) 60      B) 70      C) 80

11) Bir çiftlikte 27 inek, 25 tavuk ve 34 koyun vardır. Bu çiftlikte toplam kaç hayvan vardır?

- A) 84      B) 85      C) 86

12)  $17 + \square = 29$  eşitliğinde " $\square$ " yerine hangi sayı yazılmalıdır?

- A) 11      B) 12      C) 13

13) İki toplananı olan bir toplama işleminde toplam 90 ve birinci toplanan 60'tır.

Buna göre, ikinci toplanan kaçtır?

- A) 30      B) 35      C) 40

14)

$$\triangle = 30 + 40 = 70$$

$$\square = 50 + 30 = 80$$

$$\circ = 70 + 10 = 90$$

Yukarıdaki zihinden yapılan işlemlerden hangisi yanlıştır?

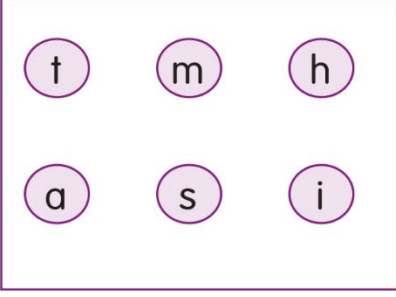
- A)  $\triangle$       B)  $\circ$       C)  $\square$



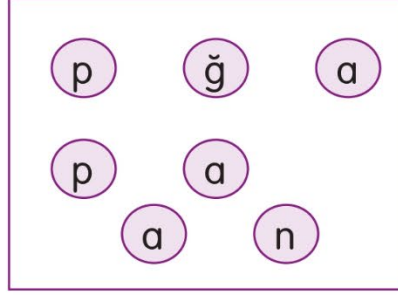
# 2.SINIF 11. HAFTA ETKİNLİKLERİ

Karışım Düzeltir misiniz?

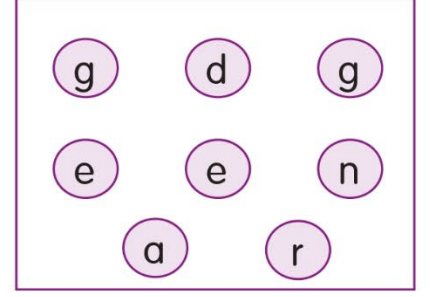
**Etkinlik A:** Hayvan isimlerinde harfler karışmış. Düzeltip altına doğrusunu yazar mısınız?



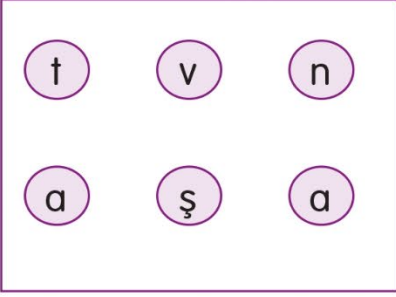
.....



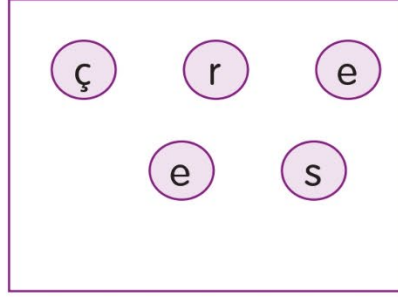
.....



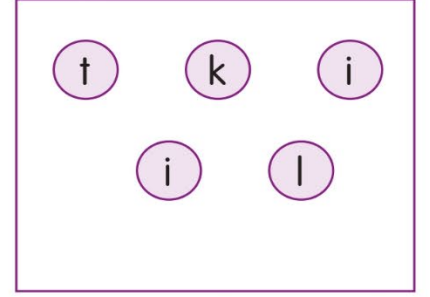
.....



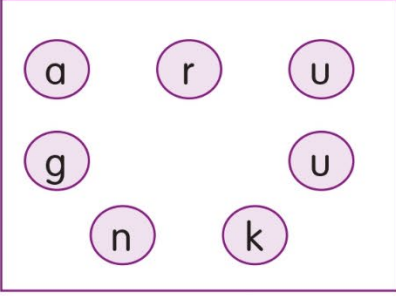
.....




.....



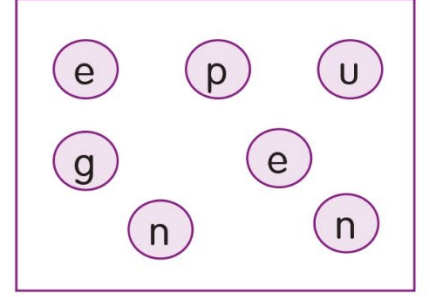
.....



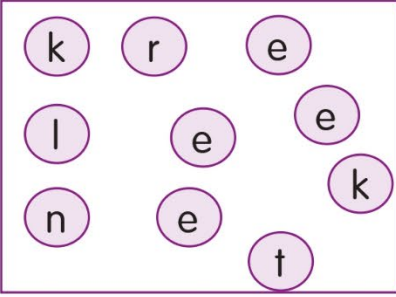
.....



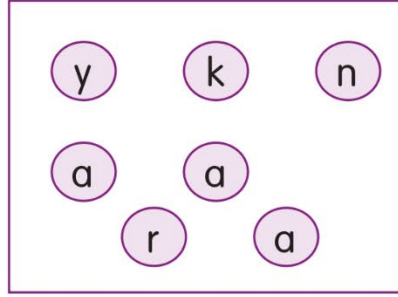
.....



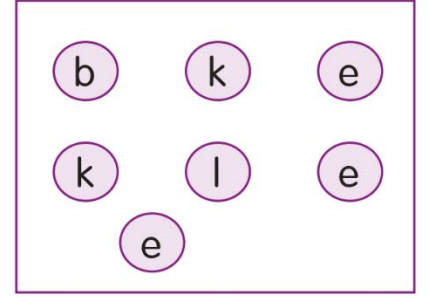
.....



.....



.....



.....

# 2.SINIF 11. HAFTA ETKİNLİKLERİ

Etkinlik B: Ben sebze ve meyvelerin heceleriyim. Doğru şekliyle ismimi yazar mısınız?

ra sa pı

.....

vo do a ka

.....

li şef ta

.....

li bro ko

.....

tes do ma

.....

gi nar en

.....

pa tes ta

.....

har na ba ka

.....

len bö ğürt

.....

a du hu du

.....

dut ka ra

.....

ke viz re

.....

## 2.SINIF 11. HAFTA ETKİNLİKLERİ

Günlük hayatta bazı sözcüklerin yazılışında ve söylenişinde yanlışlıklar yapıyoruz. Bu sözcüklerin doğru yazılışını imlâ kılavuzundan bakıp öğrenebiliriz.

**Etkinlik A:** Bazı sözcükler cümlede yanlış yazılmış. Bu sözcükleri bulalım. Örnekte olduğu gibi işaretleyelim ve doğrusunu yazalım.

Okulun önünde herkez sıraya geçmişti.

herkes

Mutfakta lavoba tıkanmış.

.....

Ahmet, kendini tanıtırken çalışgan olduğunu söyledi.

.....

Matematik dersini seviyorum.

.....

Annem pazardan üç kilo sovan aldı.

.....

Öğretmenim yarama mehlem sürdü.

.....

Annem ciyer kavurması yapmış.

.....

Beslenme olarak meyva getirecekmışiz.

.....

Babam kiprit ile oynamayın diye öğütledi.

.....

Hafta sonu arkadaşlarımla çok eylendik.

.....

Her gün düzenli sipor yaparım.

.....

Okula pantolonumu deęiştirerek gittim.

.....

## 2.SINIF 11. HAFTA ETKİNLİKLERİ

**Etkinlik B:** Aşağıda sözcüklerin yanlış yazılışları verilmiştir. Karşlarına doğrusunu yazalım.

gaste	→		sitat	→	
tırafık	→		dinazor	→	
tiren	→		gravat	→	
kıraliçe	→		anağtar	→	
çukulata	→		büsküvü	→	
perşenbe	→		eşki	→	
çarşanba	→		fiat	→	
çenber	→		isbat	→	
İstambul	→		kıral	→	
düyme	→		ezzane	→	