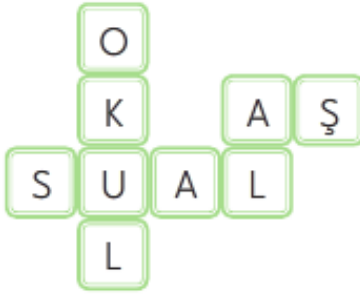


1.



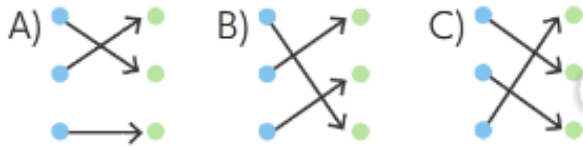
Aşağıdaki kelimelerden hangisinin eş anlamlısı bulmacada **yoktur**?

- A) Yemek B) Mektep C) Cevap

2.

Konut	● ●	armağan
Hediye	● ●	ev
konuk	● ●	misafir

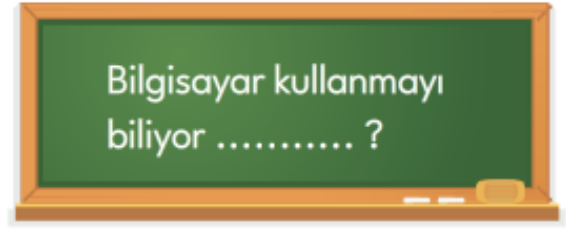
Yukarıdaki kelimeler ile eş anlamlılarını eşleştirilirse doğru eşleştirme hangi seçenekteki gibi olur?



3. Aşağıdaki cümlelerin hangisinde soru eki "mi" **doğru** yazılmıştır?

- A) Eş anlamlı kelimeleri öğrendin mi?  
 B) Matematik testini bitirdin mi?  
 C) Bu akşam yağmur yağacak mı?

4.



Tahtadaki cümlelerin sonuna aşağıdaki soru eklerinden hangisini getirmek daha uygundur?

- A) misin B) musun C) müsün

5.



Sema

- ▲ a - ra - ba  
 ● tam - ir - ci  
 ■ li - mo - na - ta

Sema yukarıdaki kağıda kelimeleri hecelerine ayırarak yazmıştır.

Sema hangi kelimeyi hecelerine ayırırken kısa çizgiyi **yanlış** yerde kullanılmıştır?

- A) ▲ B) ■ C) ●

6. Satır sonuna sığmayan kelimeleri satır sonunda ayırmak için hangi noktalama işaretini kullanırız?

- A) kısa çizgi B) nokta

C) virgül

1.

$$63 - 24$$

Yukarıda yazan çıkarma işleminin tahmini sonucu hangi seçenekte doğru verilmiştir?

A)  $\begin{array}{r} 63 \\ - 24 \\ \hline 39 \end{array}$     B)  $\begin{array}{r} 60 \\ - 20 \\ \hline 40 \end{array}$     C)  $\begin{array}{r} 60 \\ - 30 \\ \hline 30 \end{array}$

2. Aşağıdaki çıkarma işlemlerinden hangisinin tahmini farkı diğerlerinden büyüktür?

A)  $\begin{array}{r} 45 \\ - 13 \\ \hline \end{array}$     B)  $\begin{array}{r} 66 \\ - 42 \\ \hline \end{array}$     C)  $\begin{array}{r} 72 \\ - 51 \\ \hline \end{array}$

3.

$$\begin{array}{r} 4 \text{ onluk } 5 \text{ birlik} \\ - 2 \text{ onluk } 2 \text{ birlik} \\ \hline \end{array}$$

Yukarıdaki çıkarma işleminin tahmini farkını hangi öğrenci doğru bulmuştur?

- A) Emre → 20  
B) Bilal → 23  
C) Ömer → 30

4. Aşağıda verilen çıkarma işlemlerinden hangisinin tahmini sonucu yanlıştır?

A)  $\begin{array}{r} 63 \rightarrow 60 \\ - 38 \rightarrow 40 \\ \hline 20 \end{array}$     B)  $\begin{array}{r} 56 \rightarrow 50 \\ - 24 \rightarrow 20 \\ \hline 30 \end{array}$

C)  $\begin{array}{r} 72 \rightarrow 70 \\ - 13 \rightarrow 10 \\ \hline 60 \end{array}$

5. Yandaki çıkarma işleminin gerçek sonucu ile tahmini sonucunun karşılaştırılması hangi seçenekteki gibidir?

$$\begin{array}{r} 73 \\ - 27 \\ \hline \end{array}$$

- A) Gerçek sonuç, tahmini sonuçtan eksiktir.  
B) Gerçek sonuç, tahmini sonuca eşittir.  
C) Gerçek sonuç, tahmini sonuçtan fazladır.

6.



Burcu

Yaptığım çıkarma işleminin gerçek sonucu tahmini sonucundan 2 fazladır.

Buna göre, Burcu'nun yaptığı çıkarma işlemi aşağıdakilerden hangisidir?

A)  $\begin{array}{r} 34 \\ - 22 \\ \hline \end{array}$     B)  $\begin{array}{r} 65 \\ - 31 \\ \hline \end{array}$     C)  $\begin{array}{r} 48 \\ - 13 \\ \hline \end{array}$

1.



Aylin

Evde benim de sorumluluklarım var.

**Aşağıdakilerden hangisi Aylin'in evdeki sorumluluklarından **değildir**?**

- A) Odasını toplamak
- B) Ders çalışmak
- C) Yemek yapmak

2.

Ailede herkesin bir ..... vardır.

**Yukarıdaki cümlede boş bırakılan yere aşağıdaki kelimelerden hangisi **getirilemez**?**

- A) sorumluluğu
- B) odası
- C) görevi

**3. Aşağıdakilerden hangisi evde annemizin sorumluluklarındanıdır?**

- A) Bozulan musluğu tamir etmek
- B) Ders çalışmak
- C) Yemek yapmak


**4. Aşağıdakilerden hangisi evde görev ve sorumluluklarını yerine getiren bir çocuğun davranışı olabilir?**

- A) Odasını ablasına toplatmak
- B) Sofrayı kurarken annesine yardım etmemek
- C) Ders programına göre okul çantasını hazırlamak

5.

yemek yapmak	ders çalışmak	bozulan bir eşyayı tamir etmek
--------------	---------------	--------------------------------

**Yukarıdaki tabloda verilen sorumluluklardan annemizin sorumluluğunu pembeye, babamızın sorumluluğunu maviye, bizim sorumluluğumuzu sarıya boyadığımızda tablonun son görünümü nasıl olur?**



10. HAFTA

<b>TÜRKÇE / TEST-2</b>	1.C	2.A	3.B	4.B	5.C	6.A
<b>MATEMATİK / TEST-2</b>	1.B	2.A	3.C	4.B	5.C	6.A
<b>HAYAT BİLGİSİ / TEST-2</b>	1.C	2.B	3.C	4.C	5.A	

