

# 2. SINIF



ADI & SOYADI:	
SINIFI & NO:	
OKULU:	

DERS ADI	SORU SAYISI	TOPLAM SORU SAYISI	SINAV SÜRESİ (DAKİKA)
TÜRKÇE	14	41	75 Dakika
MATEMATİK	12		
HAYAT BİLGİSİ	10		
İNGİLİZCE	5		

2.SINIF KONU TEKRAR SORULARINA ULAŞMAK İÇİN  
SAĞ ÜSTTEKİ KAREKODU OKUTABİLİRSİNİZ





## KIŞ ŞARKISI




Tam otların sarardığı zamanlar  
Yere yüzükoyun uzanıyorum  
Toprakta bir telaş, bir telaş  
Karıncalar öteden beri dostum.

Ellerime hanım böcekleri konuyor  
Ne şeker şey onlar!  
Uç böcek, uç böcek diyorum  
Uçuyorlar.

Behçet NECATİGİL

(İlk üç soruyu şiire göre yanıtlayınız.)

1. Şairin, otlar sarardığında neler yaptığını hangi arkadaşımız söylemiştir?

- A.  Kırlarda koşup oynuyor.  
B.  Karıncalarla konuşuyor.  
C.  Yere yüzükoyun uzanıyor.

2. Şairin ellerine aşağıdakilerin hangisi konuyor?

- A. kelebekler  
B. karıncalar  
C. hanım böcekleri

3. Şairin "dostum" dediği hayvan aşağıdakilerden hangisidir?



# TÜRKÇE TESTİ

kalemlik

4. Aşağıdaki seçeneklerin hangisinde yukarıdaki kelimenin ilk hecesi ile başlayan bir kelime **verilmemiştir**?

A) kartal

B) kasırga

C) kabak

5. Aşağıdaki kelimelerden hangisinin harf sayısı diğerlerinden fazladır?

A) teknoloji

B) laboratuvar

C) turunçgil



akıl

6. Yukarıda verilen kelime ile ilgili aşağıdaki bilgilerden hangisi **yanlıştır**?


A) İki heceli bir kelimedir.

B) Kelime sessiz (ünsüz) harf ile başlamaktadır.

C) Kelimede iki tane sesli (ünlü) harf vardır.

"Benim adım üç heceden oluşur"

7. Yukarıda kendini tanıtan hayvan hangisidir?



H	★	İ	J	▲	L	M
---	---	---	---	---	---	---

8. Yukarıdaki alfabe tablosunda verilen ★ ve ▲ sembollerinin yerine hangi harfler yazılmalıdır?

A) ★ = İ ▲ = N

B) ★ = G ▲ = K

C) ★ = İ ▲ = K

# TÜRKÇE TESTİ

1



2



3



9. Yukarıdaki görsellerin adlarını sözlük sırasına göre sıraladığımızda doğru sıralama hangisi olur?

A) 2 - 3 - 1

B) 3 - 1 - 2

C) 1 - 2 - 3

10. Aşağıdaki kelimelerden hangisi hecelerine yanlış ayrılmıştır?

A) ha - nim - e - li

B) a - yak - ka - bı

C) de - ve - ku - şu

11. Aşağıdaki cümlelerden hangisinde "Hekim" sözcüğünün eş anlamlısı verilmiştir?

A) Kuşumuz Mavişi bugün veterinere götüreceğiz

B) Ablam hastanede hemşire olarak çalışıyor.

C) Dayım bu yıl doktor olacak.

ma

ar

sa

ka

12. Kağıtlarda yazan heceler ile aşağıdaki kelimelerden hangisi oluşturulamaz?

A) marka

B) arka

C) kasa

# TÜRKÇE TESTİ

gece: .....

zor : .....

doğru: .....

**13.** Yukarıdaki sözcüklerin zıt anlamlıları hangi seçenekte verilmiştir?

- |           |          |           |          |           |          |
|-----------|----------|-----------|----------|-----------|----------|
| <b>A)</b> | • gündüz | <b>B)</b> | • sabah  | <b>C)</b> | • gündüz |
|           | • güç    |           | • zahmet |           | • kolay  |
|           | • güney  |           | • batı   |           | • batı   |

Size sorduğum kelime 6 harften oluşmaktadır. Bu kelimedede 2 sesli, 4 sessiz harf bulunmaktadır. Bu kelime alfabenin 14. harfi ile başlamaktadır.

Hatice Öğretmen Türkçe dersinde öğrencilerine kelime oyunu oynatmaktadır.



**14.** Hatice Öğretmen'in bilgilerini verdiği kelimenin görseli aşağıdakilerden hangisidir?



**TÜRKÇE TESTİ BİTTİ!**

**MATEMATİK TESTİNE GEÇİNİZ**

# MATEMATİK TESTİ



Annemin yaşı 3 birlik, 4 onluktan oluşan doğal sayıdır.

1. Serra'nın ifadesine göre annesinin yaşı kaçtır?

A) 34

B) 40

C) 43

Kırk üç


2. Yukarıda okunuşu verilen sayıdan bir önce ve bir sonra gelen sayılar hangi seçenekte doğru olarak verilmiştir?

A) 41 – 44

B) 42 – 43

C) 42 – 44

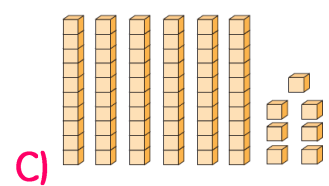
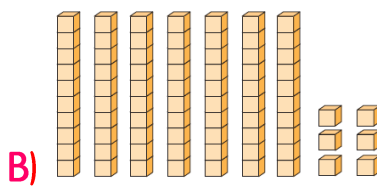
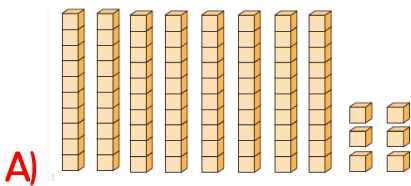
3. Aşağıdaki öğrencilerden hangisinin ifadesi doğrudur?

A)  89'dan büyük en küçük sayı 90'dır.

B)  59 sayısı 61'den sonra gelir.

C)  74'den küçük en büyük sayı 75'dir.

4. 76 sayısının onluk ve birlik bloklarla gösterimi hangi seçenekte doğru olarak verilmiştir?



## MATEMATİK TESTİ

**Kayra**  18'den başlayarak ikişer ritmik saydığımızda 6. söylediğimiz sayıdır.

**Serra**  24'den başlayıp üçer ritmik saydığımızda 5. Söylediğimiz sayıdır.

**Ali**  48'den başlayıp dörder ritmik saydığımızda 4. söylediğimiz sayıdır.

2-A sınıfında yapılan "Bil Bakalım" yarışmasında öğrenciler sırayla bir kart çekiyor ve çektiği kartta yazan soruyu bilmeye çalışıyor.

**5.** Buna göre Kayra, Serra ve Ali'nin çektiği kartlardaki soruların cevapları hangi seçenekte doğru olarak verilmiştir?

	Kayra	Serra	Ali
A)	28	33	56
B)	28	36	60
C)	26	36	60

Aşağıdaki sayıları öğrenciler en yakın onluğa yuvarlamışlardır.

**6.** Hangi öğrenci kendisine söylenen sayıyı en yakın onluğa **yanlış** yuvarlamıştır?

A) 84 → 80

B) 67 → 70

C) 55 → 50

Hatice okul numarasının basamaklarının yerlerini değiştirdiğinde "9 onluk + 5 birlik" değerini elde ediyor.

**7.** Buna göre Hatice'nin okul numarası kaçtır?

A) 95

B) 59

C) 14

# MATEMATİK TESTİ

$$\begin{array}{r} 43 \\ + 28 \\ \hline \square \end{array} \quad \begin{array}{r} \square \\ - 39 \\ \hline A \end{array}$$

8. Yukarıdaki işlemler sıra ile yapıldığında A yerine gelecek olan sayı kaçtır?

A) 36

B) 34

C) 32

Bora yaz tatilini geçirmek için trenle dedesinin yanına gidiyor. Bora yolculuk süresince trenin mola verdiği istasyonların numaraları ile ilgili aşağıdaki bilgileri veriyor.



1. istasyonun numarası onlar basamağı 7 olan iki basamaklı en büyük sayıdır.

2. istasyonun numarası 60'a yuvarlanabilen en büyük sayıdır.

9. Yukarıdaki bilgilere göre Bora'nın bindiği trenin mola verdiği istasyonların numaraları hangi seçenekte doğru olarak verilmiştir?

1. İSTASYON

2. İSTASYON

A) 79

59

B) 79

64

C) 97

65



# MATEMATİK TESTİ

Aşağıda kantin sırasında bulunan Şeyma ve Zümra'nın buldukları sıra numarası hakkında ipuçları verilmiştir:

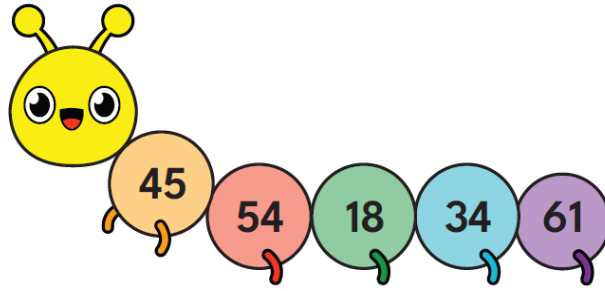
- \* Şeyma sırada baştan üçüncü sıradadır.
- \* Zümra sondan yedinci sıradadır.
- \* Şeyma sırada Zümra'nın önündedir.
- \* Şeyma ile Zümra arasında 4 kişi vardır.

**10.** Verilen bilgilere göre bu kantin sırasında toplam kaç öğrenci bulunmaktadır?

A) 14

B) 12

C) 10



**11.** Yukarıdaki tırtılın üzerinde yazan sayılar hangi seçenekte küçükten büyüğe doğru sıralanmıştır?

A) 18-34-45-54-61

B) 61-54-45-34-18

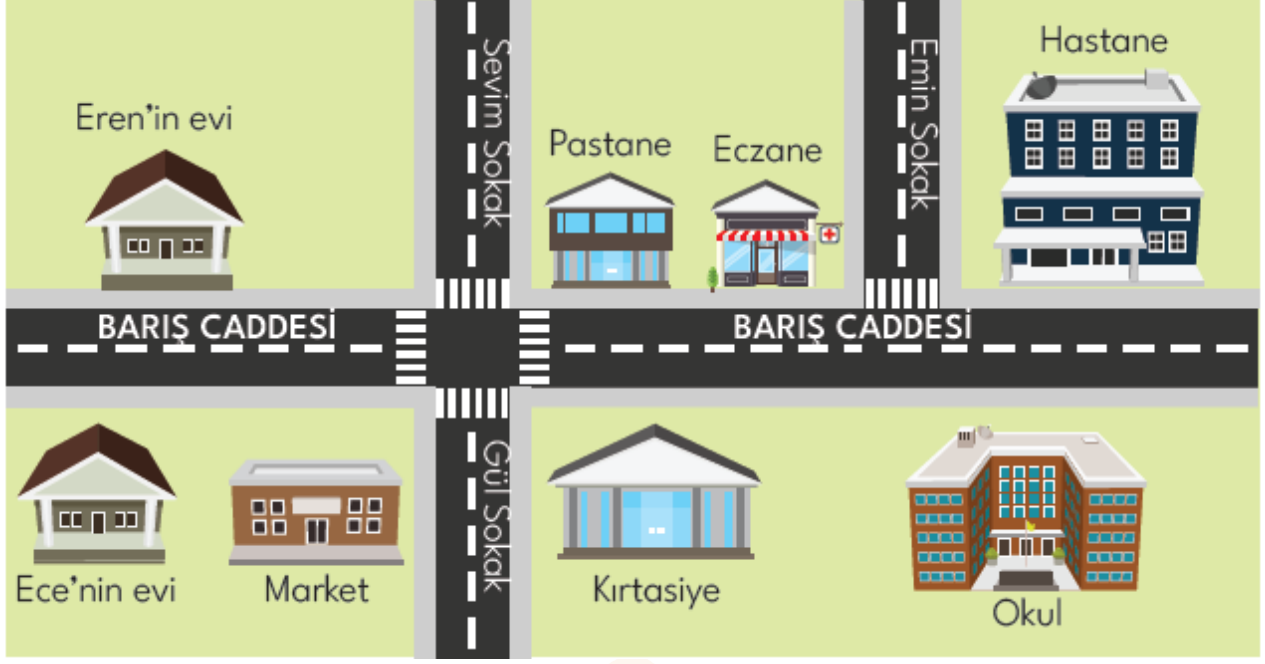
C) 18-45-34-54-61

**12.** Aşağıdaki verilenlerden hangisi bir düzineyi ifade etmektedir?



**MATEMATİK TESTİ BİTTİ! HAYAT BİLGİSİ TESTİNE GEÇİNİZ**

# HAYAT BİLGİSİ TESTİ



1, 2 ve 3. soruları yukarıdaki görsele göre cevaplayınız.

1. Ece'nin evi ile okul arasında hangi sokak vardır?

- A) Gül Sokak
- B) Sevim Sokak
- C) Emin Sokak

2. Sevim Sokak ile Emin Sokak arasında ne vardır?

- A) Market ve kırtasiye
- B) Eren'in evi ve pastane
- C) Pastane ve eczane

3. Eczane ile hastane arasında hangi sokak vardır?

- A) Sevim Sokak
- B) Emin Sokak
- C) Gül Sokak

"Yücel, okul çantasını günlük ders programına göre hazırlamadan okula gelmiştir."

4. Buna göre Yücel ile ilgili aşağıdakilerden hangisi söylenemez?

- A) Yücel sorumluluklarını bilen bir öğrencidir.
- B) Arkadaşlarından sürekli eşya istemek zorunda kalabilir.
- C) Ders eşyalarını unuttuğu için etkinliklere tam katılamaz.

## HAYAT BİLGİSİ TESTİ

Sınıftaki bazı arkadaşlarımızla fiziksel özelliklerimiz aynı olsa da ilgi ve yeteneklerimiz farklı olabilir.

1- Göz rengi

2- Resim yapma

3- Şarkı söyleme

4- Boy uzunluğu

5. Buna göre yukarıdakilerden hangileri ilgi ve yeteneği belirten ifadelerdir?

A) 1 - 3

B) 2 - 4

C) 2 - 3

Zeynep Öğretmen, hayat bilgisi dersinde öğrencilerine okul kurallarının neler olduğunu sormuştur. Üç öğrencisi aşağıdaki cevapları vermişlerdir:

**Ali:** Yemeklerden sonra dişlerimizi fırçalamak

**Elif:** Derslere zamanında girip çıkmak

**Kayra:** Okul kaynaklarını özenli kullanmak

6. Buna göre yukarıdaki öğrencilerden hangisi **yanlış** cevap vermiştir?

A) Elif

B) Kayra

C) Ali

7. Aşağıdaki görsellerden hangisindeki çocuk okuldaki kaynakları tasarruflu kullanmaktadır?



## HAYAT BİLGİSİ TESTİ

8. Hangi seçenekte ders araçlarını ve gereçlerini özenli kullanmaya **uyulmamıştır?**

- A) Hande, defterlerini ve kitaplarını kaplıyor.
- B) Güray, defterinin yapraklarından uçak yapıyor.
- C) Burak, kalemlerini gereksiz yere açmıyor.

9. "Arkadaşlarımla iyi geçinmek için onlara daima hoşgörülü davranırım ve onları severim." diyen bir öğrenci için aşağıdakilerden hangisi **söylenemez?**

- A) nezaketli
- B) duygusal
- C) sevimsiz

I. Okula sıra ile girer, okuldan sıra ile çıkarım.

II. Koridorlarda gürültü yapmam.

III. Yerlere çöp atmam.

IV. Öğretmenimin sözünü kesmem.

V. Okula zamanında gelirim.

Serap defterine sınıf ve okul kurallarını yazmak istiyor.

10. Yukarıdakilerin kaç tanesini yazarsa kuralları doğru yazmış olur?

- A) 5
- B) 4
- C) 3

**HAYAT BİLGİSİ TESTİ BİTTİ!**

**İNGİLİZCE TESTİNE GEÇİNİZ**

# İNGİLİZCE TESTİ

1. "Mikrofon" sözcüğünün İngilizcesi nedir?

A) Doctor

B) Microphone

C) Gorilla

2. Aşağıdaki resmin İngilizcesi hangisidir?



A) Stadium

B) Cafe

C) Wagon



This is a - - - - .

3. Yukarıdaki cümle hangi kelime ile tamamlanır?

A) television

B) lemon

C) telephone

4. Yandaki resmin İngilizcesi nedir?

A) Ambulance

B) Doctor

C) Sport



- salad - salata
- university - üniversite
- office - market

5. Yukarıdaki hangi kelimenin anlamı yanlış verilmiştir?

A) salad

B) university

C) office

**TEST BİTTİ.**

**CEVAPLARINIZI KONTROL EDİNİZ**