



Fidan

Öğretmenin öğrencilere okul dışında yapmaları için verdiği çalışma.

Gezegen

Yeni yetişen ağaç

Kitap

Üzerine bildiri, açıklama veya tanıtma kâğıtları tutturmak için hazırlanmış levha

Pano

Ödev

Güneş çevresinde dolanan, ondan aldıkları ışığı yansıtan gök cisimlerinin

Aysima yukarıdaki sözcükleri anlamlarıyla eşleştirecektir.

1. Buna göre Aysima sözcük ve anlamları eşleştirirse hangi sözcüğün anlamı verilmediğini görecek?

A)Pano

B)Kitap

C)Fidan

PETEK

ETEK

TEK

EK

2. Yukarıdaki sözcükler arasındaki ilişki aşağıdaki seçeneklerin hangisinde vardır?

A) KİLİM

İLİM

KİMİ

KİL

B) MOTOR

OTO

OT

O

C) YATAK

ATAK

TAK

AK





Geçen yıl 23 Nisan Ulusal Egemenlik ve Çocuk Bayramı'nı pandemi nedeniyle evlerimizde kutladık. İnşallah pandemi biter ve bu yıl bayramımıza kavuşarak çok güzel etkinlikler düzenleyebiliriz.

3. Yukarıdaki metinde altı çizili sözcükler hangi seçenekte sözlükte bulunuş sırasına göre çizilmiştir?

A)

| |
|---------|
| çocuk |
| güzel |
| nisan |
| pandemi |

B)

| |
|---------|
| güzel |
| çocuk |
| pandemi |
| nisan |

C)

| |
|---------|
| çocuk |
| güzel |
| pandemi |
| nisan |

| | | |
|---------|--------|-------|
| Tören | Nem | Eğri |
| Önemli | Teğmen | Et |
| Öğrenme | Nemli | Metre |

Eda "öğretmen" kelimesindeki harfleri bir kez kullanarak kelimeler oluşturacaktır.

4. Buna göre Eda yukarıda verilen tablodaki kaç kelimeyi oluşturabilir?

A)4

B)5




C)6



5. “Yaş” sözcüğü aşağıdaki cümlelerin hangisinde farklı bir anlamda kullanılmıştır?

- A) Toprak hala yaş olduğu için ağaçları sulamaya gerek yok.
- B) Ben senin yaşındayken nasıl da koşardım.
- C) Kazağı hala yaş olunca giyemedi.

Aşağıdaki rakamlar harflerin alfabadeki sırasını belirtmektedir.

| | | | | | | |
|--|----|----|----|----|----|----|
|  | 22 | 19 | 29 | 3 | 26 | 14 |
|  | 5 | 6 | 7 | 24 | 6 | 21 |
|  | 10 | 6 | 5 | 12 | 28 | 6 |

6. Buna göre “armağan” kelimesinin eş anlamlısı hangi renkte belirtilmiştir?



mercimek bu var akşam yemekte
sarması pilav çorbası yaprak

7. Karışık olarak verilen sözcüklerle oluşturulan cümle aşağıdaki hangi seçenekte doğru yazılmıştır?

- A) Bu akşam yemekte yaprak sarma, pilav ve mercimek çorbası var.
- B) Bu akşam yemekte yaprak sarma, pilav, mercimek çorbası var.
- C) Bu akşam yemekte yaprak sarma, pilav, mercimek, çorbası var.



Görme engeli bulunan bireylerin kullandıkları kabartmalı yazılardan oluşan alfabeyle Braille alfabeti denilmektedir.

| | | | | | | | | | | | | | | |
|---|---|---|---|---|---|---|---|---|---|---|---|---|---|---|
| | | | | | | | | | | | | | | |
| a | b | c | ç | d | e | f | g | ğ | h | ı | i | j | k | l |
| | | | | | | | | | | | | | | |
| m | n | o | ö | p | r | s | ş | t | u | ü | v | y | z | |

8. Buna göre Braille alfabeti şeklinde yazılan sözcük aşağıdakilerden hangisidir?

- A) orada
- B) önlük
- C) ördek

Türkçe 'de bazı sözcüklerin tek başına anlamları yoktur. Bu sözcükler kullanıldıkları cümlede anlam kazanırlar.

9. Buna aşağıdaki hangi seçenekte yukarıdaki açıklamaya uymayan bir sözcük bulunmaktadır?

A)

B)

C)



Bu sözlerin kalbimi
kırdığı için üzüldüm.



1.Cümle

Sınavdan yüksek puan
aldığım için çok mutlu
oldum.



2.Cümle

Yaramaz arı çiçekten
çiçeğe konuyordu.



3.Cümle

10. Yukarıdaki cümlelerden hangisi duygu bildirmemektedir?

- A) 3. Cümle
- B) 2. Cümle
- C) 1. Cümle



$$45 - 24 = \dots\dots$$

$$76 - 57 = \dots\dots$$

$$55 - 30 = \dots\dots$$

$$81 - 32 = \dots\dots$$

$$67 - 39 = \dots\dots$$

$$89 - 78 = \dots\dots$$

1. Yukarıda verilen çıkarma işlemlerinden kaç tanesi onluk bozulmadan yapılır?

A) 3

B) 4

C) 5

$$89 - A = 45$$

$$A + B = 66$$

2. Yukarıdaki verilere göre aşağıdakilerden hangisi doğrudur?

A) A sayısını bulmak için 89 ile 45'i toplamalıyız.

B) B sayısını bulmak için 66'dan 45 çıkarılmalıdır.

C) B sayısı A sayısından küçüktür.



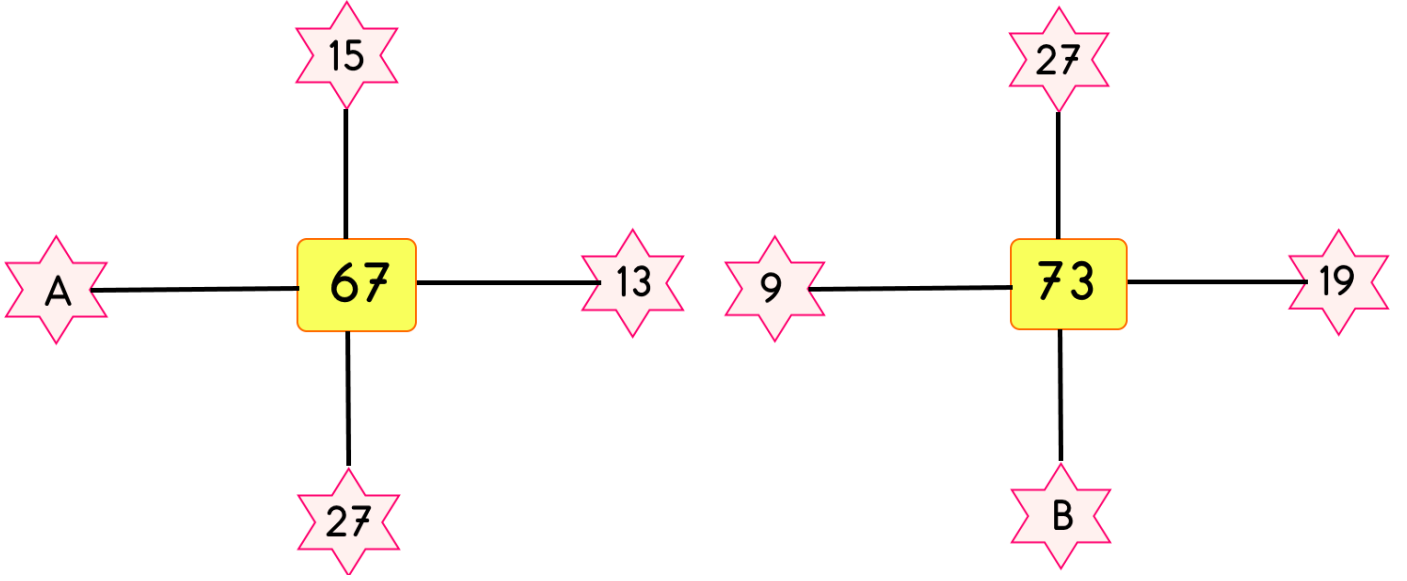
Yukarıdaki tırtılın üzerindeki sayılar büyükten küçüğe doğru sıralanmıştır.

3. Buna göre ● yerine yazılabilecek en küçük sayı ile ★ yerine yazılabilecek en büyük sayının farkı kaçtır?

A) 23

B) 44

C) 52



Yukarıda verilen şekillerde pembe yazılı sayıların toplamı ortada verilen sarı sayılı yazıya eşittir.

4. Buna göre A ve B sayısının toplamı kaçtır?

A) 25

B) 30

C) 35

★→8

★→5

★→3

★→6

★→1

Yukarıdaki rakamlar verilen renkli şekillerle eşleştirilmiştir.

5. Buna göre ★★+★★ işleminin sonucu , ★★+★★ işleminin sonucundan kaç fazladır?

A) 15

B) 20

C) 25



| Şube | Kız | Erkek | Toplam |
|------|-------|-------|--------|
| 2/A | 17 | | 33 |
| 2/B | | 18 | 34 |
| 2/C | 13 | 19 | |

Yukarıdaki tabloda Cumhuriyet İlkokulu'nda bulunan 2. sınıf öğrenci mevcutları verilmiştir.

 2/A sınıfında 16 erkek öğrenci vardır.

 2/B sınıfında 14 kız öğrenci bulunmaktadır.

 2/C sınıfının mevcudu 32'dir.

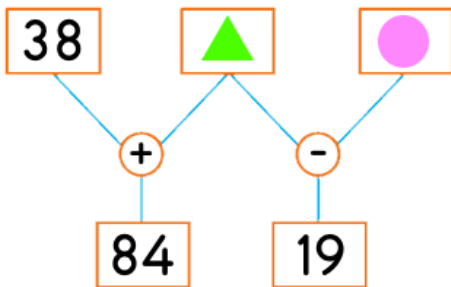
 2. sınıflarda toplam 99'dur.

6. Buna göre yukarıdaki ifadelerden kaç tanesi doğrudur?

A) 2

B) 3

C) 4



7. Yanda verilen işlem tablosuna göre $\triangle + \bullet =$ işleminin sonucu kaçtır?

A) 19

B) 46

C) 73



Plaka numarası 42 olan Konya'dan yola çıkan Fatih Bey'in gideceği rota şu şekildedir:

1- İlk olarak plaka numarası 40'e yuvarlanan ilimize gidecektir.

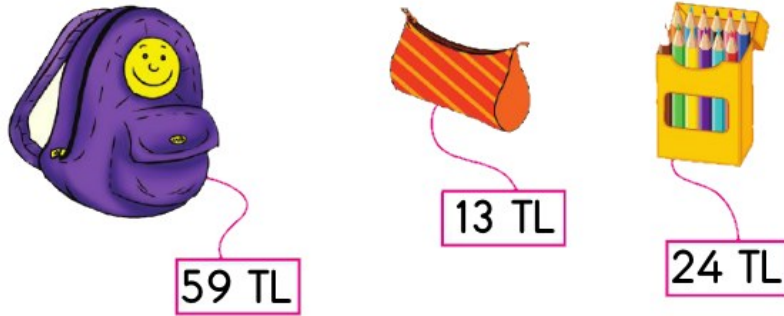
2- İkinci olarak plaka numarası 70'e yuvarlanan ilimize gidecektir.

| Şehir | Plaka |
|-----------|-------|
| Kırıkkale | 71 |
| Rize | 53 |
| Samsun | 55 |
| Kayseri | 38 |

3-Üçüncü olarak plaka numarası 60'a yuvarlanan ilimize gidecektir.

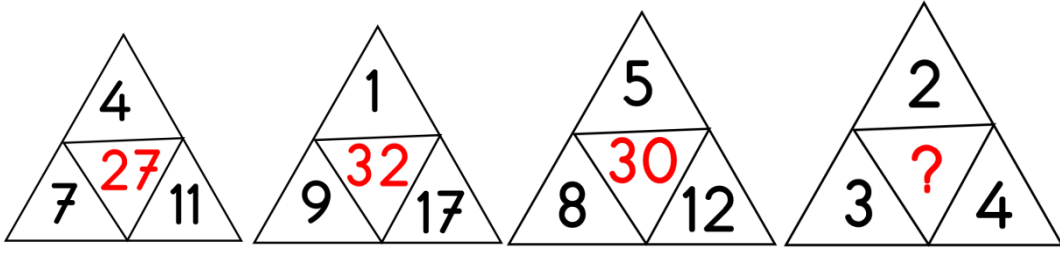
8. Buna Fatih Bey'in sırayla gittiği üç il hangisidir?

- A) Rize-Kayseri-Kırıkkale
 B) Rize-Samsun-Samsun
 C) Kayseri-Kırıkkale-Samsun



9. Yukarıda verilen etiket fiyatlarına göre aşağıdakilerden hangisi yanlıştır?

- A) Çanta ve boyaları alan birisi tahmini 80 TL öder.
 B) Boya kalemleri ve kalem kurusu alan birisi tahmini 40 TL öder.
 C) Kale kutusu ve çanta alan birisi tahmini 70 TL öder.



Yukarıdaki üçgenlerde buluna kırmızı sayılar belli bir kurala göre yazılmıştır.

10. Buna göre “?” olan yere kaç yazılmalıdır?

- A) 14
- B) 18
- C) 22



Merhaba Arkadaşım Aylin,



Birbirimizi kolayca tanıyabilmemiz için sana biraz kendimi tanıtmak istiyorum. Saçlarım kahverengi ve düzdür. Gözlerim mavi ve büyüktür. Zayıf ve uzun boylu olduğumu söyleyebilirim çünkü sınıfın en uzununu benim.. Burnum ve kulaklarım küçük.

Selda

1. Selda, kardeş okulundaki mektup arkadaşı Aylin'e yukarıdaki gibi mektup yazıyor. Buna göre Selda hangi özelliklerinden bahsetmiştir?

- A) Karakter
- B) Fiziksel özellikleri
- C) İlgi alanları

Sevgili çocuklar ev adresimizi öğrenmeliyiz. Böylece ihtiyaç duyduğumuzda ailemize ulaşabiliriz.

2. Hangi öğrenci defterine adresini tam olarak yazmıştır?

- A) Cumhuriyet Mahallesi KONYA
- B) 42. Sokak No:10 Selçuklu/KONYA
- C) Atatürk Mahallesi, 25. Sokak No:12 Selçuklu/KONYA



Neden ev işlerinde
sorumluluk
almalıyız?



.....

3. Ela ve annesi arasında geçen yukarıdaki konuşmada annesinin cevabı aşağıdakilerden hangisi olabilir?

- A) Oyun oynamak yerine bulaşık yıkaman senin iyiliğine olur.
- B) Bu sayede benden bir sürü harçlık alabilirsin.
- C) Böylece ailemizin iş yükünü paylaşmış oluruz.



Bugün bize annemin kız kardeşi,
onu eşi ve çocukları geldi.
Birlikte güzel bir vakit geçirdik.

4. Dilalara bugün hangi yakın akrabaları gelmiştir?

- A) Teyzesi, eniştesi ve kuzenleri
- B) Halası, eniştesi ve kuzenleri
- C) Yenge, eniştesi ve kuzenleri





Sağlıklı büyüme ve gelişme için vücudumuz hareket etmelidir. Oyun oynamak ve günlük etkinliklerimiz, vücudumuza yeterli hareketi sağlamaz. Bu nedenle spor da yapmamız gerekir. Spor yapmak kaslarımızın gelişmesini, boyumuzun uzamasını sağlar. Yaşımıza uygun sporlar yaparsak daha sağlıklı büyürüz.



1



2



3



4

5. Yukarıdaki verilen bilgilere göre aşağıdaki hangi resimler konuyla ilgilidir?

A) 1 ve 3

B) 2 ve 4

C) 1 ve 4



Sıla otobüsteki hamile bayana yer vermiştir.



Erdem hasta olan arkadaşına ziyarete gitmiştir.



Burak adres göstermek için tanımadığı kişilerin arabasına binmiştir.

6. Yukarıdaki davranışlardan kaç tanesi duyarlı davranışa örnektir?

A) 3

B) 2

C) 1





..... ortak kullanım alanlarımızdan biridir. Devletimiz belediyeler aracılığı ile bu alanları bizim kullanmamız için yapmıştır. Ancak yapılan bu alanları kullandıktan sonra temiz bırakmaya özen göstermeliyiz. Buralar ortak kullanım alanı olduğunu ve bizlerden sonra başkalarının da bu alanları kullanacağını unutmamalıyız.

7. Yukarıdaki noktalı yere aşağıdakilerden hangisi gelemmez?

- A) Piknik alanı
- B) Evimiz
- C) Park

Sınıfımızda kararlar alınırken arkadaşlarımızla uygun bir dille konuşmalı ve birlikte çalışma kurallarına uygun hareket etmeliyiz.

8. Buna göre aşağıdakilerden hangisi hatalıdır?

- A) Ortak çalışmalarda alınacak kararlarda herkesin fikrini dinler ve sonra kendi fikrimi söylerim
- B) Ortak çalışmalarda alınacak kararlarda benim de fikrim önemlidir.
- C) Ortak çalışmalarda alınacak kararlarda sadece benim fikrim önemlidir



Eda ve Seda kız kardeşlerdir. Eda resim yapmaktan ve müzik dinlemekten hoşlanmaktadır. Seda ise gitar çalmaktan ve tenis oynamaktan hoşlanmaktadır. Eda ve Seda fiziksel olarak birbirine benzemektedir. Arkadaşları bazen onları ayırt etmede zorlanmaktadır. Neyse ki saç modelleri birbirinin farklıdır. Böylece onları daha rahat ayırt edebilmektedirler.

9. Yukarıda verilen bilgilerden aşağıdakilerden hangisi çıkarılamaz?

- A) Fiziksel özellikleri çok benzese bile ilgi alanları farklıdır.
- B) Duyguları, düşünceleri, hoşlandığı şeyler ile yetenekler her insanda benzerlik ve farklılık gösterebilir.
- C) İnsanların fiziksel özellikleri farklı olsa da hoşlandıkları şeyler aynıdır.



Ahmet gereksiz yanan lambalara dikkat eder ve onları kapatır. Veli kalorifer yanarken camları açıp odayı havalandırır. Mehmet Ali ise kitap okurken televizyonu da açar.

10. Buna göre çocuklardan hangisinin kaynakları tasarruflu kullandığını söyleyebiliriz?

- A) Ahmet
- B) Veli
- C) Mehmet Ali



1. What colour is it?

- A) Green
- B) Yellow
- C) Pink



2. How many orange balloons are there?

- A) two
- B) three
- C) four



3. What is it?

- A) school bag
- B) pencil
- C) pencil case





4. eight scissors



5.the paper

A) paint

B) cut

C) write



İLKOKULA DAİR HER ŞEY BU SİTEDE

1. Sınıf



3. Sınıf

2. Sınıf

4. Sınıf

- * Konu Anlatımları
- * Konu Özetleri
- * Etkinlikler
- * Çalışma Kağıtları
- * Tarama Sınavları
- * Deneme Sınavları
- * Masal Köşesi
- * Hikaye Köşesi
- * Oyun Köşesi
- * Kitap Köşesi
- * Film Köşesi

LÜTFEN SİTEMİZDE

BULUNAN REKLAMLARA TIKLAYIP

BİZLERE DESTEK OLMAYI

UNUTMAYINIZ 😊

2.SINIF ARALIK AYI KAZANIM DEĞERLENDİRME SINAVI

CEVAP ANAHTARI

| | | | | | |
|-----------------------|-----|-----|-----|-----|------|
| TÜRKÇE: | 1-B | 2-C | 3-A | 4-C | 5-B |
| | 6-A | 7-B | 8-C | 9-C | 10-A |
| MATEMATİK: | 1-A | 2-C | 3-A | 4-B | 5-C |
| | 6-B | 7-C | 8-C | 9-B | 10-A |
| HAYAT BİLGİSİ: | 1-B | 2-C | 3-C | 4-A | 5-C |
| | 6-B | 7-B | 8-C | 9-C | 10-A |
| İNGİLİZCE: | 1-B | 2-A | 3-C | 4-A | 5-B |