




Doğanın dengesi, insanın onu kirletmesiyle bozulmaktadır. Teknolojik gelişmelerle birlikte doğa da hızlı değişmeye (bozulmaya) başladı. Doğal yaşamın asıl sahipleri, (hayvanlar, bitkiler, toprak, su ...) bu hızlı değişime ayak uyduramadı. Bu nedenle bazı hayvan türleri ya yok oldu ya da yok olma tehlikesiyle karşı karşıyadır. İşin kötüsü bütün bu dengesizlik, insanı da olumsuz etkilemektedir.

1 ve 2. soruları yukarıdaki paragrafa göre cevaplayınız.

1-Yukarıdaki paragrafın konusunu ifade eden görsel, aşağıdakilerden hangisidir?



2- Paragrafa göre, doğanın dengesi nasıl bozulmaktadır?

- A) İnsanların doğayı kirletmesiyle
- B) Doğada yeşil alanların az olmasıyla
- C) Hayvan türlerinin çok olmasıyla

1. başın

2. ayaklar

3. çeker

4. cezasını

5. akılsız

3-Yukarıdaki sözcüklerle kurallı ve anlamlı bir cümle oluşturulursa sıralama nasıl olur?

A) 4 - 5 - 3 - 1 - 2

B) 3 - 1 - 4 - 5 - 2

C) 5 - 1 - 4 - 2 - 3



4- “Hata yapmak insanlar çok normaldir, bunu yadırgamamak gerekir.” cümlesindeki boşluğa aşağıdaki sözcüklerden hangisi getirilmelidir?

A) fakat

B) için

C) çünkü



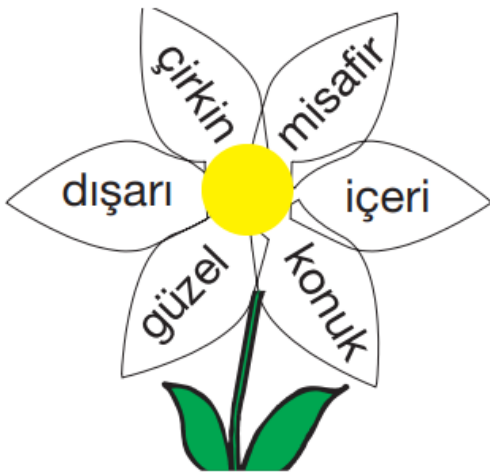
Bilgi: Sözcükler sözlük sırasına göre dizilirken ilk harflerine bakılır. İlk harfleri aynı ise ikinci harflerine bakılır. İkinci harfleri aynı ise üçüncü harfine bakılır.

5-Buna göre, “dere - deniz - demir” kelimelerinin sözlükteki sırası, hangi seçenekte doğru verilmiştir?

A) deniz - demir - dere

B) demir - deniz - dere

C) dere - demir - deniz



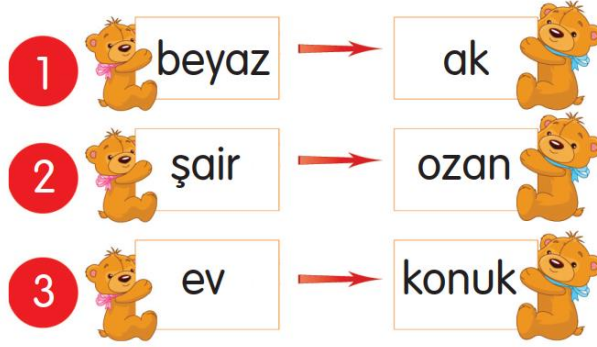
Yandaki çiçeğin yapraklarına yazılı olan sözcüklerden zıt anlamlı olanlar boyanacaktır.

6-Buna göre, hangi sözcük çifti kırmızı renge boyanmamalıdır?

A) güzel - çirkin

B) dışarı - içeri

C) misafir - konuk



7-Yukarıda numaralanmış sözcüklerden hangisinin eş anlamlısı (anlamdaşı) yanlış verilmiştir?

A) 1

B) 2

C) 3



8-Yukarıdaki şekilden sebep-sonuç cümlesi olmayan bölümler kesilip atılırsa yeni şekil nasıl olur?


A)



B)



C)





Şule

Kardeşi kalemini kırdığı için Tülay çok sinirliydi.

Keşke, öğretmenimin sözünü dileyip derslerime çalışsaydım.



Nilay



Ersel

Sevincinden yerinde duramıyordu.

9-Yandaki öğrencilerden hangisinin cümlesinde "pişmanlık" anlamı vardır?

- A) Nilay
- B) Şule
- C) Ersel

10-Aşağıdaki öğrencilerden hangisi cümlesinde büyük harflerin kullanıldığı yerler ile ilgili yazım yanlışı vardır?



- A) Erenler, Atatürk Mahallesi'nde, Nergis Apartman'da oturuyorlar.



- B) 29 Ekim'de cumhuriyet bayramını kutladık.



- C) Çoban, köpeği Karabaş'a yiyecek veriyordu.



1-Yandaki kova 12 su bardağı ile dolabilmektedir. Bir su bardağı ise 2 çay bardağı ile dolduğuna göre, bu kova kaç çay bardağı su ile dolabilir?



- A) 16
- B) 18
- C) 24



Yandaki gazeteci bir günde 80 gazeteyi kapı kapı dolaşarak dağıtıyor. Gül Sokak'ta 12, Karanfil Sokak'ta, 27, Elmas Sokak'ta da 19 gazete dağıtıyor.

2-Buna göre, gazetecinin dağıtmadığı kaç gazetesi kalmıştır?

- A) 32
- B) 22
- C) 12



.....TL



16 TL

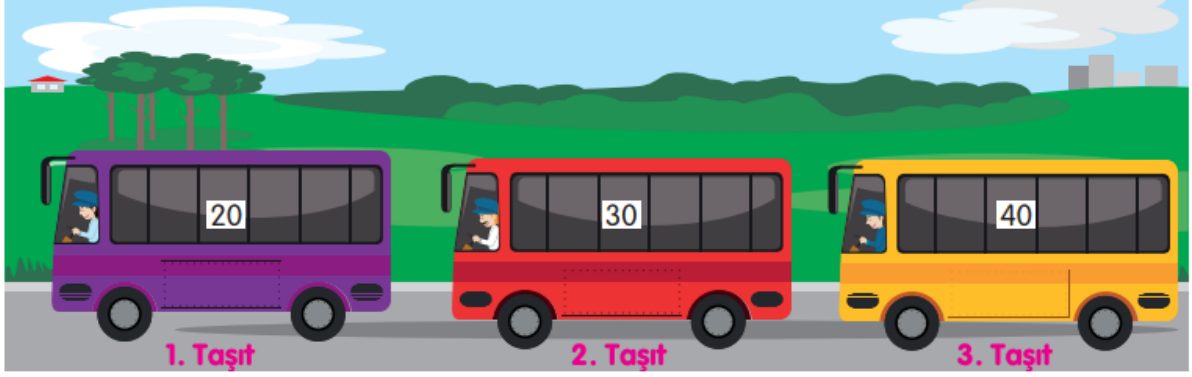


.....TL

Yukarıdaki ürünleri alan Mert, ürünler için toplam 92 TL ödüyor.

3-Mert'in aldığı futbol topunun fiyatı eldivenin fiyatından 8 TL fazla olduğuna göre, spor ayakkabısının fiyatı kaç TL'dir?

- A) 48
- B) 50
- C) 52



Yukarıdaki taşıtların şoförleri, taşıtlarındaki yolcu sayılarını en yakın onluğa yuvarlayarak taşıtlarının camlarına yazmışlardır.

4-Buna göre;

1. 1. ve 2. taşıtta en fazla 58 yolcu olabilir.
2. 2. ve 3. taşıtta en az 60 yolcu olabilir.
3. 3 taşıttaki toplam yolcu sayısı en az 74 olabilir.

ifadelerinden hangileri doğrudur?

A) 1 ve 2

B) 2 ve 3

C) 1 ve 3

- Ahmet Bey; ben manavım elma, armut, pırasa vb. meyve ve sebze satarım.
- Mehmet Bey, ben terziyim çeşitli elbiseler dikerim.
- Yılmaz Bey, ben sütçüyüm her gün mahallede dolaşır süt satarım.

5-Yukarıda bazı meslek sahipleri verilmiştir. Bunlardan hangisi yaptığı meslekte ölçü birimi olarak litreyi kullanır?

A) Ahmet Bey

B) Mehmet Bey

C) Yılmaz Bey

$$\square - 14 = 30$$

$$30 + 14 = 44$$

$$44 + 18 = 62$$

6-Yanda çözümü verilen problem aşağıdakilerden hangisidir?

A) 44 lirası olan birisi 18 lira daha kazanırsa kaç lirası olur?

B) 14 eksiği 30 olan sayının 18 fazlası kaçtır?

C) Hangi sayıdan 14 çıkarsa 30 kalır?



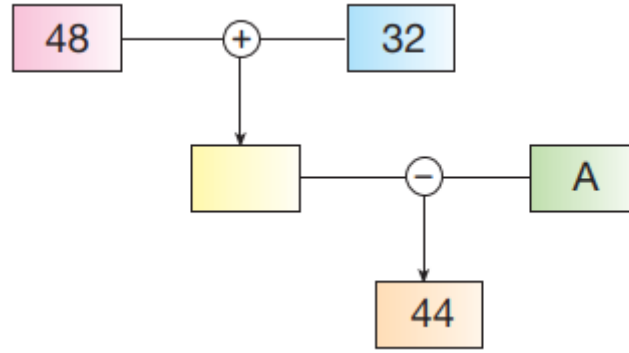
$$\square - 18 = 67$$

7-Yukarıdaki çıkarma işleminde verilmeyen eksilen kaçtır?

A) 85

B) 75

C) 65



Yukarıdaki şema ile verilen işlemler oklar yönünde yapılarak 44 sayısı bulunuyor.

8-Buna göre, A ile belirtilen sayı kaçtır?

A) 36

B) 34

C) 28

Bir öğrenci 9 onluk ve 2 birlikten oluşan sayıdan 4 onluk ve 6 birlikten oluşan sayıyı çıkarıyor.

9-Öğrenci bu iki sayının farkını doğru bulduğuna göre, fark ile ilgili aşağıdakilerden hangisi söylenemez?

A) Fark 46'dır.

B) Farkın onlar basamağındaki rakamın basamak değeri 40'tır.

C) Fark 5 onluk, 6 birlikten oluşur.

10-72, 80, 34, 65 sayıları aşağıdaki seçeneklerin hangisinde büyükten küçüğe doğru sıralanmıştır?

A) 65, 34, 80, 72

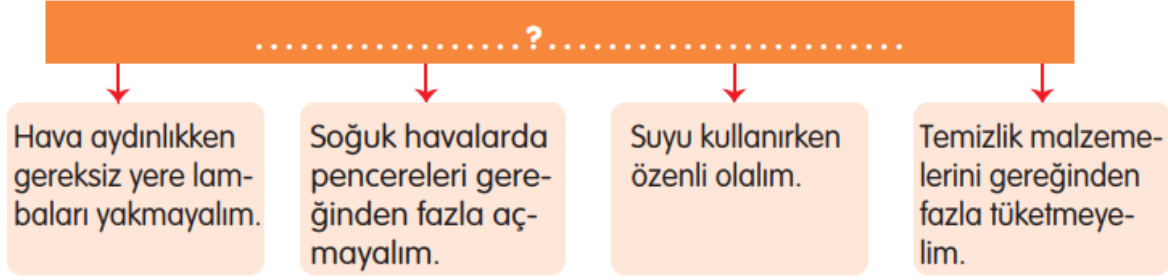
B) 72, 65, 34, 80

C) 80, 72, 65, 34



1- “Grup çalışmalarında” cümlesi aşağıdaki ifadelerden hangisiyle **tamamlanamaz**?

- A) kaba ve kırıcı sözler kullanmalıyız.
- B) gönüllü olmalıyız.
- C) arkadaşlarımızla yardımlaşmalıyız.



2-Yukarıdaki şemada verilenler aşağıdaki sorulardan hangisine cevap olarak hazırlanmıştır?

- A) Kaynakları kullanırken nelere dikkat etmeliyiz?
- B) Okul kuralları nelerdir?
- C) Çevremizi temiz tutmak için neler yapmalıyız?

3-Aşağıdaki ifadelerden hangisi **yanlıştır**?

- A) Adres yazarken mahalle, cadde, sokak, ilçe ve il belirtilmelidir.
- B) Evimizin adresini tanımadığımız kişilerle paylaşabiliriz.
- C) Adresimizi güvenliğimizden sorumlu kişilerle paylaşabiliriz.

Hala	Teyze	Dayı
Amca	Babanne	Anneanne

4-Yukarıdaki tabloda anne tarafından akraba olanların bulunduğu boyanırsa tablonun boyalı hali nasıl olur?

- A)

- B)

- C)



Aysunların ailesi hafta sonu pikniğe gitmek istiyorlar. Bunun için pikniğe gidilecek yerin seçilmesi gerekiyor.

5-Pikniğe gidilecek yerle ilgili olarak;

1. Babanın dediği yere gidilmelidir.
2. Anne ve babanın belirleyeceği yere gidilmelidir.
3. Pikniğe gidilecek yeri, aile bireyleri ortak bir kararla belirlemelidir.

verilenlerden hangisi ya da hangileri doğrudur?

- A)** 1 ve 2 **B)** Yalnız 3 **C)** 2 ve 3

6-Evimizde tasarruf ile ilgili;

1. Dişlerimizi fırçalarken musluğu açık bırakmamak
2. Hava kararmadan lambaları yakmamak
3. Kalorifer yanarken gereksiz yere pencereleri açmamak

verilenlerden hangisi ya da hangileri doğrudur?

- A)** 1 ve 2
B) 2 ve 3
C) 1, 2 ve 3


7-Hangi seçenekte verilen ifadeleri yapmak doğru **olmaz?**

- A)** Açıkta satılan yiyecekleri almak
B) Her besinden yeterince yemek
C) Temizlik yaparken bol su ve sabun kullanmak

8-Doktorlara hastaların tedavi sürecinde kim yardım eder?



Öğretmen



Hemşire



Eczacı



Yukarıda bir öğrenci için hazırlanan kahvaltı verilmiştir.

9-Görsele göre, kahvaltıda **olmaması gereken besin ve içecek hangi seçenekte doğru verilmiştir?**

- A) peynir - süt
- B) cips - kola
- C) yumurta - süt



Yemeklerden sonra dişle-
rimizi fırçalamalıyız.

Yaşımıza uygun sporları
yapmalıyız.



Yeteri kadar uyumalıyız.

Haftada en az iki kere
banyo yapmalıyız.



10-Yukarıdaki öğrencilerin söyledikleri öğretmenlerinin sorduğu bir sorunun cevapları olduğuna göre, öğretmen öğrencilere aşağıdaki sorulardan hangisini sormuş olabilir?

- A) Dengeli ve düzenli beslenme ne demektir?
- B) Görgü kurallarına neden uymalıyız?
- C) Sağlıklı yaşamak için neler yapmalıyız?



1-What colour is it?

- A) Green
- B) Yellow
- C) Pink



2-How many orange balloons are there?

- A) two
- B) three
- C) four



3-What is it?

- A) school bag
- B) pencil
- C) pencil case

4-

eight scissors

- A)
- B)
- C)

5-.....the paper

- A) paint
- B) cut
- C) write

