

[www.ilkokulevim.com](http://www.ilkokulevim.com)

# 2.SINIF

## KAZANIM DEĞERLENDİRME SINAVI

TÜRKÇE

MATEMATİK

HAYAT BİLGİSİ

İNGİLİZCE

İLKOKULEVİM



Arda okullar kapanır kapanmaz dedesinin köyüne gitti. Sabah uyanır uyanmaz, uyuduğu çatı katının balkonuna çıktı. Mis gibi havayı içine çekti. Kuşların şarkılarını dinledi. Ceylanlar derede su içiyordu. Bir kelebek o anda omzuna kondu.

1 -2-3. soruları metne göre cevaplayınız.



1- Arda nerede uyumuştur?

- A. Salonda
- B. Çatı katında
- C. Yatak odasında

2- Aşağıdakilerden hangisi Arda'nın uyanınca yaptığı işlerden biri değildir?

- A. Kahvaltı yapmak
- B. Mis gibi havayı içine çekmek
- C. Balkona çıkmak

3- Aşağıdakilerden hangisi Arda'nın gördüğü hayvanlardan biri değildir ?

- A. 
- B. 
- C. 



Arkadaşım daha okuldan gelmedi.



Babam güçlü ve kuvvetlidir.



Resim konusunda yetenekliyimdir.

4 - Yukarıdaki hangi cümlede eş anlamlı sözcükler bir arada kullanılmıştır ?

A.



B.



C.



5- Yukarıda karışık verilen sözcükler hangi seçenekte kurallı ve anlamlı bir cümle olacak şekilde sıralanmıştır?

- A. Çilek toplayıp yedik bahçede.
- B. Bahçede çilek yedik toplayıp.
- C. Bahçede çilek toplayıp yedik.



Şule



Dayımlar dün  
almanyadan geldi.

Mert



Benim de ablam  
İngiltere'den gelecek

Erva



Bizim yurt dışında  
akrabamız yok.

6- Yukarıdaki öğrencilerden hangisinin  
cümlesinde yazım yanlışı vardır?

- A. Şule
- B. Mert
- C. Erva

Yusuf ( )tan aldığı kitabı  
okuyabildin mi( )

7- Yukarıdaki cümlede boş bırakılan  
kutulara hangi noktalama işareti  
yazılamaz?

- A. Soru işareti (?)
- B. Nokta (.)
- C. Kesme işareti (')

8- Aşağıdaki resimlerin hangisinde  
hayal unsuru bir olay yaşanmaktadır?



A.

B.



C.

"Tepenin **epeyce** aşağısına çadır  
kurduk."

9- Renkli yazılmış kelimenin yerine  
hangisi yazılırsa cümlelerin anlamı  
değişmez?

- A. yakınına
- B. yamacına
- C. oldukça

10- Aşağıdaki altı çizili kelimelerden  
hangisi "Neden" sorusunun cevabıdır?

- A. Mesut hastalandığı için okula  
gelemedi.
- B. Murat terleyince hasta oldu.
- C. Belma acıkınca mutfakta yemek  
yedi.



/ilkokulevim



/ilkokulevim



/ilkokulevim



/ilkokulevim





Bu test 10 sorudan oluşmaktadır.



2 deste



2 düzine

1- Emre'nin 36 şekeri vardır. Halası yukarıdaki şeker kutularının içinde bulunan 2 deste ve 2 düzine kadar daha şekeri Emre'ye hediye getiriyor. Buna göre Emre'nin toplam kaç şekeri olmuştur?

- A. 44      B. 66      C. 80

5-9-13--21-25-

2- Yukarıdaki örüntüye göre, ve şekillerine sırasıyla hangi sayılar denk gelir?


- A. 16 - 29  
B. 17 - 28  
C. 17 - 29

Emel 56, İpek 65, Yusuf 54 sayfa kitap okumuşlardır.

3- Hangi çocuğun okuduğu kitap sayfa sayısı 60'a daha yakındır?

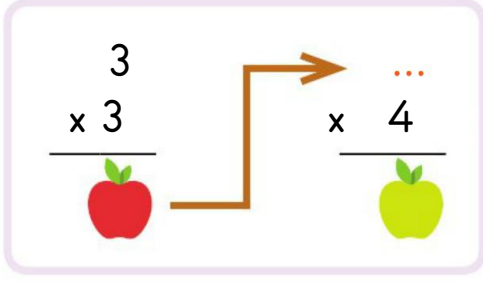
- A. Emel  
B. İpek  
C. Yusuf



4- Aşağıdaki hangi seçenekte sayıların tamamı tektir?



5- Marketten 48 TL'lik alışveriş yaptık. Kasiyere 80 TL verdik. Kaç TL para üstü almamız gerekir?





- 6- Yukarıdaki işlemde  ve  yerlerine gelecek sayıları toplarsak sonucu kaç buluruz?  
A. 27      B. 36      C. 45

Annem 48 tane eriğin 20 tanesini komşuya verdikten sonra kalanları 4 tabağa eşit şekilde paylaşmıştır.

- 7- Buna göre her tabakta kaç erik bulunmaktadır?  
A. 6      B. 7      C. 8



Efeler 1. gösterilen saatte Konya'ya gitmek için yola çıkmış, 2. Gösterilen saate ise Konya'ya varmışlardır.

- 8- Buna göre Efelerin yolculuğu kaç saat sürmüştür?  
A. 11      B. 8      C. 3

$$36 < \dots < 38$$



- 9- Şule yukarıdaki noktalı yere gelecek sayısı 79 sayısından çıkaracaktır. Sonucu kaç bulur?  
A. 32  
B. 37  
C. 42



Burcu



Eren

Eren 4 yaşında, Burcu ise Eren'den 5 yaş büyüktür.

- 10- Babaları 38 yaşında olduğuna göre Burcu babasından kaç yaş küçüktür?  
A. 24      B. 29      C. 33



Bu test 10 sorudan oluşmaktadır.




1- Etrafında deniz, göl, nehir olmayan bir yerde aşağıdakilerden hangisinin üretim faaliyeti yapılamaz?

- A. Arıcılık
- B. Balıkçılık
- C. Tavukçuluk

2- Kutladığımız milli ve dini bayramların en büyük yararı nedir?

- A. Ders çalışma sorumluluğu kazandırır.
- B. Birlik ve beraberliğimizi arttırır.
- C. Tasarruflu olmayı öğretir.

3- Aşağıdaki öğrencilerden hangisinin kullandığı ifade aile içinde yardımlaşma ve dayanışmaya örnek gösterilemez ?

- A.  Odamı kardeşime toplatırım.
- B.  Babama bahçede yardım ederim.
- C.  Anneme yemek yaparken yardım ederim.

İstiklal Marşı


Ay yıldızlı bayrağımız

Gençlik

4- Yukarıda verilenden kaç tanesi bağımsızlık simgemizdir?

- A. 1
- B. 2
- C. 3

5- Aşağıdaki çocuklardan hangisi bizim kültürümüzün dışında bir giyinme şekline sahiptir?



- A.
- B.
- C.



Burak bilgisayarında oyun oynarken birden üstteki bilgisayarda yazan mesaj çıkmıştır.

6- Buna göre Burak ne yapmalıdır?

- A Adını soyadını yazmalıdır.
- B Sadece adını yazmalıdır
- C Ailesine haber vermelidir



7- Bir yaya aşağıdakilerden hangisini yaparsa can güvenliğini tehlikeye sokar?

- A) Trafik polisinin kontrolünde karşıya geçerse,
- B) Karşıdan karşıya geçerken sağına ve soluna bakmazsa,
- C) Trafik ışıklarının bulunduğu yerden karşıya geçerse,

8- Aşağıdakilerden hangisi güvenli bir oyun alanı değildir?



A.



B.



C.



**Sinem:** Misafirlerin sofrada ne yediğini kontrol ederim.



**Yağız:** Yemekte çatal ve kaşık kullanmak zorunda değilim.



**Fatih:** Yemekten erken kalkmam gerekiyorsa izin isterim.

9- Yukarıdaki çocuklardan hangisinin davranışı doğrudur?

- A. Fatih
- B. Yağız
- C. Sinem

Kişisel bakımımıza her gün neden dikkat etmeliyiz?



10- Öğretmenin sorusuna hangi öğrenci doğru cevap vermiştir?

- A. Sema: "Öğretmenimiz her gün kontrol ettiği için."
- B. Can: "Ailem istediği için."
- C. Murat: "Sağlıklı büyümek ve gelişmek için."





That's a .....

**1-** Yukarıdaki cümlede boşluğa hangi kelime gelmelidir?

- A. ball
- B. television
- C. microphone



**2-** Yukarıdaki görselde yapılan eylem nedir?

- A. put
- B. cut
- C. eat



I .....

**3-** Yukarıdaki cümlede boşluğa ne gelmelidir?

- A. sing a song
- B. play football
- C. do puzzles



The ..... is in the box.

**4-** Yukarıdaki boşluğa hangi kelime gelmelidir?

- A. cat
- B. parrot
- C. fish



Come and eat the .....

**5-** Yukarıdaki boşluğa hangi kelime gelmelidir?

- A. bananas
- B. grapes
- C. oranges



Sevgili ÖĞRETMEN ve VELİLERİMİZ;  
Deneme Sınavına Teşekkür Mahiyetinde  
Sosyal Medya Sayfamızı Beğenirseniz  
Çok Mutlu Oluruz.

Aşağıdaki Linklerden Bizlere Ulaşabilirsiniz.

[www.ilkokulevim.com](http://www.ilkokulevim.com)

[www.instagram.com/ilkokulevim](https://www.instagram.com/ilkokulevim)

[www.facebook.com/ilkokulevim](https://www.facebook.com/ilkokulevim)

[www.facebook.com/groups/272489210266407/](https://www.facebook.com/groups/272489210266407/)

[t.me/ilkokulevim](https://t.me/ilkokulevim)

### 08/05/2020 KDS CEVAP ANAHTARI

TÜRKÇE	MATEMATİK	HAYAT BİLGİSİ	İNGİLİZCE
1-B	1-C	1-B	1-C
2-A	2-C	2-B	2-B
3-C	3-A	3-A	3-C
4-B	4-C	4-B	4-A
5-C	5-A	5-B	5-B
6-A	6-C	6-C	
7-B	7-B	7-B	
8-B	8-C	8-C	
9-C	9-C	9-A	
10-B	10-B	10-C	