
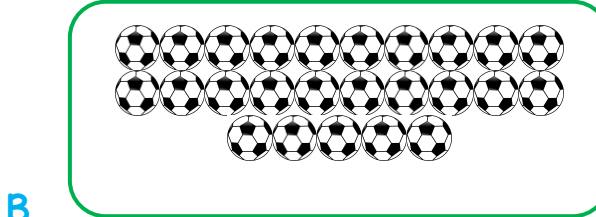





1. Aşağıdakilerden hangisinde nesne sayısı yanlış verilmiştir?



16



25



20

Yetmiş altı

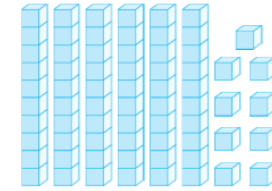


2. Yukarıdaki sayıyı yazmak için hangi rakamı kullanamayız?

A. 0

B. 7

C. 6



3. Yukarıdaki görselde modellenen sayı kaçtır?

A. 59

B. 96

C. 69





4. Yukarıda kelebek sayısı için hangisi doğrudur?

- A. 2 onluk 5 birlikten oluşur
- B. 2 onluk 6 birlikten oluşur.
- C. 2 onluk 7 birlikten oluşur.

5. 2 birlik 6 onluktan oluşan sayının yazılışı aşağıdaki hangi seçenekte doğru yazılmıştır?

- A. 62
- B. 46
- C. 26

6. Aşağıdaki nesne sayılarından hangisi onluk ve birliklerine yanlış ayrılmıştır?

Onluk	Birlik
1	9

Onluk	Birlik
2	2

Onluk	Birlik
1	7

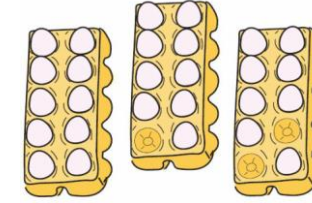




7. Aşağıdakilerden hangisi bir destedir?



8. Yukarıdaki köpeklerin sayısını en yakın hangi çocuk tahmin etmiştir?



9. Görselle ilgili verilen bilgilerden hangisi yanlıştır?

A. Yumurtaların sayısı 2 onluk 7 birlikten oluşmaktadır.

B. Yumurtaların sayısı üç desteden 3 eksiktir.

C. Yumurtaların sayısı iki düzineden 4 fazladır.



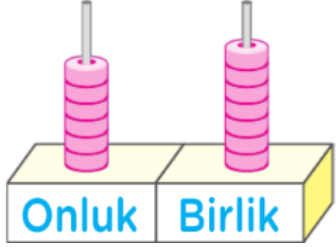
10. Seçeneklerden hangisi balonlardaki sayılardan birinin birler basamağındaki değer olamaz?

A. 5

B. 2


C. 8





II. Yandaki abaküste gösterilen sayı ile ilgili hangisi doğrudur?

- A. Rakamların basamak değeri toplamı 67'dir.
- B. Birler basamağındaki rakamın basamak değeri 60'tır.
- C. Onlar basamağındaki rakamın basamak değeri 7'dir.



Kaplumbağamız Mazlum marula ulaşmak için 4'den başlayarak dörder ritmik sayma yapacaktır.

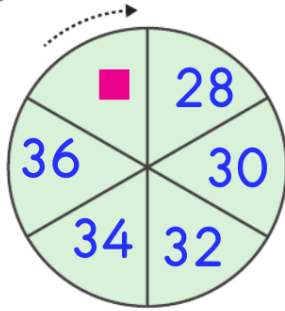
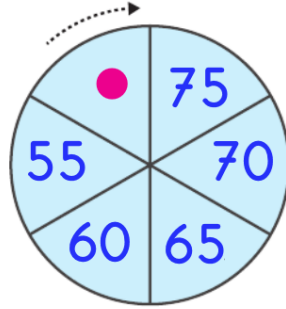
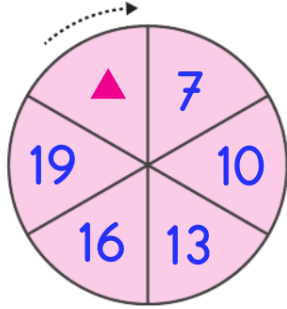
13. Buna göre kaplumbağamız Mazlum hangi sayıyı söylemez?

- A. 12
- B. 28
- C. 40




12. 48'den başlayıp üçer geri sayma yapacak olan Erdem beşinci sayı aşağıdakilerden hangisini söyler?

- A. 33
- B. 36
- C. 39



14. Yukarıda örüntüde şekillerin yerine hangi sayılar gelmelidir?

	▲	●	■
A.	22	45	38
B.	21	50	40
C.	22	50	38



15. Yukarıdaki civcivlerden numarası 40'dan büyük kaç sayı bulunmaktadır?

A. 2

B. 3

C. 4

■ $55 > 39 > 45$ ▲ $16 > 28 > 26$ ● $29 < 49 < 99$


16. Yukarıdaki sıralamalardan hangisi doğru yapılmıştır?

A. ■

B. ▲

C. ●





17. Modeli verilen sayının en yakın onluğu aşağıdakilerden hangisidir?

- A. 50 B. 60 C. 70



Buğra aklında tuttuğu sayıyı en yakın onluğa yuvarlayınca 40 bulmuştur.

18. Buna göre Buğra'nın tuttuğu sayı en fazla kaç olabilir?

- A. 39 B. 42 C. 44

▲ = birlik ● = onluk göstermektedir.



19. Buna göre yukarıda şekillerle modellenen sayı kaçtır?

- A. 54
B. 45
C. 49



20. 2 düzine kaleminin 4 tanesini arkadaşına veren Eren'in kaç kalemi kalmıştır?

- A. 12
B. 20
C. 28



İLKOKULA DAİR HER ŞEY BU SİTEDE

1. Sınıf



3. Sınıf

2. Sınıf

4. Sınıf

- * Konu Anlatımları
- * Konu Özetleri
- * Etkinlikler
- * Çalışma Kağıtları
- * Tarama Sınavları
- * Deneme Sınavları

- * Masal Köşesi
- * Hikaye Köşesi
- * Oyun Köşesi
- * Kitap Köşesi
- * Film Köşesi

MATEMATİK TARAMA SINAVI I

- | | |
|------|------|
| 1 C | 11 A |
| 2 A | 12 B |
| 3 C | 13 C |
| 4 C | 14 C |
| 5 A | 15 B |
| 6 B | 16 C |
| 7 C | 17 B |
| 8 B | 18 C |
| 9 C | 19 A |
| 10 C | 20 B |

Sevgili ÖĞRETMEN ve VELİLERİMİZ;
Deneme Sınavına Teşekkür Mahiyetinde
Sosyal Medya Hesaplarımızı Beğenirseniz Çok
Mutlu Oluruz.

Aşağıdaki Linklerden Bizlere Ulaşabilirsiniz.

www.ilkokulevim.com

www.instagram.com/ilkokulevim

www.facebook.com/ilkokulevim

www.facebook.com/groups/272489210266407/

t.me/ilkokulevim