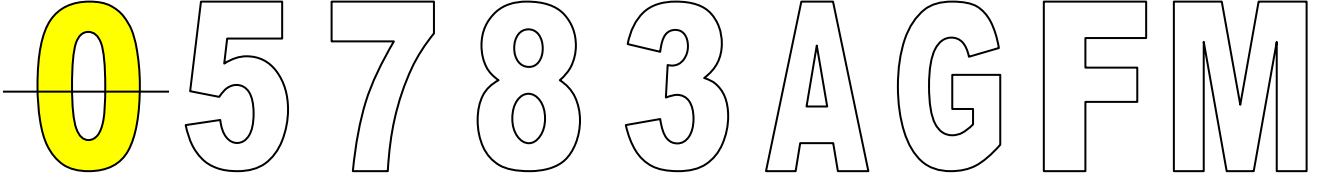


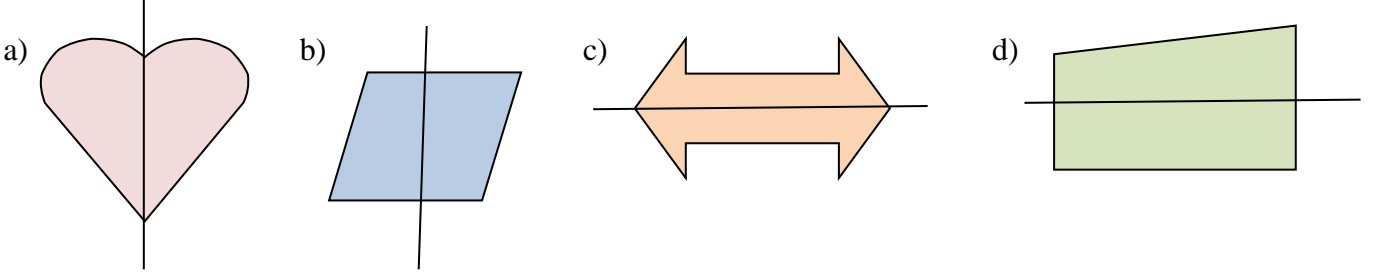


## SİMETRİ


Aşağıdaki rakamlardan ve harflerden hangileri iki eş parçaya ayrılabilir? Ayrılabilenleri örnekteki gibi ayıralım.



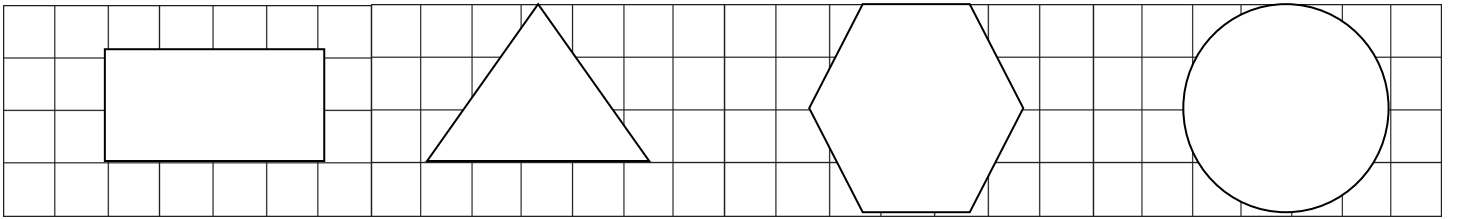
Aşağıdaki şekillerden hangileri simetri çizgisiyle iki eş parçaya ayrılmıştır? İşaretleyelim.



Aşağıdaki şekillerden hangileri simetriktir? Altındaki kutucuklara işaretleyelim.



Aşağıdaki şekilleri bir çizgi ile simetrik olarak bölünüz.



Aşağıdaki verilen şekillerin katlama çizgilerine göre simetriğini çizin.

