



## 2 .SINIF MATEMATİK ÇALIŞMA KAĞIDI

Adı:  
Soyadı:  
Sınıf:

Okul No:

### Onluk ve Birlik Çalışması


Aşağıdaki verilen nesne sayılarını örnekteki gibi gösterimini yapalım




Onluk	Birlik
2	4
24	



Onluk	Birlik



Onluk	Birlik



Onluk	Birlik




Onluk	Birlik

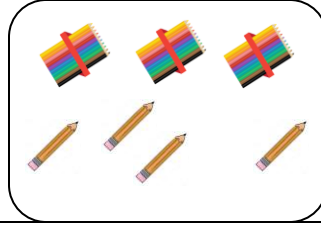


# Onluk ve Birlik Çalışması

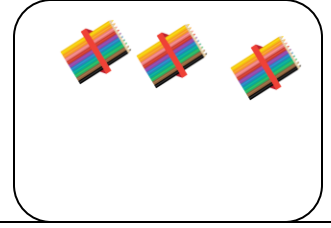
Aşağıdaki çoklukların onluk ve birlik sayılarını altlarına yazalım.




.....onluk.....birlik




.....onluk.....birlik



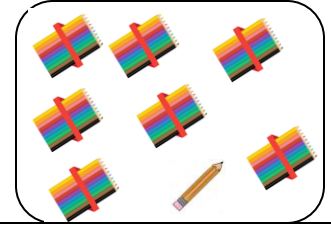
.....onluk.....birlik



.....onluk.....birlik



.....onluk.....birlik



.....onluk.....birlik

Aşağıda onluk ve birlikleri verilen sayıları örnekteki gibi yazalım.

8 onluk+4 birlik

84

3 onluk+5 birlik

4 onluk+8 birlik

5 onluk+0 birlik

84

0 onluk+9 birlik

6 onluk+3 birlik

9 onluk+7 birlik

84

2 onluk+0 birlik

0 onluk+1 birlik

