



KESİRLER



1 BÜTÜN = 2 YARIM = 4 ÇEYREK eder.

Aşağıda verilen parçaların kaç bütün oluşturduğunu yazalım.



..... yarımçeyrek =..... bütün eder.



..... yarımçeyrek =..... bütün eder.



..... yarımçeyrek =..... bütün eder.



..... yarımçeyrek =..... bütün eder.



..... yarımçeyrek =..... bütün eder.



Aşağıdaki noktalı yerleri dolduralım.

4 bütün = yarım eder.

3 yarım = çeyrek eder.

8 çeyrek = yarım eder.

8 çeyrek = bütün eder.

10 yarım = bütün eder.

3 bütün = çeyrek eder.

12 çeyrek = yarım eder.

14 yarım = bütün eder.

10 bütün = yarım eder.

5 yarım = çeyrek eder.

24 çeyrek = bütün eder.

16 çeyrek = yarım eder.

Aşağıda verilen soruları şekiller çizerek sonuçları bulalım.

3 bütünden kaç yarım oluşur?



$2+2+2=6$ yarım eder.

8 yarımdan kaç bütün oluşur?

4 bütünden kaç çeyrek oluşur?

12 çeyrekten kaç bütün oluşur?





Aşağıda verilen görsellerin kaç bütün olduklarını altındaki uygun yerlere yazalım.



..... yarım.....bütün eder.



..... çeyrek.....bütün eder.



..... çeyrek.....bütün eder.



..... yarım.....bütün eder.




..... yarım.....bütün eder.




..... çeyrekbütün eder.

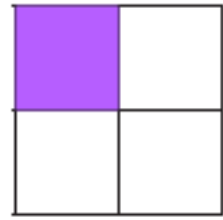
Aşağıdaki şekillerin ne kadarının boyalı olduğunu işaretleyiniz.



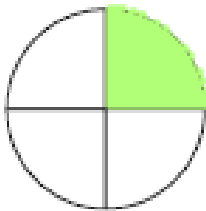
Bütün
Yarım
Çeyrek




Bütün
Yarım
Çeyrek



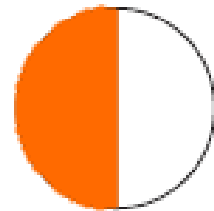
Bütün
Yarım
Çeyrek



Bütün
Yarım
Çeyrek



Bütün
Yarım
Çeyrek

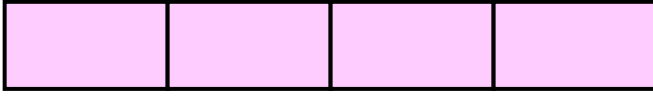


Bütün
Yarım
Çeyrek

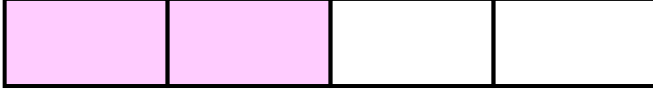




Aşağıdaki şekillerin ne kadarını boyandığını karşlarına yazınız.



.....



.....




.....

Aşağıdaki şekillerin belirtilen kadarını boyayınız.



Yarım



Çeyrek



Bütün

Aşağıdaki noktalı yerleri dolduralım.

6 bütün = yarım eder.

6 yarım = çeyrek eder.

4 çeyrek = yarım eder.

16 çeyrek = bütün eder.

18 yarım = bütün eder.

5 bütün = çeyrek eder.

24 çeyrek = yarım eder.

20 yarım = bütün eder.

14 bütün = yarım eder.

11 yarım = çeyrek eder.

28 çeyrek = bütün eder.

26 çeyrek = yarım eder.

