

www.ilkokulevim.com

2.SINIF

KAZANIMI DEĞERLENDİRME SINAVI

TÜRKÇE

MATEMATİK

HAYAT BİLGİSİ

İNGİLİZCE

YAYIN TARİHİ
02 KASIM
2020



Teneffüs zili çalmıştı. Eymen bahçede arkadaşlarıyla yakan top oynayacaktı. Hızla sınıftan çıktı. Koridorda koşarken arkadaşı Mirza'ya çarptı. Mirza yere düştü. Omuzu acımıştı ve ağlıyordu. Eymen okul kurallarını ihmal ettiği için çok üzülmüştü.

1 ve 2. soruları metne göre cevaplayınız.




1- Bu metnin konusu aşağıdakilerden hangisidir?

- A. Yakan top oyununun kuralları
- B. Eymen'in sevdiği oyunlar
- C. Eymen'in arkadaşı Mirza'ya çarpması

2- Eymen arkadaşına nerede çarpmıştır?

- A. Kapı önünde
- B. Koridorda
- C. Bahçede

3- Aşağıdaki varlıklardan hangisi daha çok heceye sahiptir?

- A. 
- B. 
- C. 



Uzun ve büyük bir çam ağacıydı.



İnanıp inanmadığını bilmiyorum



Sabah yola çıkıp, akşam döndü.

4 - Yukarıdaki hangi cümlede zıt anlamlı sözcükler bir arada kullanılmıştır ?

A.



B.



C.



bu - hayvanıydı - fil
ormanın - büyük - en

5- Yukarıda karışık verilen sözcükler hangi seçenekte kurallı ve anlamlı bir cümle olacak şekilde sıralanmıştır?

- A. Bu ormanın en büyük fil hayvanıydı.
- B. Fil, bu ormanın en büyük hayvanıydı.
- C. Bu ormanın en büyük hayvanıydı fil.



Şule



fırın-hasat-gelincik

Mert



sabır- turp -pelikan

Erva



şeker - şiiir - üzüm

6- Yukarıdaki öğrencilerden hangisi sözcükleri sözlük sırasına göre doğru sıralamıştır?

- A. Şule
- B. Mert
- C. Erva

66
Mert koşu yarışında herkesi geçti.
66

7- Yukarıdaki cümlede bulunan "geçti" sözcüğü hangi cümledekiyle aynı anlamda kullanılmıştır.

- A. Otobüs , kamyonu süratle geçti.
- B. Annem bahçeden eve geçti.
- C. Onun hastalığı bana geçti.

8- Aşağıdaki hangi seçenekteki tüm kelimeler hecelerine yanlış ayrılmıştır?

- A. O-kul-lar hiç ka-pan-ma-sın.
- B. Vi-rü-se kar-şı ted-bir-li o-la-lım.
- C. El-le-ri-ni sık sık yık-a-ma-lı-sın.

Başöğretmen Atatürk

Yurdun ilk eğitmeni.

Emanet aldık senden,

Kurduğun ilk cumhuriyeti.


Birkan SOYLU

9- Şiirin konusu hangi seçenekte doğru verilmiştir?

- A. Öğretmen
- B. Atatürk
- C. Okul

Kanadı var kuş değil
Kuyruğu var at değil

10- Yukarıdaki bilmecede anlatılan varlık aşağıdakilerden hangisidir?



/ilkokulevim



/ilkokulevim



/ilkokulevim

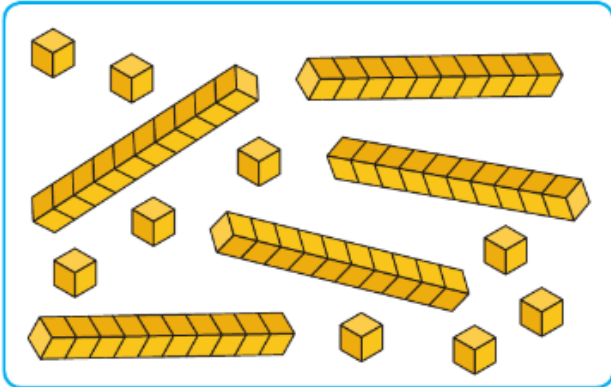
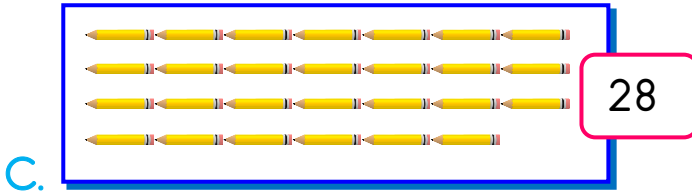

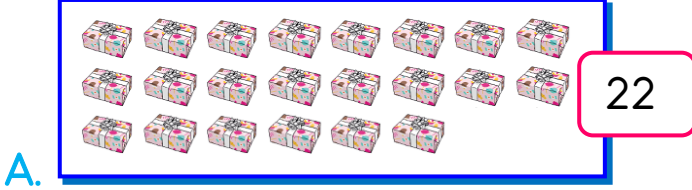


/ilkokulevim



Bu test 10 sorudan oluşmaktadır.

1- Aşağıda verilen nesne sayılarından hangisi hatalıdır?



2- Yukarıdaki onluk ve birlik bloklarla gösterilen sayının değeri kaçtır?

A. 49 B. 57 C. 59



3- Aşağıdaki sayılardan hangisinin basamak değeri yanlış gösterilmiştir?

A. 69

B. 82

C. 47

4- Aşağıdaki hangi seçenekte verilen sayıların tamamı 35'ten büyüktür?



5- Aşağıdaki görselleri bir düzineye tamamlamak istersek hangisine daha fazla nesne çizmeliyiz?



2'şer geriye ← 3'er ileriye →



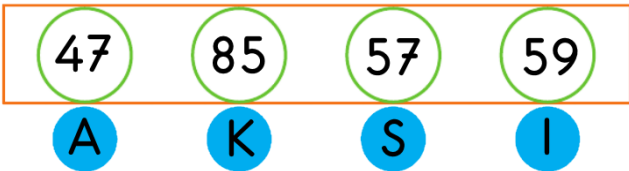
6- Yukarıda verilen sayı örüntüsü kuralına göre kare ve üçgen yerlerine gelecek sayıları toplarsak sonuç kaç eder?

- A. 30
- B. 32
- C. 34

Erva 25'ten başlayıp ileriye doğru 5'erli ritmik sayma yapacaktır.


7- Buna Erva'nın söylediği 7.sayı kaçtır?

- A. 50
- B. 55
- C. 60



8- Yukarıdaki sayılar büyükten küçüğe doğru sıralanırsa eşleştikleri harflerle hangi sözcük oluşur?

- A. KISA
- B. ASIK
- C. ASKI



Anne tavuğumuzun 3 yavrusu da birbirinin aynısı olduğu için onları daha ayırt etmeye karar verdi ve üzerlerine sayı kodlamaya karar verdi. Yavrulardan birinciye 17 ile 19 arasındaki sayıyı kodladı. İkinciye 25'ten bir önceki sayıyı kodladı. Üçüncü civcive ise basamak değeri 3 onluk 2 birlikten oluşan sayıyı kodlamıştır.

9- Aşağıdakilerden hangisi anne tavuğun kodladığı sayılardan birisi değildir?

- A. 32
- B. 18
- C. 26

Burcu 3■ sayısını en yakın onluğa yuvarlama işlemi yaptığında sonucu 40 bulmaktadır.

10- Yukarıdaki bilgiye göre Burcu ■ yerine hangi rakamı yazamaz?

- A. 4
- B. 6
- C. 9





Bu test 10 sorudan oluşmaktadır.

Davranışlar	Olumlu	Olumsuz
İtmek		
Kıskanmak		
Çabalamak		

1- Tabloda davranışlar ✓ atılarak doldurulduğunda hangi seçenek doğru olur ?

- A.

✓	
	✓
✓	




 B.

	✓
	✓
✓	

 C.

✓	
✓	
	✓

2- Aşağıdaki ifadelerden hangisi yanlıştır?

- A.  Sınıf kurallarımıza sınıfımızdaki herkes uymalıdır.
- B.  Sınıfımızın kurallarını okul müdürümüz belirler.
- C.  Bir konu hakkındaki düşüncelerimi kibarca anlatırım.

3- Aşağıdakilerden hangisi yardımlaşma örneği olamaz?

- A. Arkadaşım sınavda soruları yapamazsa ona söylerim.
- B. Yaşlı kişileri karşıdan karşıya geçmesinde onlara eşlik ederim.
- C. Dedemin yorulmaması için bahçeyi sularım.

Saçlarım sarı renklidir.

Müzik alanında yetenekliyimdir.

En sevdiğim ders Matematiktir.

4- Yukarıda verilenden kaç tanesi fiziksel özellik belirtmektedir?

- A. 1 B. 2 C. 3

■ Kaynakların dikkatli kullanılmasına tasarruf denir.

▲ Kaynaklar sınırsız değildir.

★ Kaynakları dilediğimiz gibi kullanabiliriz.

5- Aşağıdaki hangi seçenekte yukarıdaki bilgilerden doğru olanları gösteren ifadelerin şekilleri verilmiştir?

A. ■, ▲

B. ▲, ★

C. ■

6- Aşağıdaki ifadelerden hangisi oyun oynarken uygun bir dil değildir?

A. Nasıl yendik sizi ama oyunu öğrenin de gelin.

B. Sıra bende. Lütfen topu bana verir misin?

C. Üzülme arkadaşlar. Bir sonraki oyunu kazanabilirsiniz.



► Türkçe dersi için çantama koyarım.

► Matematik dersi için çantama koyarım.


► Müzik dersi için çantama koyarım.


7- Yukarıdaki cümlelerde boş bırakılan yerlere hangi seçenekte verilenler yazılmalıdır?


Türkçe Matematik Müzik

- A. sözlük boya melodika
 B. cetvel defter sayı çubuğu
 C. sözlük abaküs flüt

8- Aşağıdaki öğrencilerden hangisi grup çalışmasıyla ilgili yanlış bilgi vermiştir?

A.  Grup çalışmalarında ortak kararlar alınmalıdır.

B.  Grup çalışmalarında iş bölümü yapılmalıdır.

C.  Grup çalışmalarında sadece bir kişinin sözü geçmelidir.



9- Okulu tarif etmek isteyen biri hangi seçenekteki bilgiyi verirse yanlış olur?

- A. Okul Cumhuriyet Caddesi'nde yer almaktadır.
 B. Okul Vatan Sokak'ta yer almaktadır.
 C. Okulun yanında sağlık ocağı bulunmaktadır.



10- Yukarıdaki sınıfla ilgili verilen bilgilerden hangisi doğrudur?

- A. Öğrenciler okul eşyalarına gereken özeni göstermektedirler.
 B. Ülke, okul ve aile bütçesine zarar vermektedirler.
 C. Bu sınıftaki öğrenciler çok başarılıdır.



1- Yukarıdaki görseli anlatan kelime hangisidir?

- A. Cake
- B. Lemon
- C. Yoghurt



That is
balloon.



2- Yukarıdaki cümlede noktalı yere ne yazılmalıdır?


- A. a
- B. an
- C. the

Ahmet öğretmenin verdiği İngilizce kelimelerin karşısına Türkçe anlamlarını yazmaktadır.

3- Ahmet aşağıdaki kelimelerden hangisinin anlamını yazarken hata yapmıştır?

- A. ambulance - ambulans
- B. kangaroo - kanguru
- C. teacher - doktor

4- Aşağıdaki varlıkların hangisinde İngilizce kelime yazılışlarında yan yana aynı harf yoktur?



5- Yukarıdaki görseli anlatan kelime aşağıdakilerden hangisidir?

- A. hamburger
- B. cake
- C. coffee



/ilkokulevim



/ilkokulevim



/ilkokulevim



/ilkokulevim

İLKOKULA DAİR HER ŞEY BU SİTEDE

1. Sınıf



3. Sınıf

2. Sınıf

4. Sınıf

- * Konu Anlatımları
- * Konu Özetleri
- * Etkinlikler
- * Çalışma Kağıtları
- * Tarama Sınavları
- * Deneme Sınavları

- * Masal Köşesi
- * Hikaye Köşesi
- * Oyun Köşesi
- * Kitap Köşesi
- * Film Köşesi

Sevgili ÖĞRETMEN ve VELİLERİMİZ;
Deneme Sınavına Teşekkür Mahiyetinde
Sosyal Medya Sayfamızı Beğenirseniz
Çok Mutlu Oluruz.

Aşağıdaki Linklerden Bizlere Ulaşabilirsiniz.

www.ilkokulevim.com

www.instagram.com/ilkokulevim

www.facebook.com/ilkokulevim

www.facebook.com/groups/272489210266407/

t.me/ilkokulevim

02/11/2020 KDS CEVAP ANAHTARI

TÜRKÇE	MATEMATİK	HAYAT BİLGİSİ	İNGİLİZCE
1-C	1-C	1-B	1-B
2-B	2-C	2-B	2-A
3-A	3-B	3-A	3-C
4-C	4-C	4-A	4-C
5-B	5-A	5-A	5-B
6-C	6-C	6-A	
7-A	7-B	7-C	
8-C	8-A	8-C	
9-B	9-C	9-B	
10-C	10-A	10-B	