

1.SINIF

ARA TATİL

DEĞERLENDİRME SINAVI

www.ilkokulevim.com





ATATÜRK

Atatürk Selanik'te doğdu. Annesinin adı Zübeyde Hanım, babasının adı Ali Rıza Efendidir. Atatürk ilkokul bitince askeri okula gitti. Öğretmeni ona Kemal adını verdi. Askeri okulu bitirerek subay oldu. Orduya katıldı.

Atatürk yurdumuzu düşmanlardan kurtardı. Cumhuriyeti kurdu. Yenilikler yaptı. 10 Kasım'da İstanbul'da öldü.

1. ve 2. soruları metne göre cevaplayalım.

1- Aşağıdakilerden hangisini Atatürk yapmamıştır?

- A) Cumhuriyeti kurdu.
- B) Yenilikler yaptı.
- C) İstanbul'u başkent yaptı.

2- Atatürk hangi okulu bitirince subay oldu?

- A) Askeri Okul
- B) İlkokul
- C) Ortaokul

3- Aşağıda görselde verilen varlıkların hangisinin hece sayısı daha fazladır?






Tilkinin biri ormanda bir gün geziyormuş.

4- Yukarıdaki cümle kaç sözcükten oluşmaktadır?



5- "kanepe" sözcüğünün ilk hecesi hangi seçenekteki görselin adında hece olarak kullanılmıştır?



1

yardım

2

dedeme

3

bahçede

4

ettim

6- Yukarıdaki kelimelerle kurallı bir cümle oluşturmak istersek sıralama nasıl olur?





7- Yukarıda verilen harfler kullanarak hangi sözcük yazılamaz?

A) kara

B) arka

C) arsa



8- Aşağıdakilerden hangisi yandaki kelimenin zıt anlamlısıdır?

A) kalın

B) hafif

C) yumuşak

1- Okul

2- Kitap

3- Mektep

9- Yukarıdaki eş anlamlı kelimeler eşleştirilirse kaç numaralı sözcük dışarıda kalır?

A) 1

B) 2

C) 3

10- Aşağıdaki isimlerden hangisi özel isimdir?



A) Pamuk



B) Elma





C) Çanta





1 ve 2. sorulara görsele göre cevap veriniz.

1- Tavuğa en yakın hayvan hangisidir?



2- İneğin üstündeki hayvan aşağıdakilerden hangisidir?



3- Görsele göre aşağıdakilerden hangi ifade doğrudur?

- A) Sarman, Tekir'den hafiftir.
B) Tekir , Sarman'dan hafiftir.
C) İkisinin ağırlığı da eşittir.




4- Yukarıda verilen ritmik sayfada boş bırakılan kutulara sırasıyla hangi sayılar yazılmalıdır?

- A) 6-13
- B) 5-13
- C) 6-14



Görseldeki tavuğumuzun 14 tane yavrusu vardır.

5- Buna göre hangi seçenekteki civcivler bu tavuğun yavruları olabilir?




Dedemin 9 keçisi vardı. Aşağıdaki görseldeki kadar daha keçi aldı.



6- Dedemin kaç keçisi olmuştur?

- A) 16
- B) 15
- C) 14



Yukarıda bir çıkarma işleminin görsel ifadesi verilmiştir.

7- Buna göre bu çıkarma işleminin sonucu kaçtır?

A) 7

B) 5

C) 6



8- Yukarıda verilen işlemlerden hangisinin sonucu en büyüktür?



9- Yukarıdaki paralar ile aşağıdakilerden hangisini satın alabiliriz?



18 TL

17 TL

16 TL



Beyza'nın 17 tane cevizi vardır. Beyza bunların 9 tanesini kardeşi Murat'a vermiştir. Beyza'nın cevizlerinin azaldığını göre annesi ona aşağıda görselde verilen cevizleri vermiştir.



10- Yukarıda verilen bilgilere göre Beyza'nın kaç cevizi vardır?

- A) 9
- B) 11
- C) 13



1- Yandaki olayla karşılaşan bir kişinin yapması gereken ilk şey nedir?

- A) Hemen oradan uzaklaşmalıdır.
- B) 112'yi arayarak hemen ambulans istemelidir.
- C) Hemen yaralılara müdahale etmelidir.

2- Aşağıdakilerden hangisi alt geçidi ifade etmektedir?




Erdem ve ailesi akşam yemeği yemek için masaya oturmuşlardır.

3- Buna göre Erdem'in aşağıdaki davranışlarından hangisini yapması yanlış olur?

- A) Tabağına yiyebileceği kadar yemek alması.
- B) Yemek yerken büyükleriyle sürekli sohbet etmesi.
- C) Büyükleri oturduktan sonra masaya oturması.





4- Yukarıda verilenlerden hangileri kişisel eşyaya örnektir?

A) 1 ve 2

B) 2 ve 3

C) 1 ve 3

Üç öğrenci öğle yemeklerinde yedikleri yemekleri söylemişlerdir.

5- Buna göre hangi öğrencilerin sağlıklı beslendiğini söyleyebiliriz?

A)  hamburger, ayran

B)  pizza, kola

C)  fasulye, salata








6- Aşağıda verilen seçeneklerden hangisi bir istektir?



7- Aşağıdaki seçeneklerin hangisinde çocuk evindeki kaynakları tasarruflu kullanmaktadır?



8- Aşağıdakilerden hangisi matematik dersinde kullanılan bir araç gereçtir?








Okul koridorundan hızla koşarak bahçeye çıkan Arda arkadaşı Nazlı'ya çarpmıştır.

9- Bu durumda Arda hangi davranışı sergilerse doğru yapmış olur?

- A) Bir şey söylemeden yanından ayrılmalıdır.
- B) Nazlı'ya kızmalıdır.
- C) Özür dileyip onu yerden kaldırmalıdır.

10- Aşağıdakilerden hangisi okulla ilgili olumlu bir düşünce değildir?

- A)  Okulda yeni bilgiler öğrenerek kendimi geliştiriyorum.
- B)  Okuma yazmayı okulda öğrendiğim için çok mutluyum
- C)  Okulda çok sıkılıyorum.