

# 1.SINIF

## KAZANIM DEĞERLENDİRME SINAVI-2



TÜRKÇE 10 SORU  
MATEMATİK 10 SORU  
HAYAT BİLGİSİ 10 SORU

**SINAV SÜRESİ**  
60 DAKİKA

## TÜRKÇE TESTİ

(Bu testte; 10 Türkçe, 10 Matematik ve 10 Hayat Bilgisi sorusu vardır. Süre 60 dakikadır.)

Mustafa çok çalışkan, zeki ve başarılı bir öğrenciydi. En çok matematik dersini seviyordu. Bir gün matematik öğretmeni Mustafa'ya:  
– Senin adın da Mustafa, benimki de! Bundan sonra senin adın Mustafa Kemal olsun, dedi.



O günden sonra Mustafa'nın adı Mustafa Kemal oldu.




F. Rıfki ATAY

1. Yukarıdaki paragrafa göre aşağıdakilerden hangisi söylenemez?
- A) Mustafa, çok çalışkan, zeki ve başarılı bir öğrencidir.  
B) Paragrafta Mustafa Kemal Atatürk'ten söz edilmektedir.  
C) Mustafa'ya "Kemal" adını Türkçe öğretmeni vermiştir.

Yaşlılara yardım ettiğimde çok mutlu oluyorum ( )	Bu masal kitabını sana kim verdi ( )
Dedem, Atatürk'ün hayatını bana anlattı ( )	Eyyah! Komşunun evinde yangın çıkmış ( )

Ezgi yukarıdaki tablodan sonuna nokta konulması gereken cümleleri buluyor ve bu bölümleri boyuyor.

2. Buna göre, tablonun boyalı şekli nasıl olur?



3. "Elif ile ayşe ankaraya gitmişler." cümlesinin doğru yazımı hangi seçenekte verilmiştir?

- A) elif ile ayşe Ankara'ya gitmişler.
- B) Elif ile Ayşe Ankara'ya gitmişler.
- C) Elif ile Ayşe ankaraya gitmişler.

- Zeynep (1) annesine hediye almış.
- Bütün insanları sevmeliyiz (2)
- Bugün derse niçin geç geldiniz (3)

4. Yukarıdaki cümlelerde 1, 2 ve 3 numara ile gösterilen yerlere hangi seçenekte verilen noktalama işaretleri konulmalıdır?

- |    | <u>1</u> | <u>2</u> | <u>3</u> |
|----|----------|----------|----------|
| A) | (.)      | (?)      | (.)      |
| B) | (.)      | (.)      | (?)      |
| C) | (.)      | (.)      | (.)      |

5. Aşağıdaki şehir isimlerinden hangisi ünlü (sesli) harfle başlamıştır?

- A) Konya
- B) İzmir
- C) Bursa



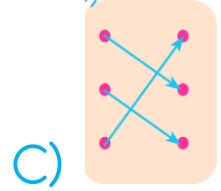
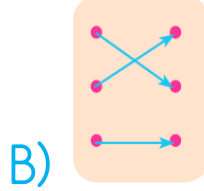
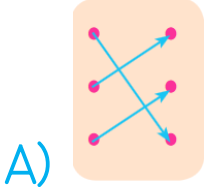
6. Yandaki çiçeğin yapraklarına yazılan sözcüklerden birbiriyle zıt anlamlı olanlar boyanırsa hangi sözcüğün yazıldığı yaprak boyanmaz?

- A) sıcak
- B) sabah
- C) içeri

## TÜRKÇE TESTİ

büyük •      • taze  
uzun •        • küçük  
bayat •       • kısa

7. Yukarıdaki kelimeler ve zıt anlamlıları arasında eşleştirme yapılırsa doğru eşleştirme nasıl olur?



1. balığı

2. hızlı

3. yüzer

4. köpek

8. Yukarıdaki kelimelerle kurallı ve anlamlı bir cümle oluşturulursa cümle hangi sözcükle biter?

A) yüzer

B) köpek

C) hızlı

Bir yılda dört mevsim var.  
Önce gelir ilkbahar  
Sonra yaz, sonbahar, kış  
Her mevsime uy, çalış!



Baharda kuşlar öter,  
Taze çimenler biter,  
Her taraf çiçek dolar.  
Koşar minik kuzular.

9. Yukarıdaki şiire göre aşağıdakilerden hangisi söylenemez?

A) Şiirde bahar mevsiminin özellikleri anlatılmıştır?

B) Şiirde zıt anlamlı sözcükler kullanılmamıştır.

C) Şiirin başlığı "Mevsimler" olabilir.

Kayra, Tuğra, Buğra ve Serra adlı dört arkadaş 4 katlı bir apartmanda oturmaktadırlar.

Bu arkadaşların evlerinin bulunduğu katlar ile ilgili şu bilgiler verilmiştir:

- Serraların evleri apartmanın en alt katındadır.
- Kayraların evi Tuğraların evinin bir alt katındadır.
- Buğraların evi Serraların evinin üst katındadır.

**10. Buna göre, aşağıdakilerden hangisi söylenemez?**

- A) Tuğraların evi apartmanın dördüncü katındadır.  
B) Kayraların evi apartmanın ikinci katındadır.  
C) Buğraların üst katında Kayralar oturmaktadır.

**Türkçe Testi Bitti. Matematik Testine Geçiniz.**



4. Aşağıdaki işlemlerden hangisi yanlış yapılmıştır?

A) 
$$\begin{array}{r} 10 \\ + 8 \\ \hline 18 \end{array}$$

B) 
$$\begin{array}{r} 13 \\ + 7 \\ \hline 20 \end{array}$$

C) 
$$\begin{array}{r} 14 \\ + 6 \\ \hline 19 \end{array}$$

5. 8 fazlası 19 olan sayıya 4 eklersek sonuç kaç olur?

A) 11

B) 13

C) 15

$$\begin{array}{r} 9 \rightarrow \dots\dots\dots \\ - 3 \rightarrow \dots? \dots \\ \hline 6 \rightarrow \dots\dots\dots \end{array}$$

6. Yandaki çıkarma işleminde (?) ile belirtilen terime ne ad verilir?

A) Çıkan

B) Fark

C) Eksilen

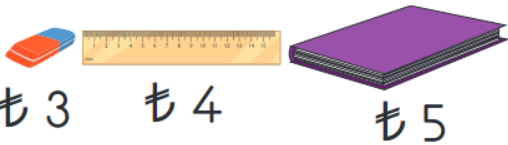
Bir köylü pazara götürdüğü 15 tavuğun 9'unu satıyor.

7. Buna göre, kalan tavukların sayısını gösteren işlem hangi seçenekte doğru verilmiştir?

A)  $15 - 9 = 7$

B)  $15 - 9 = 6$

C)  $9 + 6 = 15$



8. Yukarıdaki ürünlerden 2 silgi ve 1 defter alan Yağız kırtasiyeciyeye kaç TL öder?

A) 10

B) 11

C) 12

## MATEMATİK TESTİ

Ayşe 6 yaşındadır. Abisi Ayşe'den 5 yaş büyüktür.

9. Buna göre, Ayşe ile Cemil'in yaşları toplamı kaçtır?

A) 11

B) 14

C) 17



10. Aklımda tuttuğum sayının 9 fazlası 17 ise bu sayı kaçtır?

A) 6

B) 7

C) 8

Matematik Testi Bitti. Hayat Bilgisi Testine Geçiniz.



## HAYAT BİLGİSİ TESTİ

Bir arkadaşınız, fiziksel engelli ve işitme cihazı kullanmaktadır.

1. Bu arkadaşınıza karşı hangi davranış yanlış olur?

- A) Engelinden dolayı onunla alay etmek
- B) Sürekli ön sırada oturmasını sağlamak
- C) Onu olduğu gibi kabul etmek ve değer vermek

2. Aşağıdaki görsellerden hangisi okul kurallarına uygun bir davranışı anlatmaktadır?



İFADELER	D/Y
Oyun oynarken kurallara uymalıyız.	
Sevdiğimiz arkadaşlarımızı öncelikle oyuna almalıyız.	
Oyunu kazanan arkadaşlarımızı tebrik etmeliyiz.	

3. Yukarıdaki tabloda oyunla ilgili ifadelerden doğru olanlara (D), yanlış olanlara (Y) yazılarak tablonun "Doğru-Yanlış" bölümü doldurulursa bu bölüm nasıl olur?

- A) D - D - D
- B) Y - D - Y
- C) D - Y - D

- 1) Evimizin adresini ve telefon numarasını bilmeliyiz.
- 2) Ev adresimizi ve telefon numaramızı yanımızda bulundurmalıyız.
- 3) Ev adresimizi ve telefon numaramızı herkese söylememeliyiz.
4. Yukarıdaki ifadelerden hangisi ya da hangileri doğrudur?
  - A) 1 ve 2
  - B) 2 ve 3
  - C) Yalnız 3

Televizyonu yakından izlememeliyiz.

Müzik dinlerken sesini duyabileceğimiz kadar açmalıyız.

Zamanımızın çoğunu televizyon izleyerek geçirmeliyiz.

5. Yukarıdaki zeminlerden hangisinde yazılı olan ifade yanlıştır?
  - A) Turuncu
  - B) Pembe
  - C) Mavi

6. Aşağıdaki davranışlardan hangisi doğrudur?
  - A) Beslenme malzemelerini doğrudan sıranın üstüne koymak
  - B) Yiyecekleri oturarak ve çatalla yemek
  - C) Arkadaşlarından izinsiz beslenmesini alıp, yemek

7. Aşağıdakilerden hangisi yaz mevsimine ait bir sebzedir?



8. Aşağıdakilerden hangisi güvenliğimizi tehlikeye atacak bir davranıştır?

- A) Ocağı açık bırakmak
- B) Islak zeminlerde dikkatli yürümek
- C) Kablo ve prizlerle oynamamak

9. Aşağıdaki görsellerden hangisi trafikte yanlış bir davranışı anlatmaktadır?



10. Ulaşım araçlarıyla yolculuk yaparken aşağıdakilerden hangisini yapmamalıyız?

- A) Aracın pencerelerinden kolumuzu az da olsa çıkarmalıyız.
- B) Çocuk isek, arkada çocuk koltuğunda oturmalıyız.
- C) Emniyet kemerini takmalıyız

Hayat Bilgisi Testi Bitti. Soruların Çözümlerini İlkokulevim Youtube Kanalından İzleyebilirsiniz.