

**1.SINIF  
KAZANIM  
DEĞERLENDİRME  
SINAVI**

[www.ilkokulevim.com](http://www.ilkokulevim.com)





Ahmet heyecanla topunu alarak sahaya indi. Bütün arkadaşları maça başlamak için onu bekliyordu. Bu maç çok önemliydi. Çünkü aşağı mahalleye en son maç yenilmişlerdi. Yukarı mahallenin takımı olarak bu maçı kesinlikle kazanmaları gerekiyordu. Ahmet unutamayacağı maçlardan birini oynadı. Aşağı mahalleyi 8'e 3 farkla yenmişlerdi. Takım arkadaşlarının 5 gol attığı maçta geri kalan golleri Ahmet atmıştı...

**(İlk 3 soruyu yukarıdaki metne göre cevaplayın)**

**1-** Metne en uygun başlık aşağıdakilerden hangisidir?

- A) Ahmet ve Arkadaşları
- B) Ahmet'in Mahalle Maçı
- C) Sahada Top Kayboldu

**2-** Ahmet maçta kaç gol atmıştır?

- A) 3
- B) 4
- C) 5

**3-** Ahmetler için bu maçı neden çok önemlidir ?

- A) Öğretmenleri maçı kazanmalarını söylediği için
- B) Çocukların ailesi maçı izlemeye geldiği için
- C) En son maçı Ahmetler kaybettiği için



4- Aşağıdakilerden hangisi dersi dinlemeye uygun bir davranıştır?

- A) Başka şeylerle ilgilenmek
- B) Sıra arkadaşımızla sessizce konuşmak
- C) Sıramızda dik oturmak.


1- babamın Babalar gününü kutladım.

2-Ahmetin kalemini ben almıştım.

3- Saliha'nın doğum gününü kutladık.

5- Yukarıdaki kaç numaralı cümle doğru yazılmıştır?

- A) 3
- B) 2
- C) 1



6- Yukarıdaki verilen meyvelerden hangisinin adı yazılırken satır sonuna sığmadığında bölünebilir ?

- A) ★
- B) ■
- C) ▲

7- Aşağıdaki cümlelerden hangisinin sonuna soru işareti konulmalıdır?

- A) Annemi ne zaman aradığımı bilmiyorum
- B) Arkadaşlarımdan gelip gelmeyeceklerini sordum
- C) Kuşun suyu bittiğini görmüyor musun



8- Yukarıdaki kelimelerden kaç tanesi yanlış yazılmıştır?

A) 2




B) 3

C) 4


9- Aşağıdakilerden hangisi programın şiddet ve korku içerdiğini ifade eder?



10- Yukarıdaki resmin eksik parçası aşağıdakilerden hangisidir?







1- Yukarıdaki şekiller belli bir düzene göre dizilmiştir. Buna göre soru işareti yerine hangi şekil gelmelidir ?


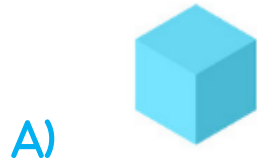


Emel arkadaşları için 6 dilim yarım pasta almıştır.

2- Bu pastaları Emel bütün alsaydı aşağıdakilerden hangi seçenekteki pastaları alması gerekirdi?



3- Yandaki peynir seçeneklerdeki hangi geometrik cisme benzemektedir?





Gülhan

Seyhan



4- Gülhan'in 25 kitabı vardır. Seyhan'ın kitap sayısı Gülhan'dan 12 eksik olduğuna göre Seyhan'ın kaç kitabı vardır ?

A)37

B)17

C)13

5- Resimdeki çantayı 17 TL'ye alan Serhat Ödemeyi tam yapmak için aşağıdaki paralardan hangisini vermelidir?



A)



B)



C)



6-  $16 + \square = 25$

Verilen toplama işleminde  $\square$  yerine hangi sayı gelmelidir?

A) 9

B) 10

C) 11



Yandaki resimdeki Kaan 7 yaşında , kardeşi Cansu ise 4 yaşındadır.

7- Kaan ve Cansu'nun 2 yıl sonraki yaşları toplamı kaç olacaktır?

A) 13

B) 14

C) 15


8- Yukarıda modelle gösterilen işlem aşağıdaki seçeneklerin hangisinde doğru verilmiştir?

A)  $10+7$

B)  $11+7$

C)  $11-7$

9- Aşağıdaki sayılardan hangisi onluk ve birliklerine yanlış ayrılmıştır ?

A) 1 onluk  
7 birlik

B) 2 onluk  
5 birlik

C) 7 onluk  
3 birlik

10- Bugün günlerden cuma ise 4 gün sonra hangi günü yaşarız?

A) Salı

B) Çarşamba

C) Perşembe




1- Arkadaşlarının Melih'e hangi davranışta bulunması yanlıştır?

- A) Melih'e tekerli sandalye sürerken yardım etmeleri
- B) Oyunlarına Melih'e almamaları
- C) Melih'le sohbet etmeleri



2- Aşağıdaki seçeneklerinden hangisinde sınıf kuralına uyulmamıştır?



O gün Türkiye Büyük Millet Meclisimiz açılmıştır.

3- Arda'nın yukarıda belirttiği milli bayramımız aşağıdakilerden hangisidir?

- A) Cumhuriyet Bayramı
- B) Ulusal Egemenlik ve Çocuk Bayramı
- C) Zafer Bayramı





1- Araba durmadan kapıyı açmak

2-Araba durduktan sonra inmek

3-Trafikte şoförle konuşmak

4- Yukarıdaki davranışlarda kaç tanesi doğrudur?

A)3

B)2

C)1

5-Bulaşıcı hastalıklardan korunmak için aşağıdakilerden hangisini yapmak doğru olmaz?

A) Okulda tuvalete girmemeliyiz.

B) Sık sık ellerimizi yıkamalıyız.

C) Hasta kişilerle aramızdaki mesafeye dikkat etmeliyiz.

Ali  Ağızımızda yemek varken konuşabiliriz.

Mert  Yemeklerimi ayakta yiyebilirim.

Salih  Yemekten önce ve sonra ellerimizi yıkamalıyız.

6- Yukarıdaki öğrencilerden kaç tanesi yanlış davranışta bulunmaktadır?

A) 1

B) 2

C) 3



1-Anneciğim karnım çok aç.

2-Çok açım.Yemeğim nerede benim.

3-Bir an önce şu sofrayı hazırlayın diyorum size.

7- Yukarıdaki ifadelerden hangisi doğru bir şekilde söylenmiştir ?

A)3

B)2


C)1

8- Aşağıdakilerden hangisi okul eşyası değildir?

A)



B)



C)



9- Aşağıdaki davranışlardan hangisi yanlıştır?

A) Gündüzler ışıkları açık bırakmak

B) Açık olan muslukları kapatmak.

C) İhtiyacımız kadar ekmek almalıyız.



10- Yukarıdakilerden hangisi sağlığımızı korumak için yapılan bir işlemdir?

A)



B)



C)



Sevgili ÖĞRETMEN ve VELİLERİMİZ;  
Deneme Sınavına Teşekkür Mahiyetinde  
Sosyal Medya Sayfamızı Beğenirseniz  
Çok Mutlu Oluruz.

Aşağıdaki Linklerden Bizlere Ulaşabilirsiniz.

[www.ilkokulevim.com](http://www.ilkokulevim.com)

[www.instagram.com/ilkokulevim](http://www.instagram.com/ilkokulevim)

[www.facebook.com/ilkokulevim](http://www.facebook.com/ilkokulevim)

[www.facebook.com/groups/272489210  
266407/](http://www.facebook.com/groups/272489210266407/)

[t.me/ilkokulevim](https://t.me/ilkokulevim)

### CEVAP ANAHTARI

TÜRKÇE	MATEMATİK	HAYAT BİLGİSİ
1-B	1-C	1-B
2-A	2-B	2-C
3-C	3-C	3-B
4-C	4-C	4-C
5-A	5-B	5-A
6-A	6-A	6-B
7-C	7-C	7-C
8-C	8-B	8-C
9-B	9-C	9-A
10-A	10-A	10-A