



## 23 NİSAN

Balkonları, camları  
Bayraklarla donattık.  
23 Nisan'ımızı  
Coşkuyla kutladık.

Bugün çocuk bayramı  
Ata'nın armağanı  
Dünya'nın tüm çocukları  
Bu günü kutlamalı.

Umay ATEŞ

1 ve 2. soruları yukarıdaki şiire göre cevaplayalım.

Bayram Atatürk  
tarafından  
armağan edilmiştir.

Bayram yalnızca  
Türk çocuklarına  
armağan edilmiştir.

Bayram tüm  
yurtta coşkuyla  
kutlanır.

Yukarıdaki kartlarda şiirde anlatılan bayramla ilgili yorumlara yer verilmiştir.

Hangi karttaki yorumda yanlış bilgi verilmiştir?

A.



B.



C.



Özge Öğretmen, öğrencilerinden şiirin konusu ile ilgili resim yapmalarını istemiş.

Hangi çocuğun resmi bu şiirle ilgili değildir?

A.



B.



C.





Erkan, Hakan ve Serkan'ın ellerinde harflerin yazılı olduğu balonlar vardır.

Hangi çocuğun balonlarındaki harflerle anlamlı bir kelime oluşturamayız?


A. Erkan

B. Hakan

C. Serkan

1'den 29'a kadar sayıların yazılı olduğu bir torbadan bir tane seçip alfabemizde çıkan sayıya karşılık gelen harfin olduğu kelime bulma oyunu oynayan çocuklardan hangisi karttaki sayıya karşılık gelen harfi kullanmamıştır?

28



A.



ayna

B.




bazlama

C.



kaymak



Bulut, tren vagonlarına kelimelerin yazılı olduğu kâğıtları yapıştırmış. Oyun oynarken vagonları en çok hece olandan en az hece olana doğru sıralamış.

Buna göre Bulut'un vagonları nasıl görünür?

A.



B.



C.



Nil'in annesi geometrik şekil oyuncaklarından üç tanesini seçip Nil'e verdi. Nil'den bu şekillerin isimlerini sırasıyla sözlükten bulmasını istedi. Nil önce geometrik şekilleri sözlük sırasına dizdi, sonra anlamlarını buldu.

Annesi ● ■ ▲ şekillerini seçtiğine göre Nil'in sıralaması nasıl olmuştur?

A.



B.



C.



KONU\_\_

Tahtada yazılan kelimenin son harfine göre eş anlamlı kelimeler yazılırsa hangi seçenekteki gibi olur?

- |    | <u>Son Harf</u> | <u>Eş Anlamlı</u> |
|----|-----------------|-------------------|
| A. | k               | → hediye          |
|    | t               | → misafir         |
| B. | t               | → ev              |
|    | k               | → misafir         |
| C. | k               | → armağan         |
|    | t               | → ev              |



Görseli anlatan iki eş anlamlı kelime hangi seçenekte doğru verilmiştir?

A. ıslak → kuru

B. kuru → yaş

C. ıslak → yaş



Feyza Öğretmen, tahtaya yukarıdaki kelimeyi yazmış ve öğrencilerinden bu kelime ile ilgili akıllarına gelen bir özellik söylemelerini istemiş. Hangi öğrencinin söylediği özellik doğrudur?

A. Zıt anlamlısı olan kelime dört harflidir.

B. Eş anlamlısı "yarış"tır.

C. Zıt anlamlısı "savaş"tır.

Aylin'in saçı kısa mı?

Evde televizyon izledik!

Herkes okula gitti.

Cümlelerdeki noktalama işaretleri doğruysa başına "D", yanlışsa "Y" yazdığımızda görüntü nasıl olur?

A.  D

D

D

B.  Y

Y

D

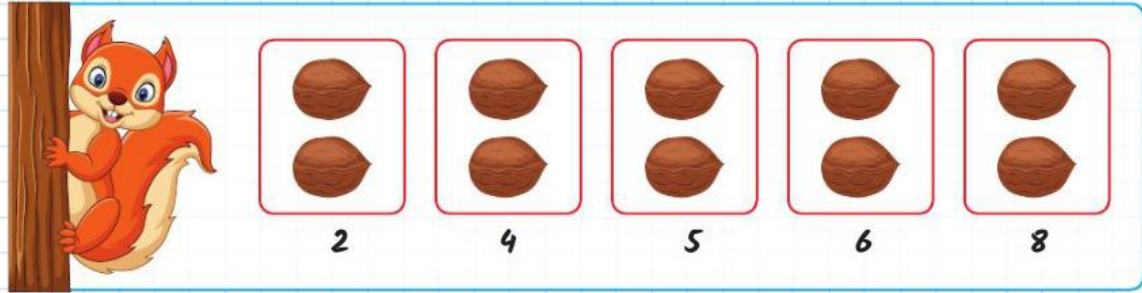
C.  D

Y

D




Arabalardan üzerinde 10'dan küçük sayı olanların tekerleri patlamıştır. Buna göre tekeri patlamayan arabalar hangi seçenekte doğru verilmiştir?



Sincap Sisi, cevizleri toplarken ikişer sayma yapıyor. Hatalı sayma yaptığı yerdeki cevizleri almasına izin verilmiyor.

Sincap Sisi hangi sayıyı söyleyerek hata yapmıştır?

- A. 4 B. 5 C. 6



Yukarıda ismi verilen canlıların ayak izleri verilmiştir.

Bazı canlılar iki ayaklı bazıları dört ayaklıdır.

Ayak izi en fazla olan canlı ile ayak izi en az olan canlının ayak izleri farkı kaçtır?

A. 10

B. 14

C. 16

Ördek ve insanın ayak izleri farkı kaçtır?

A. 8

B. 11


C. 12

İnsanın ayak izleri, kedilerin ayak izlerinden kaç fazladır?


A. 8

B. 6


C. 4



1.



2.



3.

Annem üç tencereye kestane koydu. Daha sonra 1. tencereye 3, 2. tencereye 2 kestane koydu ve kestaneler bitti.

Hangi tenceredeki kestane sayısında değişiklik olmamıştır?

A. 1.

B. 2.

C. 3.



Ateş, kırtasiyeden 20'li boya aldı. Evde resim yaptıktan sonra sayarak boyaları tekrar kutusuna koydu.

Ateş son boyayı koyduğunda 18. sayıyı saydığına göre kaç boyasını bulamamıştır?

A. 3

B. 2

C. 1





İstanbul - Eskişehir treninin 1. vagonunda 15 yolcu vardır. 2. vagondaki yolcular, 1. vagondakilerden 7 eksiktir.

Buna göre trenin 2. vagonunda kaç yolcu vardır?

A. 8

B. 9

C. 10



Alaz, kâğıt paralardan bazılarının resimlerini çıktısını almış onlarla oyun oynamıştır. Oyunu bitince paralardan hangisiyle daha çok ürün alabileceğini düşünmüştür.

Alaz sorusunun cevabı olan parayı kumbarasından bulmaya çalışmıştır. Alaz'ın kumbarasında aradığı para hangisidir?

A.




B.



C.



Emin balıkları çok seviyordu. Bir gün babası elinde bir akvaryumla gelip Emin'e sürpriz yaptı. Akvaryumda 4 turuncu balık vardı. Emin bu akvaryumu çok sevdi. Bunu gören babası, önce 5 ardından 7 balık daha aldı.



Son durumda Emin'in akvaryumunda kaç balık oldu?

A. 14

B. 15

C. 16



Ahmet ve Samet'in hangi özellikleri benzerdir?

A. Boyları

B. Kiloları

C. Saç renkleri

Hangisi şeref köşesinde bulunmaz?

A.



B.



C.



Sınıfımızı temiz tutmalıyız.

Kantinden alışveriş yaparken sıraya girmeliyiz.

Merdivenlerde koşmamalıyız.


Yukarıdaki kurallardan okul kuralı olanın başına "O", sınıf kuralı olanın başına "S" yazarsak görüntü nasıl olur?

A.

B.

C.

Çocuklardan hangisi sınıf kurallarına uygun davranmaktadır?

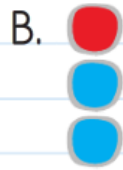



Evine karşıdan bakan Ahu, hangi cümlesinde yanlış ifade kullanmıştır?

- A. Evin solunda park var.  
B. Market okulun solunda bulunuyor.  
C. Park ve okulun arasında ev var.

- İsteklerimizin mutlaka yerine getirilmesi gerekir.  
 İhtiyaçlarımız isteklerimizden önce karşılanmalıdır.  
 Her gördüğümüzü istemek doğru değildir.

İfadelerden doğru olanların kutusunu mavi, yanlış olanların kutusunu kırmızı boyarsak görüntü nasıl olur?



1



2



3



Kaç numaralı besinleri fazla tüketmek şişmanlığa yol açar?

A. 1

B. 2

C. 3

Meyve ve sebzeleri mevsimine uygun tüketmeliyiz.

Sağlıklı olmak için sadece sebze yemeliyiz.

Et, balık yemek sağlığımıza iyi gelmez.

Bilgilerden doğru olanların başına "D", yanlış olanların başına "Y" yazarsak görüntü nasıl olur?

A.  D Y YB.  D D YC.  D Y D



1-A sınıfı, sınıfta uyulması gereken kuralları ortaklaşa kararlaştırıp bir afiş hazırlamıştır.

Bu afişte hangi madde yazıyor olamaz?

- A. Parmak kaldırarak konuşmalıyız.
- B. Yerlere çöp atmamalıyız.
- C. Koridorlarda koşmamalıyız.



Aygül Hanım, oğlu Kerem'e nezaket kurallarını anlatan bir kitap okumuştur. Kitapta aile içi iletişimin nasıl olması gerektiği örneklerle anlatılmıştır.

Buna göre hangi çocuk için nezaket kurallarına uygun davranmamıştır diyebiliriz?

A.



Abla, yastığımı ver.

B.



Ağabey, ödevime yardım eder misin?

C.



Lütfen beni dinleyin.